

***Уважаемый участник олимпиады!***

Вам предстоит выполнить теоретические (письменные) и тестовые задания. Время выполнения заданий – 45 минут.

*Выполнение теоретических (письменных) заданий целесообразно организовать следующим образом:*

- не спеша, внимательно прочитайте задание и определите наиболее верный и полный ответ;
- отвечая на вопрос, обдумайте и сформулируйте конкретный ответ только на поставленный вопрос;
- если вы отвечаете на задание, связанное с заполнением таблицы или схемы, вписывайте только те данные, которые указаны в вопросе;
- после выполнения всех заданий еще раз удостоверьтесь в правильности выбранных ответов и решений.

*Выполнение тестовых заданий целесообразно организовать следующим образом:*

- не спеша, внимательно прочитайте тестовое задание;
- определите, какой из предложенных вариантов ответа наиболее верный и полный;
- напишите букву, соответствующую выбранному вами ответу;
- продолжайте работу в такой же последовательности до завершения выполнения тестовых заданий;
- после выполнения всех предложенных заданий еще раз удостоверьтесь в правильности своих ответов;
- если потребуется корректировка выбранного варианта ответа, то неправильный вариант ответа зачеркните крестиком и рядом напишите новый.

*Предупреждаем, что:*

- при оценке тестовых заданий, где необходимо определить один правильный ответ, «0» баллов выставляется за неверный ответ и в случае, если участником отмечены несколько ответов (в том числе правильный), или все ответы;
- при оценке тестовых заданий, где необходимо определить все правильные ответы, «0» баллов выставляется, если участником отмечены неверные ответы, большее количество ответов, чем предусмотрено в задании (в том числе правильные ответы) или все ответы.

Задание школьного тура считается выполненным, если вы вовремя сдадите его членам жюри.

*Максимальная оценка – 100 баллов.*

***Желаем успехов!***

**ЗАДАНИЕ 1. Записано 5 утверждений. Запишите в таблице для каждого номера утверждения свой ответ: «да» – если считаете, что утверждение верно, «нет» – если неверное.**

1. Красный мигающий сигнал светофора запрещает движение.
2. Зеленый мигающий сигнал светофора запрещает движение.
3. Существуют светофоры для регулирования движения трамваев
4. При переходе дороги вне пешеходного перехода запрещается выходить на проезжую часть из-за стоящего транспорта.
5. В светофорах используются сигналы четырех цветов.

*Максимальный балл– 10*

**ЗАДАНИЕ 2. Составьте и запишите устойчивые словосочетания с приведенными словами, относящиеся к опасным природным явлениям.**

*Максимальный балл– 8*

**ЗАДАНИЕ 3. Вы находитесь на горнолыжной базе. Поступило сообщение о сходе снежной лавины в районе нахождения базы. Ваши действия (дополните ответы).**

*Максимальный балл– 10*

**ЗАДАНИЕ 4. Напишите, для защиты от какой опасности предназначена специальная защитная одежда, обозначенная маркировкой – пиктограммами, изображенными на рисунках.**

*Максимальный балл– 20*

**ЗАДАНИЕ 5. Выберите из списка правильные действия по оказанию первой помощи пострадавшему при тепловом ударе, запишите номера строк в виде последовательности чисел.**

1. Пострадавшего не трогать
2. Перенести пострадавшего в прохладное, проветриваемое место
3. Придать пострадавшему устойчивое боковое положение
4. Напоить теплым чаем
5. Положить на голову, шею и паховую область смоченные в холодной воде полотенца
6. Обеспечить постоянный контроль за дыханием
7. Напоить прохладной водой
8. Вызвать скорую медицинскую помощь
9. Предложить таблетку анальгина
10. Быть с пострадавшим пока не приедет скорая помощь
11. Растереть тело шерстяной тканью

*Максимальный балл– 12*

**ЗАДАНИЕ 6. Вы остались одни дома, произошло возгорание. Составьте алгоритм действий при пожаре с сильным задымлением в квартире многоэтажного дома. Ответ запишите в таблице в бланке для ответов.**

А) Организовать встречу пожарных подразделений, указать им очаг пожара и сообщить о наличии людей в горящей квартире.

Б) Сообщить о пожаре в пожарную охрану.

В) Сообщить о пожаре соседям по этажу, попросите их вывести в безопасное место детей и престарелых, а также предупредить о пожаре жильцов других этажей.

Г) Защитить рот и нос от дыма платком.

Д) Не дожидаясь прибытия пожарных, начать с помощью соседей тушить пожар подручными средствами (огнетушителем, плотной мокрой тканью, водой от внутренних пожарных кранов на лестничных площадках).

*Максимальный балл– 10*

**ЗАДАНИЕ 7. Определите, безопасными или небезопасными являются действия (поведение) в информационной системе, перечисленные в таблице, и проставьте знак «+» в соответствующем столбце напротив каждого действия.**

Максимальный балл– 13

**Выполните тестовые задания (правильные ответы впишите в таблицу)**

№ п/п	Тестовые задания
1	<b>Разрешается ли ребенку, не достигшему 12 лет, ездить в автомобиле на переднем сиденье?</b> а) разрешается, но только при помощи специального детского кресла и пристегнувшись ремнем безопасности б) разрешается без специального детского кресла, пристегнувшись ремнем безопасности в) разрешается ездить так, как удобно ребенку г) не разрешается
2	<b>Какой сигнал специального светофора предупреждает о приближающемся поезде и запрещает пересекать железнодорожный переезд?</b> а) красный, горящий постоянно б) два красных, мигающих попеременно в) мигающий белый г) мигающий желтый
3	<b>Вы собрались вместе с родителями на рынок для закупки продуктов питания и елочных украшений. Как вы поступите с денежными средствами?</b> а) все купюры положите в один наружный карман б) сложите их в один кошелек в) разложите купюры по разным местам, но не в наружные карманы г) все купюры положите в один внутренний карман
4	<b>Наводнение в Санкт-Петербурге начинается при подъеме уровня воды в реке Нева на:</b> а) 100 см б) 160 см в) 200 см г) 240 см
5	<b>При пожаре в помещении продукты горения (дым):</b> а) стелются по полу, заполняя помещение снизу б) поднимаются к потолку, заполняя помещение сверху в) скапливаются у очага пожара г) распространяются по всему объему помещения сразу
6	<b>Выберите природные явления, которые могут привести к наводнению:</b> а) паводок б) межень в) затор льда г) половодье
7	<b>Первая помощь при укусе гадюки:</b> а) сделать разрез в месте укуса б) дать обильное питье (вода) в) дать выпить алкоголь г) ограничить подвижность укушенной части тела
8	<b>Перечислите основные причины возникновения компьютерной зависимости у подростков:</b> а) недостаток общения с компьютером б) недостаток общения с родителями и сверстниками в) отсутствие взаимопонимания с близкими г) интерес к информационным технологиям

Максимальный балл– 17

## МЕТОДИКА И КРИТЕРИИ ОЦЕНИВАНИЯ

**ЗАДАНИЕ 1. Записано 5 утверждений. Запишите в таблице для каждого номера утверждения свой ответ: «да» – если считаете, что утверждение верно, «нет» – если неверное.**

1. Красный мигающий сигнал светофора запрещает движение.
2. Зеленый мигающий сигнал светофора запрещает движение.
3. Существуют светофоры для регулирования движения трамваев.
4. При переходе дороги вне пешеходного перехода запрещается выходить на проезжую часть из-за стоящего транспорта.
5. В светофорах используются сигналы четырех цветов.

**Ответ:**

№ утверждения	1	2	3	4	5
ответ	да	нет	да	нет	да

**Оценка задания.** Максимальная оценка за правильно выполненное задание – *10 баллов*, при этом:

- за каждый правильный ответ начисляется *2 балла*;
- при отсутствии правильных ответов баллы не начисляются.

**ЗАДАНИЕ 2. Составьте и запишите устойчивые словосочетания с приведенными словами, относящиеся к опасным природным явлениям.**

**Ответ:**

Извержение вулкана  
Эпицентр землетрясения  
Зажор льда на реке  
Нагонное наводнение  
Верховой пожар  
Грязекаменный поток

**Оценка задания.** Максимальная оценка за правильно выполненное задание – *8 баллов*, при этом:

- за каждый правильный ответ начисляется *1 балл*;
- при наличии всех правильных ответов дополнительно начисляется *2 балла*;
- при отсутствии правильных ответов баллы не начисляются.

**ЗАДАНИЕ 3. Вы находитесь на горнолыжной базе. Поступило сообщение о сходе снежной лавины в районе нахождения базы. Ваши действия (дополните ответы).**

**Вариант ответа:**










- а) срочно выйдете из здания;
- б) предупредите соседей;
- в) быстро будете следовать в лавинобезопасном направлении или укроетесь за выступом скалы;
- г) если от лавины уйти невозможно, то освободитесь от вещей, примите горизонтальное положение, поджав колени к животу и повернувшись по направлению движения лавины.

**Оценка задания.** Максимальная оценка за правильно выполненное задание – *10 баллов*, при этом:

- за каждый правильный по смыслу ответ начисляется *2 балла*;
- при отсутствии правильных ответов баллы не начисляются.

**ЗАДАНИЕ 4.** Напишите, для защиты от какой опасности предназначена специальная защитная одежда, обозначенная маркировкой – пиктограммами, изображенными на рисунках.

**Вариант ответа:**

<i>Пиктограмма</i>	<i>Предполагаемая защита</i>
	Защита от ионизирующей радиации
	Защита от возможного захвата движущимися частями механизмов
	Защита от высоких температур и пламени
	Защита от порезов бензопилой
	Защита от химических веществ
	Защита от воздействия статического электричества
	Защита от порезов и колотых ран
	Защита от загрязнения радиоактивными частицами
	Защита от биологических рисков

**Оценка задания.** Максимальная оценка за правильно выполненное задание – *20 баллов*, при этом:

- за каждый правильный по смыслу ответ начисляется *2 балла*;
- при наличии всех правильных ответов дополнительно начисляется *2 балла*;
- при отсутствии правильных ответов баллы не начисляются.

**ЗАДАНИЕ 5.** Выберите из списка правильные действия по оказанию первой помощи пострадавшему при тепловом ударе, запишите номера строк в виде последовательности чисел.

1. Пострадавшего не трогать
2. Перенести пострадавшего в прохладное, проветриваемое место
3. Придать пострадавшему устойчивое боковое положение
4. Напоить теплым чаем
5. Положить на голову, шею и паховую область смоченные в холодной воде полотенца
6. Обеспечить постоянный контроль за дыханием

7. Напоить прохладной водой
8. Вызвать скорую медицинскую помощь
9. Предложить таблетку анальгина
10. Быть с пострадавшим пока не приедет скорая помощь
11. Растереть тело шерстяной тканью

**Ответ:** 2, 3, 5, 6, 8, 10

**Оценка задания.** Максимальная оценка за правильно выполненное задание – *12 баллов*, при этом:

- за каждый правильный ответ начисляется *2 балла*;
- при отсутствии правильных ответов баллы не начисляются.

**ЗАДАНИЕ 6.** Вы остались одни дома, произошло возгорание. Составьте алгоритм действий при пожаре с сильным задымлением в квартире многоэтажного дома. Ответ запишите в таблице в бланке для ответов.

- А) Организовать встречу пожарных подразделений, указать им очаг пожара и сообщить о наличии людей в горящей квартире
- Б) Сообщить о пожаре в пожарную охрану
- В) Сообщить о пожаре соседям по этажу, попросите их вывести в безопасное место детей и престарелых, а также предупредить о пожаре жильцов других этажей
- Г) Защитить рот и нос от дыма платком
- Д) Не дожидаясь прибытия пожарных, начать с помощью соседей тушить пожар подручными средствами (огнетушителем, плотной мокрой тканью, водой от внутренних пожарных кранов на лестничных площадках)

**Ответ:**

Очередность	1	2	3	4	5
Действие	Г	Б	В	Д	А

**Оценка задания.** Максимальная оценка за правильно выполненное задание – *10 баллов*, при этом:

- за каждый правильный ответ начисляется *2 балла*;
- при отсутствии правильных ответов баллы не начисляются.

**ЗАДАНИЕ 7.** Определите, безопасными или небезопасными являются действия (поведение) в информационной системе, перечисленные в таблице, и проставьте знак «+» в соответствующем столбце напротив каждого действия.

<i>Действия</i>	<i>Безопасное поведение</i>	<i>Небезопасное поведение</i>
Сообщение модератору о присутствии шок-контента	+	
Переход по ссылкам, полученным в соцсетях от незнакомых людей		+
Сообщение своему виртуальному другу своего имени, фамилии и адреса		+
Блокирование аккаунтов, настойчиво навязывающих свое общение	+	
Создание сложных и неповторяющихся паролей	+	
Обсуждение в соцсети своих планов о семейной поездке на отдых с указанием дат отсутствия дома		+
Размещение в сети фото билетов с читаемым QR-кодом		+

*Всероссийская олимпиада школьников по основам безопасности и защиты Родины  
2025/2026 учебного года – ШКОЛЬНЫЙ ЭТАП – 7 класс*

Настройка спам-фильтров в электронной почте	+	
Использование антивирусного программного обеспечения	+	
Передача знакомым своих логинов и/или паролей		+

**Оценка задания.** Максимальная оценка за правильно выполненное задание – **13 баллов**, при этом:

- за каждый правильный ответ по каждой из позиций начисляется по **1 баллу**;
- при наличии всех правильных ответов дополнительно начисляется **3 балла**;
- при отсутствии правильных ответов баллы не начисляются.

**Ответы на тестовые задания**

1	2	3	4	5	6	7	8
а	б	в	б	б	а, б, г	б, г	б, в

№ п/п	Тестовые задания	Макс. балл
1	<p><b>Разрешается ли ребенку, не достигшему 12 лет, ездить в автомобиле на переднем сиденье?</b></p> <p><i>а) разрешается, но только при помощи специального детского кресла и пристегнувшись ремнем безопасности</i>                      б) разрешается без специального детского кресла, пристегнувшись ремнем безопасности                      в) разрешается ездить так, как удобно ребенку                      г) не разрешается</p>	1
2	<p><b>Какой сигнал специального светофора предупреждает о приближающемся поезде и запрещает пересекать железнодорожный переезд?</b></p> <p><i>а) красный, горящий постоянно</i>                      б) два красных, мигающих попеременно                      в) мигающий белый                      г) мигающий желтый</p>	1
3	<p><b>Вы собрались вместе с родителями на рынок для закупки продуктов питания и елочных украшений. Как вы поступите с денежными средствами?</b></p> <p><i>а) все купюры положите в один наружный карман</i>                      б) сложите их в один кошелек                      в) разложите купюры по разным местам, но не в наружные карманы                      г) все купюры положите в один внутренний карман</p>	1
4	<p><b>Наводнение в Санкт-Петербурге начинается при подъеме уровня воды в реке Нева на:</b></p> <p><i>а) 100 см</i>                      б) 160 см                      в) 200 см                      г) 240 см</p>	1
5	<p><b>При пожаре в помещении продукты горения (дым):</b></p> <p><i>а) стелются по полу, заполняя помещение снизу</i>                      б) поднимаются к потолку, заполняя помещение сверху                      в) скапливаются у очага пожара                      г) распространяются по всему объему помещения сразу</p>	1
6	<p><b>Выберите природные явления, которые могут привести к наводнению:</b></p> <p><i>а) паводок</i>                      б) межень                      в) затор льда                      г) половодье</p>	3

*Всероссийская олимпиада школьников по основам безопасности и защиты Родины  
2025/2026 учебного года – ШКОЛЬНЫЙ ЭТАП – 7 класс*

7	<b>Первая помощь при укусе гадюки:</b> а) сделать разрез в месте укуса б) дать обильное питье (вода) в) дать выпить алкоголь г) ограничить подвижность укушенной части тела	2
8	<b>Перечислите основные причины возникновения компьютерной зависимости у подростков:</b> а) недостаток общения с компьютером б) недостаток общения с родителями и сверстниками в) отсутствие взаимопонимания с близкими г) интерес к информационным технологиям	2

**Оценка задания.** Максимальная оценка за правильно выполненное задание – **17 баллов**.  
Количество баллов, начисляемых за верный ответ по каждому вопросу, указано в тексте задания. При наличии всех правильных ответов дополнительно начисляется **5 баллов**.