

--	--	--	--

--	--

**Проверочная работа
по ИСТОРИИ**

7 класс

Вариант 2

Инструкция по выполнению работы

На выполнение проверочной работы по истории отводится один урок (не более 45 минут). Работа включает в себя 9 заданий по истории России XVI–XVII вв., истории зарубежных стран (история Нового времени) и 1 задание, связанное с памятью о Великой Отечественной войне.

Ответы на задания запишите в поля ответов в тексте работы. В случае записи неверного ответа зачеркните его и запишите рядом новый.

При выполнении работы не разрешается пользоваться учебниками, рабочими тетрадями, справочным материалом.

При необходимости можно пользоваться черновиком. Записи в черновике проверяться и оцениваться не будут.

Советуем выполнять задания в том порядке, в котором они даны. В целях экономии времени пропускайте задание, которое не удаётся выполнить сразу, и переходите к следующему. Если после выполнения всей работы у Вас останется время, то Вы сможете вернуться к пропущенным заданиям.

Желаем успеха!

Таблица для внесения баллов участника

Номер задания	1	2	3	4	5	6	7	8	9	10	Сумма баллов за работу	Отметка за работу
Баллы	<input type="text"/>	<input type="text"/>	<input type="text"/>	<input type="text"/>	<input type="text"/>	<input type="text"/>	<input type="text"/>	<input type="text"/>	<input type="text"/>	<input type="text"/>	<input type="text"/>	<input type="text"/>

1

Установите соответствие между событиями (процессами) и их участниками: к каждой позиции первого столбца подберите соответствующую позицию из второго столбца.

СОБЫТИЯ (ПРОЦЕССЫ)

- А) Ливонская война
 Б) издание Нантского эдикта
 В) освобождение Москвы от польско-литовских интервентов

УЧАСТНИКИ

- 1) Генрих IV Бурбон
 2) Д.М. Пожарский
 3) А.М. Курбский
 4) Филипп II Габсбург
 5) Василий III

Запишите в таблицу выбранные цифры под соответствующими буквами.

Ответ:

А	Б	В

Прочтите отрывок из исторического источника и выполните задания 2 и 3.

«Иван Васильевич, великий князь Московии, прозванный за свою великую жестокость тираном, родился в столице этой страны... Отец его по имени Василий Иванович, благочестивый князь, как сообщают историки, вскоре после рождения тирана тяжело занемог и умер, оставив юного князя, которому тогда было три года и три месяца, и великую княгиню по имени Елена, весьма добродетельную женщину, которая, видя, что сын её не достиг совершеннолетия и не может управлять государством, правила сама вместе с несколькими самыми мудрыми и способными вельможами, кои, как она полагала, пекутся об общем благе. И так правила она не более четырёх лет в добром мире и покое и опочила в Бозе, когда помянутому сыну было только семь лет или около того».

2

Укажите век, когда произошли описанные в отрывке события.

Ответ: _____

Укажите любую одну внутривосточную меру (мероприятие), принятую в период правления упомянутой в отрывке великой княгини.

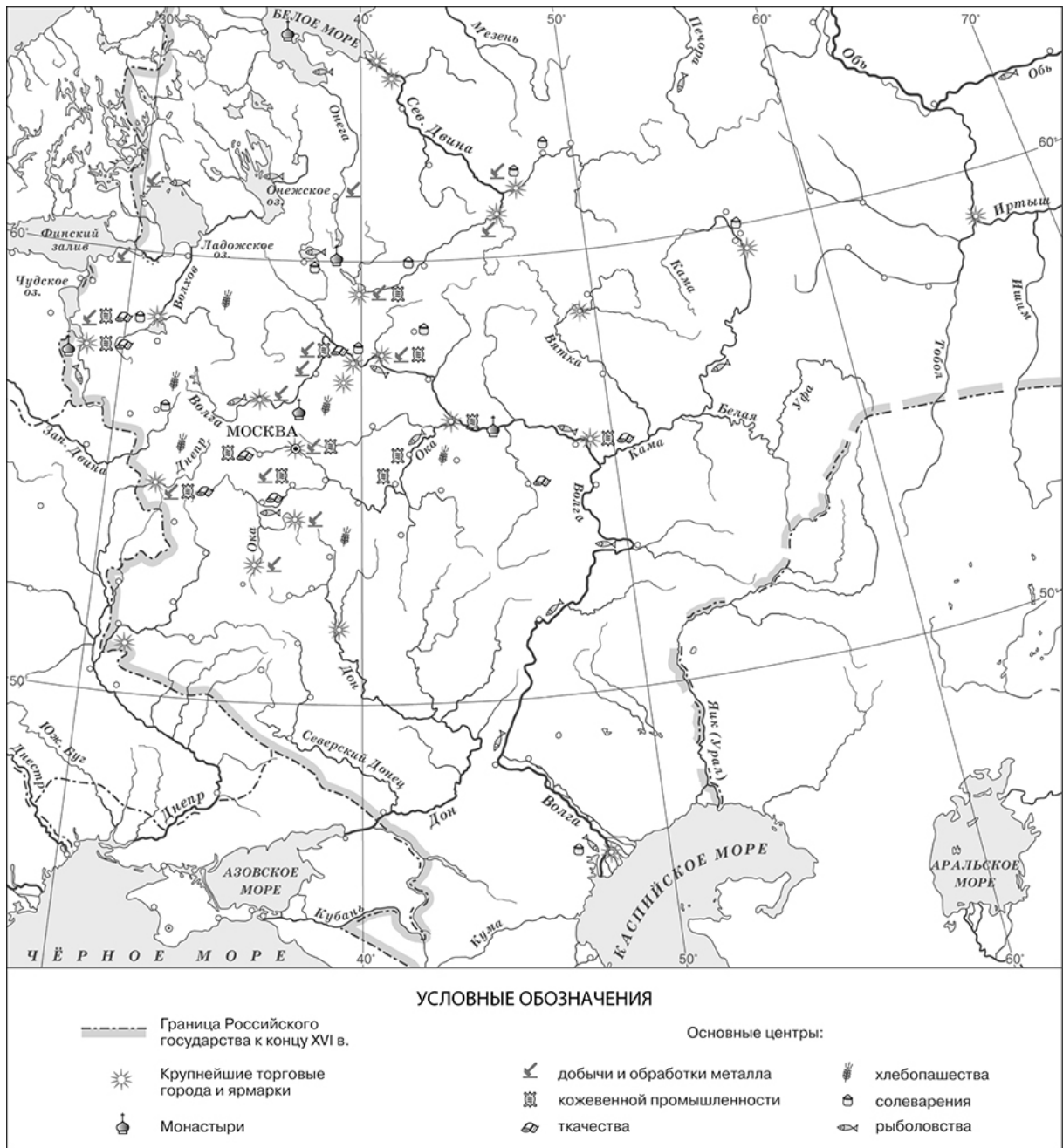
Ответ: _____

3

Сколько было лет юному князю, согласно данному фрагменту, когда умер его отец? Какими были вельможи, согласно данному фрагменту, с которыми совместно правила великая княгиня?

Ответ: _____

Рассмотрите карту и выполните задания 4 и 5.



4 Какой промысел, кроме рыболовства, согласно карте, был распространён в районе Астрахани?

Ответ: _____

5 Подпишите на карте города Новгород и Архангельск.



6

Какой из приведённых исторических фактов можно использовать для аргументации следующей точки зрения: «Внутриполитическое положение России к концу XVI в. было крайне неустойчивым»? Укажите порядковый номер этого факта в списке.

- 1) приход к власти Семибоярщины
- 2) смерть в Угличе царевича Дмитрия
- 3) заключение Тявзинского мирного договора

Ответ:

Объясните, как с помощью выбранного Вами факта можно аргументировать данную точку зрения.

Ответ: _____

7


Укажите время с точностью до половины века, когда произошло венчание Ивана IV на царство. Укажите одно любое событие (процесс) из истории зарубежных стран, относящееся к той же половине века. Не следует указывать событие (процесс) из истории международных отношений, одной из сторон которых была Россия.

Время с точностью до половины века: _____

Событие из истории зарубежных стран: _____

Ознакомьтесь с приведённым перечнем и изображениями памятников культуры и выполните задания 8 и 9.

- 1) «Житие протоппа Аввакума...»
- 2) собор Василия Блаженного
- 3)



4)



8

Какие из приведённых памятников культуры были созданы в XVI в.? Выберите **два** памятника культуры и запишите в таблицу цифры, под которыми они указаны.

--

Ответ:

--	--

9

Какой из данных памятников культуры создан в память о присоединении к России новых территорий? Укажите порядковый номер этого памятника культуры.

--

Ответ:

--

10

Рассмотрите изображение и ответьте на вопросы.



Укажите название отмечаемого в мае государственного праздника Российской Федерации, непосредственно связанного с войной, которой посвящён данный скульптурный памятник. Почему память об этой войне должна навсегда сохраниться в сердцах граждан нашей страны?



Ответ: _____

Система оценивания проверочной работы

Каждое из заданий 1, 4, 8 и 9 считается выполненным верно, если правильно указаны цифра, последовательность цифр или слово (сочетание слов).

Полный правильный ответ на задания 4 и 9 оценивается 1 баллом.

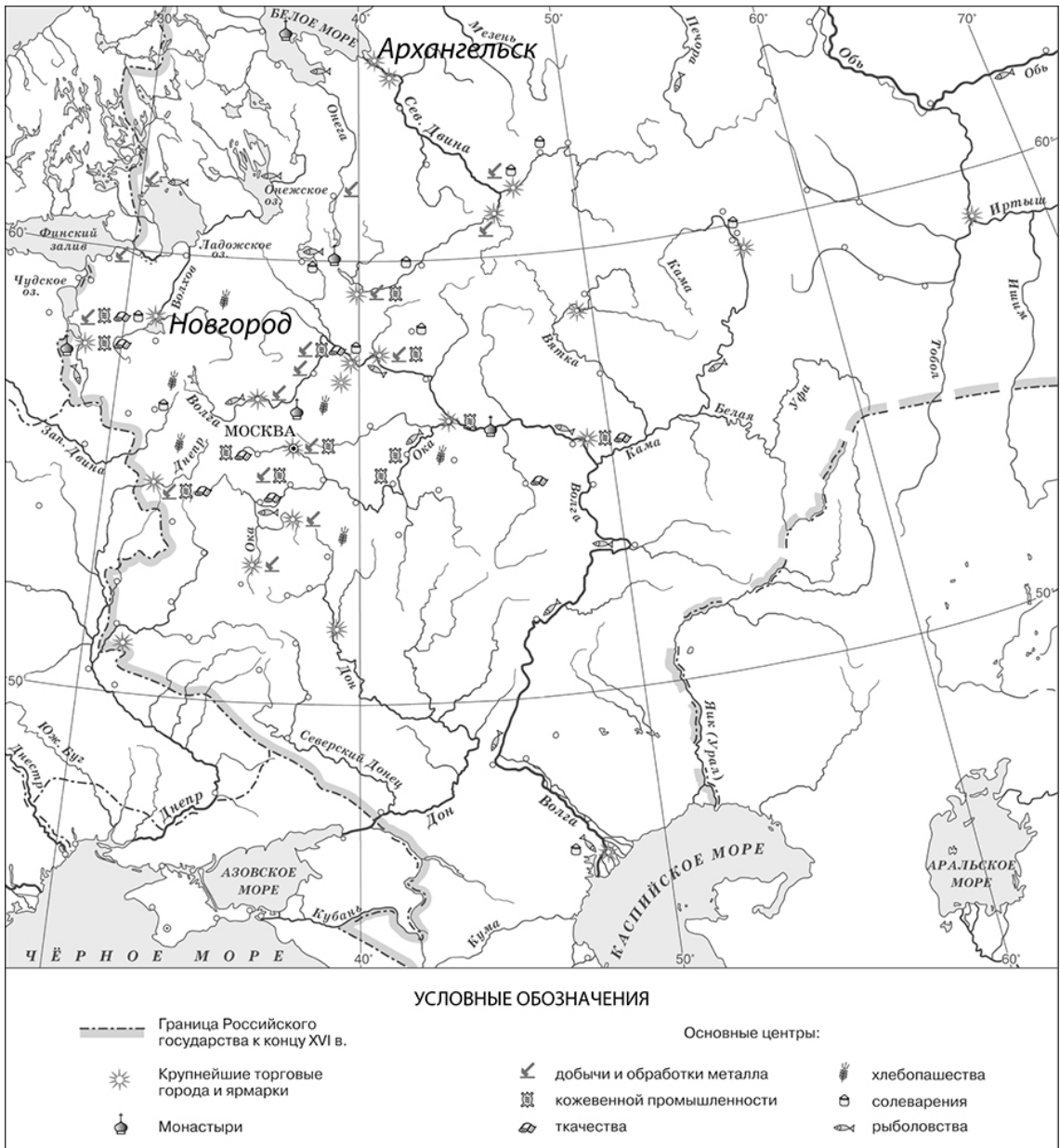
За верный ответ на задания 1 и 8 выставляется 2 балла. Если в ответе допущена одна ошибка (в том числе написана лишняя цифра или не написана необходимая цифра), выставляется 1 балл; если допущено две или более ошибки – 0 баллов.

Номер задания	Правильный ответ
1	312
4	солеварение
8	24;42
9	2

2	Содержание верного ответа и указания по оцениванию (допускаются иные формулировки ответа, не искажающие его смысла)	Баллы
	Правильный ответ должен содержать следующие <u>элементы</u> : 1) <u>век</u> : XVI в.; 2) <u>мера (мероприятие)</u> , например: проведение денежной реформы. (Может быть указана другая мера (мероприятие).)	
	Правильно указаны век и мера (мероприятие)	2
	Правильно указан любой один элемент ответа	1
	Ответ неправильный	0
	<i>Максимальный балл</i>	2

3	Содержание верного ответа и указания по оцениванию (допускаются иные формулировки ответа, не искажающие его смысла)	Баллы
	Правильный ответ должен содержать следующие <u>элементы</u> : 1) <u>ответ на первый вопрос</u> : три года и три месяца; 2) <u>ответ на второй вопрос</u> : «самыми мудрыми и способными»	
	Правильно даны ответы на два вопроса	2
	Правильно дан ответ на один вопрос	1
	Ответ неправильный	0
	<i>Максимальный балл</i>	2

5

Содержание верного ответа и указания по оцениванию	Баллы			
 <p style="text-align: center;">УСЛОВНЫЕ ОБОЗНАЧЕНИЯ</p> <table border="0" style="width: 100%;"> <tr> <td style="vertical-align: top;"> <p>----- Граница Российского государства к концу XVI в.</p> <p>☼ Крупнейшие торговые города и ярмарки</p> <p>⦿ Монастыри</p> </td> <td style="vertical-align: top;"> <p>⚒ добычи и обработки металла</p> <p>⚙ кожевенной промышленности</p> <p>🧶 ткачества</p> </td> <td style="vertical-align: top;"> <p>Основныe центры:</p> <p>🌾 хлебопашества</p> <p>🧂 солеварения</p> <p>🐟 рыболовства</p> </td> </tr> </table>	<p>----- Граница Российского государства к концу XVI в.</p> <p>☼ Крупнейшие торговые города и ярмарки</p> <p>⦿ Монастыри</p>	<p>⚒ добычи и обработки металла</p> <p>⚙ кожевенной промышленности</p> <p>🧶 ткачества</p>	<p>Основныe центры:</p> <p>🌾 хлебопашества</p> <p>🧂 солеварения</p> <p>🐟 рыболовства</p>	
<p>----- Граница Российского государства к концу XVI в.</p> <p>☼ Крупнейшие торговые города и ярмарки</p> <p>⦿ Монастыри</p>	<p>⚒ добычи и обработки металла</p> <p>⚙ кожевенной промышленности</p> <p>🧶 ткачества</p>	<p>Основныe центры:</p> <p>🌾 хлебопашества</p> <p>🧂 солеварения</p> <p>🐟 рыболовства</p>		
<p>В обозначении объектов на контурной карте допустимы небольшие отклонения, связанные с недостаточной аккуратностью участников ВПР</p>				
<p>Правильно подписаны города Новгород и Архангельск</p>	2			
<p>Правильно подписан только Новгород.</p>	1			
<p>ИЛИ Правильно подписан только Архангельск</p>				
<p>Оба объекта подписаны неправильно.</p>	0			
<p>ИЛИ Задание не выполнено</p>				
<p><i>Максимальный балл</i></p>	2			

6

Содержание верного ответа и указания по оцениванию (допускаются иные формулировки ответа, не искажающие его смысла)	Баллы
Правильный ответ должен содержать следующие <u>элементы</u> : 1) <u>порядковый номер факта</u> – 2; (При оценивании в качестве правильного принимается также указание факта, а не его номера.) 2) <u>объяснение</u> , например: царевич Дмитрий был последним прямым наследником царя Фёдора Иоанновича. Отсутствие законного наследника после смерти царевича создало неустойчивое политическое положение в стране. (Может быть приведено иное, близкое по смыслу объяснение.)	
Правильно указан порядковый номер факта и приведено объяснение	3
Правильно указан порядковый номер факта. Объяснение содержит неточность(-и), существенно не искажающую(-ие) содержание ответа. ИЛИ Правильно указан порядковый номер факта. Дано неполное объяснение, в котором пропущено(-ы) положение(-я), которое(-ые) важно(-ы) для объяснения	2
Правильно указан порядковый номер факта. Объяснение сформулировано на уровне обыденных представлений, без привлечения исторических фактов. ИЛИ Правильно указан только порядковый номер факта. Вместо объяснения приведены рассуждения общего характера, не соответствующие требованию задания. ИЛИ Правильно указан только порядковый номер факта	1
Порядковый номер факта указан неправильно / не указан независимо от наличия объяснения. ИЛИ Задание не выполнено	0
<i>Максимальный балл</i>	3

7

Содержание верного ответа и указания по оцениванию (допускаются иные формулировки ответа, не искажающие его смысла)	Баллы
Правильный ответ должен содержать следующие <u>элементы</u> : 1) <u>время с точностью до половины века</u> : первая половина XVI в.; 2) <u>событие (процесс) из истории зарубежных стран, произошедшее в первой половине XVI в.</u> , например: Э. Кортес завоевал государство ацтеков. (Может быть указано другое событие (процесс).) (В случае указания события из истории международных отношений, одной из сторон которого была Россия, ответ не принимается.)	
Правильно указаны время с точностью до половины века, событие (процесс) истории зарубежных стран	2
Правильно указано только время с точностью до половины века. ИЛИ Правильно указано только событие (процесс) истории зарубежных стран, произошедшее в той же половине века, в которой произошло указанное в задании событие истории России	1
Ответ неправильный	0
<i>Максимальный балл</i>	2

10

Содержание верного ответа и указания по оцениванию (допускаются иные формулировки ответа, не искажающие его смысла)	Баллы
<p>Правильный ответ должен содержать следующие <u>элементы</u>:</p> <p>1) <u>название праздника</u> – День Победы;</p> <p>2) <u>ответ на вопрос</u>, например: Великая Отечественная война явилась величайшим событием, в ходе которого наши предки сумели выстоять и победить в борьбе с врагом, угрожавшим существованию нашей Родины. Победа добыта огромной ценой, и мы никогда не должны забывать о событиях этой войны. (Ответ на второй вопрос может быть дан в иных, близких по смыслу формулировках.)</p>	
Правильно указано название праздника и дан ответ на вопрос	3
Правильно указано название праздника, ответ на вопрос содержит неточность(-и), существенно не искажающую(-ие) смысла ответа. ИЛИ Правильно указано название праздника, ответ на вопрос содержит не основные, а только второстепенные (несущественные) связи, не в полной мере раскрывающие суть ответа на задание	2
Правильно указано только название праздника, ответ на вопрос дан неправильно / не дан. ИЛИ Название праздника указано неправильно, правильно дан ответ на вопрос	1
Название праздника указано неправильно / не указано, ответ на вопрос дан неправильно / не дан. ИЛИ Приведены рассуждения общего характера, не соответствующие требованию задания	0
<i>Максимальный балл</i>	3

Система оценивания выполнения всей работы

Максимальный первичный балл за выполнение работы – 20.

Рекомендации по переводу первичных баллов в отметки по пятибалльной шкале

Отметка по пятибалльной шкале	«2»	«3»	«4»	«5»
Первичные баллы	0–5	6–10	11–15	16–20