

--	--	--	--

--

**Проверочная работа  
по ИСТОРИИ**

**6 класс**

**Вариант 2**

**Инструкция по выполнению работы**

На выполнение проверочной работы по истории отводится один урок (не более 45 минут). Работа включает в себя 8 заданий по истории России с древнейших времён до начала XVI в., истории зарубежных стран (история Средних веков) и 1 задание, связанное с памятью о Великой Отечественной войне.

Ответы на задания запишите в поля ответов в тексте работы. В случае записи неверного ответа зачеркните его и запишите рядом новый.

При выполнении работы не разрешается пользоваться учебниками, рабочими тетрадями, справочным материалом.

При необходимости можно пользоваться черновиком. Записи в черновике проверяться и оцениваться не будут.

Советуем выполнять задания в том порядке, в котором они даны. В целях экономии времени пропускайте задание, которое не удаётся выполнить сразу, и переходите к следующему. Если после выполнения всей работы у Вас останется время, то Вы сможете вернуться к пропущенным заданиям.

***Желаем успеха!***

*Таблица для внесения баллов участника*

Номер задания	1	2	3	4	5	6	7	8	9	Сумма баллов за работу	Отметка за работу
Баллы	<input type="text"/>	<input type="text"/>	<input type="text"/>	<input type="text"/>	<input type="text"/>	<input type="text"/>	<input type="text"/>	<input type="text"/>	<input type="text"/>	<input type="text"/>	<input type="text"/>

**Прочтите перечень из четырёх событий (процессов) и выполните задания, относящиеся к этому перечню.**

**Перечень событий (процессов)**

- |  |  |
|--|--|
| <p><b>А)</b> Гуситские войны</p> <p><b>В)</b> распространение христианской веры в государстве Русь в XI в.</p> | <p><b>Б)</b> формирование государства Русь</p> <p><b>Г)</b> нашествие монголов на Русь в 1237–1240 гг.</p> |
|--|--|

1

Каждая из иллюстраций, приведённых ниже, относится к одному из указанных в перечне событий (процессов). Установите соответствие между событиями (процессами) и иллюстрациями: к каждому событию (процессу) подберите относящуюся к нему иллюстрацию.

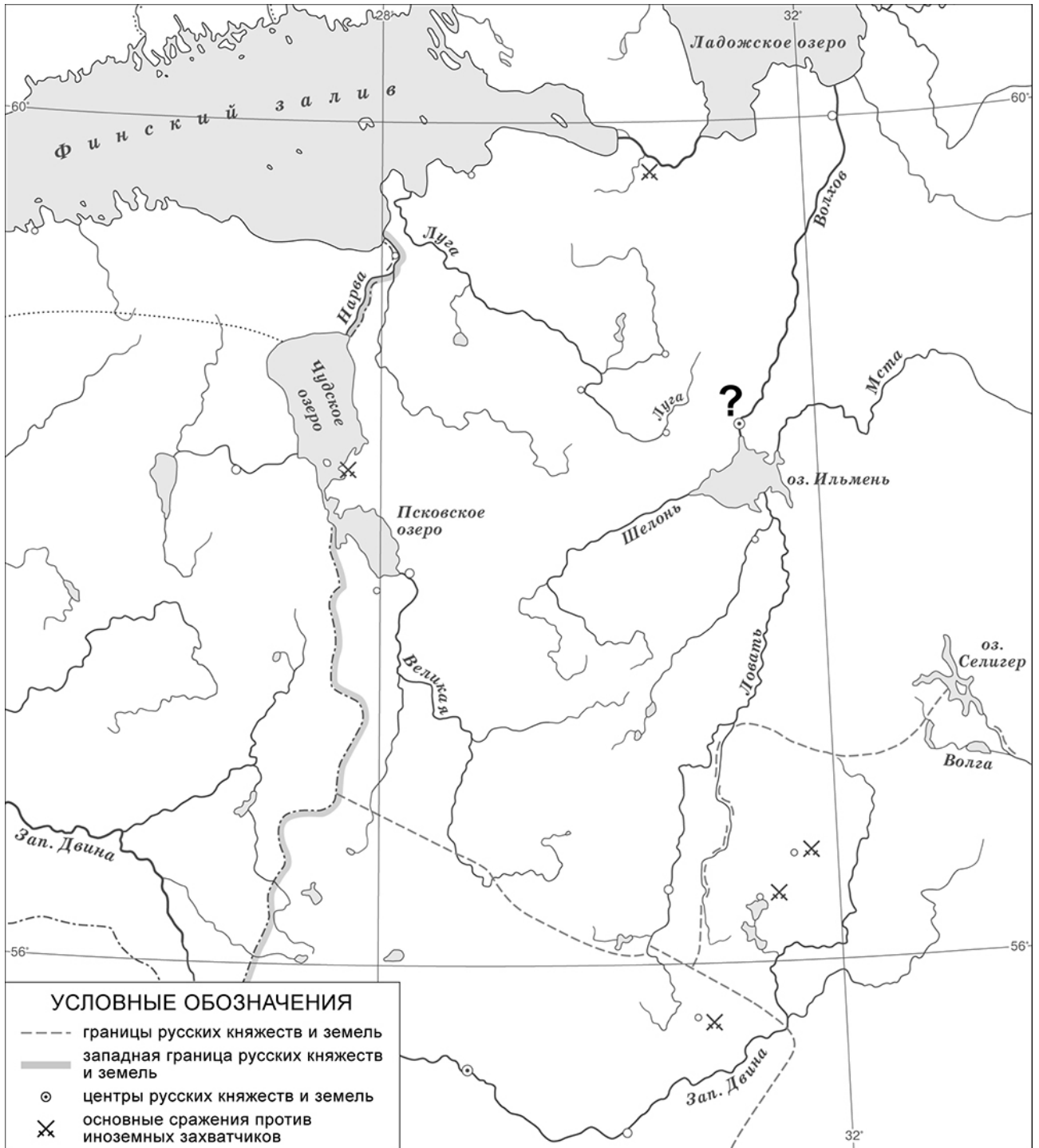


Запишите в таблицу выбранные цифры под соответствующими буквами.

Ответ:

А	Б	В	Г

**Рассмотрите карту и выполните задания 2 и 3.**



2

Укажите название города, обозначенного на карте знаком вопроса (?).

--

Ответ: \_\_\_\_\_

3

Подпишите на карте Ледовое побоище и Невскую битву.

--

**Прочтите отрывок из исторического источника и выполните задания 4 и 5.****Перечень событий (процессов)**

- |   |   |
|---|---|
| <b>А)</b> Гуситские войны<br><b>В)</b> распространение христианской веры в государстве Русь в XI в. | <b>Б)</b> формирование государства Русь<br><b>Г)</b> нашествие монголов на Русь в 1237–1240 гг. |
|---|---|

«Заложил князь город великий, у того же града Золотые ворота; заложил и церковь Святой Софии, митрополию, и затем церковь на Золотых воротах – Святой Богородицы Благовещения, затем монастырь Святого Георгия и Святой Ирины. И стала при нём вера христианская плодиться и расширяться, и черноризцы стали умножаться, и монастыри появляться. И любил князь церковные уставы, попов любил немало, особенно же черноризцев, и книги любил, читая их часто и ночью и днём. И собрал писцов многих, и переводили они с греческого на славянский язык. И написали они книг множество, ими же поучаются верующие люди и наслаждаются учением божественным. Как если один землю вспашет, другой же засеет, а иные жнут и едят пищу неоскудевающую, – так и этот. Отец ведь его Владимир землю вспахал и размягчил, то есть крещением просветил. Этот же засеял книжными словами сердца верующих людей, а мы пожинаем, учение принимая книжное».

4

Определите, к какому из данных событий (процессов) относится этот отрывок. В ответе напишите букву, которой обозначено это событие (процесс).

Ответ:

5

С какого языка, согласно данному отрывку, переводили на славянский собранные князем писцы? Как, согласно данному отрывку, называлась церковь на Золотых воротах?

Ответ: \_\_\_\_\_

\_\_\_\_\_

\_\_\_\_\_

\_\_\_\_\_

\_\_\_\_\_

**Перечень событий (процессов)**

- А) Гуситские войны
- Б) формирование государства Русь
- В) распространение христианской веры в государстве Русь в XI в.
- Г) нашествие монголов на Русь в 1237–1240 гг.

6

С каким из данных событий (процессов) связано слово «табориты»? Запишите букву, которой обозначено данное событие (процесс).

Ответ:

Объясните смысл слова «табориты».

Ответ: \_\_\_\_\_

\_\_\_\_\_

\_\_\_\_\_

\_\_\_\_\_

\_\_\_\_\_

**Выберите одно событие (процесс) из перечня и выполните задание 7.**

Выбранное событие (процесс):

(укажите букву в перечне).

7

Используя знание исторических фактов, объясните, почему выбранное Вами событие (процесс) имело большое значение (важные последствия) в истории нашей страны и/или истории зарубежных стран.

Ответ: \_\_\_\_\_

\_\_\_\_\_

\_\_\_\_\_

\_\_\_\_\_

\_\_\_\_\_




\_\_\_\_\_

\_\_\_\_\_

\_\_\_\_\_

\_\_\_\_\_

**Рассмотрите изображения.**



8

На каких двух изображениях представлены памятники культуры России, а на каких – памятники культуры зарубежных стран? Запишите в таблицу порядковые номера соответствующих изображений.

Ответ:

	Памятники культуры России	Памятники культуры зарубежных стран

9

Рассмотрите изображение и выполните задание.



В какой по счёту год с начала Великой Отечественной войны произошло событие, которому посвящён данный памятный мемориал? Объясните, почему граждане нашей страны хранят память о войне, событиям которой посвящен этот мемориал.



Ответ: \_\_\_\_\_

\_\_\_\_\_

\_\_\_\_\_

\_\_\_\_\_

\_\_\_\_\_

\_\_\_\_\_

\_\_\_\_\_

\_\_\_\_\_

\_\_\_\_\_

\_\_\_\_\_

**Система оценивания проверочной работы**

Каждое из заданий 1, 2, 4 и 8 считается выполненным верно, если правильно указаны слово, буква или последовательность цифр.

Полный и правильный ответ на задания 2, 4 и 8 оценивается 1 баллом.

Правильный ответ на задание 1 оценивается 2 баллами. Если в ответе допущена одна ошибка (в том числе написана лишняя цифра или не написана необходимая цифра), выставляется 1 балл; если допущено две или более ошибки – 0 баллов.

<b>Номер задания</b>	<b>Правильный ответ</b>
1	4132
2	Новгород; Великий Новгород
4	В
8	1423

3

Содержание верного ответа и указания по оцениванию	Баллы
<p><b>УСЛОВНЫЕ ОБОЗНАЧЕНИЯ</b></p> <ul style="list-style-type: none"> <li>--- границы русских княжеств и земель</li> <li>— западная граница русских княжеств и земель</li> <li>○ центры русских княжеств и земель</li> <li>× основные сражения против иноземных захватчиков</li> </ul>	
<p>В обозначении объектов на контурной карте допустимы небольшие отклонения, связанные с недостаточной аккуратностью участников ВПР</p>	
<p>Правильно подписаны Ледовое побоище и Невская битва</p>	<p>2</p>
<p>Правильно подписано только Ледовое побоище. ИЛИ Правильно подписана только Невская битва</p>	<p>1</p>
<p>Оба объекта подписаны неправильно. ИЛИ Задание не выполнено</p>	<p>0</p>
<p style="text-align: right;"><i>Максимальный балл</i></p>	<p>2</p>

5	<b>Содержание верного ответа и указания по оцениванию</b> (допускаются иные формулировки ответа, не искажающие его смысла)	<b>Баллы</b>
	Правильный ответ должен содержать следующие <u>элементы</u> : 1) <u>ответ на первый вопрос</u> : с греческого; 2) <u>ответ на второй вопрос</u> : церковь Святой Богородицы Благовещения	
	Правильно даны ответы на два вопроса	2
	Правильно дан ответ на один вопрос	1
	Ответ неправильный	0
	<i>Максимальный балл</i>	2

6	<b>Содержание верного ответа и указания по оцениванию</b> (допускаются иные формулировки ответа, не искажающие его смысла)	<b>Баллы</b>
	Правильный ответ должен содержать следующие <u>элементы</u> : 1) <u>буква, которой обозначено данное событие (процесс)</u> , – А; 2) <u>объяснение смысла слова «табориты»</u> , например: одно из направлений среди последователей учения Яна Гуса, сторонники наиболее решительных действий и глубоких изменений в католической церкви и чешском обществе. (Объяснение смысла слова может быть дано в иных, близких по смыслу формулировках.)	
	Правильно указана буква и объяснён смысл слова «табориты»	3
	Правильно указана буква, объяснение содержит неточность(-и), существенно не искажающую(-ие) смысла слова «табориты». ИЛИ Правильно указана буква, объяснение содержит не основные, а только второстепенные (несущественные) признаки, не в полной мере раскрывающие смысл слова «табориты»	2
	Правильно указана только буква	1
	Буква указана неправильно / не указана независимо от наличия/отсутствия объяснения смысла слова. ИЛИ Приведены рассуждения общего характера, не соответствующие требованию задания. ИЛИ Ответ неправильный	0
	<i>Максимальный балл</i>	3

7	<b>Указания по оцениванию</b>	<b>Баллы</b>
	Дано объяснение значимости выбранного события (процесса) с опорой на исторические факты	2
	Объяснение значимости выбранного события (процесса) содержит неточность(-и), существенно не искажающую(-ие) ответа. ИЛИ Дано неполное объяснение значимости выбранного события (процесса), отражающее только его второстепенные последствия для истории нашей страны и/или истории зарубежных стран	1
	Объяснение значимости выбранного события (процесса) сформулировано в общей форме или на уровне обыденных представлений, без привлечения исторических фактов. ИЛИ Объяснение значимости выбранного события (процесса) не дано. ИЛИ Ответ неправильный	0
	<i>Максимальный балл</i>	2

9

<b>Содержание верного ответа и указания по оцениванию</b> (допускаются иные формулировки ответа, не искажающие его смысла)	<b>Баллы</b>
Правильный ответ должен содержать следующие <u>элементы</u> : 1) <u>год с начала войны</u> – первый; 2) <u>объяснение</u> , например: Великая Отечественная война явилась величайшим событием, в ходе которого наши предки сумели выстоять и победить в борьбе с врагом, угрожавшим существованию нашей Родины. Победа добыта огромной ценой, и мы никогда не должны забывать о событиях этой войны. (Объяснение может быть дано в иных, близких по смыслу формулировках.)	
Правильно указан год с начала войны и дано объяснение	3
Правильно указан год с начала войны, объяснение содержит неточность(-и), существенно не искажающую(-ие) смысла ответа. ИЛИ Правильно указан год с начала войны, объяснение содержит не основные, а только второстепенные (несущественные) связи, не в полной мере раскрывающие суть ответа на задание	2
Правильно указан только год. ИЛИ Год указан неправильно / не указан; дано верное объяснение	1
Год указан неправильно / не указан; дано неверное объяснение / объяснение не дано. ИЛИ Приведены рассуждения общего характера, не соответствующие требованию задания	0
<i>Максимальный балл</i>	<i>3</i>

### Система оценивания выполнения всей работы

Максимальный первичный балл за выполнение работы – 17.

*Рекомендации по переводу первичных баллов в отметки по пятибалльной шкале*

<b>Отметка по пятибалльной шкале</b>	<b>«2»</b>	<b>«3»</b>	<b>«4»</b>	<b>«5»</b>
Первичные баллы	0–4	5–8	9–13	14–17