

--	--	--	--

--	--

**Проверочная работа
по ХИМИИ**

8 класс

Вариант 1

Инструкция по выполнению заданий части 1 проверочной работы

На выполнение заданий части 1 проверочной работы по химии отводится один урок (не более 45 минут). Часть 1 включает в себя 5 заданий.

При выполнении работы разрешается использовать следующие дополнительные материалы:

- Периодическая система химических элементов Д.И. Менделеева;
- таблица растворимости кислот, солей и оснований в воде;
- ряд активности металлов / электрохимический ряд напряжений металлов;
- непрограммируемый калькулятор.

Ответы на задания запишите в поля ответов в тексте работы. В случае записи неверного ответа зачеркните его и запишите рядом новый.

При необходимости можно пользоваться черновиком. Записи в черновике проверяться и оцениваться не будут.

Советуем выполнять задания в том порядке, в котором они даны. В целях экономии времени пропускайте задание, которое не удаётся выполнить сразу, и переходите к следующему. Если после выполнения работы у Вас останется время, то Вы сможете вернуться к пропущенным заданиям.

Желаем успеха!

Таблица для внесения баллов участника

Номер задания	1.1	1.2	2.1	2.2	3.1	3.2	4.1	4.2	4.3	4.4	5.1	5.2	Сумма баллов за часть 1
Баллы	<input type="text"/>	<input type="text"/>	<input type="text"/>	<input type="text"/>	<input type="text"/>	<input type="text"/>	<input type="text"/>	<input type="text"/>	<input type="text"/>	<input type="text"/>	<input type="text"/>	<input type="text"/>	<input type="text"/>

1

1.1. Внимательно рассмотрите предложенные рисунки. Укажите номер рисунка, на котором изображён объект, содержащий только одно (индивидуальное) химическое вещество.

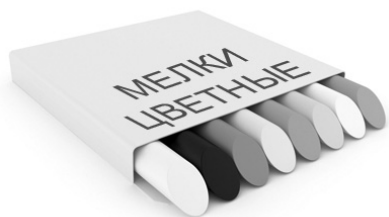


Рис. 1



Рис. 2



Рис. 3

Индивидуальное химическое вещество содержится в объекте, изображённом на рисунке:

1.2. Какие вещества содержатся в объектах, изображённых на остальных рисунках? Приведите по ОДНОМУ примеру.

Для каждого вещества укажите его химическое название и формулу.

Рис. 1: _____ (название) _____ (формула).

Рис. 2: _____ (название) _____ (формула).

Рис. 3: _____ (название) _____ (формула).

2

Преобразование одних веществ в другие называется химической реакцией.

2.1. Укажите, в ходе какого из приведённых ниже процессов протекает химическая реакция.

- 1) взрыв воздушного шарика при протыкании его иголкой
- 2) образование накипи в чайнике при кипячении водопроводной воды
- 3) образование зимой инея на деревьях

Напишите номер выбранного процесса:

Обоснуйте свой выбор: _____

2.2. Укажите один ЛЮБОЙ признак протекания этой химической реакции: _____

3

В таблице приведены названия и химические формулы некоторых газообразных веществ.

№ п/п	Название вещества	Формула	Молярная масса, г/моль
1	Озон	O ₃	
2	Угарный газ	CO	
3	Сернистый газ	SO ₂	

3.1. Используя предложенные Вам справочные материалы, вычислите молярные массы каждого из газов и запишите полученные данные в таблицу.

3.2. Каким из приведённых в таблице газов следует наполнить шарик с практически невесомой оболочкой, чтобы он имел плотность, близкую к плотности воздуха, и мог парить в нём, не взлетая резко вверх и не опускаясь резко вниз? (Средняя молярная масса воздуха равна 29 г/моль.) Укажите номер вещества.

Ответ:

Обоснуйте свой выбор: _____

4

Даны два химических элемента: **A** и **B**. Известно, что в атоме элемента **A** содержится 13 протонов, а в атоме элемента **B** – на два протона больше.

4.1. Используя Периодическую систему химических элементов Д.И. Менделеева, определите химические элементы **A** и **B**.

4.2. Укажите номер периода и номер группы в Периодической системе химических элементов Д.И. Менделеева, в которых расположен каждый элемент.

4.3. Установите, металлом или неметаллом являются простые вещества, образованные этими химическими элементами.

4.4. Составьте формулы высших оксидов, которые образуют элементы **A** и **B**.

Ответы запишите в таблицу.

Элемент	Название химического элемента	Номер		Металл или неметалл	Формула высшего оксида
		периода	группы		
A					
B					

--	--	--	--

5

Восьмиклассница Маша съела за чаем 50 г яблочного повидла.

5.1. Используя данные приведённой ниже таблицы, определите, какую массу углеводов получил при этом организм девушки. Ответ подтвердите расчётом.

Содержание некоторых компонентов в яблочном повидле

Компонент	Вода	Белки	Жиры	Углеводы
Массовая доля, %	32,9	0,4	нет	65,3

Решение: _____

Ответ: _____

5.2. Какую долю суточной физиологической нормы углеводов (360 г) получила Маша, съев 50 г яблочного повидла? Ответ подтвердите расчётом.

Решение: _____

Ответ: _____

--	--	--	--

--	--

**Проверочная работа
по ХИМИИ**

8 класс

Вариант 1

Инструкция по выполнению заданий части 2 проверочной работы

На выполнение заданий части 2 проверочной работы по химии отводится один урок (не более 45 минут). Часть 2 включает в себя 4 задания.

При выполнении работы разрешается использовать следующие дополнительные материалы:

- Периодическая система химических элементов Д.И. Менделеева;
- таблица растворимости кислот, солей и оснований в воде;
- ряд активности металлов / электрохимический ряд напряжений металлов;
- непрограммируемый калькулятор.

Ответы на задания запишите в поля ответов в тексте работы. В случае записи неверного ответа зачеркните его и запишите рядом новый.

При необходимости можно пользоваться черновиком. Записи в черновике проверяться и оцениваться не будут.

Советуем выполнять задания в том порядке, в котором они даны. В целях экономии времени пропускайте задание, которое не удаётся выполнить сразу, и переходите к следующему. Если после выполнения работы у Вас останется время, то Вы сможете вернуться к пропущенным заданиям.

Желаем успеха!

Таблица для внесения баллов участника

Номер задания	6.1	6.2	6.3	6.4	6.5	7.1	7.2	7.3(1)	7.3(2)	8	9
Баллы	<input type="text"/>	<input type="text"/>	<input type="text"/>	<input type="text"/>	<input type="text"/>	<input type="text"/>	<input type="text"/>	<input type="text"/>	<input type="text"/>	<input type="text"/>	<input type="text"/>
Сумма баллов за часть 1	<input type="text"/>		<input type="text"/>		<input type="text"/>		<input type="text"/>		<input type="text"/>		<input type="text"/>
Сумма баллов за часть 2	<input type="text"/>		<input type="text"/>		<input type="text"/>		<input type="text"/>		<input type="text"/>		<input type="text"/>
Общая сумма баллов за работу	<input type="text"/>		<input type="text"/>		<input type="text"/>		<input type="text"/>		<input type="text"/>		<input type="text"/>
Отметка за работу	<input type="text"/>		<input type="text"/>		<input type="text"/>		<input type="text"/>		<input type="text"/>		<input type="text"/>

6

Имеется следующий перечень химических веществ: алюминий, хлороводород, хлорид алюминия, водород, гидроксид алюминия, оксид алюминия, вода. Используя этот перечень, выполните задания 6.1–6.5.

6.1. Напишите химические формулы каждого из указанных веществ.

Алюминий – _____. Вода – _____. Водород – _____.

Хлороводород – _____. Хлорид алюминия – _____.

Гидроксид алюминия – _____. Оксид алюминия – _____.

6.2. Какое из веществ, упоминаемых в перечне, соответствует следующему описанию: «Бесцветный газ, не имеющий запаха и вкуса; в смеси с воздухом или кислородом горюч и взрывоопасен»?

Ответ: _____

6.3. Из данного перечня выберите ЛЮБОЕ СЛОЖНОЕ вещество, содержащее алюминий. Запишите его химическую формулу и укажите, к какому классу неорганических соединений оно относится. Если Вы выбрали оксид или гидроксид, укажите, какие свойства – кислотные, основные или амфотерные – это вещество проявляет.

Вещество – _____. Класс соединений – _____.

6.4. В приведённом перечне веществ найдите соединение, состоящее из атомов ТРЁХ элементов. Вычислите массовую долю кислорода в этом соединении.

Вещество – _____.

Решение: _____

Ответ: _____

6.5. Вычислите, сколько молекул содержится в 0,25 моль газообразного водорода.

Решение: _____

Ответ: _____

--	--	--	--

7

Ниже даны описания двух химических превращений с участием веществ, перечень которых был приведён в задании 6:

(1) алюминий + хлороводород (р-р) → хлорид алюминия + водород;

(2) гидроксид алюминия → оксид алюминия + вода.

7.1. Составьте уравнения указанных реакций, используя химические формулы веществ из п. 6.1.

(1) _____

(2) _____

7.2. В зависимости от количества и состава веществ, вступающих в химическую реакцию и образующихся в результате неё, различают реакции соединения, разложения, замещения и обмена. Выберите ЛЮБУЮ из реакций (1) или (2) и укажите её тип. Объясните свой ответ.

Реакция:

Тип – _____.

Объясните свой ответ: _____

7.3. Из приборов, изображённых на рисунках, выберите тот, с помощью которого можно получить и собрать газообразный водород по реакции (1).




Рис. 1

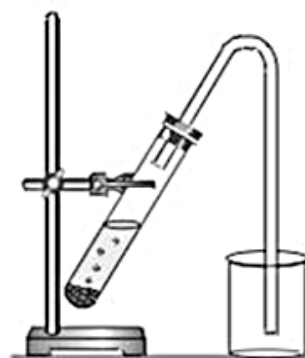


Рис. 2

Водород можно получить и собрать с помощью прибора, изображённого на рисунке:

Каким методом – вытеснения воды или вытеснения воздуха – получают водород в этом приборе?

Ответ: методом вытеснения _____.

Почему невозможно получить и собрать водород, используя прибор, изображённый на другом рисунке?

Объяснение: _____

8

Установите соответствие между названием химического вещества и областью его применения. К каждому элементу первого столбца подберите соответствующий элемент из второго столбца.

ВЕЩЕСТВО

- А) вода
- Б) хлороводород (раствор)
- В) цинк
- Г) водород

ПРИМЕНЕНИЕ

- 1) металл для защиты железа от коррозии
- 2) в качестве школьного мела
- 3) жидкость для травления металлических поверхностей
- 4) компонент ракетного топлива
- 5) средство для тушения пожаров

Запишите в таблицу выбранные цифры под соответствующими буквами.

Ответ:

А	Б	В	Г

9

Из приведённого списка выберите верные суждения о правилах поведения в химической лаборатории и обращения с химическими веществами. В ответе запишите цифры, под которыми они указаны.

- 1) Опыты с летучими и ядовитыми веществами проводят только под тягой.
- 2) Самый опасный продукт сгорания автомобильного топлива – углекислый газ CO_2 .
- 3) Хранение витаминов не требует строгого соблюдения указанных в инструкции правил.
- 4) При попадании раствора кислоты на кожу поражённый участок следует промыть водой и обработать раствором пищевой соды.

Ответ: _____

Система оценивания проверочной работы

Правильный ответ на задание 1.1 оценивается 1 баллом.

Полный правильный ответ на задание 3.1 оценивается 3 баллами. Если в ответе допущена одна ошибка (неправильно заполнена одна клетка таблицы), выставляется 2 балла; если допущено две ошибки (неправильно заполнены две клетки таблицы), выставляется 1 балл, если все клетки таблицы заполнены неправильно – 0 баллов.

1

1.1	3
-----	---

1.2

Содержание верного ответа и указания по оцениванию (допускаются иные формулировки ответа, не искажающие его смысла)	Баллы
В правильном ответе для рис. 1 и 2 должны быть приведены <u>примеры веществ с указанием их названий и формул</u> , например: для рис. 1: карбонат кальция CaCO_3 ; для рис. 2: вода H_2O . Для рис. 3 должны быть указаны название и формула индивидуального химического вещества: кислород O_2 . Для рис. 1 и 2 могут быть приведены другие примеры веществ и соответствующие им формулы. <i>При оценивании в качестве правильного ответа принимается только название вещества с соответствующей формулой; указание только названия или только формулы вещества не засчитывается в качестве правильного ответа</i>	
Правильно указаны названия и формулы веществ для трёх рисунков	3
Правильно указаны названия и формулы веществ для любых двух рисунков	2
Правильно указаны название и формула вещества только для одного любого рисунка	1
Ответ неправильный	0
<i>Максимальный балл</i>	3

2

2.1

Содержание верного ответа и указания по оцениванию (допускаются иные формулировки ответа, не искажающие его смысла)	Баллы
Правильный ответ должен содержать следующие <u>элементы</u> : 1) <u>указание процесса</u> , в ходе которого протекает химическая реакция: 2; 2) <u>обоснование выбора</u> , например: потому что при кипячении водопроводной воды образуются новые химические вещества. Может быть дано иное обоснование выбора процесса	
Правильно указан процесс и дано обоснование	1
Правильно указан только процесс. ИЛИ Процесс не указан / указан неправильно независимо от наличия обоснования. ИЛИ Ответ неправильный	0
<i>Максимальный балл</i>	<i>1</i>

2.2

Содержание верного ответа и указания по оцениванию (допускаются иные формулировки ответа, не искажающие его смысла)	Баллы
В правильном ответе должен быть указан <u>признак</u> протекания химической реакции из п. 2.1, например: образование осадка. Может быть указан иной признак	
Признак протекания химической реакции из п. 2.1 указан правильно	1
Ответ неправильный ИЛИ отсутствует	0
<i>Максимальный балл</i>	<i>1</i>

3

3.1	$M(O_3) = 48 \text{ г/моль}; M(CO) = 28 \text{ г/моль}; M(SO_2) = 64 \text{ г/моль}$
-----	--

3.2

Содержание верного ответа и указания по оцениванию (допускаются иные формулировки ответа, не искажающие его смысла)	Баллы
Правильный ответ должен содержать следующие <u>элементы</u> : 1) <u>указание номера вещества</u> : 2 (угарный газ); 2) <u>обоснование выбора</u> , например: плотность угарного газа близка к плотности воздуха, потому что $M(CO) \approx M_{\text{ср}}(\text{воздух})$. Обоснование может быть сформулировано иначе	
Правильно указан газ и дано обоснование	2
Правильно указан газ	1
Газ не указан / указан неправильно независимо от наличия обоснования. ИЛИ Ответ неправильный	0
<i>Максимальный балл</i>	<i>2</i>

4

Содержание верного ответа и указания по оцениванию (допускаются иные формулировки ответа, не искажающие его смысла)					Баллы
Правильный ответ должен содержать заполненную <u>таблицу</u> :					
Элемент	Название химического элемента	Номер		Металл или неметалл	Формула высшего оксида
		периода	группы		
A	Алюминий	3	III	Металл	Al_2O_3
B	Фосфор	3	V	Неметалл	P_2O_5
4.1. Определение химических элементов					2
Правильно записаны названия элементов A и B					2
Правильно записано название только одного элемента					1
Ответ неправильный					0
4.2. Определение номера периода и номера группы в Периодической системе					2
Правильно указаны номер периода и номер группы для двух элементов					2
Правильно указаны номер периода и номер группы для одного любого элемента					1
Ответ неправильный					0
4.3. Указание, металлом или неметаллом являются простые вещества					1
Правильно указано, металлом или неметаллом являются простые вещества, образованные химическими элементами A и B					1
Дано верное указание только для одного элемента. ИЛИ Ответ неправильный					0
4.4. Запись формул высших оксидов					2
Правильно записаны формулы высших оксидов, которые образуют оба элемента					2
Правильно записана формула высшего оксида, который образует один из элементов					1
Ответ неправильный					0
<i>Максимальный балл</i>					7

5

5.1

Содержание верного ответа и указания по оцениванию (допускаются иные формулировки ответа, не искажающие его смысла)	Баллы
Должен быть приведён расчёт и дан правильный ответ: $m(\text{углеводов}) = 50 \text{ г} \times 0,653 = 32,65 \text{ г}$	
Дан расчёт, обоснованно приведший к правильному ответу	1
Расчёт не привёл к правильному ответу. ИЛИ Расчёт отсутствует / проведён неправильно независимо от наличия правильного ответа. ИЛИ Ответ неправильный	0
<i>Максимальный балл</i>	<i>1</i>

5.2

Содержание верного ответа и указания по оцениванию (допускаются иные формулировки ответа, не искажающие его смысла)	Баллы
Должен быть приведён расчёт и дан правильный ответ: $\alpha = 32,65 \text{ г} / 360 \text{ г} = 0,091$ (или 9,1%)	
Дан расчёт, обоснованно приведший к правильному ответу	1
Расчёт не привёл к правильному ответу. ИЛИ Расчёт отсутствует / проведён неправильно независимо от наличия правильного ответа. ИЛИ Ответ неправильный	0
<i>Максимальный балл</i>	<i>1</i>

Система оценивания проверочной работы

Правильный ответ на каждое из заданий 6.2 и 6.3 оценивается 1 баллом.

Полный правильный ответ на каждое из заданий 8 и 9 оценивается 2 баллами. Если в ответе допущена одна ошибка (в том числе написана лишняя цифра, или не написана одна необходимая цифра), выставляется 1 балл; если допущено две или более ошибки – 0 баллов.

Номер задания	Правильный ответ
8	5314
9	14 (в любой последовательности)

6

6.1

Содержание верного ответа и указания по оцениванию (допускаются иные формулировки ответа, не искажающие его смысла)	Баллы
Правильный ответ должен содержать следующие элементы: 1) формулы простых веществ: алюминий – Al; водород – H ₂ . 2) формулы сложных веществ: хлороводород – HCl; хлорид алюминия – AlCl ₃ ; гидроксид алюминия – Al(OH) ₃ ; оксид алюминия – Al ₂ O ₃ ; вода – H ₂ O	
Запись формул простых веществ, а также воды	1
Правильно записаны формулы трёх указанных веществ	1
При записи формул этих веществ допущена одна ошибка или более	0
Запись формул хлороводорода, хлорида алюминия, гидроксида алюминия и оксида алюминия	2
Правильно записаны формулы четырёх указанных веществ	2
Правильно записаны формулы только трёх веществ	1
Правильно записаны формулы только двух веществ. ИЛИ Правильно записана формула только одного вещества. ИЛИ Ответ неправильный	0
<i>Максимальный балл</i>	3

6.2	водород ИЛИ H ₂
6.3	хлорид алюминия AlCl ₃ – соль (средняя соль) ИЛИ гидроксид алюминия Al(OH) ₃ – амфотерный гидроксид ИЛИ оксид алюминия Al ₂ O ₃ – амфотерный оксид

6.4

Содержание верного ответа и указания по оцениванию (допускаются иные формулировки ответа, не искажающие его смысла)	Баллы
Вещество, состоящее из атомов трёх элементов, – гидроксид алюминия. $\omega(\text{O в Al(OH)}_3) = (3 \times 16) / (27 + 3 \times 16 + 3 \times 1) = 0,615$ (или 61,5%)	
Правильно выбрано соединение и вычислена в нём массовая доля кислорода	1
Только правильно выбрано соединение. ИЛИ Соединение не выбрано / выбрано неправильно независимо от наличия расчётов. ИЛИ Ответ неправильный	0
<i>Максимальный балл</i>	<i>1</i>

6.5

Содержание верного ответа и указания по оцениванию (допускаются иные формулировки ответа, не искажающие его смысла)	Баллы
Должен быть приведён расчёт и дан правильный ответ: количество молекул: $N(\text{H}_2) = 0,25 \text{ моль} \times 6,02 \cdot 10^{23} \text{ 1/моль} = 1,505 \cdot 10^{23}$	
Дан расчёт, обоснованно приведший к правильному ответу	1
Расчёт не привёл к правильному ответу. ИЛИ Расчёт отсутствует / проведён неправильно независимо от наличия правильного ответа. ИЛИ Ответ неправильный	0
<i>Максимальный балл</i>	<i>1</i>

7

7.1

Содержание верного ответа и указания по оцениванию (допускаются иные формулировки ответа, не искажающие его смысла)	Баллы
Уравнения реакций: (1) $2Al + 6HCl(p-p) = 2AlCl_3 + 3H_2$; (2) $2Al(OH)_3 = Al_2O_3 + 3H_2O$	
Правильно составлены уравнения двух реакций	2
Правильно составлено уравнение только одной любой реакции	1
Ответ неправильный	0
<i>Максимальный балл</i>	2

7.2

Содержание верного ответа и указания по оцениванию (допускаются иные формулировки ответа, не искажающие его смысла)	Баллы
В правильном ответе должна быть <u>выбрана реакция, указан её тип и приведено объяснение</u> , например: реакция (1) – реакция замещения (атомы простого вещества (алюминия) замещают атомы одного из химических элементов (водорода) в сложном веществе (хлороводороде)), ИЛИ реакция (2) – реакция разложения (из одного вещества получаются два)	
Правильно указан тип выбранной реакции, приведено объяснение	1
Реакция не выбрана. ИЛИ Тип выбранной реакции не указан / указан неправильно независимо от наличия объяснения. ИЛИ Ответ неправильный	0
<i>Максимальный балл</i>	1

7.3

Содержание верного ответа и указания по оцениванию (допускаются иные формулировки ответа, не искажающие его смысла)	Баллы
Правильный ответ должен содержать следующие <u>элементы</u> : 1) <u>номер рисунка</u> : рис. 1 2) <u>метод</u> : метод вытеснения воды; 3) <u>объяснение</u> , например: водород не может быть получен (и собран) в приборе на рис. 2, так как, будучи легче воздуха, он улетит в атмосферу. Ёмкость для сбора водорода должна быть перевернута вверх дном. (Может быть дано иное объяснение.)	
1. Указание номера рисунка и метода	1
Правильно указаны номер рисунка и метод	1
Правильно указан только номер рисунка или метод. ИЛИ Номер рисунка не указан / указан неправильно независимо от указания метода	0
2. Объяснение	1
Дано корректное объяснение	1
Ответ неправильный	0
<i>Максимальный балл</i>	2

Система оценивания выполнения всей работы

Максимальный первичный балл за выполнение работы – 36.

Рекомендации по переводу первичных баллов в отметки по пятибалльной шкале

Отметка по пятибалльной шкале	«2»	«3»	«4»	«5»
Первичные баллы	0–12	13–22	23–30	31–36