

Максимальный балл за работу – 60.

Тестовые задания

Определите один правильный ответ.

За правильный ответ начисляется **2 балла**.

1. Как подать сигнал SOS с помощью фонарика?

- два длинных световых сигнала, три коротких, два длинных
- один короткий световой сигнал, три длинных, три коротких
- один длинный световой сигнал, два коротких, три длинных
- три коротких световых сигнала, три длинных, три коротких

2. Водитель при управлении мотоциклом

- может быть в застёгнутом мотошлеме в городской черте
- обязан быть в застёгнутом мотошлеме всегда
- обязан быть в застёгнутом мотошлеме только на автомагистралях
- может быть в застёгнутом мотошлеме

3. Определите тип гранаты.

- РГН
- РГО
- РГК-3
- РГД-5



4. Определите боевое отравляющее вещество общедовитого действия.

- хлор
- дифосген
- зарин
- хлорциан

5. Верны ли следующие суждения?

А. Питание можно назвать рациональным, если энергетическая ценность ежедневного рациона соответствует энерготратам.

Б. Питание можно назвать рациональным, если химический состав ежедневного рациона соответствует физиологическим потребностям человека исключительно в макронутриентах.

- верно только А
- верно только Б
- оба суждения верны
- оба суждения неверны

Определите два правильных ответа.

За каждый правильный ответ начисляется **2 балла**.

0 баллов выставляется за неправильный ответ, а также если участником отмечено более двух ответов (в том числе правильные).

6. С какой маркировкой пластик непригоден для переработки?



7. Установите военно-административное деление Российской Федерации (военные округа).

- Ленинградский, Московский
- Западный, Северный флот, Сибирский
- Северо-Кавказский, Приволжско-Уральский
- Южный, Центральный, Восточный
- Дальневосточный, Сибирский

8. Определите группу и характерный запах люизита.

- запах прелого сена
- нервно-паралитические
- кожно-нарывные
- запах горчицы
- запах герани

9. Что входит в комплект защитного плаща ОП-1М?

- плащ, чехол для плаща, держатели плаща
- капюшон с затяжкой
- тесьма
- шпильки и закрепки
- защитные перчатки двух видов






10. Какие действия необходимо выполнить для оказания первой помощи при укусе гадюки, если пострадала конечность?

- наложить жгут выше места укуса
- создать покой пострадавшей конечности
- сделать надрез в месте укуса
- прижечь место укуса
- дать пострадавшему обильное питье

Максимальный балл за тестовые задания – 30.

Теоретические задания

11. Сопоставьте условные обозначения военной техники, применяемые в боевых документах, с их наименованиями.

| | |
|---|--|
|  | Зенитная самоходная установка (общее обозначение) |
|  | Танк (общее обозначение) |
|  | Боевая машина реактивной артиллерии (общее обозначение) |
|  | Автомобиль (общее обозначение) |
|  | Боевая машина пехоты (общее обозначение) |

12. Впишите некоторые характеристики снайперской винтовки, представленной на изображении.



Прицельная дальность в метрах –

Число нарезов в стволе –

Наличие штатного глушителя (да/нет) –

Количество боевых упоров –

Возможность установки штык-ножа (да/нет) –

13. Определите, где должно осуществляться движение лиц, использующих для передвижения средства индивидуальной мобильности, в возрасте старше 14 лет.

Выберите **четыре** правильных ответа.

Движение лиц, использующих для передвижения средства индивидуальной мобильности, в возрасте старше 14 лет должно осуществляться

- по тротуару
- по пешеходной дорожке
- по проезжей части велосипедной зоны
- по велосипедной дорожке
- по велопешеходной дорожке
- по полосе для велосипедистов
- в пределах пешеходных зон

Максимальный балл за работу – 60.

ОТВЕТЫ И КРИТЕРИИ ОЦЕНИВАНИЯ

Максимальный балл за работу – 60.

Тестовые задания

Определите один правильный ответ.

За правильный ответ начисляется 2 балла.

1. Как подать сигнал SOS с помощью фонарика?

- два длинных световых сигнала, три коротких, два длинных
- один короткий световой сигнал, три длинных, три коротких
- один длинный световой сигнал, два коротких, три длинных
- **три коротких световых сигнала, три длинных, три коротких**

2. Водитель при управлении мотоциклом

- может быть в застёгнутом мотошлеме в городской черте
- **обязан быть в застёгнутом мотошлеме всегда**
- обязан быть в застёгнутом мотошлеме только на автомагистралях
- может быть в застёгнутом мотошлеме

3. Определите тип гранаты.

- **РГН**
- РГО
- РГК-3
- РГД-5



4. Определите боевое отравляющее вещество общедовитого действия.

- хлор
- дифосген
- зарин
- **хлорциан**

5. Верны ли следующие суждения?

А. Питание можно назвать рациональным, если энергетическая ценность ежедневного рациона соответствует энерготратам.

Б. Питание можно назвать рациональным, если химический состав ежедневного рациона соответствует физиологическим потребностям человека исключительно в макронутриентах.

- **верно только А**
- верно только Б
- оба суждения верны
- оба суждения неверны

Определите два правильных ответа.

За каждый правильный ответ начисляется **2 балла**.

0 баллов выставляется за неправильный ответ, а также если участником отмечено более двух ответов (в том числе правильные).

6. С какой маркировкой пластик непригоден для переработки?



7. Установите военно-административное деление Российской Федерации (военные округа).

- Ленинградский, Московский
- Западный, Северный флот, Сибирский
- Северо-Кавказский, Приволжско-Уральский
- Южный, Центральный, Восточный
- Дальневосточный, Сибирский

8. Определите группу и характерный запах люизита.

- запах прелого сена
- нервно-паралитические
- кожно-нарывные
- запах горчицы
- запах герани

9. Что входит в комплект защитного плаща ОП-1М?

- плащ, чехол для плаща, держатели плаща
- капюшон с затяжкой
- тесьма
- шпильки и закрепки
- защитные перчатки двух видов

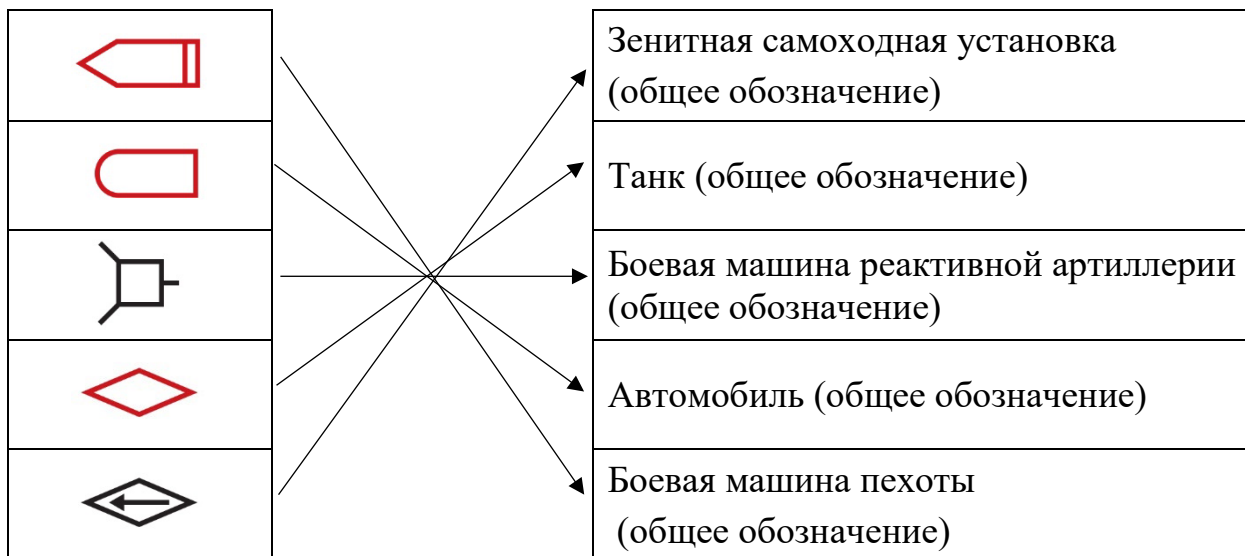
10. Какие действия необходимо выполнить для оказания первой помощи при укусе гадюки, если пострадала конечность?

- наложить жгут выше места укуса
- создать покой пострадавшей конечности
- сделать надрез в месте укуса
- прижечь место укуса
- дать пострадавшему обильное питье

Максимальный балл за тестовые задания – 30.

Теоретические задания

11. Сопоставьте условные обозначения военной техники, применяемые в боевых документах, с их наименованиями.



За каждое правильно установленное соответствие начисляется **2 балла**.

Максимальная оценка за правильно выполненное задание – **10 баллов**.

12. Впишите некоторые характеристики снайперской винтовки, представленной на изображении.



Прицельная дальность в метрах – **1200**.

Число нарезов в стволе – **4**.

Наличие штатного глушителя (да/нет) – **нет**.

Количество боевых упоров – **3**.

Возможность установки штык-ножа (да/нет) – **да**.

За каждый правильный числовой ответ начисляется **2 балла**.

За каждый правильный ответ (да/нет) начисляется **1 балл**.

Максимальная оценка за правильно выполненное задание – **8 баллов**.

13. Определите, где должно осуществляться движение лиц, использующих для передвижения средства индивидуальной мобильности, в возрасте старше 14 лет.

Выберите **четыре** правильных ответа.

Движение лиц, использующих для передвижения средства индивидуальной мобильности, в возрасте старше 14 лет должно осуществляться

- по тротуару
- по пешеходной дорожке
- **по проезжей части велосипедной зоны**
- **по велосипедной дорожке**
- **по велопешеходной дорожке**
- **по полосе для велосипедистов**
- в пределах пешеходных зон

За каждый правильный ответ начисляется **3 балла**.

Если участник указал более 4 ответов, в том числе и правильные, начисляется **0 баллов**.

Максимальная оценка за правильно выполненное задание – **12 баллов**.

Максимальный балл за работу – 60.