

**Максимальный балл за работу – 60.**

**Тестовые задания**

**Определите один правильный ответ.**

**За правильный ответ начисляется 2 балла.**

- 1. Пассажир при поездке на транспортном средстве, оборудованном ремнями безопасности**
  - обязан быть пристёгнутым ими всегда
  - может быть пристёгнутым ими
  - обязан быть пристёгнутым ими только на автомагистралях
  - может быть пристёгнутым ими в городской черте
- 2. Для чего в газ, поступающий в жилые дома, добавляют одорант?**
  - чтобы ярче горел
  - чтобы придать запах для обнаружения утечки
  - чтобы убить бактерии
  - чтобы повысить температуру горения
- 3. На какой срок может устанавливаться уровень террористической опасности?**
  - бессрочно, пока не устранена угроза террористической опасности
  - на срок не более 15 суток
  - не менее чем на 1 сутки, не более чем на 30 суток
  - на срок не более 45 суток
- 4. Агентством по обеспечению и координации российского участия в международных гуманитарных операциях является**
  - ОКСИОН
  - ЛИДЕР
  - ВЦЭРМ
  - ЭМЕРКОМ
- 5. Какой метод поддержания проходимости дыхательных путей применяется при оказании первой помощи?**
  - использование дыхательного мешка Амбу
  - использование лицевой маски с обратным клапаном
  - придание пострадавшему устойчивого бокового положения
  - интубация трахеи

**Определите два правильных ответа.**

За каждый правильный ответ начисляется **2 балла**.

**0 баллов** выставляется за неправильный ответ, а также если участником отмечено более двух ответов (в том числе правильные).

- 6. Определите геометрическую форму и сигнальный цвет предписывающих знаков безопасности.**
- треугольник
  - круг
  - зелёный
  - синий
  - квадрат
- 7. Что относится к сопутствующим проявлениям опасных факторов пожара?**
- снижение видимости в дыму
  - воздействие огнетушащих веществ
  - тепловой поток
  - повышенная температура окружающей среды
  - опасные факторы взрыва, произошедшего вследствие пожара
- 8. Схематическое изображение принципов здорового питания представлено пищевой пирамидой. Какие продукты лежат в её основании?**
- хлеб из муки грубого помола
  - фрукты
  - овощи
  - рыба
  - макароны из цельнозерновой муки
- 9. При переходе водного объекта по льду на лыжах, прежде чем двигаться по целине, следует**
- отстегнуть крепления лыж
  - ослабить крепления лыж
  - сместить центр тяжести крепления лыж
  - продеть ладонь через петлю, заводя снизу
  - снять петли лыжных палок с кистей рук
- 10. Что рекомендуется делать для определения наличия (отсутствия) сознания у пострадавшего при оказании первой помощи?**
- аккуратно похлопать по щекам пострадавшего
  - обратиться к пострадавшему с вопросом, например, «Вы в порядке?»
  - растереть мочки ушей пострадавшего
  - осторожно встряхнуть за плечи
  - похлопать в ладоши перед ухом пострадавшего

**Максимальный балл за тестовые задания – 30.**

### Теоретические задания

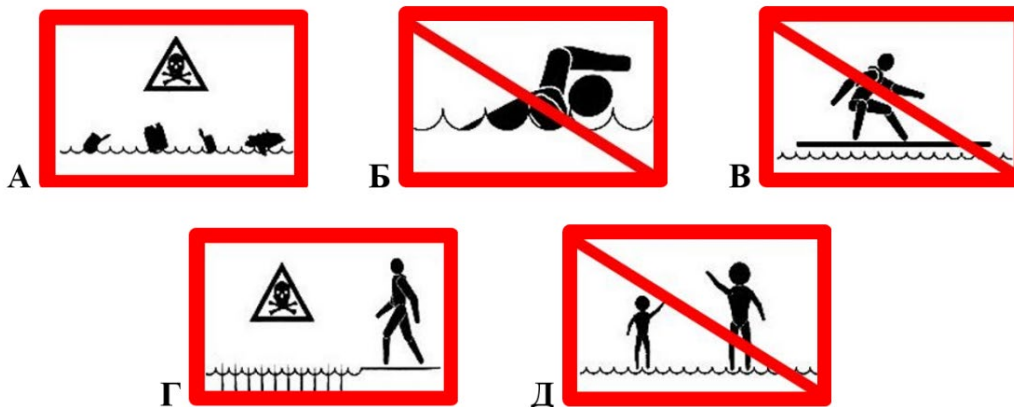
11. Впишите некоторые характеристики автомата, представленного на изображении.



Прицельная дальность в метрах –  
Число нарезов в стволе –  
Наличие штатного глушителя (да/нет) –  
Количество боевых упоров –  
Темп стрельбы, выстрелов/мин. –

12. Сопоставьте знаки безопасности на водных объектах с надписями, которые должны быть расположены на этих знаках.

**Надписи на знаках:** «Купаться запрещено», «Купать детей запрещено», «Опасно! Грязная вода!», «Стой! Опасное дно», «Сёрфинг запрещён».





Надписи на знаках	Знаки безопасности
«Купаться запрещено»	
«Купать детей запрещено»	
«Опасно! Грязная вода!»	
«Стой! Опасное дно»	
«Сёрфинг запрещён»	

**13. Определите значение знаков безопасности на объектах инфраструктуры ОАО «РЖД» и названия дорожных знаков.**

**Значения и названия знаков**

1. Железнодорожный переезд со шлагбаумом
2. Движение запрещено
3. Переход через ж/д пути
4. Движение на велосипедах запрещено
5. Проход запрещён
6. Искусственная неровность
7. Неровная дорога
8. Берегись поезда!
9. Стой, опасно для жизни!
10. Железнодорожный переезд без шлагбаума

Для каждого знака определите его значение или название.



**Максимальный балл за работу – 60.**

ОТВЕТЫ И КРИТЕРИИ ОЦЕНИВАНИЯ

Максимальный балл за работу – 60.

Тестовые задания

Определите один правильный ответ.

За правильный ответ начисляется 2 балла.

1. **Пассажир при поездке на транспортном средстве, оборудованном ремнями безопасности**
  - **обязан быть пристёгнутым ими всегда**
  - может быть пристёгнутым ими
  - обязан быть пристёгнутым ими только на автомагистралях
  - может быть пристёгнутым ими в городской черте
2. **Для чего в газ, поступающий в жилые дома, добавляют одорант?**
  - чтобы ярче горел
  - **чтобы придать запах для обнаружения утечки**
  - чтобы убить бактерии
  - чтобы повысить температуру горения
3. **На какой срок может устанавливаться уровень террористической опасности?**
  - **бессрочно, пока не устранена угроза террористической опасности**
  - на срок не более 15 суток
  - не менее чем на 1 сутки, не более чем на 30 суток
  - на срок не более 45 суток
4. **Агентством по обеспечению и координации российского участия в международных гуманитарных операциях является**
  - ОКСИОН
  - ЛИДЕР
  - ВЦЭРМ
  - **ЭМЕРКОМ**
5. **Какой метод поддержания проходимости дыхательных путей применяется при оказании первой помощи?**
  - использование дыхательного мешка Амбу
  - использование лицевой маски с обратным клапаном
  - **придание пострадавшему устойчивого бокового положения**
  - интубация трахеи

**Определите два правильных ответа.**

За каждый правильный ответ начисляется **2 балла**.

**0 баллов** выставляется за неправильный ответ, а также если участником отмечено более двух ответов (в том числе правильные).

6. **Определите геометрическую форму и сигнальный цвет предписывающих знаков безопасности.**
- треугольник
  - **круг**
  - зелёный
  - **синий**
  - квадрат
7. **Что относится к сопутствующим проявлениям опасных факторов пожара?**
- снижение видимости в дыму
  - **воздействие огнетушащих веществ**
  - тепловой поток
  - повышенная температура окружающей среды
  - **опасные факторы взрыва, произошедшего вследствие пожара**
8. **Схематическое изображение принципов здорового питания представлено пищевой пирамидой. Какие продукты лежат в её основании?**
- **хлеб из муки грубого помола**
  - фрукты
  - овощи
  - рыба
  - **макаронны из цельнозерновой муки**
9. **При переходе водного объекта по льду на лыжах, прежде чем двигаться по целине, следует**
- **отстегнуть крепления лыж**
  - ослабить крепления лыж
  - сместить центр тяжести крепления лыж
  - продеть ладонь через петлю, заводя снизу
  - **снять петли лыжных палок с кистей рук**
10. **Что рекомендуется делать для определения наличия (отсутствия) сознания у пострадавшего при оказании первой помощи?**
- аккуратно похлопать по щекам пострадавшего
  - **обратиться к пострадавшему с вопросом, например, «Вы в порядке?»**
  - растереть мочки ушей пострадавшего
  - **осторожно встряхнуть за плечи**
  - похлопать в ладоши перед ухом пострадавшего

**Максимальный балл за тестовые задания – 30.**

### Теоретические задания

**11. Впишите некоторые характеристики автомата, представленного на изображении.**



Прицельная дальность в метрах – 1000.

Число нарезов в стволе – 4.

Наличие штатного глушителя (да/нет) – нет.

Количество боевых упоров – 2.

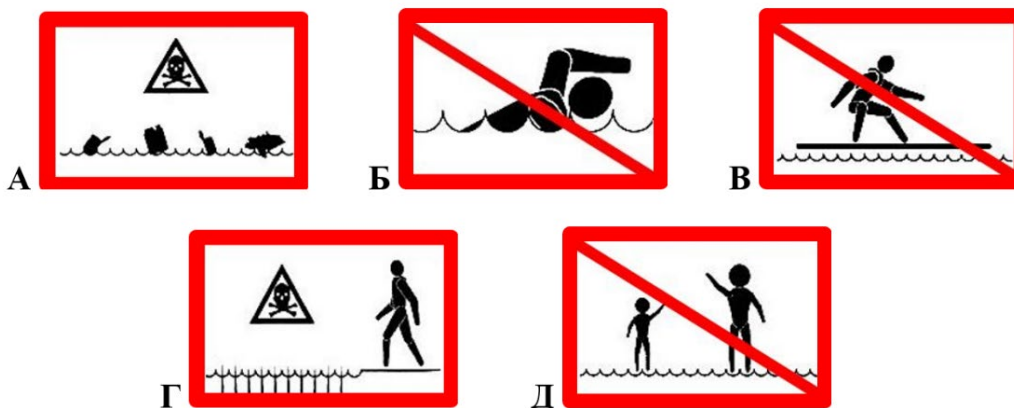
Темп стрельбы, выстрелов/мин. – 650.

За каждый правильный ответ начисляется **2 балла**.

Максимальная оценка за правильно выполненное задание – **10 баллов**.

**12. Сопоставьте знаки безопасности на водных объектах с надписями, которые должны быть расположены на этих знаках.**

**Надписи на знаках:** «Купаться запрещено», «Купать детей запрещено», «Опасно! Грязная вода!», «Стой! Опасное дно», «Сёрфинг запрещён».



Надписи на знаках	Знаки безопасности
«Купаться запрещено»	Б
«Купать детей запрещено»	Д
«Опасно! Грязная вода!»	А
«Стой! Опасное дно»	Г
«Сёрфинг запрещён»	В

За каждое правильно установленное соответствие начисляется **2 балла**.

Максимальная оценка за правильно выполненное задание – **10 баллов**.

**13. Определите значение знаков безопасности на объектах инфраструктуры ОАО «РЖД» и названия дорожных знаков.**

**Значения и названия знаков**

1. Железнодорожный переезд со шлагбаумом
2. Движение запрещено
3. Переход через ж/д пути
4. Движение на велосипедах запрещено
5. Проход запрещён
6. Искусственная неровность
7. Неровная дорога
8. Берегись поезда!
9. Стой, опасно для жизни!
10. Железнодорожный переезд без шлагбаума

Для каждого знака определите его значение или название.



За каждое правильное значение или название знака начисляется **2 балла**.

Максимальная оценка за правильно выполненное задание – **10 баллов**.

**Максимальный балл за работу – 60.**