

ВСЕРОССИЙСКАЯ ОЛИМПИАДА ШКОЛЬНИКОВ
ИСТОРИЯ. 2026 г. ПРИГЛАСИТЕЛЬНЫЙ ЭТАП.
4–5 КЛАССЫ

ЗАДАНИЯ

Максимальный балл за работу – 42.

1. Где в 1879 г. впервые были обнаружены наскальные рисунки первобытных людей?

1. пещера Ляско (Франция)
2. Капова пещера (Россия)
3. пещера Альтамира (Испания)
4. пещера Зверей (Египет)

Ответ:

2. Первыми в истории продолжительность года в 365 суток определили жители

1. Междуречья
2. Древнего Египта
3. Древней Греции
4. Месопотамии

Ответ:

3. Выберите верные утверждения.

1. Железо было первым металлом, из которого люди стали изготавливать орудия труда.
2. Первым одомашненным животным стала лошадь.
3. Двойная бело-красная корона стала символом объединения египетского государства.
4. Верховным божеством египетского пантеона являлся бог Тор.
5. Египетский фараон считался сыном бога Ра.
6. Первыми проявлениями искусства у первобытных людей стали росписи водяными красками по штукатурке.

Ответ:

4. Соотнесите имена богов Древнего Египта с их священными животными и функциями.

Варианты символов: ибис, корова, кошка, крокодил, львица, осёл/свинья/гиппопотам, шакал.

Варианты функций: бог воды; бог мудрости; бог чужеземцев, пустыни, бурь и непогоды; богиня войны и мести; богиня любви, красоты и радости; богиня плодородия и покровительница женщин; проводник душ умерших в царство мёртвых.

Ответ:

Имя	Священное животное	Функция
Анубис		
Бастет		
Себек		
Сет		
Сехмет		
Тот		
Хатхор		

5. Загадки Алкуина.

Сподвижник Карла Великого Алкуин любил задавать своим ученикам загадки. А на вопросы, которые ему задавали, порой отвечал так, что ученики не сразу понимали учителя.

Установите соответствие между загадками и рисунками с ответами.

1	Женщина с железным носом, деревянным телом, несущая за собой смерть
2	Какой вестник бывает нем?
3	Одежда земли
4	Раб смерти, гость в своём доме
5	Роспись свода, водители мореходов
6	Стена государства, страх для неприятеля
7	Страж истории
8	Я слышал мёртвых, много болтающих



А



Б



В



Г




Д



Е



Ж

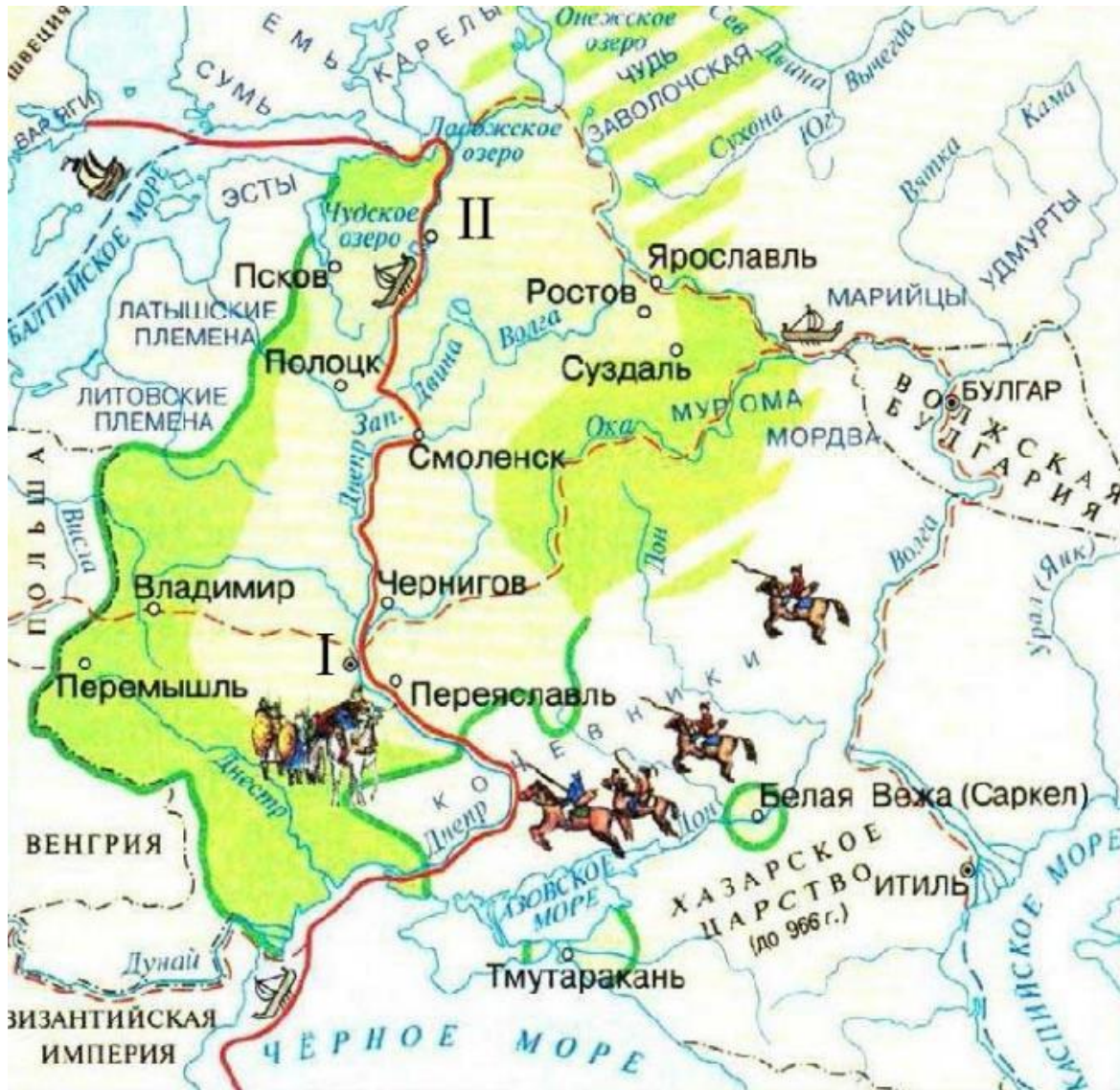


З

Ответ:

1	2	3	4	5	6	7	8

6-9. Рассмотрите представленную карту и выполните задания.



6. Выберите из приведённого списка название торгового пути, обозначенного на карте красной линией.

- А) Шёлковый путь
- Б) Золотой путь
- В) Путь из варяг в греки
- Г) Волжский путь

Ответ:

7. Выберите из списка название города, обозначенного на карте цифрой I.

- А) Великий Новгород
- Б) Киев
- В) Москва
- Г) Константинополь

Ответ:

8. Выберите из приведённого списка год, когда Рюрик начал править в городе, обозначенном на карте цифрой II.

- А) 858 г.
- Б) 862 г.
- В) 879 г.
- Г) 882 г.

Ответ:

9. Выберите верные утверждения.

- 1) На карте обозначена территория, на которой проживали славянские племена.
- 2) Все территории, обозначенные на карте, входят в состав современной России.
- 3) На карте обозначено озеро, на льду которого произошла битва дружины Александра Невского с рыцарями Ливонского ордена.
- 4) Религией племён, проживавших на территориях, обозначенных зелёным цветом, был ислам.
- 5) Территории, обозначенные на карте, принято считать «колыбелью» человечества.
- 6) На карте изображены моря, которые были известны древним грекам.

Ответ:

10. Соотнесите изображения письменности разных государств Древнего мира с историческими персонажами, которые могли ею пользоваться. Обратите внимание на то, что некоторые персонажи являются лишними.





<p>1</p> 	<p>2</p> 
<p>3</p> 	<p>4</p> 
<p>5</p> 	

- А) Цинь Шихуанди
- Б) Софокл
- В) Чандрагупта
- Г) Эхнатон
- Д) Гай Гракх
- Е) Хаммурапи
- Ж) Гомер
- З) Давид
- И) Рюрик

Ответ:

1	2	3	4	5

11. Рассмотрите изображения и выберите те, которые связаны с событиями Великой Отечественной войны.

<p style="text-align: center;">1</p> 	<p style="text-align: center;">2</p> 
<p style="text-align: center;">3</p> 	<p style="text-align: center;">4</p> 

Всероссийская олимпиада школьников. История. 2026 г.
Пригласительный этап. 4–5 классы

5



6



7



8



9



10



Ответ:

ВСЕРОССИЙСКАЯ ОЛИМПИАДА ШКОЛЬНИКОВ
ИСТОРИЯ. 2026 г. ПРИГЛАСИТЕЛЬНЫЙ ЭТАП.
4–5 КЛАССЫ

ОТВЕТЫ И КРИТЕРИИ ОЦЕНИВАНИЯ

Максимальный балл за работу – 42.

1. Где в 1879 г. впервые были обнаружены наскальные рисунки первобытных людей?

1. пещера Ляско (Франция)
2. Капова пещера (Россия)
3. пещера Альтамира (Испания)
4. пещера Зверей (Египет)

Ответ: 3.

За верный ответ – 1 балл.

2. Первыми в истории продолжительность года в 365 суток определили жители

1. Междуречья
2. Древнего Египта
3. Древней Греции
4. Месопотамии

Ответ: 2.

За верный ответ – 1 балл.

3. Выберите верные утверждения.

1. Железо было первым металлом, из которого люди стали изготавливать орудия труда.
2. Первым одомашненным животным стала лошадь.
3. Двойная бело-красная корона стала символом объединения египетского государства.
4. Верховным божеством египетского пантеона являлся бог Тор.
5. Египетский фараон считался сыном бога Ра.
6. Первыми проявлениями искусства у первобытных людей стали росписи водяными красками по штукатурке.

Ответ: 3, 5.

Балл за каждый верный выбор – 1. За каждый из лишних пунктов, превышающих количество пунктов в верном ответе – штраф 1 балл, но не менее 0 баллов за задание. Максимум за задание – 2 балла.

4. Соотнесите имена богов Древнего Египта с их священными животными и функциями.

Варианты символов: ибис, корова, кошка, крокодил, львица, осёл/свинья/гиппопотам, шакал.

Варианты функций: бог воды; бог мудрости; бог чужеземцев, пустыни, бурь и непогоды; богиня войны и мести; богиня любви, красоты и радости; богиня плодородия и покровительница женщин; проводник душ умерших в царство мёртвых.

Ответ:

Имя	Священное животное	Функция
Анубис	шакал	проводник душ умерших в царство мёртвых
Бастет	кошка	богиня плодородия, покровительница женщин
Себек	крокодил	бог воды
Сет	осёл/свинья/гиппопотам	бог чужеземцев, пустыни, бурь и непогоды
Сехмет	львица	богиня войны и мести
Тот	ибис	бог мудрости
Хатхор	корова	богиня любви, красоты и радости

**За каждое верное соотнесение – 1 балл.
Максимальный балл за задание – 14.**

5. Загадки Алкуина.

Сподвижник Карла Великого Алкуин любил задавать своим ученикам загадки. А на вопросы, которые ему задавали, порой отвечал так, что ученики не сразу понимали учителя.

Установите соответствие между загадками и рисунками с ответами.

1	Женщина с железным носом, деревянным телом, несущая за собой смерть
2	Какой вестник бывает нем?
3	Одежда земли
4	Раб смерти, гость в своём доме
5	Роспись свода, водители мореходов
6	Стена государства, страх для неприятеля
7	Страж истории

8 Я слышал мёртвых, много болтающих



А



Б



В



Г




Д



Е



Ж



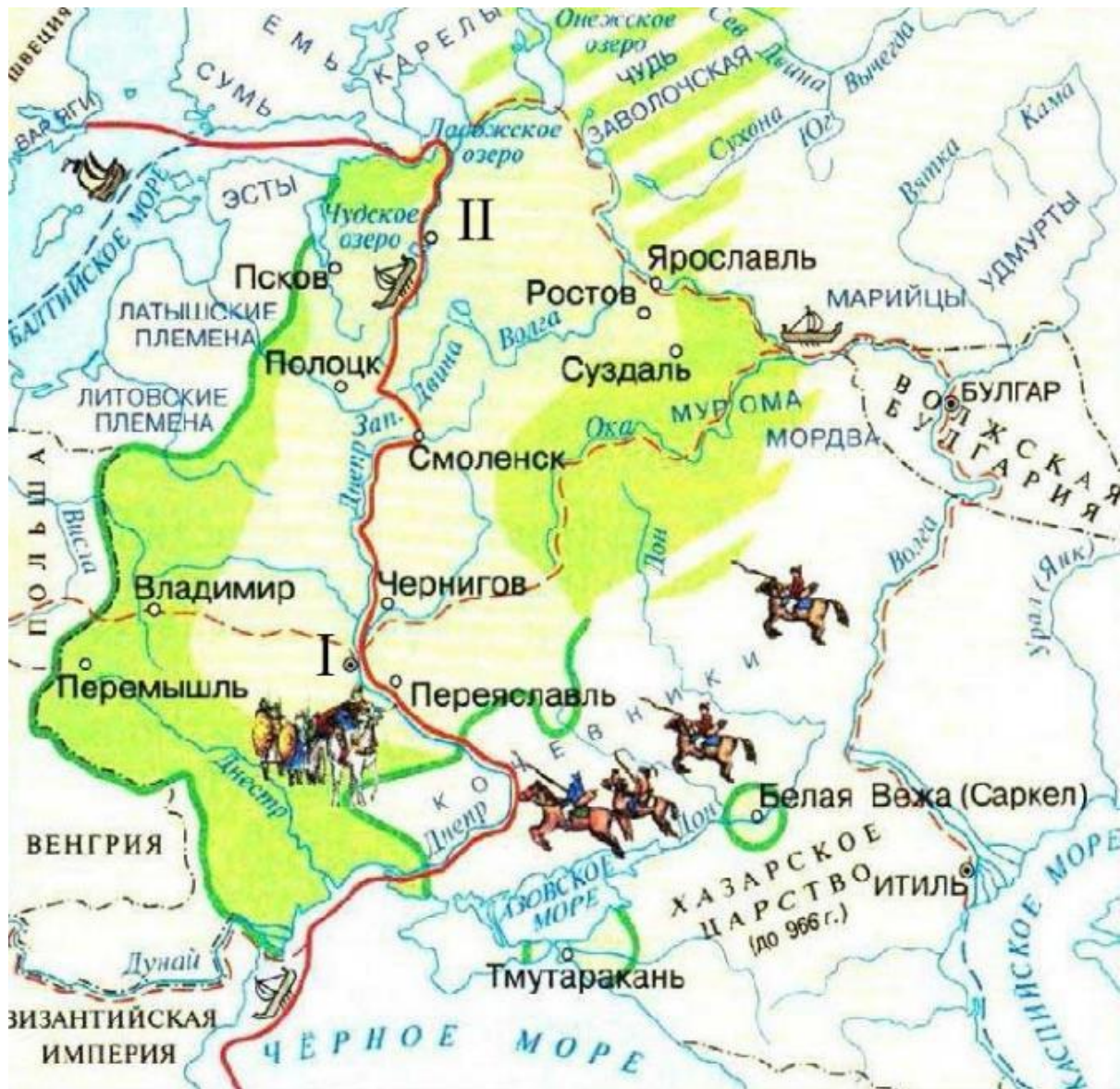
З

Ответ:

1	2	3	4	5	6	7	8
Ж	Е	Д	А	Б	В	Г	З

За каждое верное соотнесение – 1 балл.
Максимальный балл за задание – 8.

6-9. Рассмотрите представленную карту и выполните задания.



6. Выберите из приведённого списка название торгового пути, обозначенного на карте красной линией.

- А) Шёлковый путь
- Б) Золотой путь
- В) Путь из варяг в греки
- Г) Волжский путь

Ответ: В.

За верный ответ – 1 балл.

7. Выберите из списка название города, обозначенного на карте цифрой I.

- А) Великий Новгород
- Б) Киев
- В) Москва
- Г) Константинополь

Ответ: Б.

За верный ответ – 1 балл.

8. Выберите из приведённого списка год, когда Рюрик начал править в городе, обозначенном на карте цифрой II.

- А) 858 г.
- Б) 862 г.
- В) 879 г.
- Г) 882 г.

Ответ: Б.

За верный ответ – 1 балл.

9. Выберите верные утверждения.

- 1) На карте обозначена территория, на которой проживали славянские племена.
- 2) Все территории, обозначенные на карте, входят в состав современной России.
- 3) На карте обозначено озеро, на льду которого произошла битва дружины Александра Невского с рыцарями Ливонского ордена.
- 4) Религией племён, проживавших на территориях, обозначенных зелёным цветом, был ислам.
- 5) Территории, обозначенные на карте, принято считать «колыбелью» человечества.
- 6) На карте изображены моря, которые были известны древним грекам.

Ответ: 1, 3, 6.

За каждый верный выбор – 1 балл. Штраф за каждый неверный выбор – 1 балл. При выборе более 4 утверждений – 0 баллов. Максимум за задание – 3 балла.

10. Соотнесите изображения письменности разных государств Древнего мира с историческими персонажами, которые могли ею пользоваться. Обратите внимание на то, что некоторые персонажи являются лишними.

<p>1</p> 	<p>2</p> 
<p>3</p> 	<p>4</p> 
<p>5</p> 	





- А) Цинь Шихуанди
- Б) Софокл
- В) Чандрагупта
- Г) Эхнатон
- Д) Гай Гракх
- Е) Хаммурапи
- Ж) Гомер
- З) Давид
- И) Рюрик

Ответ:

1	2	3	4	5
Г	Е	Д	В	А

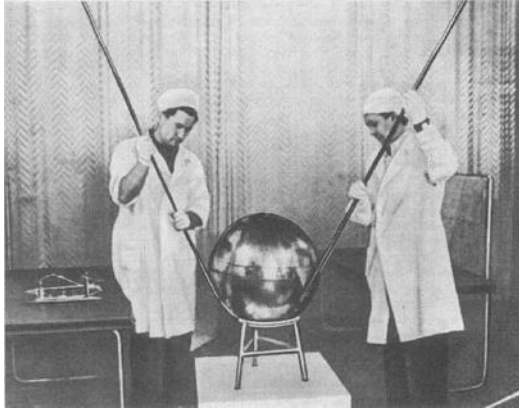
*За каждое верное соотнесение – 1 балл.
Максимальный балл за задание – 5.*

11. Рассмотрите изображения и выберите те, которые связаны с событиями Великой Отечественной войны.

1 	2 
3 	4 

Всероссийская олимпиада школьников. История. 2026 г.
Пригласительный этап. 4–5 классы

5



6



7



8



9



10



Ответ: 1, 3, 4, 7, 10.

За каждый верный выбор – 1 балл. Штраф за каждый неверный выбор – 1 балл. При выборе более 7 утверждений – 0 баллов.

Максимум за задание – 5 баллов.

Максимальный балл за работу – ??.