



Степень и логарифм

Свойства степени при $a > 0, b > 0$

$$a^{-n} = \frac{1}{a^n}$$

$$a^n \cdot a^m = a^{n+m}$$

$$\frac{a^n}{a^m} = a^{n-m}$$

$$(a^n)^m = a^{nm}$$

$$(ab)^n = a^n \cdot b^n$$

$$\left(\frac{a}{b}\right)^n = \frac{a^n}{b^n}$$

Свойства логарифма при $a > 0, a \neq 1, b > 0, x > 0, y > 0$

$$a^{\log_a b} = b$$

$$\log_a a = 1$$

$$\log_a 1 = 0$$

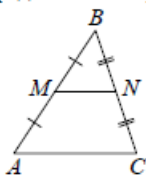
$$\log_a (xy) = \log_a x + \log_a y$$

$$\log_a \left(\frac{x}{y}\right) = \log_a x - \log_a y$$

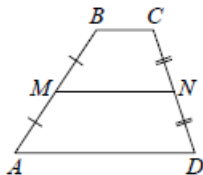
$$\log_a b^k = k \log_a b$$

Геометрия

Средняя линия треугольника и трапеции

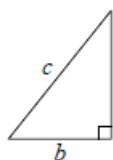


MN — ср. лин.
 $MN \parallel AC$
 $MN = \frac{AC}{2}$



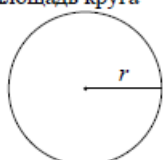
$BC \parallel AD$
 MN — ср. лин.
 $MN \parallel AD$
 $MN = \frac{BC + AD}{2}$

Теорема Пифагора



$$a^2 + b^2 = c^2$$

Длина окружности
Площадь круга



$$C = 2\pi r$$

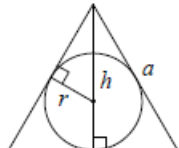
$$S = \pi r^2$$

Правильный треугольник



$$R = \frac{a\sqrt{3}}{3}$$

$$S = \frac{a^2\sqrt{3}}{4}$$

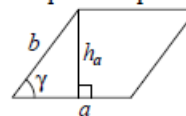


$$r = \frac{a\sqrt{3}}{6}$$

$$h = \frac{a\sqrt{3}}{2}$$

Площади фигур

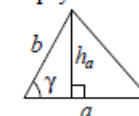
Параллелограмм



$$S = ah_a$$

$$S = ab \sin \gamma$$

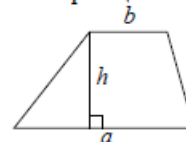
Треугольник



$$S = \frac{1}{2} ah_a$$

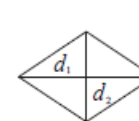
$$S = \frac{1}{2} ab \sin \gamma$$

Трапеция



$$S = \frac{a+b}{2} \cdot h$$

Ромб

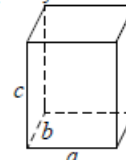


d_1, d_2 — диагонали

$$S = \frac{1}{2} d_1 d_2$$

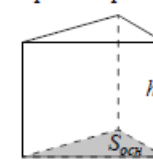
Площади поверхностей и объёмы тел

Прямоугольный параллелепипед



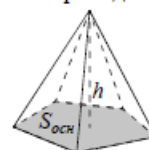
$$V = abc$$

Прямая призма



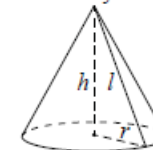
$$V = S_{осн} h$$

Пирамида



$$V = \frac{1}{3} S_{осн} h$$

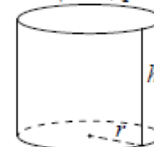
Конус



$$V = \frac{1}{3} \pi r^2 h$$

$$S_{бок} = \pi r l$$

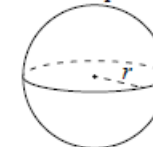
Цилиндр



$$V = \pi r^2 h$$

$$S_{бок} = 2\pi r h$$

Шар

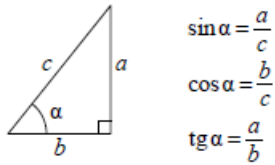


$$V = \frac{4}{3} \pi r^3$$

$$S = 4\pi r^2$$

Тригонометрические функции

Прямоугольный треугольник

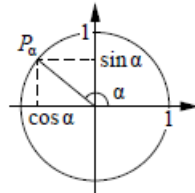


$$\sin \alpha = \frac{a}{c}$$

$$\cos \alpha = \frac{b}{c}$$

$$\operatorname{tg} \alpha = \frac{a}{b}$$

Тригонометрическая окружность



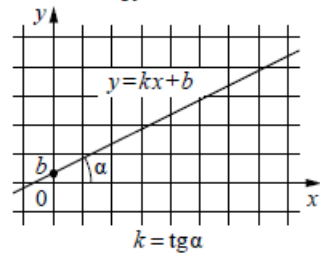
Основное тригонометрическое тождество: $\sin^2 \alpha + \cos^2 \alpha = 1$

Некоторые значения тригонометрических функций

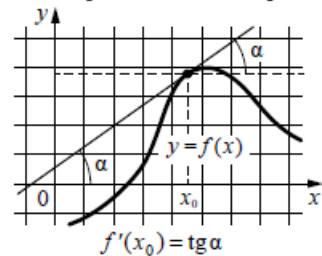
α	радианы	0	$\frac{\pi}{6}$	$\frac{\pi}{4}$	$\frac{\pi}{3}$	$\frac{\pi}{2}$	π	$\frac{3\pi}{2}$	2π
	градусы	0°	30°	45°	60°	90°	180°	270°	360°
$\sin \alpha$		0	$\frac{1}{2}$	$\frac{\sqrt{2}}{2}$	$\frac{\sqrt{3}}{2}$	1	0	-1	0
$\cos \alpha$		1	$\frac{\sqrt{3}}{2}$	$\frac{\sqrt{2}}{2}$	$\frac{1}{2}$	0	-1	0	1
$\operatorname{tg} \alpha$		0	$\frac{\sqrt{3}}{3}$	1	$\sqrt{3}$	—	0	—	0

Функции

Линейная функция



Геометрический смысл производной



Ответом к каждому заданию является конечная десятичная дробь, или целое число, или последовательность цифр. Ответ сначала запишите в поле ответа в тексте работы, а затем перенесите в БЛАНК ОТВЕТОВ № 1 справа от номера соответствующего задания. Каждую цифру, знак «минус» и запятую пишите в отдельной клеточке в соответствии с приведёнными в бланке образцами. Единицы измерений писать не нужно.

1 В летнем лагере на каждого участника полагается 50 г сахара в день. В лагере 244 человека. Какое наименьшее количество килограммовых упаковок сахара нужно на весь лагерь на 9 дней?

Ответ: _____.

2 Установите соответствие между величинами и их возможными значениями: к каждому элементу первого столбца подберите соответствующий элемент из второго столбца.

ВЕЛИЧИНЫ

- А) объём бутылки газировки
- Б) объём багажника автомобиля
- В) объём грузового отсека транспортного самолёта
- Г) объём воды в Чёрном море

ЗНАЧЕНИЯ

- 1) 2 л
- 2) 200 л
- 3) 555 000 км³
- 4) 400 м³

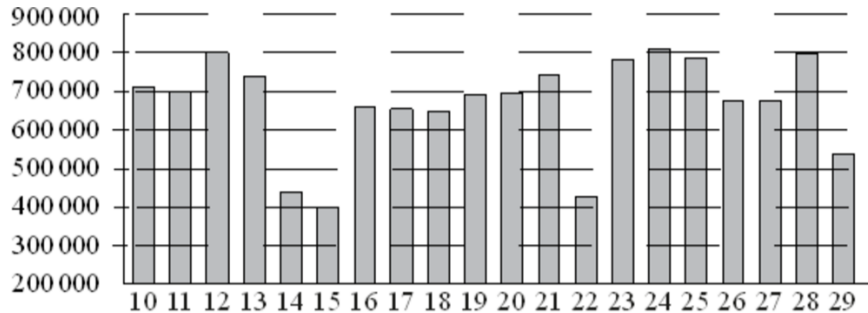
В таблице под каждой буквой, соответствующей величине, укажите номер её возможного значения.

Ответ:

А	Б	В	Г



- 3** На диаграмме показано количество посетителей сайта РИА «Новости» во все дни с 10 по 29 ноября 2009 года. По горизонтали указываются дни месяца, по вертикали – количество посетителей сайта за данный день. Определите по диаграмме, какого числа количество посетителей сайта РИА «Новости» было наименьшим за указанный период.



Ответ: _____.

- 4** В фирме «Эх, прокачу!» стоимость поездки на такси длительностью меньше 5 минут составляет 150 рублей. Если поездка длится 5 минут или более, то её стоимость (в рублях) рассчитывается по формуле $C = 150 + 11(t - 5)$, где t – длительность поездки, выраженная в минутах ($t \geq 5$). Пользуясь этой формулой, рассчитайте стоимость 10-минутной поездки. Ответ укажите в рублях.

Ответ: _____.

- 5** Из 1600 пакетов молока в среднем 80 протекают. Какова вероятность того, что случайно выбранный пакет молока не течёт?

Ответ: _____.

- 6** Строительный подрядчик планирует купить 20 тонн облицовочного кирпича у одного из трёх поставщиков. Один кирпич весит 5 кг. Цена кирпича и условия доставки всей покупки приведены в таблице.

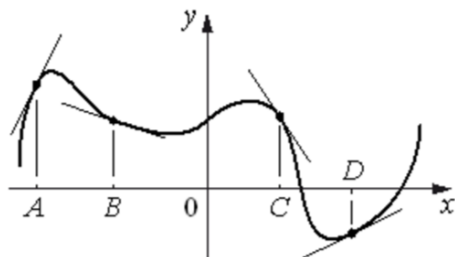
Поставщик	Цена кирпича (руб. за шт.)	Стоимость доставки (руб.)	Специальные условия
А	49	8000	Нет
Б	55	7000	Доставка бесплатно, если сумма заказа превышает 200 000 руб.
В	62	6000	Доставка со скидкой 50%, если сумма заказа превышает 240 000 руб.

Во сколько рублей обойдётся наиболее дешёвый вариант покупки с доставкой?

Ответ: _____.



7 На рисунке изображены график функции и касательные, проведённые к нему в точках с абсциссами A , B , C и D .



В правом столбце указаны значения производной функции в точках A , B , C и D . Пользуясь графиком, поставьте в соответствие каждой точке значение производной функции в ней.

<u>ТОЧКИ</u>	<u>ЗНАЧЕНИЯ ПРОИЗВОДНОЙ</u>
A	1) $-1,5$
B	2) $0,5$
C	3) 2
D	4) $-0,3$

В таблице под каждой буквой укажите соответствующий номер.

Ответ:

A	B	C	D


8 Хозяйка к празднику купила морс, мороженое, крабовые палочки и рыбу. Мороженое стоило дороже крабовых палочек, но дешевле рыбы, морс стоил дешевле мороженого. Выберите утверждения, которые верны при указанных условиях.

- 1) Морс стоил дешевле рыбы.
- 2) За морс заплатили больше, чем за мороженное.
- 3) Рыба – самая дорогая из покупок.
- 4) Среди указанных четырёх покупок есть три, стоимость которых одинакова.

В ответе запишите номера выбранных утверждений без пробелов, запятых и других дополнительных символов.

Ответ: _____.

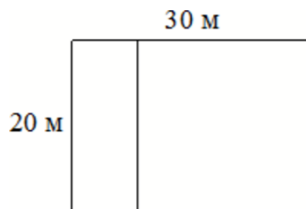
9 На клетчатой бумаге с размером клетки 1×1 изображена фигура. Найдите её площадь.



Ответ: _____.

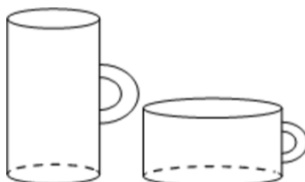


- 10** Дачный участок имеет форму прямоугольника со сторонами 20 метров и 30 метров. Хозяин планирует обнести его забором и разделить таким же забором на две части, одна из которых имеет форму квадрата. Найдите суммарную длину забора в метрах.



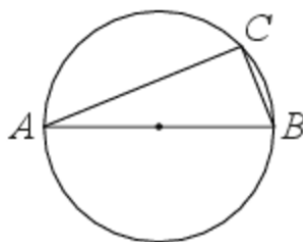
Ответ: _____.

- 11** Даны две кружки цилиндрической формы. Первая кружка вдвое выше второй, а вторая в четыре раза шире первой. Во сколько раз объём второй кружки больше объёма первой?



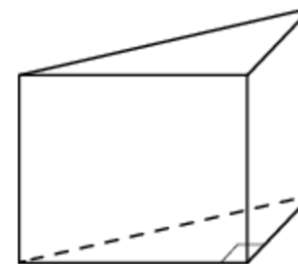
Ответ: _____.

- 12** На окружности радиуса 5 отмечена точка C . Отрезок AB – диаметр окружности, $AC = 8$. Найдите $\sin \angle ABC$.



Ответ: _____.

- 13** В основании прямой призмы лежит прямоугольный треугольник, один из катетов которого равен 3, а гипотенуза равна $\sqrt{34}$. Найдите объём призмы, если её высота равна 6.



Ответ: _____.

- 14** Найдите значение выражения

$$1 + \frac{1}{7} \cdot 0,77.$$

Ответ: _____.

- 15** Футболка стоила 800 рублей. После снижения цены она стала стоить 680 рублей. На сколько процентов была снижена цена футболки?

Ответ: _____.

- 16** Найдите значение выражения

$$\log_{\sqrt{11}} 11^2.$$

Ответ: _____.

- 17** Решите уравнение

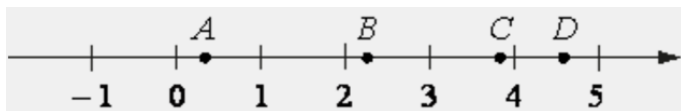
$$x^2 + 8 = 6x.$$

Если уравнение имеет более одного корня, в ответе укажите больший из них.

Ответ: _____.



18 На координатной прямой отмечены точки A, B, C и D .



Каждой точке соответствует одно из чисел в правом столбце. Установите соответствие между указанными точками и числами.

ТОЧКИ

A
 B
 C
 D

ЧИСЛА

- 1) $\sqrt{10} + \sqrt{2}$
- 2) $\sqrt{10} \cdot \sqrt{2}$
- 3) $\sqrt{10} - 2\sqrt{2}$
- 4) $(\sqrt{2})^3 + 1$

В таблице для каждой точки укажите номер соответствующего числа.

Ответ:

A	B	C	D

19 Вычеркните в числе 85417627 три цифры так, чтобы получившееся число делилось на 18. В ответе укажите какое-нибудь одно получившееся число.

Ответ: _____.

20 Первый и второй насосы наполняют бассейн за 10 минут, второй и третий — за 14 минут, а первый и третий — за 15 минут. За сколько минут эти три насоса заполнят бассейн, работая вместе?

Ответ: _____.

21 Прямоугольник разбит на четыре меньших прямоугольника двумя прямолинейными разрезами. Периметры трёх из них, начиная с левого верхнего и далее по часовой стрелке, равны 24, 28 и 16. Найдите периметр четвёртого прямоугольника.

24	28
?	16

Ответ: _____.

Не забудьте перенести все ответы в бланк ответов № 1 в соответствии с инструкцией по выполнению работы. Проверьте, чтобы каждый ответ был записан в строке с номером соответствующего задания.



СОСТАВИТЕЛЬ ВАРИАНТА:	
ФИО:	Евгений Пифагор
Предмет:	Математика
Стаж:	14 лет готовлю к ЕГЭ и ОГЭ
Регалии:	Набрал 100 баллов на ЕГЭ по математике (профиль) Результаты моих учеников Высшее образование – ТГУ (Тольятти), 2009-2014 Победитель трёх олимпиад по высшей математике
ВК:	https://vk.com/shkolapifagora
Ютуб:	https://www.youtube.com/c/pifagor1

Система оценивания экзаменационной работы по математике (базовый уровень)

Правильное решение каждого из заданий 1–21 оценивается 1 баллом. Задание считается выполненным верно, если ответ записан в той форме, которая указана в инструкции по выполнению задания, и полностью совпадает с эталоном ответа.

Номер задания	Правильный ответ	Текстовое решение	Видео решение
1	110		
2	1243		
3	15		
4	205		
5	0,95		
6	204000		
7	3412		
8	13		
9	14		
10	120		
11	8		
12	0,8		
13	45		
14	1,11		
15	15		
16	4		
17	4		
18	3241		
19	84762 или 85176 или 54162		
20	8,4		
21	12		

