

--	--	--	--

--	--

**Проверочная работа  
по ИСТОРИИ**

**8 класс**

**Вариант 2**

**Инструкция по выполнению работы**

На выполнение проверочной работы по истории отводится один урок (не более 45 минут). Работа включает в себя 9 заданий по истории России XVIII в., истории зарубежных стран (история Нового времени) и 1 задание, посвящённое памяти народа России о Великой Отечественной войне или важнейшим событиям истории нашей страны в XXI в.

Ответы на задания запишите в поля ответов в тексте работы. В случае записи неверного ответа зачеркните его и запишите рядом новый.

При выполнении работы не разрешается пользоваться учебниками, рабочими тетрадями, справочным материалом.

При необходимости можно пользоваться черновиком. Записи в черновике проверяться и оцениваться не будут.

Советуем выполнять задания в том порядке, в котором они даны. В целях экономии времени пропускайте задание, которое не удаётся выполнить сразу, и переходите к следующему. Если после выполнения всей работы у Вас останется время, то Вы сможете вернуться к пропущенным заданиям.

***Желаем успеха!***

Таблица для внесения баллов участника

Номер задания	1	2	3	4	5	6	7	8	9	10	Сумма баллов за работу	Отметка за работу
Баллы	<input type="text"/>	<input type="text"/>	<input type="text"/>	<input type="text"/>	<input type="text"/>	<input type="text"/>	<input type="text"/>	<input type="text"/>	<input type="text"/>	<input type="text"/>	<input type="text"/>	<input type="text"/>

1) Расположите в хронологической последовательности исторические события. Запишите цифры, которыми обозначены исторические события, в правильной последовательности в таблицу.

- 1) взятие Бастилии в Париже
- 2) отмена внутренних таможенных пошлин в России
- 3) создание Преображенского полка

--

 Ответ: 

--	--	--

2) Рассмотрите изображение.

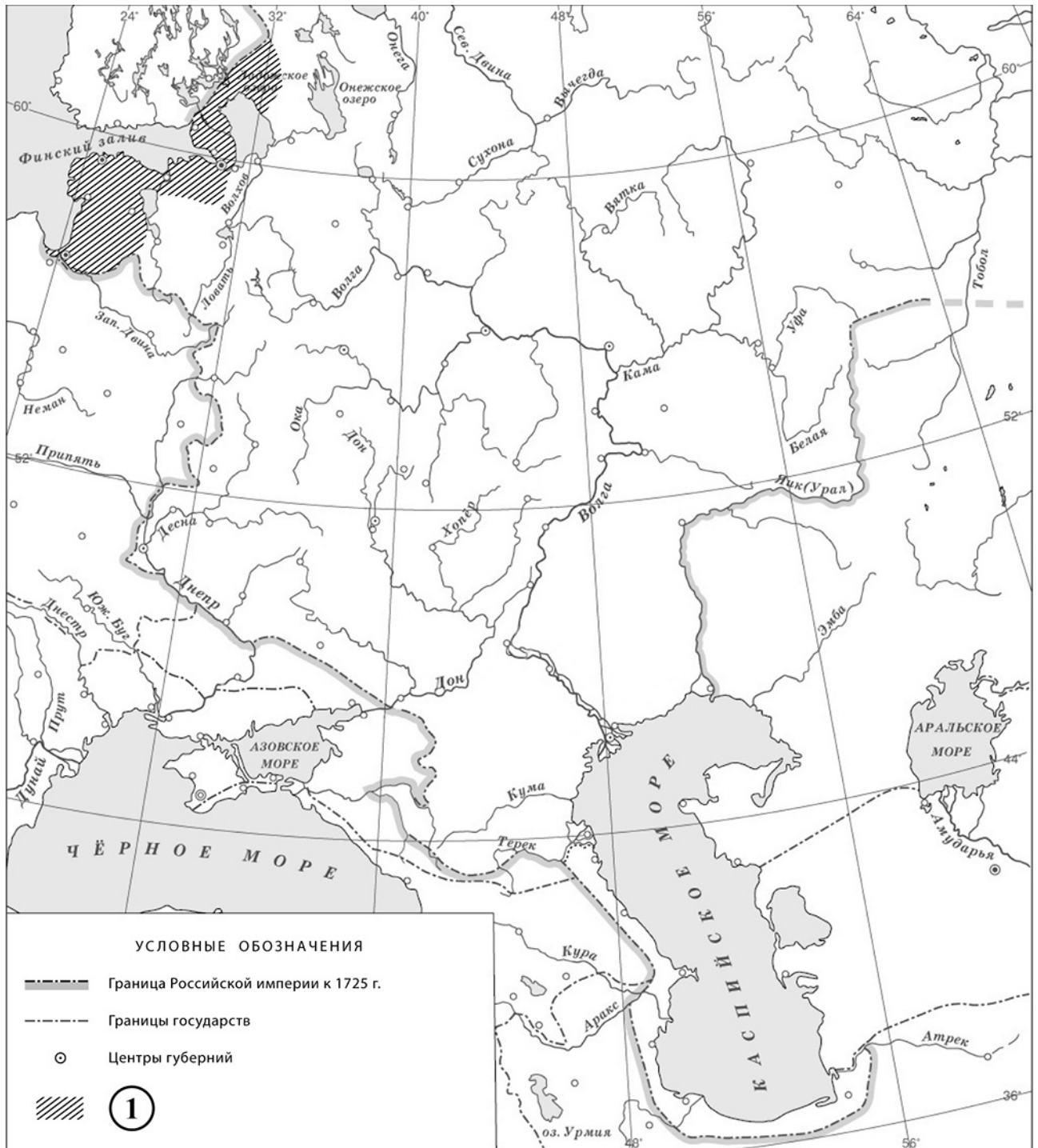


Назовите монарха, в период правления которого была выпущена данная монета.

--

 Ответ: \_\_\_\_\_

**Рассмотрите карту и выполните задания 3 и 4.**



**3** Укажите название мирного договора, по которому к России были присоединены территории, обозначенные в легенде карты цифрой «1».

Ответ: \_\_\_\_\_

**4** Подпишите на карте города Санкт-Петербург и Астрахань.

\_\_\_\_\_

**Прочтите отрывок из исторического источника и выполните задания 5 и 6.**

«Когда императрица сходила с лошади у Летнего дворца по возвращении из Петергофа, давка была так велика, что её вели под руки, и это представляло прекрасную картину. Это имело вид, как будто она была вынуждена сделать всё то, что только что произошло, что в действительности и было справедливо, потому что если бы она отказалась, то подвергалась бы опасности разделить участь Петра III; таким образом, не было выбора...

Для поездки в Ропшу с Петром III императрица назначила капитана Алексея Орлова, князя Бярятинского и трёх других офицеров. Они выбрали 100 человек из различных гвардейских полков. Данные им приказания гласили сделать жизнь этому государю столь приятной, насколько они могли, и доставлять ему для его забавы всё, чего он ни пожелает».

5

Назовите императрицу, о которой идёт речь.

Ответ: \_\_\_\_\_

Какова дальнейшая судьба упомянутого в отрывке императора?

Ответ: \_\_\_\_\_

\_\_\_\_\_

6

Почему, согласно данному отрывку, императрицу вели под руки, когда она сошла с лошади? Куда, согласно данному отрывку, отвезли Петра III?

Ответ: \_\_\_\_\_

\_\_\_\_\_



\_\_\_\_\_

\_\_\_\_\_

\_\_\_\_\_

\_\_\_\_\_

*Ознакомьтесь с приведённым перечнем и изображениями памятников культуры и выполните задания 7 и 8.*

- 1) «Юности честное зерцало»
- 2) «Сказание об осаде Троице-Сергиева монастыря от поляков и литвы и о бывших потом в России мятежах»
- 3) «Задонщина»
- 4) 
- 5) 

7) Какие из приведённых памятников культуры были созданы в XVIII в.? Выберите два памятника культуры и запишите в таблицу цифры, под которыми они указаны.

Ответ: 

--	--

8) В создании какого из приведённых памятников культуры принимал участие Д. Трезини? Укажите порядковый номер этого памятника культуры.

Ответ: 

--

9) Какой из приведённых исторических фактов можно использовать для аргументации следующей точки зрения: «Анна Иоанновна нуждалась в помощи в управлении страной»? Укажите порядковый номер этого факта в списке.

- 1) издание жалованной грамоты дворянству
- 2) учреждение Верховного тайного совета
- 3) учреждение Кабинета министров

Ответ: 

--

Объясните, как с помощью выбранного Вами факта можно аргументировать данную точку зрения.

Ответ: \_\_\_\_\_

\_\_\_\_\_

\_\_\_\_\_

\_\_\_\_\_

10

Рассмотрите изображение и выполните задание.



Укажите с точностью до половины года период, когда произошло событие, изображённое на марке. Почему война, которой посвящена данная марка, является важнейшей страницей в истории нашей страны?

□

Ответ: \_\_\_\_\_

\_\_\_\_\_

\_\_\_\_\_

\_\_\_\_\_

\_\_\_\_\_

\_\_\_\_\_

\_\_\_\_\_

\_\_\_\_\_

**Система оценивания проверочной работы**

Каждое из заданий 1–3, 7 и 8 считается выполненным верно, если правильно указаны цифра, последовательность цифр или слово (словосочетание).

Полный правильный ответ на каждое из заданий 1–3 и 8 оценивается 1 баллом; неполный, неверный ответ или его отсутствие – 0 баллов.

За верный ответ на задание 7 выставляется 2 балла. Если в ответе допущена одна ошибка (в том числе написана лишняя цифра или не написана необходимая цифра), выставляется 1 балл; если допущено две или более ошибки – 0 баллов.

<b>Номер задания</b>	<b>Правильный ответ</b>
1	321
2	Екатерина I
3	Ништадтский мир
7	14
8	4

4

Содержание верного ответа и указания по оцениванию	Баллы
<p>УСЛОВНЫЕ ОБОЗНАЧЕНИЯ</p> <ul style="list-style-type: none"> <li>--- Граница Российской империи к 1725 г.</li> <li>..... Границы государств</li> <li>○ Центры губерний</li> <li>①</li> </ul>	
<p>В обозначении объектов на контурной карте допустимы небольшие отклонения, связанные с недостаточной аккуратностью участников ВПр</p>	
<p>Правильно подписаны города Санкт-Петербург и Астрахань</p>	2
<p>Правильно подписан только Санкт-Петербург. ИЛИ Правильно подписана только Астрахань</p>	1
<p>Оба объекта подписаны неправильно. ИЛИ Задание не выполнено</p>	0
<p>Максимальный балл</p>	2

5	<b>Содержание верного ответа и указания по оцениванию</b> (допускаются иные формулировки ответа, не искажающие его смысла)	<b>Баллы</b>
	Правильный ответ должен содержать следующие <u>элементы</u> : 1) <u>императрица</u> – Екатерина II; 2) <u>ответ на вопрос</u> – через несколько дней император был убит охранявшими его гвардейцами	
	Правильно названа императрица и дан ответ на вопрос	2
	Правильно названа только императрица. ИЛИ Правильно дан только ответ на вопрос	1
	Ответ неправильный	0
	<i>Максимальный балл</i>	2

6	<b>Содержание верного ответа и указания по оцениванию</b> (допускаются иные формулировки ответа, не искажающие его смысла)	<b>Баллы</b>
	Правильный ответ должен содержать следующие <u>элементы</u> : 1) <u>ответ на первый вопрос</u> : потому что была большая давка 2) <u>ответ на второй вопрос</u> : в Ропшу	
	Правильно даны ответы на два вопроса	2
	Правильно дан ответ на один вопрос	1
	Ответ неправильный	0
	<i>Максимальный балл</i>	2

9	<b>Содержание верного ответа и указания по оцениванию</b> (допускаются иные формулировки ответа, не искажающие его смысла)	<b>Баллы</b>
	Правильный ответ должен содержать следующие элементы: 1) <u>порядковый номер факта</u> – 3; (При оценивании в качестве правильного принимается также указание факта, а не его номера.) 2) <u>объяснение</u> , например: Кабинет министров был создан для помощи императрице в управлении страной. (Может быть приведено иное, близкое по смыслу объяснение.)	
	Правильно указан порядковый номер факта и приведено объяснение	3
	Правильно указан порядковый номер факта. Объяснение содержит неточность(-и), существенно не искажающую(-ие) содержание ответа. ИЛИ Правильно указан порядковый номер факта. Дано неполное объяснение, в котором пропущено(-ы) положение(-я), которое(-ые) важно(-ы) для объяснения	2
	Правильно указан порядковый номер факта. Объяснение сформулировано на уровне обыденных представлений, без привлечения исторических фактов. ИЛИ Правильно указан только порядковый номер факта. Вместо объяснения приведены рассуждения общего характера, не соответствующие требованию задания. ИЛИ Правильно указан только порядковый номер факта	1
	Порядковый номер факта указан неправильно / не указан независимо от наличия объяснения. ИЛИ Задание не выполнено	0
	<i>Максимальный балл</i>	3

10

<b>Содержание верного ответа и указания по оцениванию</b> (допускаются иные формулировки ответа, не искажающие его смысла)	<b>Баллы</b>
<p>Правильный ответ должен содержать следующие <u>элементы</u>:</p> <p>1) <u>период</u> – первая половина 1945 г.;</p> <p>2) <u>ответ на вопрос</u>, например: в Великой Отечественной войне была добыта победа над гитлеровской Германией, результатом которой стало избавление всех народов нашей страны от смертельной опасности. Главную роль в разгроме Германии сыграл СССР. Решающая роль нашей страны в победе над врагом способствовала повышению её международного авторитета. Победа досталась ценою огромных потерь, которые коснулись каждой советской семьи.</p> <p>Ответ на вопрос может быть дан в иных, близких по смыслу формулировках</p>	
Правильно указан период, дан ответ на вопрос	3
<p>Правильно указан период, ответ на вопрос содержит неточность(-и), существенно не искажающую(-ие) смысла ответа.</p> <p>ИЛИ Правильно указан период, ответ на вопрос содержит не основные, а только второстепенные (несущественные) связи, не в полной мере раскрывающие суть ответа на задание</p>	2
<p>Правильно указан период, ответ на вопрос дан неправильно / не дан.</p> <p>ИЛИ Период указан неправильно / не указан, правильно дан ответ на вопрос</p>	1
<p>Ответ неправильный.</p> <p>ИЛИ Приведены рассуждения общего характера, не соответствующие требованию задания</p>	0
<i>Максимальный балл</i>	3

### Система оценивания выполнения всей работы

Максимальный первичный балл за выполнение работы – 18.

*Рекомендации по переводу первичных баллов в отметки по пятибалльной шкале*

<b>Отметка по пятибалльной шкале</b>	<b>«2»</b>	<b>«3»</b>	<b>«4»</b>	<b>«5»</b>
Первичные баллы	0–4	5–9	10–14	15–18