

--	--	--	--

--	--

**Проверочная работа  
по ИСТОРИИ**

**8 класс**

**Вариант 1**

**Инструкция по выполнению работы**

На выполнение проверочной работы по истории отводится один урок (не более 45 минут). Работа включает в себя 9 заданий по истории России XVIII в., истории зарубежных стран (история Нового времени) и 1 задание, посвящённое памяти народа России о Великой Отечественной войне или важнейшим событиям истории нашей страны в XXI в.

Ответы на задания запишите в поля ответов в тексте работы. В случае записи неверного ответа зачеркните его и запишите рядом новый.

При выполнении работы не разрешается пользоваться учебниками, рабочими тетрадями, справочным материалом.

При необходимости можно пользоваться черновиком. Записи в черновике проверяться и оцениваться не будут.

Советуем выполнять задания в том порядке, в котором они даны. В целях экономии времени пропускайте задание, которое не удаётся выполнить сразу, и переходите к следующему. Если после выполнения всей работы у Вас останется время, то Вы сможете вернуться к пропущенным заданиям.

***Желаем успеха!***

Таблица для внесения баллов участника

Номер задания	1	2	3	4	5	6	7	8	9	10	Сумма баллов за работу	Отметка за работу
Баллы	<input type="text"/>	<input type="text"/>	<input type="text"/>	<input type="text"/>	<input type="text"/>	<input type="text"/>	<input type="text"/>	<input type="text"/>	<input type="text"/>	<input type="text"/>	<input type="text"/>	<input type="text"/>

1) Расположите в хронологической последовательности исторические события. Запишите цифры, которыми обозначены исторические события, в правильной последовательности в таблицу.

- 1) упразднение патриаршества в России
- 2) принятие Учредительным собранием Франции Декларации прав человека и гражданина
- 3) сражение при Гросс-Егерсдорфе

--	--	--	--

 Ответ: 

--	--	--

2) Рассмотрите изображения.

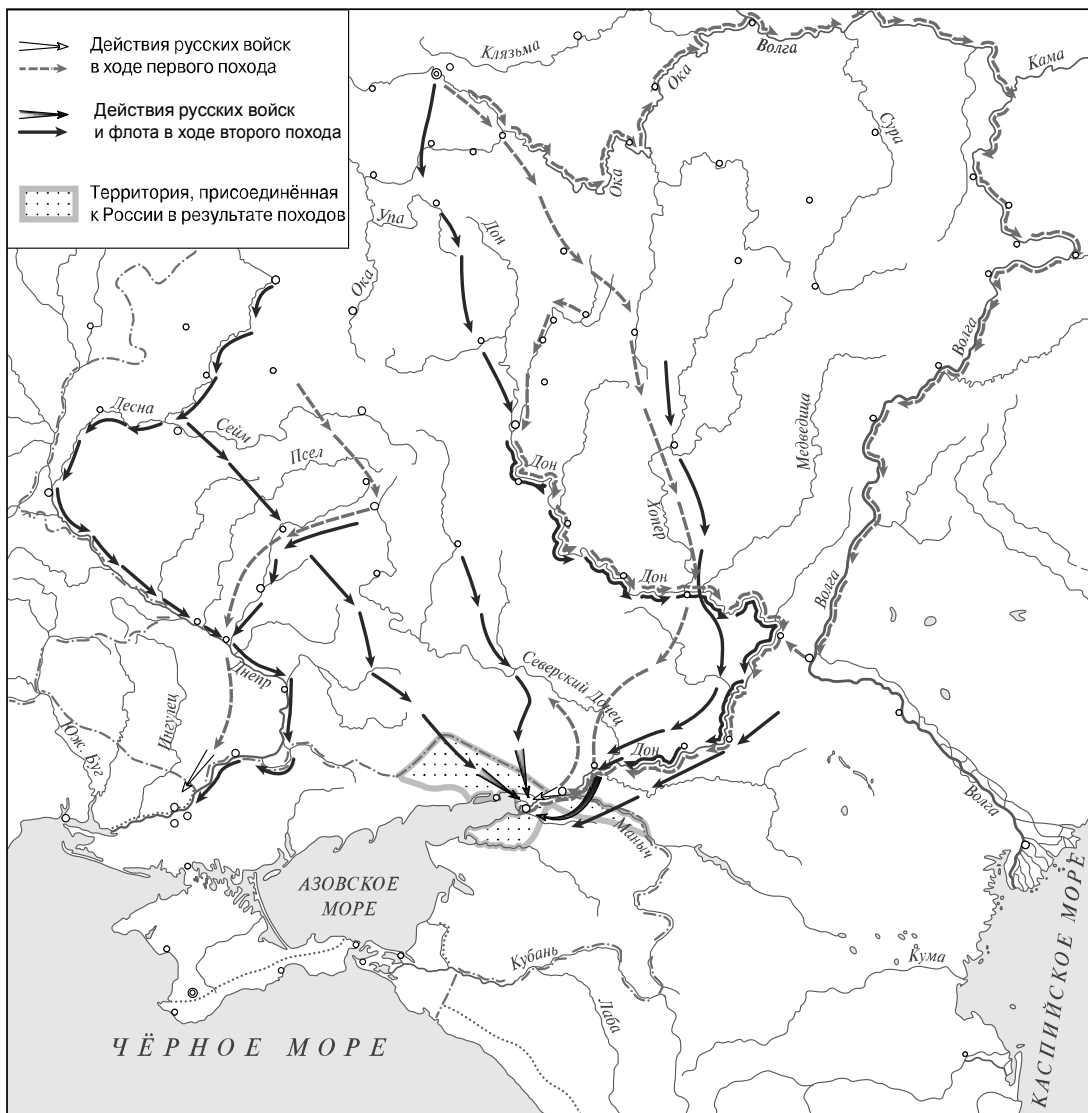


Назовите изображённого на монете монарха.

--

 Ответ: \_\_\_\_\_

**Рассмотрите карту и выполните задания 3 и 4.**



**3** Укажите общее название походов, перемещения русских войск во время которых отражены на карте.

Ответ: \_\_\_\_\_

**4** Подпишите на карте города Москву и Воронеж.



**Прочтите отрывок из исторического источника и выполните задания 5 и 6.**

«Как только они вошли в зал, император пожаловался на головную боль. Сначала причиной сочли воздействие холода, но после нескольких повторных жалоб призвали его доктора, который сказал, что император должен лечь в постель, так как он очень болен. Поэтому все разошлись. Княжна весь день была задумчива и осталась такою же при этом случае. Она попрощалась со своими знакомыми, как и принимала их, с серьёзной любезностью (если можно так выразиться). На следующий день у императора появилась оспа, а 19-го, в день, назначенный для его женитьбы, около трёх часов утра он умер. Я полагаю, большинство людей в городе бодрствовали в ту ночь; мы по крайней мере не спали, поскольку ещё с вечера стало известно, как он плох, и никто не мог сказать, каковы будут последствия, так как были возможны большие разногласия относительно престолонаследия.

Около девяти утра императрицей была провозглашена вдовствующая герцогиня Курляндская».

5 Назовите императора, о котором идёт речь.

Ответ: \_\_\_\_\_

Укажите название высшего совещательного государственного учреждения Российской империи, существовавшего в период правления этого императора.

Ответ: \_\_\_\_\_

\_\_\_\_\_

\_\_\_\_\_

6 Что, согласно данному отрывку, было назначено на день, когда умер император? На какое возможное последствие смерти императора обращает внимание автор?

Ответ: \_\_\_\_\_

\_\_\_\_\_

\_\_\_\_\_


\_\_\_\_\_

\_\_\_\_\_

\_\_\_\_\_

*Ознакомьтесь с приведённым перечнем и изображениями памятников культуры и выполните задания 7 и 8.*

- 1) «История о великом князе Московском»
- 2) «Юности честное зерцало»
- 3) «Задонщина»
- 4)



5)



7) Какие из приведённых памятников культуры были созданы в XVIII в.? Выберите два памятника культуры и запишите в таблицу цифры, под которыми они указаны.

Ответ: 

--	--

8) Какой из приведённых памятников был создан по указу императрицы Елизаветы Петровны? Укажите порядковый номер этого памятника культуры.

Ответ: 

--

9) Какой из приведённых исторических фактов можно использовать для аргументации следующей точки зрения: «В период правления Петра I свобода крестьян была ещё более ограничена по сравнению с предшествующим периодом»? Укажите порядковый номер этого факта в списке.

- 1) издание жалованной грамоты дворянству
- 2) введение паспортной системы
- 3) издание указа, по которому крестьяне потеряли право жаловаться монарху на своих помещиков

Ответ: 

--

Объясните, как с помощью выбранного Вами факта можно аргументировать данную точку зрения.

Ответ: \_\_\_\_\_  
 \_\_\_\_\_  
 \_\_\_\_\_

10

Рассмотрите изображение и выполните задание.



Укажите количество десятилетий, прошедших со дня начала войны, в ходе которой произошла указанная на марке битва, до выпуска данной марки. Почему война, в ходе которой состоялась эта битва, является важнейшей страницей в истории нашей страны?



Ответ: \_\_\_\_\_

\_\_\_\_\_

\_\_\_\_\_

\_\_\_\_\_

\_\_\_\_\_

\_\_\_\_\_

\_\_\_\_\_

\_\_\_\_\_

\_\_\_\_\_

**Система оценивания проверочной работы**

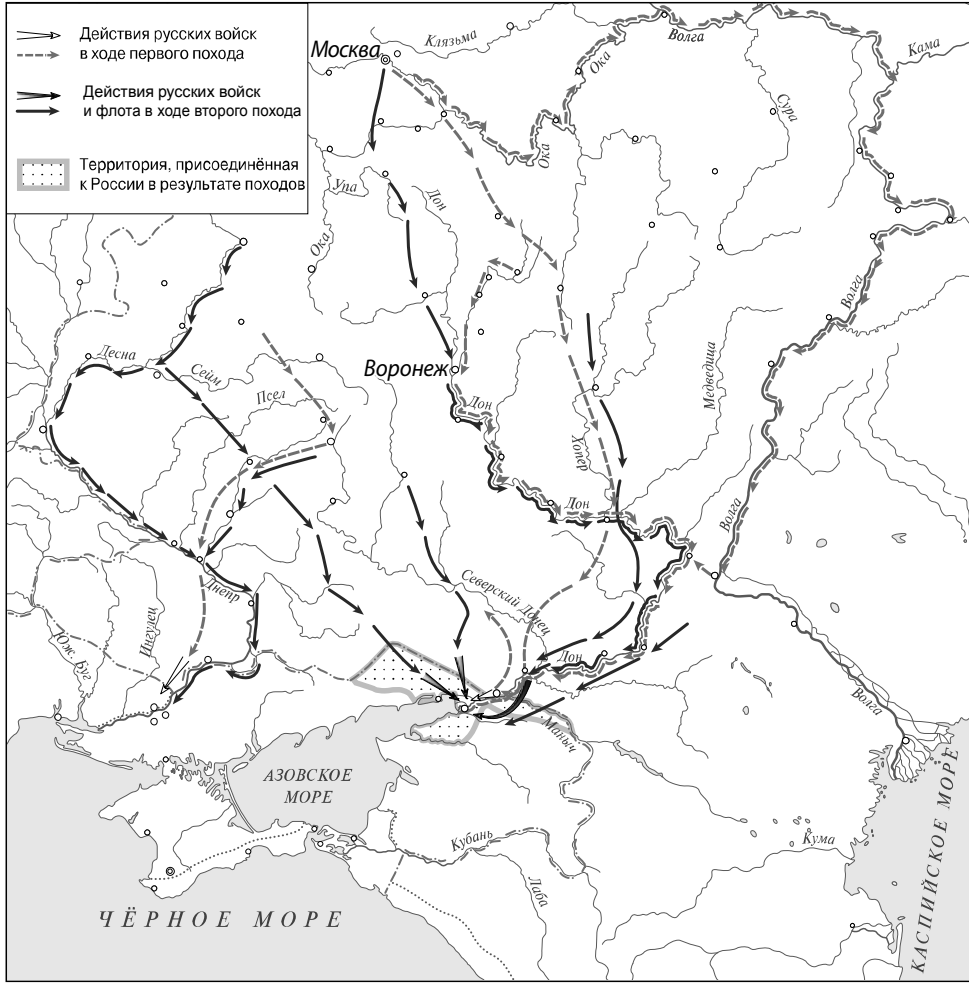
Каждое из заданий 1–3, 7 и 8 считается выполненным верно, если правильно указаны цифра, последовательность цифр или слово (словосочетание).

Полный правильный ответ на каждое из заданий 1–3 и 8 оценивается 1 баллом; неполный, неверный ответ или его отсутствие – 0 баллов.

За верный ответ на задание 7 выставляется 2 балла. Если в ответе допущена одна ошибка (в том числе написана лишняя цифра или не написана необходимая цифра), выставляется 1 балл; если допущено две или более ошибки – 0 баллов.

<b>Номер задания</b>	<b>Правильный ответ</b>
1	132
2	Пётр Первый
3	Азовские
7	24
8	4

4

Содержание верного ответа и указания по оцениванию	Баллы
 <p>В обозначении объектов на контурной карте допустимы небольшие отклонения, связанные с недостаточной аккуратностью участников ВПр</p>	
Правильно подписаны города Москва и Воронеж	2
Правильно подписана только Москва. ИЛИ Правильно подписан только Воронеж	1
Оба объекта подписаны неправильно. ИЛИ Задание не выполнено	0
<i>Максимальный балл</i>	2

5

Содержание верного ответа и указания по оцениванию (допускаются иные формулировки ответа, не искажающие его смысла)	Баллы
Правильный ответ должен содержать следующие <u>элементы</u> : 1) <u>император</u> – Пётр II; 2) <u>высшее совещательное государственное учреждение</u> – Верховный тайный совет	
Правильно назван император и указано название высшего совещательного государственного учреждения	2
Правильно назван только император. ИЛИ Правильно указано только название высшего совещательного государственного учреждения	1
Ответ неправильный	0
<i>Максимальный балл</i>	2

6

<b>Содержание верного ответа и указания по оцениванию</b> (допускаются иные формулировки ответа, не искажающие его смысла)	<b>Баллы</b>
Правильный ответ должен содержать следующие <u>элементы</u> : 1) <u>ответ на первый вопрос</u> : «его женитьба»; 2) <u>ответ на второй вопрос</u> : на «большие разногласия относительно престолонаследия»	
Правильно даны ответы на два вопроса	2
Правильно дан ответ на один вопрос	1
Ответ неправильный	0
<i>Максимальный балл</i>	2

9

<b>Содержание верного ответа и указания по оцениванию</b> (допускаются иные формулировки ответа, не искажающие его смысла)	<b>Баллы</b>
Правильный ответ должен содержать следующие элементы: 1) <u>порядковый номер факта</u> – 2; ( <i>При оценивании в качестве правильного принимается также указание факта, а не его номера.</i> ) 2) <u>объяснение</u> , например: введение паспортной системы означало, что крестьянин, который уходил на заработки дальше чем на 30 вёрст от места жительства, должен был иметь письменное разрешение от помещика (с указанием срока возвращения). Это усилило контроль над крестьянами со стороны государства. ( <i>Может быть приведено иное, близкое по смыслу объяснение.</i> )	
Правильно указан порядковый номер факта и приведено объяснение	3
Правильно указан порядковый номер факта. Объяснение содержит неточность(-и), существенно не искажающую(-ие) содержание ответа. ИЛИ Правильно указан порядковый номер факта. Дано неполное объяснение, в котором пропущено(-ы) положение(-я), которое(-ые) важно(-ы) для объяснения	2
Правильно указан порядковый номер факта. Объяснение сформулировано на уровне обыденных представлений, без привлечения исторических фактов. ИЛИ Правильно указан только порядковый номер факта. Вместо объяснения приведены рассуждения общего характера, не соответствующие требованию задания. ИЛИ Правильно указан только порядковый номер факта	1
Порядковый номер факта указан неправильно / не указан независимо от наличия объяснения. ИЛИ Задание не выполнено	0
<i>Максимальный балл</i>	3

10

<b>Содержание верного ответа и указания по оцениванию</b> (допускаются иные формулировки ответа, не искажающие его смысла)	<b>Баллы</b>
<p>Правильный ответ должен содержать следующие <u>элементы</u>:</p> <p>1) <u>количество десятилетий</u> – 3;</p> <p>2) <u>ответ на вопрос</u>, например: в Великой Отечественной войне была добыта победа над гитлеровской Германией, результатом которой стало избавление всех народов нашей страны от смертельной опасности. Главную роль в разгроме Германии сыграл СССР. Решающая роль нашей страны в победе над врагом способствовала повышению её международного авторитета. Победа досталась ценою огромных потерь, которые коснулись каждой советской семьи.</p> <p>Ответ на вопрос может быть дан в иных, близких по смыслу формулировках</p>	
Правильно указано количество десятилетий, дан ответ на вопрос	3
<p>Правильно указано количество десятилетий, ответ на вопрос содержит неточность(-и), существенно не искажающую(-ие) смысла ответа.</p> <p>ИЛИ Правильно указано количество десятилетий, ответ на вопрос содержит не основные, а только второстепенные (несущественные) связи, не в полной мере раскрывающие суть ответа на задание</p>	2
<p>Правильно указано количество десятилетий, ответ на вопрос дан неправильно / не дан.</p> <p>ИЛИ Количество десятилетий указано неправильно / не указано, правильно дан ответ на вопрос</p>	1
<p>Ответ неправильный.</p> <p>ИЛИ Приведены рассуждения общего характера, не соответствующие требованию задания</p>	0
<i>Максимальный балл</i>	3

### Система оценивания выполнения всей работы

Максимальный первичный балл за выполнение работы – 18.

*Рекомендации по переводу первичных баллов в отметки по пятибалльной шкале*

<b>Отметка по пятибалльной шкале</b>	<b>«2»</b>	<b>«3»</b>	<b>«4»</b>	<b>«5»</b>
Первичные баллы	0–4	5–9	10–14	15–18