


ВСЕРОССИЙСКАЯ ОЛИМПИАДА ШКОЛЬНИКОВ
ГЕОГРАФИЯ. 2026 г.
ПРИГЛАСИТЕЛЬНЫЙ ЭТАП. 4 КЛАСС

Максимальный балл за работу – 70.

Тестовый тур
(задания 1–8)

1. Какая из планет Солнечной системы, изображённых на рисунках, относится к планетам земной группы и носит имя бога войны в римской мифологии?



2. Какие из перечисленных стран мира расположены в двух частях света?



- А) Германия
- Б) Россия
- В) Казахстан
- Г) Турция
- Д) Бразилия

3. Установите соответствие между иллюстрациями сказочных персонажей и контурами стран мира, в которых жили эти сказочные герои.

ИЛЛЮСТРАЦИИ СКАЗОЧНЫХ ПЕРСОНАЖЕЙ

А)



Б)



В)



Г)



КОНТУРЫ СТРАН МИРА

1)



2)



3)



4)



4. Какой из городов расположен не в Северном полушарии (выберите из списка)?

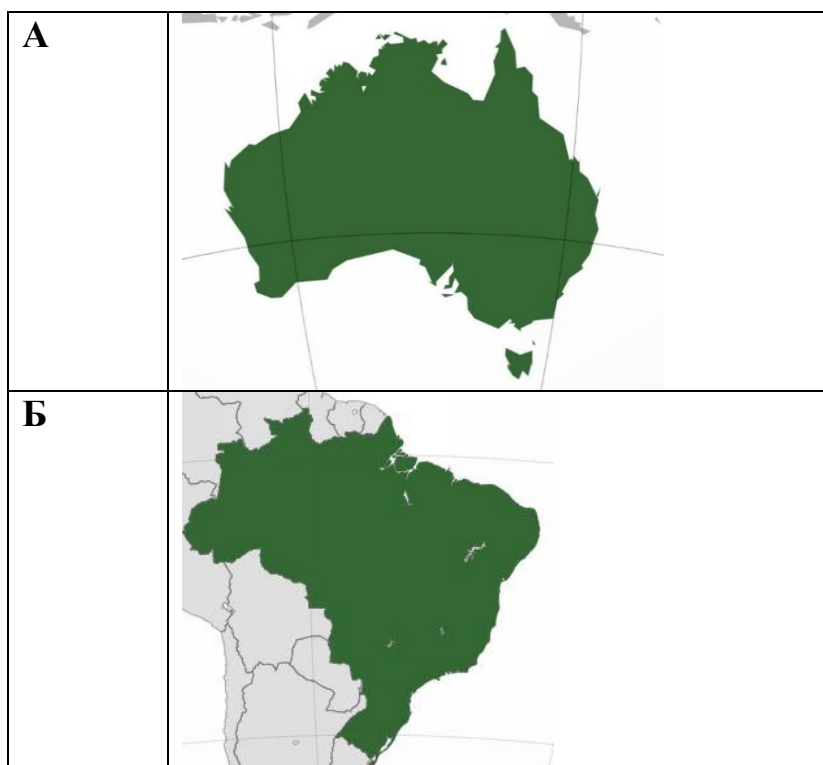
- А) Париж
- Б) Москва
- В) Претория
- Г) Лондон
- Д) Вашингтон
- Е) Токио
- Ж) Пекин

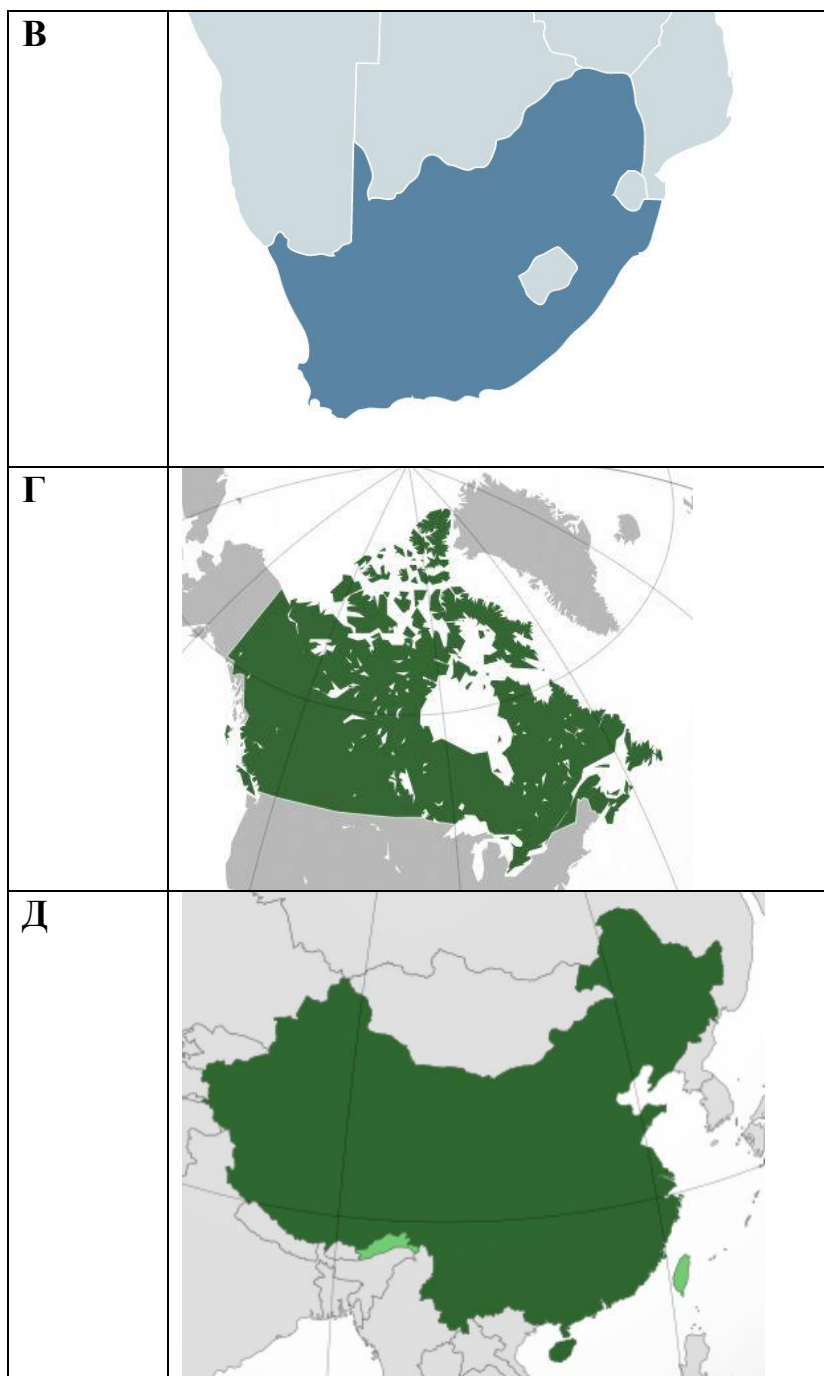
5. Выберите океан, где средняя температура воды в течение года самая высокая.

- А) Тихий океан
- Б) Атлантический океан
- В) Северный Ледовитый океан
- Г) Индийский океан

6. По изображению контура государства выберите из перечня фамилию путешественника, который открывал или исследовал территорию этого государства.

Путешественники: Абель Тасман, Лейф Эрикссон, Марко Поло, Бартоломеу Диаш, Педру Кабрал





7. Степь и тундра – самые большие по площади безлесные зоны России. Эти природные зоны уступают по разнообразию видов живых организмов лесным зонам, но биологическое разнообразие в тундрах и степях больше, чем в пустынях.

Распределите живые организмы на две группы: живые организмы тундры и живые организмы степи.

Живые организмы тундры

ЖИВЫЕ ОРГАНИЗМЫ

1)



ЛЕММИНГ

2)



ПОЛЫНЬ

3)



карликовая берёза

4)



дрофа

5)



ягель

6)



сурок-байбак

8.

Живые организмы степи

1)



ЛЕММИНГ

2)



ПОЛЫНЬ

3)



карликовая берёза

4)



дрофа

5)



ягель

6)



сурок-байбак

Задача 1

Определите пропущенные в тексте слова, словосочетания или числа.

Природные зоны – это территории, различающиеся климатом, ____(А)___, животным миром и другими компонентами природы. Смена природных зон происходит ____(Б)___ . Территория России расположена в нескольких природных зонах. На островах ____(В)___ сформировались ____(Г)___ . Их называют «царством холода». Южнее в ____(Д)___ местные жители пасут ____(Е)___ . Наибольшую площадь занимает ____(Ж)___ , там ведётся заготовка древесины. Наши предки использовали ____(З)___ как основной строительный материал. Наиболее плодородные почвы – ____(И)___ характерны для ____(К)___ . Поэтому эти территории практически полностью распаханы. На побережье ____(Л)___ распространены субтропики, где даже зимой температура очень редко опускается ниже ____(М)___ градусов.

Список слов, словосочетаний и чисел

1) рельеф	2) растительность	3) от уровня моря
4) от экватора к полюсам	5) с запада на восток	6) тайга
7) лесостепи и степи	8) тундра	9) арктические пустыни
10) субтропики	11) Северный Ледовитый океан	12) Тихий океан
13) –5	14) 0	15) +5
16) Чёрное море	17) Балтийское море	18) дерево
19) травы	20) смешанные леса	21) широколиственные леса
22) пустыни и полупустыни	23) чернозёмы	24) дерново-подзолистые почвы
25) северный олень	26) овцебык	27) песок

Задача 2

География – это наука о пространстве, поэтому любители географии и участники географических олимпиад должны хорошо знать карту. В начальной школе на уроках окружающего мира вы познакомились с картами и работали с атласом. Мы предлагаем вам несколько заданий по работе со школьным атласом.

Для начала определите, какие географические объекты скрываются за описаниями. Все вопросы относятся к теме «Горы и вулканы Земли».

1. Самый южный действующий вулкан планеты.
2. Высочайшая горная вершина материка, на котором протекает самая полноводная река мира.
3. Высочайшая горная вершина нашей планеты.
4. Высочайшая горная вершина материка, на котором обитают сумчатые животные, например, кенгуру и коала.
5. Высочайшая горная вершина третьего по площади материка.
6. Высочайшая горная вершина материка, по территории которого протекают такие известные реки, как Конго и Замбези.
7. Это высочайшая горная вершина самой большой страны на планете.
8. Этот вулкан расположен на острове в Тихом океане. Если измерить высоту этой горы от самого дна, то она возглавит список самых высоких гор на Земле.
9. Извержение этого вулкана, расположенного в одной из европейских стран, изображено на картине Карла Брюллова «Последний день Помпеи».
10. Этот вулкан расположен на острове в восточной части Индийского океана. Его извержение в 1883 году стало одним из самых мощных в истории человечества. В результате землетрясения и цунами, вызванного этим извержением, погибли более 36 тыс. человек.

Варианты ответов:

Аконкагуа
Везувий
Мак-Кинли/Денали
Килиманджаро
Косцюшко
Кракатау
Мауна-Кеа
Джомолунгма/Эверест
Эльбрус
Эребус

Задача 3

Определите океан планеты по текстовому описанию, выбирая подходящие по смыслу из выпадающего списка.

Это третий по площади океан мира, назван по названию государства. В нём расположено одно из «цветных» морей мира, отличающееся самой высокой солёностью поверхностных вод. Частью океана является залив, в котором зарегистрирована самая высокая температура поверхностных вод. И море, и залив омывают побережья самого большого по площади полуострова Земли.

Определите


- название океана (варианты ответов: Тихий, Атлантический, Индийский, Северный Ледовитый)
- самое солёное море (Черное, Красное, Мертвое, Средиземное)
- самый тёплый залив (Персидский, Суэцкий, Бенгальский)
- самый большой полуостров (Аравийский, Балканский, Пиренейский, Индостан)

ВСЕРОССИЙСКАЯ ОЛИМПИАДА ШКОЛЬНИКОВ
ГЕОГРАФИЯ. 2026 г.
ПРИГЛАСИТЕЛЬНЫЙ ЭТАП. 4 КЛАСС
ОТВЕТЫ И КРИТЕРИИ ОЦЕНИВАНИЯ

Максимальный балл за работу – 70.

Тестовый тур
(задания 1–8)

1. Какая из планет Солнечной системы, изображённых на рисунках, относится к планетам земной группы и носит имя бога войны в римской мифологии?



Ответ: Б (1 балл)

2. Какие из перечисленных стран мира расположены в двух частях света?



- А) Германия
- Б) Россия
- В) Казахстан
- Г) Турция
- Д) Бразилия

Ответ: БВГ (2 балла)

3. Установите соответствие между иллюстрациями сказочных персонажей и контурами стран мира, в которых жили эти сказочные герои.

ИЛЛЮСТРАЦИИ СКАЗОЧНЫХ
ПЕРСОНАЖЕЙ

А)



Б)



В)



Г)



КОНТУРЫ СТРАН МИРА

1)



2)



3)



4)



Ответ:

А	Б	В	Г
3	4	2	1

(Каждое верное соответствие 1 балл, итого 4 балла.)

4. Какой из городов расположен не в Северном полушарии (выберите из списка)?

- А) Париж
- Б) Москва
- В) Претория
- Г) Лондон
- Д) Вашингтон
- Е) Токио
- Ж) Пекин

Ответ: В – 1 балл.

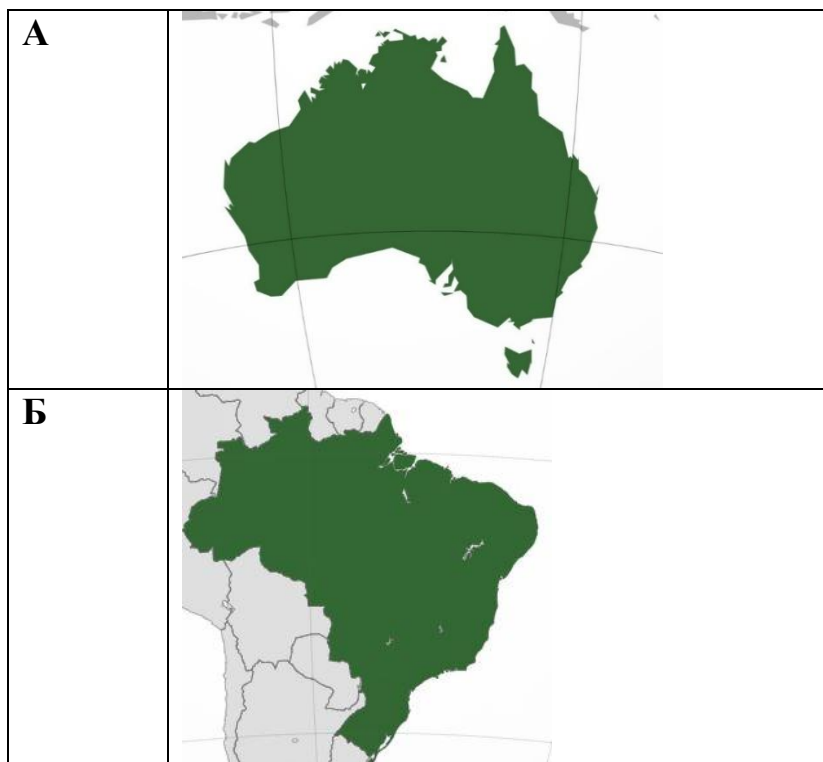
5. Выберите океан, где средняя температура воды в течение года самая высокая.

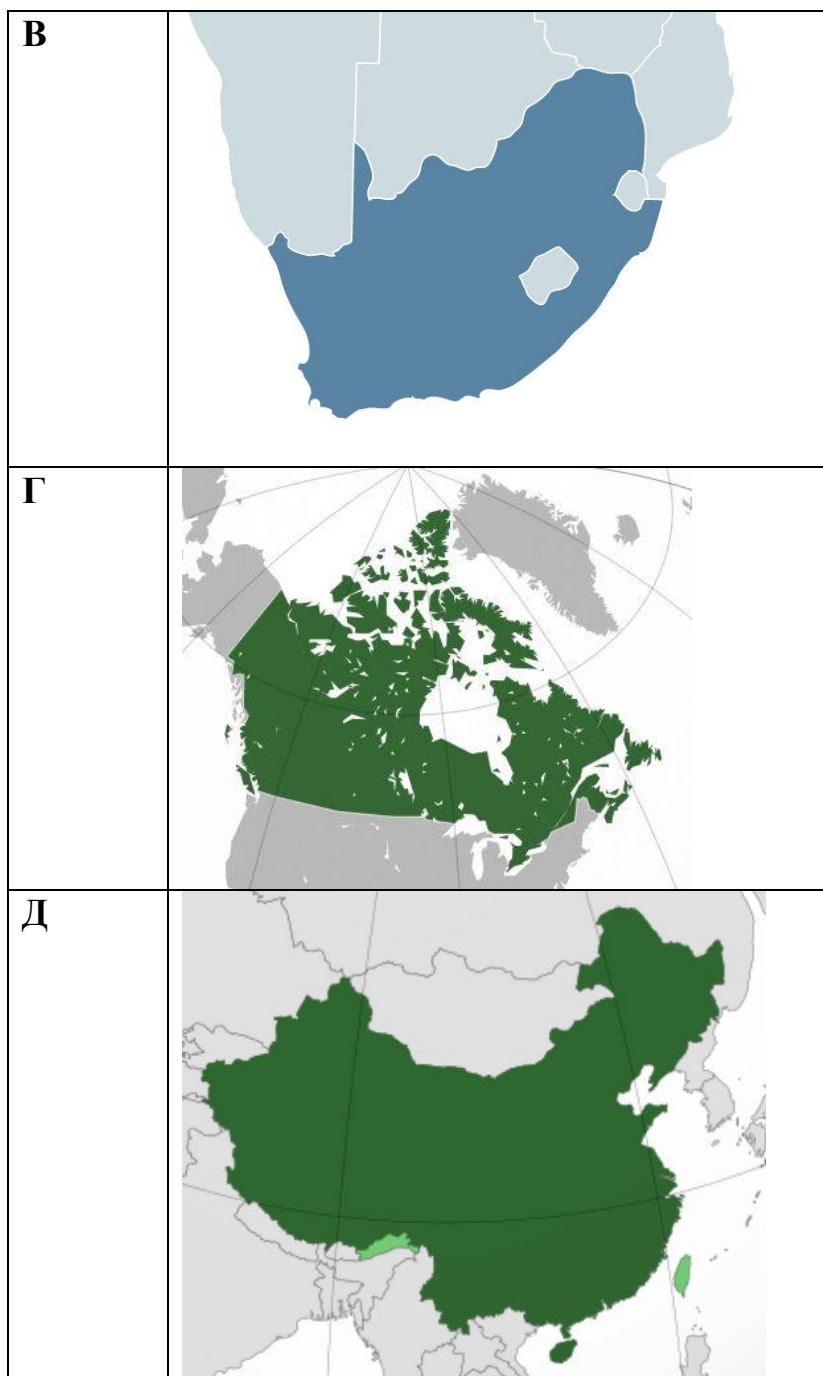
- А) Тихий океан
- Б) Атлантический океан
- В) Северный Ледовитый океан
- Г) Индийский океан

Ответ: А (1 балл)

6. По изображению контура государства выберите из перечня фамилию путешественника, который открывал или исследовал территорию этого государства.

Путешественники: Абель Тасман, Лейф Эрикссон, Марко Поло, Бартоломеу Диаш, Педру Кабрал





Ответ:

№	Страна	Путешественник <i>по 3 балла</i>
А	<i>Австралия /Австралийский Союз</i>	Абель Тасман
Б	<i>Бразилия</i>	Педру Кабрал
В	<i>ЮАР / Южно-Африканская республика</i>	Бартоломеу Диаш
Г	<i>Канада</i>	Лейф Эрикссон
Д	<i>Китай</i>	Марко Поло

(За каждый правильный ответ – 3 балла, максимум за задание – 15 баллов.)

7. Степь и тундра – самые большие по площади безлесные зоны России. Эти природные зоны уступают по разнообразию видов живых организмов лесным зонам, но биологическое разнообразие в тундрах и степях больше, чем в пустынях.

Распределите живые организмы на две группы: живые организмы тундры и живые организмы степи.

Живые организмы тундры

ЖИВЫЕ ОРГАНИЗМЫ

1)



ЛЕММИНГ

2)



ПОЛЫНЬ

3)



карликовая берёза

4)



дрофа

5)



ягель

6)



сурок-байбак

Ответ: 135

(1 балл за каждый верный ответ, итого 3 балла.)

8.

Живые организмы степи

1)



ЛЕММИНГ

2)



ПОЛЫНЬ

3)



карликовая берёза

4)



дрофа

5)



ягель

6)



сурок-байбак

Ответ: 246

(1 балл за каждый верный ответ, итого 3 балла.)

Задача 1

Определите пропущенные в тексте слова, словосочетания или числа.

Природные зоны – это территории, различающиеся климатом, ___(А)___, животным миром и другими компонентами природы. Смена природных зон происходит ___(Б)___ . Территория России расположена в нескольких природных зонах. На островах ___(В)___ сформировались ___(Г)___ . Их называют «царством холода». Южнее в ___(Д)___ местные жители пасут ___(Е)___ . Наибольшую площадь занимает ___(Ж)___ , там ведётся заготовка древесины. Наши предки использовали ___(З)___ как основной строительный материал. Наиболее плодородные почвы – ___(И)___ характерны для ___(К)___ . Поэтому эти территории практически полностью распаханы. На побережье ___(Л)___ распространены субтропики, где даже зимой температура очень редко опускается ниже ___(М)___ градусов.

Список слов, словосочетаний и чисел

1) рельеф	2) растительность	3) от уровня моря
4) от экватора к полюсам	5) с запада на восток	6) тайга
7) лесостепи и степи	8) тундра	9) арктические пустыни
10) субтропики	11) Северный Ледовитый океан	12) Тихий океан
13) -5	14) 0	15) +5
16) Чёрное море	17) Балтийское море	18) дерево
19) травы	20) смешанные леса	21) широколиственные леса
22) пустыни и полупустыни	23) чернозёмы	24) дерново-подзолистые почвы
25) северный олень	26) овцебык	27) песок

Ответ:

Буква в тексте	Слово/словосочетание/число
А	растительность
Б	от экватора к полюсам
В	Северный Ледовитый океан
Г	арктические пустыни
Д	тундра
Е	северный олень
Ж	тайга
З	дерево
И	чернозёмы
К	лесостепи и степи
Л	Чёрное море
М	0

Каждый верный ответ – 2 балла.

Максимум за задание – 24 балла.

Задача 2

География – это наука о пространстве, поэтому любители географии и участники географических олимпиад должны хорошо знать карту. В начальной школе на уроках окружающего мира вы познакомились с картами и работали с атласом. Мы предлагаем вам несколько заданий по работе со школьным атласом.

Для начала определите, какие географические объекты скрываются за описаниями. Все вопросы относятся к теме «Горы и вулканы Земли».

1. Самый южный действующий вулкан планеты.
2. Высочайшая горная вершина материка, на котором протекает самая полноводная река мира.
3. Высочайшая горная вершина нашей планеты.
4. Высочайшая горная вершина материка, на котором обитают сумчатые животные, например, кенгуру и коала.
5. Высочайшая горная вершина третьего по площади материка.
6. Высочайшая горная вершина материка, по территории которого протекают такие известные реки, как Конго и Замбези.
7. Это высочайшая горная вершина самой большой страны на планете.
8. Этот вулкан расположен на острове в Тихом океане. Если измерить высоту этой горы от самого дна, то она возглавит список самых высоких гор на Земле.
9. Извержение этого вулкана, расположенного в одной из европейских стран, изображено на картине Карла Брюллова «Последний день Помпеи».
10. Этот вулкан расположен на острове в восточной части Индийского океана. Его извержение в 1883 году стало одним из самых мощных в истории человечества. В результате землетрясения и цунами, вызванного этим извержением, погибли более 36 тыс. человек.

Варианты ответов:

Аконкагуа
Везувий
Мак-Кинли/Денали
Килиманджаро
Косцюшко
Кракатау
Мауна-Кеа
Джомолунгма/Эверест
Эльбрус
Эребус

Ответ:

1. Эребус
2. Аконкагуа
3. Джомолунгма/Эверест
4. Косцюшко
5. Мак-Кинли/Денали
6. Килиманджаро
7. Эльбрус
8. Мауна-Кеа
9. Везувий
10. Кракатау

(1 балл за каждый верный объект, итого 10 баллов)

Задача 3

Определите океан планеты по текстовому описанию, выбирая подходящие по смыслу из выпадающего списка.

Это третий по площади океан мира, назван по названию государства. В нём расположено одно из «цветных» морей мира, отличающееся самой высокой солёностью поверхностных вод. Частью океана является залив, в котором зарегистрирована самая высокая температура поверхностных вод. И море, и залив омывают побережья самого большого по площади полуострова Земли.

Определите

- название океана (варианты ответов: Тихий, Атлантический, Индийский, Северный Ледовитый)
- самое солёное море (Чёрное, Красное, Мёртвое, Средиземное)
- самый тёплый залив (Персидский, Суэцкий, Бенгальский)
- самый большой полуостров (Аравийский, Балканский, Пиренейский, Индостан)

Ответы:

- название океана – *Индийский*
- самое солёное море – *Красное*
- самый тёплый залив – *Персидский*
- самый большой полуостров – *Аравийский*

Критерии оценивания:

За правильное название океана – 3 балла, за каждый правильный ответ во всех других вопросах – 1 балл.

Максимальное количество баллов – 6.