

Инструкция по выполнению работы

Экзаменационная работа состоит из 14 заданий базового уровня сложности с кратким ответом.

На выполнение экзаменационной работы по математике отводится 3 часа 55 минут (235 минут).

Ответы запишите в поля ответов в работе, а затем перенесите в бланк ответов. Для этого в бланке ответов запишите номера всех заданий в столбец следующим образом:

- 1)
- 2)
- 3)
- ...
- 13)
- 14)

Ответы запишите в бланк ответов справа от номеров соответствующих заданий. В случае записи неверного ответа зачеркните его и запишите рядом новый.

При выполнении работы разрешается использовать линейку.

Бланк ответов заполняется яркими чёрными чернилами. Допускается использование гелевой или капиллярной ручки.

При выполнении заданий можно пользоваться черновиком. Записи в черновике не учитываются при оценивании работы.

Баллы, полученные Вами за выполненные задания, суммируются. Постарайтесь выполнить как можно больше заданий и набрать наибольшее количество баллов.

Желаем успеха!

СПРАВОЧНЫЕ МАТЕРИАЛЫ ПО МАТЕМАТИКЕ**АЛГЕБРА**

- Формула корней квадратного уравнения:

$$x = \frac{-b \pm \sqrt{D}}{2a}, \text{ где } D = b^2 - 4ac.$$

- Если квадратный трёхчлен $ax^2 + bx + c$ имеет два корня x_1 и x_2 , то

$$ax^2 + bx + c = a(x - x_1)(x - x_2);$$

если квадратный трёхчлен $ax^2 + bx + c$ имеет единственный корень x_0 , то

$$ax^2 + bx + c = a(x - x_0)^2.$$

- Абсцисса вершины параболы, заданной уравнением $y = ax^2 + bx + c$:

$$x_0 = -\frac{b}{2a}.$$

- Формула n -го члена арифметической прогрессии (a_n) , первый член которой равен a_1 и разность равна d :

$$a_n = a_1 + d(n-1).$$

- Формула суммы первых n членов арифметической прогрессии:

$$S_n = \frac{(a_1 + a_n)n}{2}.$$

- Формула n -го члена геометрической прогрессии b_n , первый член которой равен b_1 , а знаменатель равен q :

$$b_n = b_1 \cdot q^{n-1}$$

- Формула суммы первых n членов геометрической прогрессии:

$$S_n = \frac{(q^n - 1)b_1}{q - 1}.$$

- Формулы сокращённого умножения:

$$(a + b)^2 = a^2 + 2ab + b^2;$$

$$(a - b)^2 = a^2 - 2ab + b^2;$$

$$a^2 - b^2 = (a - b)(a + b).$$

Математика. 9 класс

ГВЭ (письменная форма)

- Свойства арифметического квадратного корня:

$$\sqrt{ab} = \sqrt{a} \cdot \sqrt{b} \text{ при } a \geq 0, b \geq 0; \quad \sqrt{\frac{a}{b}} = \frac{\sqrt{a}}{\sqrt{b}} \text{ при } a \geq 0, b > 0.$$

- Свойства степени при $a > 0, b > 0$

$$a^{-n} = \frac{1}{a^n}; \quad a^n \cdot a^m = a^{n+m}; \quad \frac{a^n}{a^m} = a^{n-m};$$

$$(a^n)^m = a^{nm}; \quad (ab)^n = a^n \cdot b^n; \quad \left(\frac{a}{b}\right)^n = \frac{a^n}{b^n}.$$

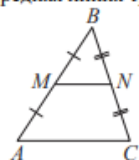
Таблица квадратов двузначных чисел

		Единицы									
		0	1	2	3	4	5	6	7	8	9
Десятки	1	100	121	144	169	196	225	256	289	324	361
	2	400	441	484	529	576	625	676	729	784	841
	3	900	961	1024	1089	1156	1225	1296	1369	1444	1521
	4	1600	1681	1764	1849	1936	2025	2116	2209	2304	2401
	5	2500	2601	2704	2809	2916	3025	3136	3249	3364	3481
	6	3600	3721	3844	3969	4096	4225	4356	4489	4624	4761
	7	4900	5041	5184	5329	5476	5625	5776	5929	6084	6241
	8	6400	6561	6724	6889	7056	7225	7396	7569	7744	7921
	9	8100	8281	8464	8649	8836	9025	9216	9409	9604	9801

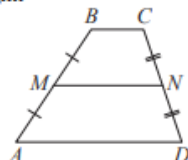
ГЕОМЕТРИЯ

Сумма углов выпуклого n -угольника равна $180^\circ(n-2)$.

Средняя линия треугольника и трапеции

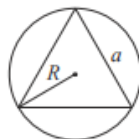


MN – ср. лин.
 $MN \parallel AC$
 $MN = \frac{AC}{2}$



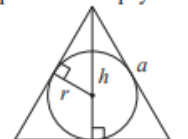
$BC \parallel AD$
 MN – ср. лин.
 $MN \parallel AD$
 $MN = \frac{BC + AD}{2}$

Описанная и вписанная окружности правильного треугольника



$$R = \frac{a\sqrt{3}}{3}$$

$$S = \frac{a^2\sqrt{3}}{4}$$

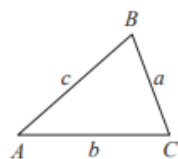


$$r = \frac{a\sqrt{3}}{6}$$

$$h = \frac{a\sqrt{3}}{2}$$

Математика. 9 класс

ГВЭ (письменная форма)



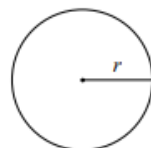
Для треугольника ABC со сторонами $AB = c$, $AC = b$, $BC = a$:

$$\frac{a}{\sin A} = \frac{b}{\sin B} = \frac{c}{\sin C} = 2R,$$

где R – радиус описанной окружности.

Для треугольника ABC со сторонами $AB = c$, $AC = b$, $BC = a$:

$$c^2 = a^2 + b^2 - 2ab \cos C.$$



Длина окружности $C = 2\pi r$.

Площадь круга $S = \pi r^2$.

Площади фигур



Параллелограмм

$$S = ah_a$$

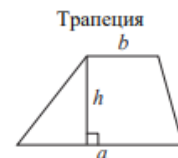
$$S = absin \gamma$$



Треугольник

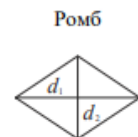
$$S = \frac{1}{2}ah_a$$

$$S = \frac{1}{2}absin \gamma$$



Трапеция

$$S = \frac{a+b}{2} \cdot h$$

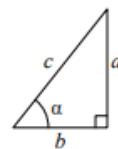


Ромб

d_1, d_2 – диагонали

$$S = \frac{1}{2}d_1d_2$$

Прямоугольный треугольник



$$\sin \alpha = \frac{a}{c}$$

$$\cos \alpha = \frac{b}{c}$$

$$\operatorname{tg} \alpha = \frac{a}{b}$$

Теорема Пифагора: $a^2 + b^2 = c^2$.

Основное тригонометрическое тождество: $\sin^2 \alpha + \cos^2 \alpha = 1$.

Некоторые значения тригонометрических функций

α	градусы	0°	30°	45°	60°	90°	180°	270°	360°
$\sin \alpha$		0	$\frac{1}{2}$	$\frac{\sqrt{2}}{2}$	$\frac{\sqrt{3}}{2}$	1	0	-1	0
$\cos \alpha$		1	$\frac{\sqrt{3}}{2}$	$\frac{\sqrt{2}}{2}$	$\frac{1}{2}$	0	-1	0	1
$\operatorname{tg} \alpha$		0	$\frac{\sqrt{3}}{3}$	1	$\sqrt{3}$	—	0	—	0

Вариант 1

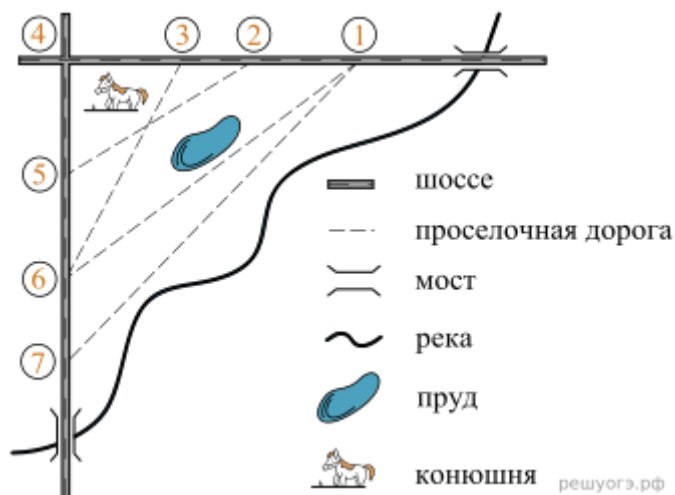
Ответами к заданиям 1–14 являются целое число, конечная десятичная дробь или последовательность цифр. Ответ запишите в поле ответа в тексте работы, затем перенесите в БЛАНК ОТВЕТОВ справа от номера соответствующего задания. Единицы измерений писать не нужно.

Прочитайте внимательно текст и выполните задания 1-3.

1. На рисунке изображен план сельской местности.

Таня на летних каникулах приезжает в гости к дедушке в деревню Антоновка (на плане обозначена цифрой 1). В конце каникул дедушка на машине собирается отвезти Таню на автобусную станцию, которая находится в деревне Богданово. Из Антоновки в Богданово можно проехать по проселочной дороге мимо реки. Есть другой путь — по шоссе до деревни Ванютино, где нужно повернуть под прямым углом налево на другое шоссе, ведущее в Богданово. Третий маршрут проходит по проселочной дороге мимо пруда до деревни Горюново, где можно свернуть на шоссе до Богданово. Четвертый маршрут пролегает по шоссе до деревни Доломино, от Доломино до Горюново по проселочной дороге мимо конюшни и от Горюново до Богданово по шоссе. Еще один маршрут проходит по шоссе до деревни Егорки, по проселочной дороге мимо конюшни от Егорки до Жилино и по шоссе от Жилино до Богданово.

Шоссе и проселочные дороги образуют прямоугольные треугольники.



По шоссе Таня с дедушкой едут со скоростью 50 км/ч, а по проселочным дорогам — со скоростью 30 км/ч. Расстояние от Антоновки до Доломино равно 12 км, от Доломино до Егорки — 4 км, от Егорки до Ванютино — 12 км, от Горюново до Ванютино — 15 км, от Ванютино до Жилино — 9 км, а от Жилино до Богданово — 12 км.

Пользуясь описанием, определите, какими цифрами на плане обозначены деревни. В ответ запишите последовательность четырех цифр без пробелов, запятых и других дополнительных символов.

Деревни	Ванютино	Горюново	Егорка	Жилино
Цифры				

2. Найдите расстояние от Антоновки до Богданово по прямой. Ответ дайте в километрах.

3. Сколько минут затратят Таня с бабушкой на дорогу из Антоновки в Богданово, если поедут мимо пруда через Горюново?

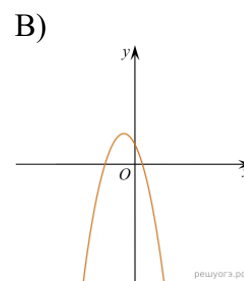
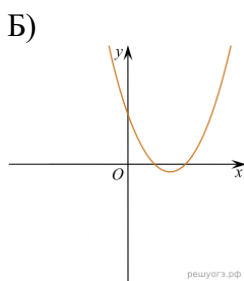
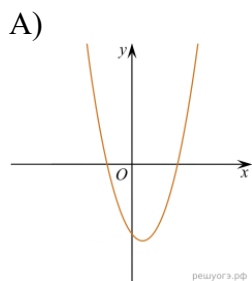
4. Представьте выражение $\frac{8}{9} + \frac{5}{6}$ в виде дроби с числителем 62. В ответ запишите знаменатель получившейся дроби.

5. Решите уравнение $8x^2 = 72x$. Если уравнение имеет более одного корня, в ответ запишите меньший из корней.

6. Найдите значение выражения $\frac{(a^3)^5}{a^{11}}$ при $a = 3$.

7. На рисунке изображены графики функций вида $y = ax^2 + bx + c$. Установите соответствие между графиками функций и знаками коэффициентов a и c .

ГРАФИКИ



КОЭФФИЦИЕНТЫ

- 1) $a < 0, c > 0$
- 2) $a > 0, c > 0$
- 3) $a > 0, c < 0$

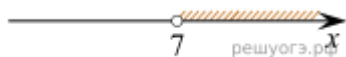
В таблице под каждой буквой укажите соответствующий номер.

А	Б	В

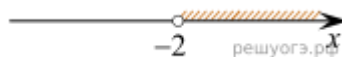
8. Укажите решение неравенства

$$(x + 2)(x - 7) > 0.$$

1)



2)



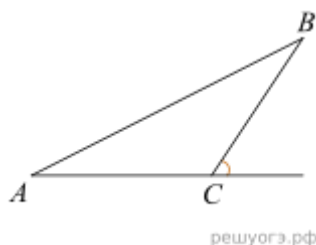
3)



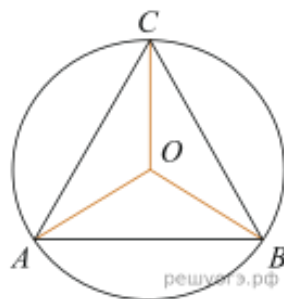
4)



9. В треугольнике ABC угол C равен 133° . Найдите внешний угол при вершине C . Ответ дайте в градусах.



10. Радиус окружности, описанной около равностороннего треугольника, равен $2\sqrt{3}$. Найдите длину стороны этого треугольника.



11. Какое из следующих утверждений верно?

- 1) Диагональ трапеции делит ее на два равных треугольника.
- 2) Косинус острого угла прямоугольного треугольника равен отношению гипотенузы к прилежащему к этому углу катету.
- 3) Расстояние от точки, лежащей на окружности, до центра окружности равно радиусу.

В ответ запишите номер выбранного утверждения.

12. Перевести значение температуры по шкале Фаренгейта в шкалу Цельсия позволяет формула

$t_C = \frac{5}{9}(t_F - 32)$, где t_C — температура в градусах Цельсия, t_F — температура в градусах Фаренгейта. Скольким градусам по шкале Цельсия соответствует 59 градусов по шкале Фаренгейта?

13. Вероятность того, что новая шариковая ручка пишет плохо (или не пишет), равна 0,19. Покупатель в магазине выбирает одну такую ручку. Найдите вероятность того, что эта ручка пишет хорошо.

14. В ходе биологического эксперимента в чашку Петри с питательной средой поместили колонию микроорганизмов массой 13 мг. За каждые 30 минут масса колонии увеличивается в 3 раза. Найдите массу колонии микроорганизмов через 90 минут после начала эксперимента. Ответ дайте в миллиграммах.

Не забудьте перенести все ответы в БЛАНК ОТВЕТОВ в соответствии с инструкцией по выполнению работы.