

Фамилия, имя _____

1. Вычисли: $56 + 37 - 48$

Ответ: _____

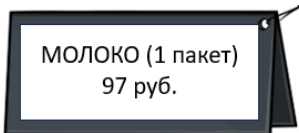
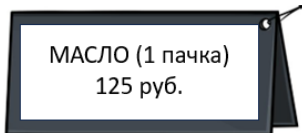
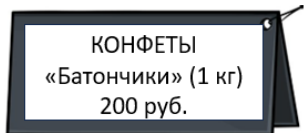
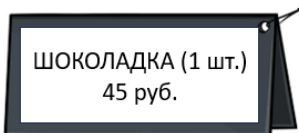
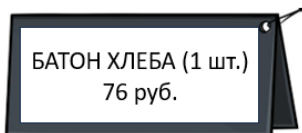
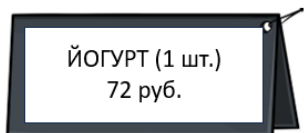
В ответе запиши только число.

2. Вычисли: $83 - (45 - 7 \cdot 5) : 5$

Ответ: _____

В ответе запиши только число.

3. Рассмотрите рисунок. У Пети есть 600 рублей. Ему нужно купить батон хлеба и пакет молока. Сколько рублей у него останется после всех покупок?



В бланк ответов запиши решение и ответ.

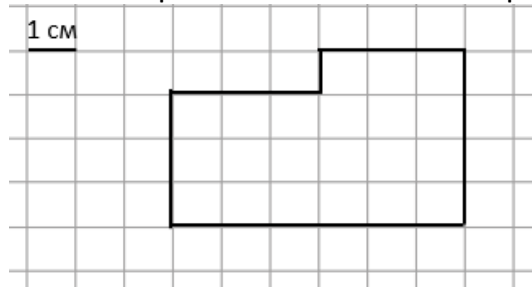
4. Представление в цирке начинается в 17 часов 25 минут и длится 1 час 15 минут. В какое время закончится представление?

Ответ: в _____ ч _____ мин.

В бланк ответов запиши **ТОЛЬКО ЧИСЛА**, обозначающие время.

Рассмотри рисунок и выполни задания 5.1 и 5.2

На клетчатой бумаге со стороной клетки 1 см изображена фигура.



5.1 Найди периметр этой фигуры.

Ответ: _____ см.

В ответе запиши только число.

5.2 Найди площадь этой фигуры.

Ответ: _____ см².

В ответе запиши только число.

Прочитай текст, изучи таблицу и выполни задания 6.1 и 6.2.

На школьном стадионе проходили соревнования по бегу. Каждый участник должен пробежать три круга. В таблице показаны результаты участников соревнования.

	Первый круг	Второй круг	Третий круг
Егор	135 с	142 с	141 с
Максим	137 с	133 с	132 с
Петя	140 с	135 с	136 с
Иван	160 с	175 с	170 с
Сергей	140 с	132 с	135 с

6.1. За какое время пробежал Егор все три круга?

Ответ: _____ шт.

В бланк ответов запиши только число.

6.2. Кто из участников бежал дольше всех? Укажи номер верного ответа.

- 1) Егор
- 2) Максим
- 3) Петя
- 4) Иван
- 5) Сергей

Ответ: _____

В бланк ответов запиши **ТОЛЬКО ЦИФРУ**.

7. Найди значение выражения: $36036 : 4 - 160 \cdot 5$

Ответ: _____

В ответе запиши только число.

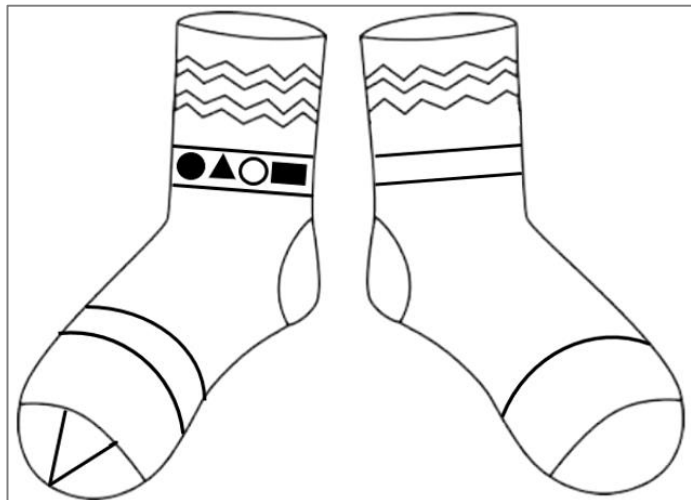
8. Четыре килограмма риса разложили в пакеты по 300 г и по 200 г. Пакетов по 300 г получилось 8 штук. Сколько получилось пакетов по 200 г?

В бланк ответов запиши решение и ответ.

9. Автобус едет 8 часов со скоростью 50 км/ч, а автомобиль проезжает это расстояние за 4 часа. На сколько скорость автомобиля больше скорости автобуса?

В бланк ответов запиши решение и ответ.

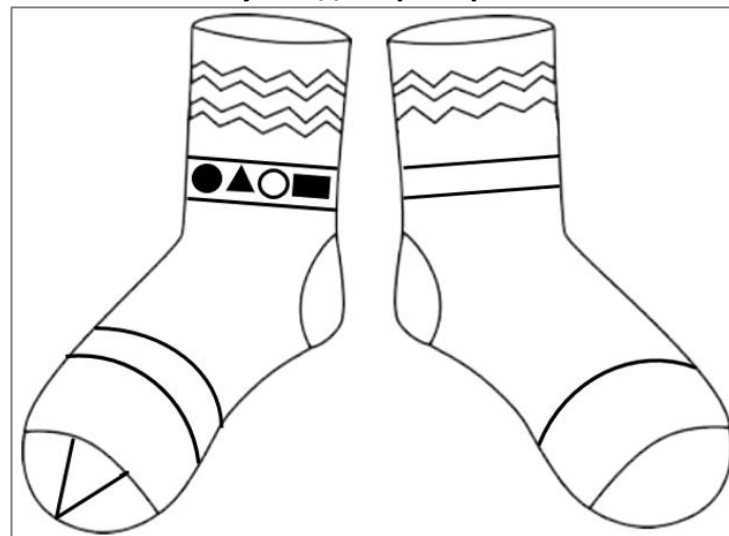
10. На рисунке показана пара носков. Один носок художник не закончил.



Дорисуй узор на носке справа так, чтобы узоры на носках были симметричными.

Можешь потренироваться на рисунке на этой странице и рисунке для тренировки.

Рисунок для тренировки




Обрати внимание, что окончательно выполнить задание нужно в бланке ответов.

Задание выполни в бланке ответов.

11. Четыре батона хлеба нарезали, и получилось 36 кусков. Сколько всего разрезов было сделано?

В бланк ответов запиши решение и ответ.

Ответы

№ задания	Ответ, решение
1	45
2	81
3	1) $76 + 97 = 173$ (руб.) – стоит покупка 2) $600 - 173 = 427$ (руб.) – останется после покупок Ответ: 427 рублей останется у Пети после покупок.
4	1840
5.1	20
5.2	21
6.1	418
6.2	4
7	8209
8	4 кг = 4000 г 1) $300 \cdot 8 = 2400$ (г) – в пакетах по 300 г 2) $4000 - 2400 = 1600$ (г) – в пакетах по 200 г 2) $1600 : 200 = 8$ (п.) – по 200 г Ответ: получилось 8 пакетов по 200 грамм.
9	1) $50 \cdot 8 = 400$ (км) – расстояние, которое проехал автобус 2) $400 : 4 = 100$ (км/ч) – скорость автомобиля 3) $100 - 50 = 50$ (км/ч) – на столько больше Ответ: на 50 км/ч скорость автомобиля больше скорости автобуса.
10	
11	<p>1 вариант решения - рассуждение: Выложим четыре батона в ряд, чтобы получить один большой батон. Он уже разрезан на 4 куска. Чтобы получить еще $36 - 4 = 32$ куска нужно сделать 32 разреза. Ответ: 32 разреза.</p> <p>2 вариант решения: 1) $36 : 4 = 9$ (кусков) – получится из каждого батона 2) $9 - 1 = 8$ (разрезов) – сделали для каждого батона 3) $8 \cdot 4 = 32$ (разреза) – нужно сделать Ответ: 32 разреза.</p>