

Тренировочный вариант 224 23.02.2026 ОГЭ 2026

Основной государственный экзамен по МАТЕМАТИКЕ

Тренировочный вариант № 223 ФИПИ

Инструкция по выполнению работы

Экзаменационная работа состоит из двух частей, включающих в себя 25 заданий. Часть 1 содержит 19 заданий, часть 2 содержит 6 заданий с развёрнутым ответом. На выполнение экзаменационной работы по математике отводится 3 часа 55 минут (235 минут).

Ответы к заданиям 7 и 13 запишите в бланк ответов № 1 в виде одной цифры, которая соответствует номеру правильного ответа.

Для остальных заданий части 1 ответом является число или последовательность цифр. Ответ запишите в поле ответа в тексте работы, а затем перенесите в бланк ответов № 1. Если получилась обыкновенная дробь, ответ запишите в виде десятичной. Решения заданий части 2 и ответы к ним запишите на бланке ответов № 2. Задания можно выполнять в любом порядке. Текст задания переписывать не надо, необходимо только указать его номер. Все бланки заполняются яркими чёрными чернилами. Допускается использование гелевой или капиллярной ручки.

Сначала выполняйте задания части 1. Начать советуем с тех заданий, которые вызывают у Вас меньше затруднений, затем переходите к другим заданиям. Для экономии времени пропускайте задание, которое не удаётся выполнить сразу, и переходите к следующему. Если у Вас останется время, Вы сможете вернуться к пропущенным заданиям. При выполнении части 1 все необходимые вычисления, преобразования выполняйте в черновике.

Если задание содержит рисунок, то на нём непосредственно в тексте работы можно выполнять необходимые Вам построения. Рекомендуем внимательно читать условие и проводить проверку полученного ответа. При выполнении работы Вы можете воспользоваться справочными материалами, выданными вместе с вариантом КИМ, и линейкой. Баллы, полученные Вами за выполненные задания, суммируются. Постарайтесь выполнить как можно больше заданий и набрать наибольшее количество баллов.

При выполнении работы Вы можете воспользоваться справочными материалами, выданными вместе с вариантом КИМ и линейкой.

Для прохождения аттестационного порога необходимо набрать не менее 8 баллов, из которых не менее 2 баллов должны быть получены за решение заданий по геометрии (задания 15–19, 23–25).

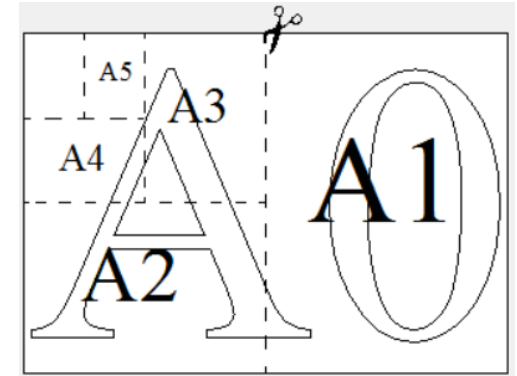
После завершения работы проверьте, чтобы ответ на каждое задание в бланках ответов № 1 и № 2 был записан под правильным номером.

Желаем успеха!

Часть 1

Прочитайте внимательно текст и выполните задание 1-5.

Общепринятые форматы листов бумаги обозначают буквой А и цифрой: А0, А1, А2 и так далее. Лист формата А0 имеет форму прямоугольника, площадь которого равна 1 кв. м. Если лист формата А0 разрезать пополам параллельно меньшей стороне, получается два равных листа формата А1.



Если лист А1 разрезать так же пополам, получается два листа формата А2. И так далее.

Отношение большей стороны к меньшей стороне листа каждого формата одно и то же, поэтому листы всех форматов подобны. Это сделано специально для того, чтобы пропорции текста и его расположение на листе сохранялись при уменьшении или увеличении шрифта при изменении формата листа.

1. В таблице даны размеры (с точностью до мм) четырёх листов, имеющих форматы А0, А1, А2 и А4.

Номер листа	Длина (мм)	Ширина (мм)
1	841	594
2	1189	841
3	297	210
4	594	420

Установите соответствие между форматами и номерами листов. Заполните таблицу, в бланк ответов перенесите последовательность четырёх цифр, соответствующих номерам листов, без пробелов, запятых и дополнительных символов.

А0	А1	А2	А4

Ответ: _____

Тренировочный вариант 224 23.02.2026 ОГЭ 2026

2. Сколько листов формата А4 получится из одного листа формата А2?

Ответ: _____

3. Найдите ширину листа бумаги формата А0. Ответ дайте в миллиметрах и округлите до ближайшего целого числа, кратного 10.

Ответ: _____

4. Найдите отношение длины меньшей стороны листа формата А4 к большей. Ответ округлите до десятых.

Ответ: _____

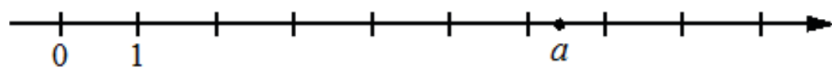
5. Размер (высота) типографского шрифта измеряется в пунктах. Один пункт равен $\frac{1}{72}$ дюйма, то есть 0,3528 мм. Какой высоты нужен шрифт (в пунктах), чтобы текст был расположен на листе формата А3 так же, как этот же текст, напечатанный шрифтом высотой 15 пунктов на листе формата А4? Размер шрифта округляется до целого.

Ответ: _____

6. Найдите значение выражения $\frac{13,2}{1,2}$

Ответ: _____

7. На координатной прямой отмечено число a .



Какое из утверждений для этого числа является верным?

- 1) $a - 4 < 0$ 2) $a - 6 > 0$ 3) $6 - a > 0$ 4) $7 - a < 0$

Ответ: _____

8. Найдите значение выражения $\frac{a^{18} \cdot (b^7)^2}{(a \cdot b)^{14}}$ при $a = 3$ и $b = \sqrt{3}$.

Ответ: _____

9. Найдите корень уравнения $-5 + 9x = 10x + 4$

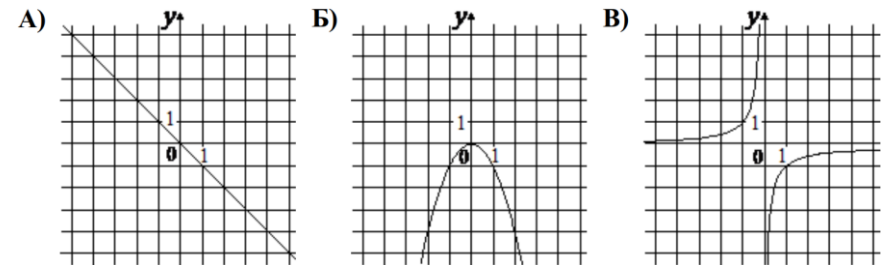
Ответ: _____

10. В среднем из 100 карманных фонариков, поступивших в продажу, восемь неисправных. Найдите вероятность того, что выбранный наудачу в магазине фонарик окажется исправен.

Ответ: _____

11. Установите соответствие между графиками функций и формулами, которые их задают.

ГРАФИКИ



ФОРМУЛЫ

- 1) $y = -x^2$ 2) $y = -x$ 3) $y = -\frac{1}{x}$

В таблице под каждой буквой укажите соответствующий номер


А	Б	В

Тренировочный вариант 224 23.02.2026 ОГЭ 2026

12. Кинетическая энергия тела массой m кг, движущегося со скоростью v м/с, вычисляется по формуле $E = \frac{mv^2}{2}$ и измеряется в джоулях (Дж). Известно, что автомобиль массой 1500 кг обладает кинетической энергией 147 тысяч джоулей. Найдите скорость этого автомобиля в метрах в секунду.

Ответ: _____

13. Укажите неравенство, решение которого изображено на рисунке.



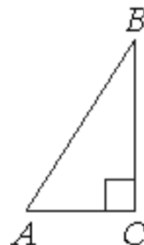
- 1) $x^2 - 7x < 0$ 2) $x^2 - 49 > 0$
 3) $x^2 - 7x > 0$ 4) $x^2 - 49 < 0$

Ответ: _____

14. При проведении опыта вещество равномерно охлаждали в течение 10 минут. При этом каждую минуту температура вещества уменьшалась на 5°C . Найдите температуру вещества (в градусах Цельсия) через 7 минут после начала проведения опыта, если его начальная температура составляла -9°C .

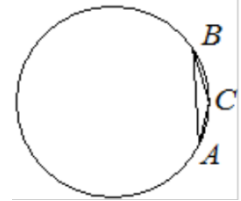
Ответ: _____

15. В треугольнике ABC угол C равен 90° , $\text{tg } B = \frac{7}{12}$, $BC = 48$. Найдите AC .



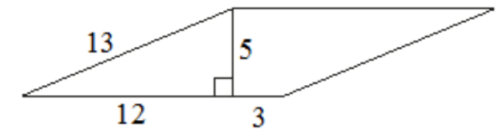
Ответ: _____

16. В треугольнике ABC угол C равен 150° , $AB = 4$. Найдите радиус окружности, описанной около этого треугольника.



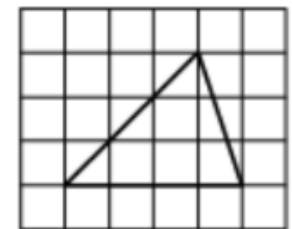
Ответ: _____

17. Найдите площадь параллелограмма, изображённого на рисунке.



Ответ: _____

18. На клетчатой бумаге с размером клетки 1×1 изображён треугольник. Найдите его площадь.



Ответ: _____

19. Какие из следующих утверждений **верны**?

- 1) Косинус острого угла прямоугольного треугольника равен отношению гипотенузы к прилежащему к этому углу катету.
- 2) Диагонали ромба перпендикулярны.
- 3) Существуют три прямые, которые проходят через одну точку.

В ответ запишите номера выбранных утверждений без пробелов, запятых и других дополнительных символов.

Ответ: _____

Не забудьте перенести в бланк ответов №1 в соответствии с инструкцией по выполнению работы

Часть 2

Для выполнения задания 20-25 используйте БЛАНК ОТВЕТОВ №2. Сначала укажите номер задания, а затем запишите его решение и ответ. Пишите чётко и разборчиво

Модуль «Алгебра»

20. Решите уравнение: $(x^2 - 4)^2 + (x^2 - 6x - 16)^2 = 0$.

21. Первые 350 км автомобиль ехал со скоростью 70 км/ч, следующие 105 км — со скоростью 35 км/ч, а последние 160 км — со скоростью 80 км/ч. Найдите среднюю скорость автомобиля на протяжении всего пути.

22. Постройте график функции

$$y = \frac{(x^2 + 1)(x + 2)}{-2 - x}.$$

Определите, при каких значениях k прямая $y = kx$ имеет с графиком ровно одну общую точку.

Модуль «Геометрия»

23. Углы B и C треугольника ABC равны соответственно 64° и 86° . Найдите BC , если радиус окружности, описанной около треугольника ABC , равен 13.

24. В треугольнике ABC с тупым углом BAC проведены высоты BB_1 и CC_1 . Докажите, что треугольники AB_1C_1 и ABC подобны.

25. В равнобедренную трапецию, периметр которой равен 20, а площадь равна 20, можно вписать окружность. Найдите расстояние от точки пересечения диагоналей трапеции до её меньшего основания.

Тренировочный вариант 224 23.02.2026 ОГЭ 2026

ОТВЕТЫ К ТРЕНИРОВОЧНОМУ ВАРИАНТУ 224

1		
2		
3		
4		
5		
6		
7		
8		
9		
10		
11		
12		
13		
14		
15		
16		
17		
18		
19		

20		
21		
22		
23		
24		
25		