

Тренировочный вариант 220 09.02.2026 ОГЭ 2026

Основной государственный экзамен по МАТЕМАТИКЕ

Тренировочный вариант № 220 ФИПИ

Инструкция по выполнению работы

Экзаменационная работа состоит из двух частей, включающих в себя 25 заданий. Часть 1 содержит 19 заданий, часть 2 содержит 6 заданий с развёрнутым ответом. На выполнение экзаменационной работы по математике отводится 3 часа 55 минут (235 минут).

Ответы к заданиям 7 и 13 запишите в бланк ответов № 1 в виде одной цифры, которая соответствует номеру правильного ответа.

Для остальных заданий части 1 ответом является число или последовательность цифр. Ответ запишите в поле ответа в тексте работы, а затем перенесите в бланк ответов № 1. Если получилась обыкновенная дробь, ответ запишите в виде десятичной. Решения заданий части 2 и ответы к ним запишите на бланке ответов № 2. Задания можно выполнять в любом порядке. Текст задания переписывать не надо, необходимо только указать его номер. Все бланки заполняются яркими чёрными чернилами. Допускается использование гелевой или капиллярной ручки.

Сначала выполняйте задания части 1. Начать советуем с тех заданий, которые вызывают у Вас меньше затруднений, затем переходите к другим заданиям. Для экономии времени пропускайте задание, которое не удаётся выполнить сразу, и переходите к следующему. Если у Вас останется время, Вы сможете вернуться к пропущенным заданиям. При выполнении части 1 все необходимые вычисления, преобразования выполняйте в черновике.

Если задание содержит рисунок, то на нём непосредственно в тексте работы можно выполнять необходимые Вам построения. Рекомендуем внимательно читать условие и проводить проверку полученного ответа. При выполнении работы Вы можете воспользоваться справочными материалами, выданными вместе с вариантом КИМ, и линейкой. Баллы, полученные Вами за выполненные задания, суммируются. Постарайтесь выполнить как можно больше заданий и набрать наибольшее количество баллов.

При выполнении работы Вы можете воспользоваться справочными материалами, выданными вместе с вариантом КИМ и линейкой.

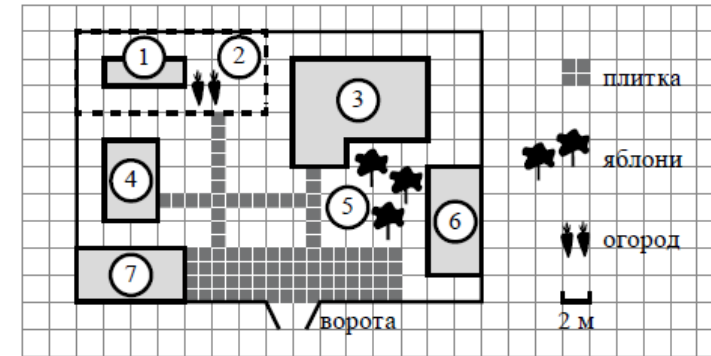
Для прохождения аттестационного порога необходимо набрать не менее 8 баллов, из которых не менее 2 баллов должны быть получены за решение заданий по геометрии (задания 15–19, 23–25).

После завершения работы проверьте, чтобы ответ на каждое задание в бланках ответов № 1 и № 2 был записан под правильным номером.

Желаем успеха!

Часть 1

Прочитайте внимательно текст и выполните задание 1-5.



На плане изображено домохозяйство по адресу: с. Авдеево, 3-й Поперечный пер., д. 13 (сторона каждой клетки на плане равна 2 м). Участок имеет прямоугольную форму. Выезд и въезд осуществляются через единственные ворота. При входе на участок справа от ворот находится баня, а слева — гараж, отмеченный на плане цифрой 7. Площадь, занятая гаражом, равна 32 кв. м. Жилой дом находится в глубине территории. Помимо гаража, жилого дома и бани, на участке имеется сарай (подсобное помещение), расположенный рядом с гаражом, и теплица, построенная на территории огорода (огород отмечен цифрой 2). Перед жилым домом имеются яблоневые посадки. Все дорожки внутри участка имеют ширину 1 м и вымощены тротуарной плиткой размером 1 м x 1 м. Между баней и гаражом имеется площадка площадью 64 кв. м, вымощенная такой же плиткой. К домохозяйству подведено электричество. Имеется магистральное газоснабжение.

- Для объектов, указанных в таблице, определите, какими цифрами они обозначены на плане. Заполните таблицу, в бланк ответов перенесите последовательность четырёх цифр.

Объекты	жилой дом	сарай	баня	теплица
Цифры				

Ответ: _____

Тренировочный вариант 220 09.02.2026 ОГЭ 2026

2. Тротуарная плитка продаётся в упаковках по 4 штуки. Сколько упаковок плитки понадобилось, чтобы выложить все дорожки и площадку перед гаражом?

Ответ: _____

3. Найдите площадь, которую занимает жилой дом. Ответ дайте в квадратных метрах.

Ответ: _____

4. Найдите расстояние от жилого дома до гаража (расстояние между двумя ближайшими точками по прямой) в метрах.

Ответ: _____

5. Хозяин участка планирует устроить в жилом доме зимнее отопление. Он рассматривает два варианта: электрическое или газовое отопление. Цены на оборудование и стоимость его установки, данные о расходе газа, электроэнергии и их стоимости даны в таблице.

	Нагреватель (котел)	Прочее оборудование и монтаж	Сред расход газа / сред. потребл. мощность	Стоимость газа / электро-энергии
Газовое отопление	24 тыс. руб.	18 280 руб.	1,2 куб. м/ч	5,6 руб./куб. м
Электр. отопление	20 тыс. руб.	15 000 руб.	5,6 кВт	3,8 руб./кВт·ч

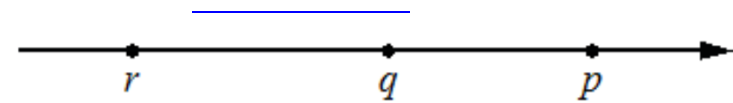
Обдумав оба варианта, хозяин решил установить газовое оборудование. Через сколько часов непрерывной работы отопления экономия от использования газа вместо электричества компенсирует разность в стоимости установки газового и электрического отопления?

Ответ: _____

6. Найдите значение выражения $6,8 + 2,6$

Ответ: _____

7. На координатной прямой отмечены числа p , q и r .



Какая из разностей $p - r$, $p - q$, $r - q$ отрицательна?

- 1) $p - r$ 2) $p - q$ 3) $r - q$ 4) ни одна из них

Ответ: _____

8. Найдите значение выражения $a^{-8} \cdot (a^5)^2$ при $a = 3$

Ответ: _____

9. Найдите корень уравнения $3x + 3 = 5x$

Ответ: _____

10. В среднем из 150 карманных фонариков, поступивших в продажу, пятнадцать неисправных. Найдите вероятность того, что выбранный наудачу в магазине фонарик окажется исправен.

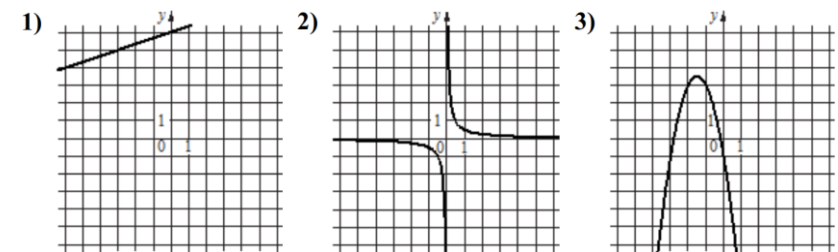
Ответ: _____

11. Установите соответствие между функциями и их графиками.

ФУНКЦИИ

- А) $y = \frac{1}{3}x + 6$ Б) $y = \frac{1}{2x}$ В) $y = -2x^2 - 6x - 1$

ГРАФИКИ




В таблице под каждой буквой укажите соответствующий номер

А	Б	В

12. Перевести значение температуры по шкале Фаренгейта в шкалу Цельсия позволяет формула $t_c = \frac{5}{9}(t_F - 32)$, где t_c – температура в градусах Цельсия, t_F – температура в градусах Фаренгейта. Скольким градусам по шкале Цельсия соответствует -76 градусов по шкале Фаренгейта?

Ответ: _____

13. Укажите неравенство, решение которого изображено на рисунке.



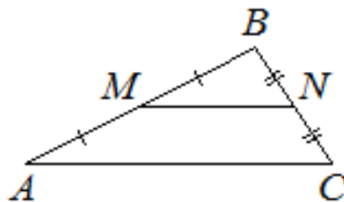
- 1) $x^2 - 8x < 0$ 2) $x^2 - 64 < 0$
 3) $x^2 - 8x > 0$ 4) $x^2 - 64 > 0$

Ответ: _____

14. При проведении опыта вещество равномерно охлаждали в течение 10 минут. При этом каждую минуту температура вещества уменьшалась на 5°C . Найдите температуру вещества (в градусах Цельсия) через 9 минут после начала проведения опыта, если его начальная температура составляла -8°C .

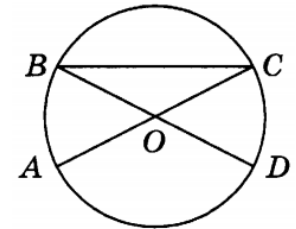
Ответ: _____

15. Точки M и N являются серединами сторон AB и BC треугольника ABC , сторона AB равна 21, сторона BC равна 22, сторона AC равна 28. Найдите MN .



Ответ: _____

16. Отрезки AC и BD – диаметры окружности с центром O . Угол ACB равен 16° . Найдите угол AOD . Ответ дайте в градусах.



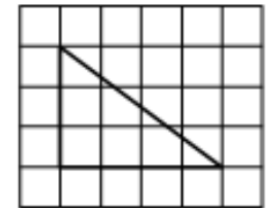
Ответ: _____

17. Диагональ прямоугольника образует угол 47° с одной из его сторон. Найдите острый угол между диагоналями этого прямоугольника. Ответ дайте в градусах.



Ответ: _____

18. На клетчатой бумаге с размером клетки 1×1 изображён прямоугольный треугольник. Найдите длину его большего катета.



Ответ: _____

19. Какое из следующих утверждений **верно**?

- 1) Площадь прямоугольного треугольника равна произведению длин его катетов.
- 2) Существует прямоугольник, диагонали которого взаимно перпендикулярны.
- 3) Если стороны одного четырёхугольника соответственно равны сторонам другого четырёхугольника, то такие четырёхугольники равны.

В ответ запишите номер выбранного утверждения.

Ответ: _____

Не забудьте перенести в бланк ответов №1 в соответствии с инструкцией по выполнению работы

Часть 2

Для выполнения задания 20-25 используйте БЛАНК ОТВЕТОВ №2. Сначала укажите номер задания, а затем запишите его решение и ответ. Пишите чётко и разборчиво

Модуль «Алгебра»

20. Решите неравенство: $(x - 5)^2 < \sqrt{7}(x - 5)$.

21. Имеются два сосуда, содержащие 4 кг и 16 кг раствора кислоты различной концентрации. Если их слить вместе, то получится раствор, содержащий 57% кислоты. Если же слить равные массы этих растворов, то полученный раствор будет содержать 60% кислоты. Сколько килограммов кислоты содержится в первом растворе?

22. Постройте график функции

$$y = \begin{cases} x^2 + 2x + 1 & \text{при } x \geq -4, \\ -\frac{36}{x} & \text{при } x < -4. \end{cases}$$

Определите, при каких значениях m прямая $y = m$ имеет с графиком одну или две общие точки.

Модуль «Геометрия»

23. Углы B и C треугольника ABC равны соответственно 63° и 87° . Найдите BC , если радиус окружности, описанной около треугольника ABC , равен 11.

24. Окружности с центрами в точках I и J пересекаются в точках A и B , причём точки I и J лежат по одну сторону от прямой AB . Докажите, что прямые AB и IJ перпендикулярны.

25. В равнобедренную трапецию, периметр которой равен 120, а площадь равна 540, можно вписать окружность. Найдите расстояние от точки пересечения диагоналей трапеции до её меньшего основания.

Тренировочный вариант 220 09.02.2026 ОГЭ 2026

ОТВЕТЫ К ТРЕНИРОВОЧНОМУ ВАРИАНТУ 220

1	3461	Решение
2	23	Решение
3	68	Решение
4	10	Решение
5	500	Решение
6	9,4	
7	3	
8	9	Решение
9	1,5	
10	0,9	Решение
11	123	
12	-60	
13	1	
14	-53	
15	14	Решение
16	148	Решение
17	86	Решение
18	4	
19	2	

20	$(5; 5 + \sqrt{7})$.	Решение
21	2,6.	Решение
22	$\{0\} \cup [9; +\infty)$.	Решение
23	11.	
24		
25	1,8.	