

ВСЕРОССИЙСКАЯ ОЛИМПИАДА ШКОЛЬНИКОВ ПО ГЕОГРАФИИ
МУНИЦИПАЛЬНЫЙ ЭТАП
2025/2026 учебный год
ТЕСТОВЫЙ И ТЕОРЕТИЧЕСКИЙ ТУР
по предмету география
9 класс

Уважаемый участник олимпиады!

Вам предстоит выполнить тестовые и теоретические задания. Время выполнения заданий муниципального тура олимпиады – **180 минут**.

Бланк задания вы можете использовать как черновик. Важно не забыть **перенести ответы в отдельный бланк ответов**, который вам выдадут вместе с заданиями.

Выполнение тестовых заданий целесообразно организовать следующим образом:

- не спеша, внимательно прочитайте тестовое задание;
- определите, какой из предложенных вариантов ответа наиболее верный и полный;
- напишите букву, соответствующую выбранному Вами ответу;
- после выполнения всех предложенных заданий ещё раз удостоверьтесь в правильности ваших ответов;
- если потребуется корректировка выбранного Вами варианта ответа, то неправильный вариант ответа зачеркните крестиком, и рядом напишите новый.

Предупреждаем Вас, что:

- при оценке тестовых заданий, где необходимо определить один правильный ответ, 0 баллов выставляется за неверный ответ и в случае, если участником отмечены несколько ответов (в том числе правильный), или все ответы;
- при оценке тестовых заданий, где необходимо определить несколько правильных ответов, 0 баллов выставляется, если участником отмечены неверные ответы, большее количество ответов, чем предусмотрено в задании (в том числе правильные ответы) или все ответы.

Выполнение теоретических заданий целесообразно организовать следующим образом:

- отвечая на теоретические вопросы, обдумайте и сформулируйте конкретный ответ только на поставленный вопрос;
- в вопросах, в которых требуется выразить Ваше мнение с учётом анализа ситуации или поставленной проблемы, внимательно и вдумчиво определите смысл вопроса и логику ответа (последовательность и точность изложения). Отвечая на вопрос, предлагайте свой вариант решения проблемы, при этом ответ должен быть кратким, но содержать необходимую информацию.

Все ответы вписываются в бланк ответов!

Максимальная оценка – 100 баллов: 40 баллов за тестовый тур и 60 баллов за теоретический.

Желаем Вам успехов!

ТЕСТОВЫЙ ТУР

1. Представители какой расы составляют большую часть населения Евразии?

Ответ внесите в бланк ответов. (1 балл за правильный ответ)

- А. Монголоидной расы
- Б. Негроидной расы
- В. Европеоидной расы
- Г. Экваториальной расы
- Д. Австралоидной

2. Запишите в поле ответа в бланке современное название мыса, о котором идет речь в следующем тексте (2 балла за правильный ответ):



«Мыс Бурь невозможно отыскать даже на самых подробных географических картах. Такого названия сейчас не существует. Он был открыт в 1488 году португальским мореплавателем Б. Диашем, который считал его южной оконечностью материка. Направляясь на открытие новых земель, португальцы обогнули этот мыс во время сильного шторма и назвали его мысом Бурь. Спустя некоторое время португальский король Жуан II переименовал его, дав более оптимистичное название».

3. В какой район была отправлена первая экспедиция Русского географического общества в 1846 году? Ответ внесите в бланк ответов. (2 балла за правильный ответ):

- А. Бассейн реки Вилюй
- Б. Река Уссури и озера Ханка
- В. Северный Урал
- Г. Внутренние области Тянь-Шаня
- Д. Прикаспийская низменность

4. С каким государством у России самая короткая сухопутная граница (17км)? Ответ внесите в бланк ответов. (1 балл за правильный ответ)

- А. с Польшей
- Б. с Норвегией
- В. с Грузией
- Г. с КНДР
- Д. с Литвой

5. Установите соответствие между биологическим ресурсом и зональным природным комплексом, для которого они характерны. Ответ внесите в бланк ответов. (за каждую правильную пару «биологический ресурс- зональный природный комплекс» - 1 балл. Максимальное количество 4 балла)

Биологические ресурсы	Зональные природные комплексы
А. ягоды и кормовой лишайник	1. арктические пустыни
Б. орехи и древесина	2. тундра
В. кормовые травы	3. тайга
Г. в основном морские обитатели	4. степь

6. В каком городе 22 декабря величина полуденной высоты Солнца наиболее близка к значению широты тропика? Ответ внесите в бланк ответов. (1 балл за правильный ответ)

- А. Якутск
- Б. Владивосток
- В. Архангельск
- Г. Норильск
- Д. Мурманск

7. Выберите три столицы субъектов РФ, коренные жители которых исповедуют общую религию. Ответ внесите в бланк ответов. (1 балл за правильный ответ)


- А. Горно-Алтайск, Чебоксары, Улан-Удэ
- Б. Якутск, Чебоксары, Кызыл
- В. Грозный, Чебоксары, Улан-Удэ
- Г. Петрозаводск, Казань, Кызыл
- Д. Махачкала, Уфа, Грозный

8. Определите населенный пункт по описанию: «Это село находится в Московской области. Оно впервые упоминается с 1339 года, и широко известно как столица русского фарфора. С момента открытия месторождения глины, традиции создания уникального бренда бережно хранятся и передаются из поколения в поколение. Также село дало название ярусу каменноугольного периода». Ответ внесите в бланк ответов.

(1 балл за правильный ответ)

- А. Хохлома
- Б. Палех
- В. Гжель
- Г. Жостово
- Д. Павлово

9. До 1927 года, пока А. Н. Алешков не определил Народную высшей вершиной Урала, главной горой в этих краях считалась именно Манарага. Объяснение названия вершины приводит Э. К. Гофман в сочинении «Пай-Хой, или Северный Урал»: «...гора получила своё самоедское имя, которое по истолкованию нашего переводчика значит «Медвежья лапа». Действительно, в переводе с ненецкого «мана»-передняя лапа медведя, «раха»- подобный. На каком фото изображена Манарага? Ответ внесите в бланк ответов. (1 балл за правильный ответ)



10. Как называются богатые гумусом, темноокрашенные почвы, сформировавшиеся в условиях умеренно-континентального климата под степной растительностью? В России распространены на юге Европейской территории и Западной Сибири. Название почв в именительном падеже напишите в поле ответа в бланке ответов. (2 балла за правильный ответ)

11. Из предложенного списка выберите область с наибольшей долей лесов в общей структуре земельного фонда. Ответ внесите в бланк ответов. (1 балл за правильный ответ)

- А. Тульская
- Б. Самарская
- В. Иркутская
- Г. Оренбургская
- Д. Ростовская

ВНЕСИТЕ ОТВЕТЫ В БЛАНК ОТВЕТОВ!!!

12. Выберите из списка город, который расположен в водосборном бассейне озера Байкал. Ответ внесите в бланк ответов. (1 балл за правильный ответ)

- А. Братск
- Б. Кызыл
- В. Благовещенск
- Г. Улан-Удэ
- Д. Якутск

13. Крупнейший на юге России морской порт, расположенный в этом городе - герое, часто страдает от сильного холодного ветра, стремительно «падающего» с гор. Выберите правильную пару: город-ветер. Ответ впишите в бланк ответов. (2 балла за правильный ответ)

- А. Новороссийск- бора
- Б. Керчь-фен
- В. Волгоград-самум
- Г. Севастополь- трамонтана
- Д. Иркутск- сарма

14. Расположите устья российских рек в последовательности, соответствующей направлению с востока на запад. Запишите последовательность букв. Правильную последовательность внесите в бланк ответов. (2 балла за правильный ответ)

- А. Печора
- Б. Анадырь
- В. Колыма
- Г. Ангара

15. «Впервые я увидел из морской дали...весь торжественный разворот его берегов от мыса Фиолента до Карадага. Впервые я понял, как прекрасна эта Земля, омытая одним из самых праздничных морей земного шара. Мы подходим к берегам, расцвеченным сухими и резкими красками...Уже пылали ржавчиной виноградники, уже видны были покрытые снегом вершины Чатыр-Дага и Ай-Петри». О каком полуострове писал К.Г. Паустовский? Впишите название полуострова в бланк ответов в именительном падеже. (2 балла за правильный ответ)

16. Через какой пролив проходит маршрут судна, следующего кратчайшим путем из Диксона в Архангельск? Ответ внесите в бланк ответов. (1 балл за правильный ответ)

- А. Керченский пролив
- Б. Пролив Невельского
- В. Пролив Дмитрия Лаптева
- Г. пролив Карские ворота
- Д. Татарский пролив

17. О каком процессе говорится в сонете 45 Уильяма Шекспира?

«Уж если медь, гранит, земля и море
Не устоят, когда придёт им срок
Как может уцелеть со смертью споря,
Краса твоя- беспомощный цветок?»

Как сохранить дыханье розы алой,
Когда осада тяжкая времен
Незыблемые сокрушает скалы
И рушит бронзу статуй и колон?»

Ответ внесите в бланк ответов. (1 балл за правильный ответ)

- А. Древнее оледенение
- Б. Антропогенные процессы
- В. Заболачивание
- Г. Криогенные процессы
- Д. Выветривание

18. Что такое «сальдо миграции»? Ответ внесите в бланк ответов. (1 балл за правильный ответ)

- А. Естественный прирост населения за год
- Б. Механический прирост населения за год
- В. Общий прирост населения за год
- Г. Разница между родившимися и умершими
- Д. Численность горожан, ежегодно перемещающихся между городом и пригородной зоной

19. Республика Дагестан является самым многонациональным субъектом России. На ее территории проживает более 30 коренных национальностей. Какой из народов является самым крупным в Дагестане? Ответ внесите в бланк ответов. (1 балл за правильный ответ)

- А. Адыгейцы
- Б. Аварцы
- В. Рутульцы
- Г. Карачаевцы
- Д. Чеченцы

20. Выберите крупнейший из сибирских городов, расположенных за полярным кругом. Город является центром добычи и выплавки меди и никеля. Ответ внесите в бланк ответов. (1 балл за правильный ответ)

- А. Мурманск
- Б. Норильск
- В. Ханты-Мансийск
- Г. Тюмень
- Д. Салехард

21. Он нужен автомобильным катализаторам, электронике, стоматологам и ювелирам. Он дороже золота и платины. По добыче этого металла Россия занимает 1 место в мире (40% от мирового производства). Крупнейшее месторождение находится на севере Красноярского края- в норильском Талнахе, а главным добытчиком металла в стране является ГМК «Норильский никель». О каком металле идет речь? Ответ внесите в бланк ответов. (2 балла за правильный ответ)

- А. Палладий
- Б. Никель
- В. Медь
- Г. Вольфрам
- Д. Уран

22. Установите соответствие между названием городов Урала и их описанием:

1. Одна из старейших слобод на Урале, позже не одну сотню лет – центр знаменитой в России (второй после Нижегородской) ярмарки.

2. Знаменитый город, прославившийся изделиями своих замечательных мастеров по металлу на многих всемирных выставках, особенно в 1900 году в Париже.

3. Населённый пункт, из которого вырос город, назывался Куделька.

4. В тихую погоду дым его заводов застревает между горами и виден издалека. Гордо с осознанием собственного величия перед окружающей мелюзгой, подняли свои вершины гиганты Южного Урала – Косотур, Уренга и трёхглавый красавец Таганай по отрогам которых и разлёгся этот город....

5. «Отсюда Денежкин Камень виден уже совсем хорошо. Кажется, что до него близко, не более десяти-пятнадцати километров. В действительности около шестидесяти. речка Сарайная, протекающая в глубокой ложбине почти по самому центру города струилась в забетонированном русле. В бетон был закован и Вагран». Пары цифра/буква впишите в бланк ответов. (За каждое правильное сочетание цифра/буква – 1 балл. Максимальное количество баллов - 5 баллов)





- А – Златоуст
- Б – Североуральск
- В – Касли
- Г – Асбест
- Д – Ирбит

23. Выберите верные утверждения, характеризующие особенности географического положения и природы Свердловской области. Ответ внесите в бланк ответов. (2 балла за правильный ответ)

- А Свердловская область граничит с Ямало-Ненецким автономным округом
- Б Свердловская область расположена в пределах Среднего и Южного Урала
- В Большая часть Свердловской области расположена в пределах Западно-Сибирской равнины
- Г Темнохвойная тайга широко распространена в западных предгорьях Урала

Д Свердловская область находится в пределах резко-континентального типа климата

24. На каком рисунке показан обрыв? Ответ внесите в бланк ответов. (1 балл за правильный ответ)

А.	Б.	В.	Г.
			

25. Выберите отличительную черту природы Приамурья. Ответ внесите в бланк ответов. (1 балл за правильный ответ)

- А. Хвойно-широколиственные леса
- Б. Резко-континентальный климат
- В. Действующие вулканы
- Г. Повсеместная многолетняя мерзлота
- Д. Преобладание черноземных почв

ВНЕСИТЕ ОТВЕТЫ В БЛАНК ОТВЕТОВ!!!

ТЕОРЕТИЧЕСКИЙ ТУР

26. Есть в России города, которые в следствие своей истории, географического положения, развития хозяйства и других причин имеют такое значение, что их тоже иногда называют «столицей». Составьте пару город - столица, используя следующие прилагательные: казачья, огуречная, культурная, янтарная, рыбная, пуховая, соловьиная, ситцевая, газовая, южная.

(За каждую правильную пару – 1 балл. Максимальное количество – 10 баллов)

Город	Какая столица
Сочи	
Санкт-Петербург	
Суздаль	
Курск	
Новый Уренгой	
Оренбург	
Новочеркасск	
Калининград	
Астрахань	
Иваново	

27. 2 сентября 2025 года в Пекине был подписан юридически обязывающий меморандум о строительстве газопровода «Сила Сибири-2» и транзитного газопровода «Союз-Восток». Маршрут свяжет российский Ямал и Китай и позволит поставлять 50 млрд. куб. м газа в год. Сравните газопроводы «Сила Сибири» и «Сила Сибири -2» + «Союз-Восток». Заполните пропуски в таблице. Вместо знаков вопроса в листе ответа запишите правильный ответ.



(За каждый правильный ответ – 2 балла. Максимальное количество – 12 баллов)




Позиция сравнения	Сила Сибири	Сила Сибири 2+ Союз - Восток
Страны	Россия, Китай	Россия, ? , Китай
Субъекты РФ, по которым проходит маршрут	1. Республика Саха 2. Иркутская область 3. Амурская область	1.? 2.? 3.? 4.?
Мощность (млрд.куб.год)	38	50
Дата запуска	2.12.2019	2033 (ориентировочно)
Ресурсная база	Чаяндинское (Якутия) и Ковыктинское (Иркутская обл.) месторождения	Месторождения ? (Ямал) и Харасавей (Ямал)



28. Культовый фильм «Запределье» снимали 4 года, более, чем в 20 странах по всему миру (точное число может назвать только режиссёр, так как в титрах они указаны не все). Снимали принципиально без использования спецэффектов. Все фантастические, неземные пейзажи, которые видят зрители в фильме – это тщательная выборка из самых потрясающих уголков нашей планеты. Сопоставьте кадр из фильма(буквы), название локации (латинские цифры) и страну (арабские цифры). Ответ внесите в бланк ответов.

(За каждое правильное сочетание «кадр фильма -локация-страна» – 3 балла. Максимальное количество – 15 баллов)

Кадр фильма	Локация	Страна
А. 	I. Колодец Чанд- Байоли штат Раджастан	1. Бали
Б. 	II. Риф «Бабочка»	2. Индия

<p>В.</p> 	<p>III. Ботанический сад Буэнос-Айреса</p>	<p>3. Намибия</p>
<p>Г.</p> 	<p>IV. Песчаные дюны глинистого плато Соссусфлей</p>	<p>4. Аргентина</p>
<p>Д.</p> 	<p>V. Рисовая терраса Тегаллаланг</p>	<p>5. Фиджи</p>

29. В силу каких причин в каждом из перечисленных городов в XX веке возникли проблемы с крупным сокращением или увеличением численности населения? Ответ внесите в бланк ответов. (за каждое правильное объяснение 3 балла. Максимальное количество 15 баллов)

- А) Норильск
- Б) Санкт-Петербург
- В) Сургут
- Г) Тольятти
- Д) Челябинск

30. Проанализируйте список природных и историко-культурных объектов, которые принимали участие в голосовании «Семь чудес России». Определите на территории каких субъектов Российской Федерации находятся эти объекты? Название субъекта впишите в бланк ответа (за каждый правильный субъект 1 балл. Максимальное количество 8 баллов)

Название российского «чуда»	Субъект РФ
1. Аркаим	
2. Баскунчак	
3. Вотчина Деда Мороза	
4. Долина Гейзеров	
5. Кунгурская пещера	
6. Петергоф	
7. Эльбрус	
8. Мамаев курган	

**КРИТЕРИИ И МЕТОДИКА ОЦЕНИВАНИЯ ВЫПОЛНЕННЫХ
ОЛИМПИАДНЫХ ЗАДАНИЙ ТЕОРЕТИЧЕСКОГО И ТЕСТОВОГО
ТУРОВ**

возрастной группы **9 класс** муниципального этапа Всероссийской
олимпиады школьников по географии 2025/2026 учебный год

Ключи ответов

Тестовый тур

№ задания	Ответ	Количество баллов
Тестовый тур		
1.	В	1 балл
2.	Мыс Доброй надежды	2 балла
3.	В	2 балла
4.	Г	1 балл
5.	А-2 Б-3 В-4 Г-1	за каждую правильную пару 1 балл. Максимальное количество 4 балла
6.	Б	1 балл
7.	Д	1 балл
8.	В	1 балл
9.	Б	1 балл
10.	Чернозем/черноземы	2 балла
11.	В	1 балл
12.	Г	1 балл
13.	А	2 балл
14.	БВГА	2 балла при полном правильном ответе. Другие варианты- 0 баллов
15.	Крым/Крымский полуостров	2 балла
16.	Г	1 балл
17.	Д	1 балл
18.	Б	1 балл

19.	Б	1 балл
20.	Б	1 балл
21	А	2 балла
22	1Д 2В 3Г 4А 5Б	За каждое правильное сочетание цифра/буква – 1 балла. Максимальное количество баллов - 5 баллов
23	ВГ	2 балла при полном ответе. В остальных случаях 0 баллов
24	А	1 балл
25	А	1 балл
Итого 40 баллов		

Теоретический тур

Задание № 26

За каждую правильную пару -1 балл.

<i>Город</i>	<i>Какая столица</i>	<i>Баллы</i>
Сочи	южная	1 балл
Санкт-Петербург	культурная	1 балл
Суздаль	огуречная	1 балл
Курск	соловьиная	1 балл
Новый Уренгой	газовая	1 балл
Оренбург	пуховая	1 балл
Новочеркасск	казачья	1 балл
Калининград	янтарная	1 балл
Астрахань	рыбная	1 балл
Иваново	ситцевая	1 балл
Итого за вопрос		10 баллов

Задание №27

<i>Элементы проверки</i>	<i>Ответ</i>	<i>Баллы</i>
страна	Монголия	2 балла
субъекты РФ (последовательность не имеет значения)	1. Тюменская область или Ямало-Ненецкий автономный округ 2. Красноярский край 3. Иркутская область 4. Республика Бурятия	За каждый субъект 2 балла Максимум 8 баллов

месторождение	Бованенково	2 балла
Итого максимум 12 баллов		

Задание №28

<i>Ответ</i>	<i>Баллы</i>
А -IV-3 Б -V-1 В-II-5 Г-I-2 Д -III-4	За каждое правильное сочетание «кадр фильма - локация-страна» – 3 балла.
Итого максимум 15 баллов	

Задание №29

<i>Город</i>	<i>Ответ</i>	<i>Баллы</i>
А) Норильск	Рост города связан с освоением местных природных ресурсов (медь, никель и др.) (1 балл) , строительством Норильского горно-металлургического комбината в 30-40гг. (1 балл) . В значительной степени этот рост обеспечивался за счет привоза заключённых (1 балл) .	Всего 3 балла
Б) Санкт-Петербург	События революции и гражданской войны, Великая отечественная война, в ходе которой город перенес страшную голодную блокаду, повлекли резкий отток населения. (2 балла) . Перенос столицы в Москву в 1918 году так же способствовал сокращению численности населения города. (1 балл)	Всего 3 балла
В) Сургут	Рост численности населения связан с открытием и эксплуатацией нефтегазовых месторождений Западной Сибири. Только за 80-е гг. город вырос в 2,5 раза.	3 балла
Г) Тольятти	Рост города в 50-е гг. был связан со строительством Волжской ГЭС им. В.И. Ленина. Начиная с середины 60-х гг. рост значительно усилился из-за строительства автогиганта ВАЗа	любая из этих причин 3 балла
Д) Челябинск	В 20-30е гг. происходил рост численности населения города, связанный со строительством ГРЭС и крупных промышленных предприятий	Всего 3 балла

	(тракторного завода. Завода ферросплавов и др.). (2 балла) Более бурным рост города стал в годы великой Отечественной войны, в результате массовой эвакуации промышленности из западных регионов СССР. (1 балл)	
Итого максимум 15 баллов		

Задание №30

Название российского «чуда»	Субъект РФ	Баллы
1.Аркаим	Челябинская обл.	1
2.Баскунчак	Астраханская обл.	1
3.Вотчина Деда Мороза	Вологодская обл.	1
4.Долина Гейзеров	Камчатский край	1
5.Кунгурская пещера	Пермский край	1
6.Петергоф	Ленинградская обл.	1
7.Эльбрус	Кабардино-Балкария	1
8.Мамаев курган	Волгоградская обл.	1
Максимальный балл		8

ИТОГО ЗА ОЛИМПИАДУ: 100 баллов