

## ТЕОРЕТИЧЕСКИЙ ТУР

*Уважаемый участник Олимпиады!*

Вам предстоит выполнить теоретические и тестовые задания.

*Выполнение теоретических заданий целесообразно организовать следующим образом:*

- не спеша, внимательно прочитайте задание и определите, наиболее верный и полный ответ;
- отвечая на теоретический вопрос, обдумайте и сформулируйте конкретный ответ только на поставленный вопрос;
- если вы отвечаете на задание, связанное с заполнением таблицы или схемы, не старайтесь детализировать информацию, вписывайте только те сведения или данные, которые указаны в вопросе;
- особое внимание обратите на задания, в выполнении которых требуется выразить ваше мнение с учетом анализа ситуации или поставленной проблемы. Внимательно и вдумчиво определите смысл вопроса и логику ответа (последовательность и точность изложения). Отвечая на вопрос, предлагайте свой вариант решения проблемы, при этом ответ должен быть кратким, но содержать необходимую информацию;
- после выполнения всех предложенных заданий еще раз удостоверьтесь в правильности выбранных вами ответов и решений.

*Выполнение тестовых заданий целесообразно проводить следующим образом:*

- не спеша, внимательно прочитайте тестовое задание;
- определите, какой из предложенных вариантов ответа наиболее верный и полный;
- обведите кружком букву, соответствующую выбранному вами ответу;
- продолжайте таким образом работу до завершения выполнения тестовых заданий;
- после выполнения всех предложенных заданий еще раз удостоверьтесь в правильности выбранных вами ответов и перенесите их в бланк для ответов;
- если потребуется корректировка выбранного Вами варианта ответа, то неправильный вариант ответа зачеркните крестиком, а новый выбранный ответ обведите кружком.

Предупреждаем Вас, что:

- при оценке тестовых заданий, где необходимо определить *один правильный ответ*, 0 баллов выставляется как за неверный ответ, а также, если участником отмечены несколько ответов (в том числе правильный), или все ответы;
- при оценке тестовых заданий, где необходимо определить *все правильные ответы*, 0 баллов выставляется, если участником отмечены более 2-х ответов, или все ответы (в том числе правильные).

Задание теоретического тура считается выполненным, если Вы вовремя сдаете его членам жюри.

*Желаем вам успеха!*

Общая оценка результата участника 100 баллов

### ТЕОРЕТИЧЕСКИЕ ЗАДАНИЯ

#### ЗАДАНИЕ 1. Максимальный балл -30

1.1. Заполните таблицу







Характер нарушения	Признаки и симптомы
Частичная непроходимость дыхательных путей, сознание сохранено.	
Полная непроходимость дыхательных путей, дыхание сохранено	
Удушье, потеря сознания.	


1.2. Перечислите признаки и симптомы инсульта

1.3. Перечислите признаки и симптомы проникающего ранения грудной клетки:

#### ЗАДАНИЕ 2. Максимальный балл - 25








2.1. Заполните таблицу названиями ядовитых растений леса

Название растения	Рисунок растения	Название растения	Рисунок растения
1		2	
3		4	
5		6	

7			
---	---	--	--

Вех ядовитый, Белена черная, Борщевик Сосновского, Клещевина, Белладонна (красавка), Вороний глаз, Волчье лыко

**2.2. Заполните таблицу названиями ядовитых комнатных растений**

Название растения	Рисунок растения	Название растения	Рисунок растения
1		2	
3		4	
5		6	
7			

Диффенбахия, Кротон, Азалия, Алоказия, Аглаонема, Молочай, Монстера

2.3. Дайте определение ядовитым растениям.

2.4. Какую первую помощь необходимо оказать пострадавшему при отравлении ядовитыми растениями?

**ЗАДАНИЕ 3. Максимальный балл - 30****3.1.** Дайте определение:**Социум** –**3.2.** Перечислите опасные социально-политические явления:**3.3.** Перечислите опасные социально-экономические явления:**3.4.** Дайте определение:**Конфликт** -**3.5.** Перечислите виды политического конфликта:**ТЕСТОВЫЕ ЗАДАНИЯ**

<b>№ п/п</b>	<b>Вопрос</b>		<b>ответы</b>
<b>1</b>	<b>На сколько градусов отличаются азимуты юго-востока и юго-запада:</b> А) 180°; Б) 135°; В) 90°; Г) 45°.	1	...
<b>2</b>	<b>Основной способ передачи возбудителя гриппа:</b> А) воздушно-капельный; Б) контактный; В) инъекционный; Г) пищевой	1	...
<b>3</b>	<b>Покрывало спасательное изотермическое накладывается серебристой стороной внутрь (к пострадавшему) при?</b> А) тепловом ударе; Б) переохлаждение; В) солнечном ударе; Г) значительном повышении температуры тела при инфекционных заболеваниях	1	...
<b>4</b>	<b>Основными загрязнителями поверхностных вод являются:</b> А) синтетические моющие средства; Б) нефть и нефтепродукты; В) сточные воды; Г) пестициды.	1	...
<b>5</b>	<b>При получении сигнала оповещения о радиационной аварии, находясь на улице, первым делом необходимо:</b> А) защитить органы дыхания; Б) добежать до дома; В) провести йодную профилактику; Г) позвонить в полицию.	1	...
<b>6</b>	<b>Что из перечисленного НЕ является мероприятием первой медицинской помощи?</b> А) наложение давящей повязки на рану при венозном кровотечении; Б) наложение шины при закрытом переломе голени; В) непрямой массаж сердца при отсутствии пульса; Г) самостоятельное вправление вывиха.	1	...
<b>7</b>	<b>Если вы, находясь на замёрзшем водоёме, почувствовали, что под вами проваливается лёд, то как вы будете</b>	1	...

	<b>передвигаться, чтоб не провалиться?</b> А) пробежите этот отрезок быстро вперед; Б) бегом назад; В) шагом вперед, не поднимая ног, почти скользя; Г) назад ползком на четвереньках или по-пластунски.		
8	<b>Наибольшей энергетической ценностью обладают</b> А) белки; Б) углеводы; В) жиры; Г) минеральные вещества.	1	...
9	<b>Большое затопление местности в результате подъема уровня воды в водоёме – это...</b> А) половодье; Б) наводнение; В) разлив; Г) потоп	1	...
10	<b>Какие бывают переломы конечностей?</b> А) тайный; Б) внутренний; В) наружный; Г) закрытый, открытый.	1	...
11	<b>Что не относится к основным видам экстремальных ситуаций в природных условиях?</b> А) Потеря ориентировки на местности; Б) Резкое изменение природных условий; В) Смена климатогеографических условий; Г) Вынужденное автономное существование.	1	...
12	<b>Укажите наиболее опасные последствия аварий и катастроф.</b> А) Селевые потоки, оползни; Б) Ураганы, бури, смерчи; В) Взрывы, пожары, затопления, заражение окружающей среды ядовитыми и радиоактивными веществами; Г) Эпидемии, эпифитотии.	1	...
13	<b>По масштабу распространения чрезвычайные ситуации классифицируются на:</b> А) локальные, местные, муниципальные; Б) межмуниципальные, региональные, межрегиональные; В) региональные, межрегиональные, федеральные; Г) локальные, муниципальные, межмуниципальные, региональные, межрегиональные, федеральные.	1	...
14	<b>Здоровый образ жизни – это:</b> А) мировоззрение человека, которое складывается из знаний о здоровье; Б) индивидуальная система поведения человека, направленная на сохранение и укрепление здоровья; В) система жизнедеятельности человека, в которой главной составляющей является отказ от вредных привычек; Г) достаточная двигательная активность и правильное питание.	1	...
15	<b>К какой группе здоровья относятся дети со сниженной сопротивляемостью организма, у которых отсутствуют</b>	1	...

	<p><b>хронические заболевания, а также дети, часто (4 раза в год и более) и длительно болеющие (более 25 дней по одному заболеванию)?</b></p> <p>А) К 4-й группе; Б) Ко 2-й группе; В) К 1-й группе; Г) К 3-й группе.</p>		
--	---	--	--

Всероссийская олимпиада школьников 2024-2025 учебный год  
Школьный этап. ОБЖ, 9 классы, **ОТВЕТЫ**  
Время выполнения 45 мин+ 15 минут. Максимальное кол-во баллов – 100+100=200  
Разработчик: Чмиль Ирина Борисовна, КГПУ им В.П. Астафьева

### ТЕОРЕТИЧЕСКИЕ ЗАДАНИЯ

#### ПРЕДМЕТНАЯ СЕКЦИЯ «ОБЕСПЕЧЕНИЕ ЛИЧНОЙ БЕЗОПАСНОСТИ В ПОВСЕДНЕВНОЙ ЖИЗНИ»

<b>9 КЛАССЫ</b>		
№ задания		Максимальный балл
<b>1</b>		<b>30</b>
<b>2</b>		<b>25</b>
<b>3</b>		<b>30</b>
<b>ТЕСТОВЫЕ ЗАДАНИЯ</b>		
№ задания	<b>ОТВЕТ</b>	Максимальный балл
1	<b>В</b>	<b>1</b>
2	<b>А</b>	<b>1</b>
3	<b>Б</b>	<b>1</b>
4	<b>Б</b>	<b>1</b>
5	<b>А</b>	<b>1</b>
6	<b>Г</b>	<b>1</b>
7	<b>Г</b>	<b>1</b>
8	<b>В</b>	<b>1</b>
9	<b>Б</b>	<b>1</b>
10	<b>Г</b>	<b>1</b>
11	<b>А</b>	<b>1</b>
12	<b>В</b>	<b>1</b>
13	<b>Г</b>	<b>1</b>
14	<b>Б</b>	<b>1</b>
15	<b>Б</b>	<b>1</b>
<b>Итого:</b>		<b>100 баллов</b>

#### ЗАДАНИЕ 1 (максимальный балл -30)

##### 1.1. Заполните таблицу

##### Признаки и симптомы удушения

<b>Характер нарушения</b>	<b>Признаки и симптомы</b>
Частичная непроходимость дыхательных путей, сознание сохранено.	Сильный кашель не продуктивный. Пострадавший хрипит или натужно кашляет, руками хватается за горло.
Полная непроходимость дыхательных путей, дыхание сохранено	Пострадавший не в состоянии говорить, дышать, руками хватается за горло, лицо синее, дыхательные движения отсутствуют.
Удушье, потеря сознания.	Пострадавший не реагирует на внешние раздражители, не дышит. Выраженный цианоз лица.

##### 1.2. Перечислите признаки и симптомы инсульта

- внезапная слабость и/или онемение лица, руки или ноги, обычно с одной стороны;
- затруднения с речью или ее пониманием;
- внезапная сильная головная боль;

- головокружение или состояние замешательства;
- бессознательное состояние;
- зрачки разного размера.

**1.3. Перечислите признаки и симптомы проникающего ранения грудной клетки:**





- затрудненное дыхание;
- кровотечение из открытой раны грудной клетки, пенообразование
- всасывающий звук, исходящий из раны при каждом вдохе;
- сильная боль в области раны;
- очевидная деформация, характерная для перелома;
- кровохаркание.

*Участник получает максимальную оценку - 30 баллов, за каждое правильный ответ начисляется по 2 балла*

*При отсутствии правильных ответов баллы не начисляются.*

**ЗАДАНИЕ 2. (максимальный балл - 25)**

**2.1. Заполните таблицу ядовитые растения леса**

Название растения	Рисунок растения	
Белладонна (красавка)		
Вех ядовитый		

Клещевина



Белена черная



Вороний глаз



Борщевик Сосновского



Волчье лыко	
-------------	--

## 2.2. Заполните таблицу ядовитые домашние растения

Название растения	Рисунок растения
Аглаонема	
Диффенбахия	
Кротон	
Алоказия	
Азалия	

Монстера		
Молочай		

### 2.3. Дайте определение:

**Ядовитыми** называются такие растения, которые вырабатывают токсичные вещества (фитотоксины), опасные для здоровья и жизни человека.

### 2.4. Какую первую помощь необходимо оказать пострадавшему при отравлении ядовиты растениями?

При большинстве отравлений первая помощь должна сводиться к скорейшему удалению содержимого желудочно-кишечного тракта (обильное промывание, дача слабительных), сопровождаемому приемом внутрь адсорбирующих (активированный уголь), осаждающих (охлажденный крепкий чай), нейтрализующих (пищевая сода, кислое питье), обволакивающих (крахмальная слизь, кисель, яичный белок, молоко) веществ.

*Участник получает максимальную оценку - 25 баллов, за каждый правильный ответ пунктов 2.1. и 2.2 по 2 балла. За правильное определение пункта 2.3. – 2 балла. За верный ответ 2.4. – 5 баллов.*

*При отсутствии правильных ответов баллы не начисляются.*

## ЗАДАНИЕ 3. (максимальный балл - 30)

### 3.1. Дайте определение:

**Социум** - это особая система, некоторый организм, развивающийся по своим специфическим законам, характеризующимся чрезвычайной сложностью.

### 3.2. Перечислите опасные социально-политические явления:

- военные (войны, вооруженные конфликты, взрывы, пожары на военных объектах, складах оружия);
- межэтнические конфликты;
- геноцид;
- забастовки, пикеты, массовые беспорядки;
- экстремизм.

### 3.3. Перечислите опасные социально-экономические явления:

- безработица;
- инфляция;
- низкий уровень обеспечения нетрудоспособных граждан;
- бедность;
- голод.

### 3.4. Дайте определение:

**Конфликт** называют столкновение несовпадающих, порой противоположных интересов, действий, взглядов отдельных личностей, политических партий, социально-политических и социально-экономических систем.

### 3.5. Перечислите виды политического конфликта:

- военная провокация, инцидент;
- военный конфликт;
- война.

*Участник получает максимальную оценку - 30 баллов. За каждый правильный ответ во всех пунктах ставится по 2 балла.*

*При отсутствии правильных ответов баллы не начисляются.*