

**Тестовый тур**

Все ответы занесите в БЛАНК для ответов

**1. Какие страны входят в Европейский союз?**

- А. Норвегия, Венгрия, Франция, Греция;
- Б. Великобритания, Германия, Испания, Швеция;
- В. Словакия, Финляндия, Болгария, Хорватия;
- Г. Мальта, Нидерланды, Польша, Швейцария.

**2. Определите страну по описанию:**

Граничит по суше с более 5 странами. Имеет выход к морю. В стране государственный строй — парламентская республика. Преобладают равнины и низменности. Большое количество медных руд, каменного угля. Является крупнейшим производителем тритикале, ржи, яблок, сахарной свеклы. Католицизм исповедует 80% населения страны. На территории этой страны проживает наибольшее количество белых аистов (23% от мировой популяции). Мазурское поозёрье представляют собой исторический и этнографический район в северной части страны.

- А. Монако;
- Б. Австрия;
- В. Польша;
- Г. Болгария.

**3. Расположите реки по их географическому положению с запада на восток:**

- А. Волга;
- Б. Лена;
- В. Индигирка;
- Г. Обь.

**4. Установите соответствие между страной и столицей. Запишите буквы и цифры, соответствующие выбранным ответам.**

- |                                  |              |
|----------------------------------|--------------|
| А) Нидерланды                    | 1) Белград   |
| Б) Саудовская Аравия             | 2) Дубай     |
| В) Гамбия                        | 3) Эр-Рияд   |
| Г) Объединенные Арабские Эмираты | 4) Амстердам |
| Д) Сербия                        | 5) Виндхук   |
|                                  | 6) Абу-Даби  |
|                                  | 7) Банжул    |

**5. Общая площадь Красноярского края составляет:**

- А. 2 845,5 тыс. км<sup>2</sup>
- Б. 2 784,6 тыс. км<sup>2</sup>
- В. 2 981,7 тыс. км<sup>2</sup>
- Г. 2 366,8 тыс. км<sup>2</sup>

**6. Назовите самую многоводную реку Российской Федерации:**


\_\_\_\_\_

**7. Установите соответствие между термином и описанием. Запишите буквы и цифры, соответствующие выбранным ответам.**

- |                      |   |
|----------------------|---|
| А) Атмосферный фронт | 1) Крупный атмосферный вихрь с пониженным давлением в центре.                     |
| Б) Воздушные массы   | 2) Подвижные объемы воздуха в тропосфере, одинаковые по своим свойствам.          |
| В) Циклон            | 3) Вытянутая зона в тропосфере на границе воздушных масс с различными свойствами. |
| Г) Антициклон        | 4) Крупный атмосферный вихрь с повышенным давлением в центре.                     |
|                      | 5) Сезонный ветер, меняющий свое направление летом и зимой.                       |

8. Определите изображения условных знаков на топографической карте, которые представлены ниже:

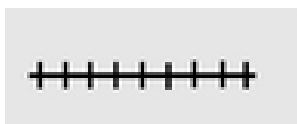
А.



В.



Б.



Г.



9. Выберите верное утверждение, характеризующее Российскую Федерацию:

- А. Крупнейшее озеро полуострова Ямал - Имандра, славится чистотой своих вод и ценными ресурсами сиговых рыб.
- Б. Нефтяное месторождение Ромашкинское входит в первую двадцатку крупнейших месторождений мира.
- В. Основные отрасли специализации Поволжья — черная и цветная металлургия и оборонно-промышленный комплекс.
- Г. В 2023 году Россия вышла на первое место в мире по импорту пшеницы.

10. Назовите один из самых активных вулканов Евразии, его высота около 4700 метров.

11. Какие крупные народы относятся к финно-угорской группе?

- А. Мордва, удмурты, марийцы;
- Б. Аварцы, черкесы, адыгейцы;
- В. Кумыки, балкарцы, карелы;
- Г. Чуваша, башкиры, финны.

12. Самая молодая традиционная мировая религия.

13. Численность населения, которая соответствует среднему городу

- А. От 500 тыс.;
- Б. До 50 тыс.;
- В. 50 - 100 тыс.;
- Г. 500 - 750 тыс.

14. Сопоставьте географические приборы и их названия:

А.








В.



Б.

Г.



1.		2.	
3.		4	
5.			

**Задание 2. Определите географический район по его характеристике.  
Максимальное количество баллов – 10.**

Плодородные равнины, богатые недра сделали эту территорию благоприятной для человеческой деятельности. Единственное место в мире, где находится 17 гор-лакколитов, которые геологи зачастую называют «неудавшимися вулканами». Через морские порты обеспечивает выход России к стратегическим проливам. В состав района включены 10 республик, 2 края, 3 области и город федерального значения. Велики запасы вольфрамowo-молибденовых руд, давно разрабатывается месторождение свинцово-цинковых руд, также есть месторождения нефти, газа и железных руд. Самый многонациональный район и один из наиболее густонаселенных регионов России. Самый крупный город территории, основанный в 1749 году, расположен совсем не в географическом центре района, и это связано со строительством железной дороги. Главная отрасль экономики — сельское хозяйство, здесь сложился мощный агропромышленный комплекс.

№	Вопрос
1.	Назовите географический район
2.	Какие два края входят в состав района?
3.	Назовите город федерального значения
4.	Назовите отрасли специализации района
5.	Назовите крупные города района

### Задание 3.

Рассчитайте ресурсообеспеченность стран. Используя данные из приведённой ниже таблицы, сравните ресурсообеспеченность стран пресной водой. Расположите страны в порядке уменьшения в них показателя ресурсообеспеченности пресной водой на душу населения, начиная со страны с наибольшим показателем.

**Максимальное количество баллов – 10 баллов.**

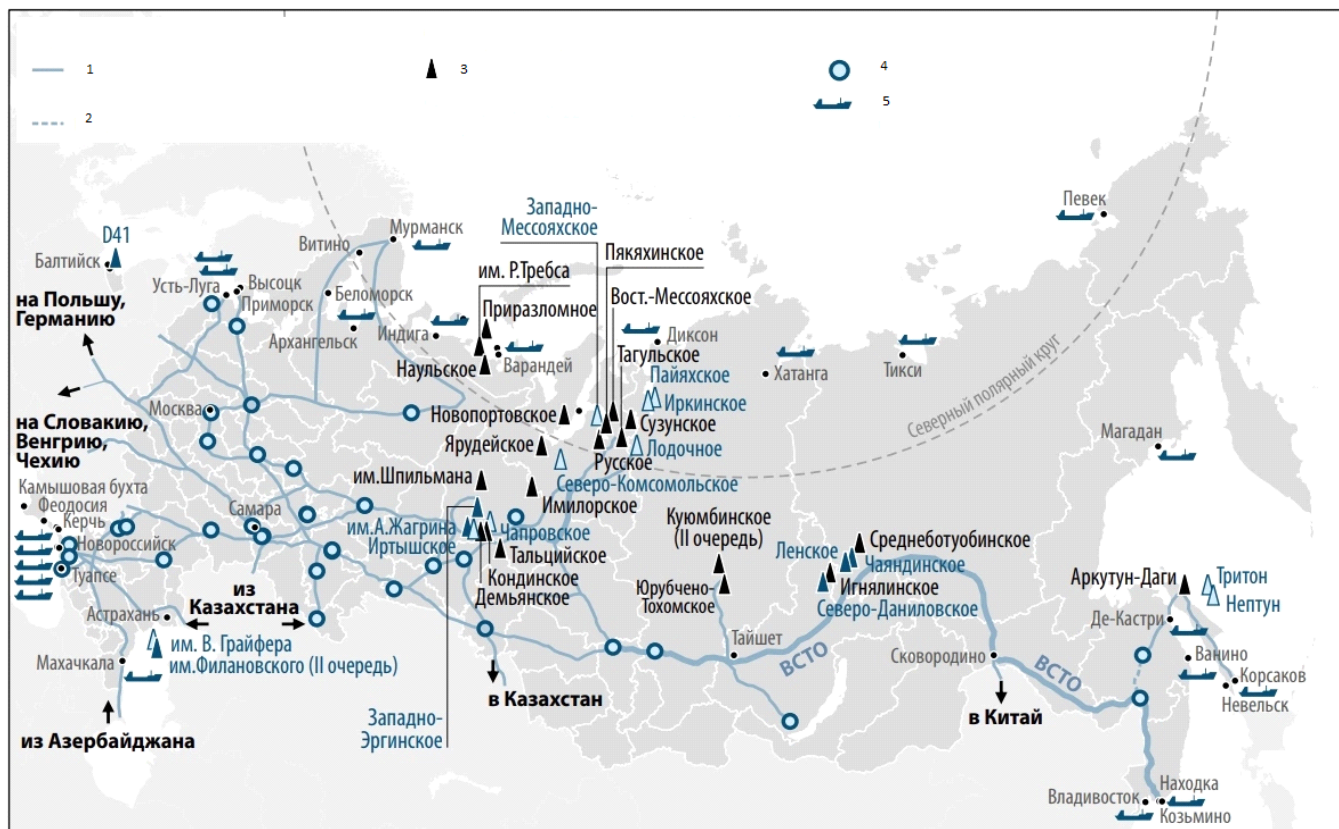
№	Название страны	Добыча, млрд т	Численность населения, млн. чел.	Ресурсы, км <sup>3</sup>
1.	Российская Федерация	64,9	144	4 500
2.	Венесуэла	50	28	1 320
3.	Канада	58,7	38	2 900
4.	Индия	62,2	1,417	2 085
5.	Мьянма	20	54	55

Расположите страны в порядке уменьшения в них показателя ресурсообеспеченности пресной водой на душу населения, начиная со страны с наибольшим показателем.

### Задание 4.

Перед вами карта. Ответьте на вопросы, используя данную карту.

**Максимальное количество баллов – 10 баллов.**



- 1) Напишите название карты
- 2) Напишите название условных обозначений в легенде карты
- 3) Какими видами транспортировки можно перевозить данный продукт
- 4) Назовите географический район – лидер по добыче данного ресурса

Всероссийская олимпиада школьников 2024-2025 учебный год  
Школьный этап. География, 10-11 класс, ответы  
Время выполнения 90 мин. Максимальное кол-во баллов – 60  
Разработчики: Королева М.В., Дорофеева Л.А. кафедра географии и методики обучения  
географии КГПУ им. В.П. Астафьева

### Тестовый тур

№ задания	Правильный ответ	Кол-во баллов	№ задания	Правильный ответ	Кол-во баллов
1	В	1	11	А	1
2	В	1	12	Ислам	1
3	1-4-2-3	1	13	В	1
4	А-4; Б-3; В-7; Г-6; Д-1.	1	14	А-2; Б-6; В-3; Г-4.	1
5	Г	1	15	В	1
6	Енисей	1	16	Эльбрус	1
7	А-3; Б-2; В-1; Г-4	1	17	Озеро Виви (Виви)	1
8	А - фруктовый сад; Б - насыпь; В - школа; Г - кустарники.	1	18	Человеческий капитал	1
9	2	1	19	Тайга	1
10	Ключевская сопка (Ключевской)	1	20	5-2-4-1-3	1
	Всего				

### Практический тур

Задание 1.

**Максимальное количество баллов – 10.**

№	Туристический объект	Название туристического объекта	Кол-во баллов	Страна нахождения туристического объекта	Кол-во баллов
1.		Статуи Моаи (Истуканы)	1	Чили (о. Пасхи)	1

2.		Храм Василия Блаженного	1	Российская Федерация (Россия)	1
3.		г. Фудзияма	1	Япония	1
4.		Великая Китайская стена	1	Китайская Народная Республика (Китай)	1
5.		Бразильский карнавал (Карнавал)	1	Бразилия	1

Задание 2.

**Максимальное количество баллов – 10.**

№	Вопрос	Ответы	Кол-во баллов
1.	Назовите географический район	Европейский Юг	2
2.	Какие два края входят в состав района?	Краснодарский край, Ставропольский край	2
3.	Назовите город федерального значения	Севастополь	2
4.	Назовите отрасли специализации района	Пищевая; Растениеводство (зерновое хозяйство, сахарная свёкла, подсолнечник, овощеводство, виноградарство, субтропическое сельское хозяйство (субтропическое земледелие)); Животноводство (скотоводство, свиноводство, овцеводство); АПК; Туризм.	2

		(2 балла, если указано правильно хотя бы две отрасли)	
5.	Крупные города района	Ростов-на-Дону, Краснодар, Нальчик, Пятигорск, Махачкала, Грозный, Запорожье, Донецк. (2 балла, если указано правильно хотя бы два города)	2

Задание

3.

**Максимальное количество баллов – 10 баллов.**

№	Страна	Кол-во баллов	Ресурсообеспеченность	Кол-во баллов
1.	Канада	1	76,3	1
2.	Венесуэла	1	47,1	1
3.	Российская Федерация	1	31,2	1
4.	Индия	1	1,4	1
5.	Мьянма	1	1	1

Задание 4.

**Максимальное количество баллов – 10 баллов.**

1) Напишите название карты

География нефтяной промышленности России или Размещение объектов нефтяной промышленности России или Нефтяная промышленность России. За правильный или близкий к правильному ответ – **1 балл**

2) Напишите название условных обозначений в легенде карты

Цифра	Название	Количество баллов
1	Действующий нефтепровод	1
2	Планируемый нефтепровод	1
3	Месторождение нефти	1
4	Нефтеперерабатывающие заводы (НПЗ)	1
5	Порты налива и слива нефтепродуктов	1
<b>Максимальный балл</b>		<b>5</b>

3) Какими видами транспортировки можно перевозить данный продукт?

Правильный ответ: Железнодорожный, морской, автомобильный, трубопроводный.

За правильно указанные 2 вида транспорта – 2 баллов

За правильно указанные 3 вида транспорта – 2,5 балла

За правильно указанные все виды транспорта – 3 балла

**Максимальное количество баллов за вопрос – 3 балла**

4) Назовите географический район – лидер по добыче данного ресурса.

Правильный ответ: Западная Сибирь (или Сибирь) – 1 балл

**Максимальное количество баллов за вопрос – 1 балл**