

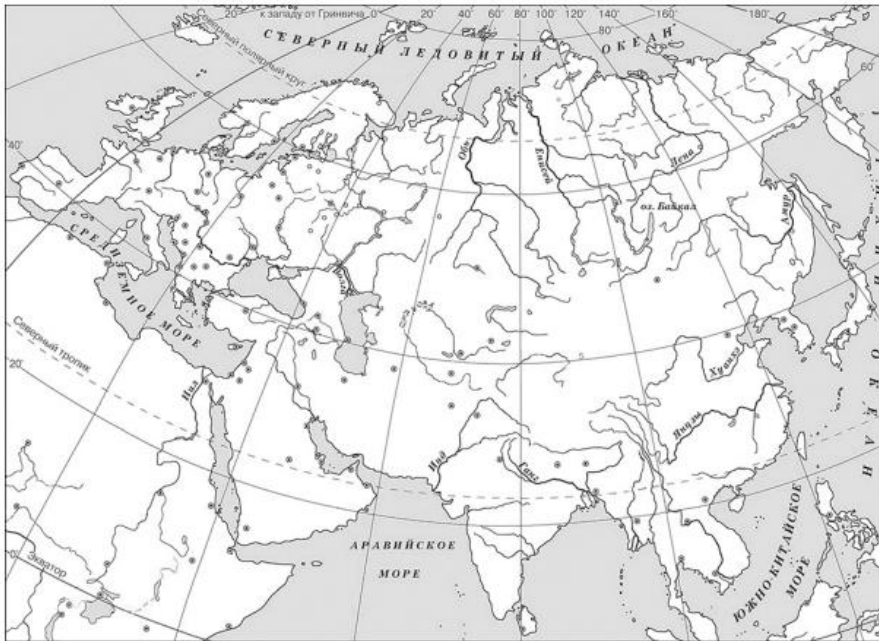
## Контрольная работа по теме «Древний Восток». Вариант 1

- 1 На данной ленте времени каждый отрезок между делениями соответствует одному веку. Отметьте на ленте времени чёрточками и подпишите следующие годы: 330 г. до н.э., 50 г. до н.э., 90 г. н.э.

Рождение  
Иисуса  
Христа



- 2 Заштрихуйте на контурной карте один четырёхугольник, образованный градусной сеткой (параллелями и меридианами), в котором полностью или частично находится река Янцзы.



### Перечень тем

- А) шумерские города-государства  
Б) Древняя Индия  
В) Древний Египет  
Г) Древняя Палестина

- 3 Каждая из иллюстраций, приведённых ниже, относится к одной из указанных в перечне тем. Установите соответствие между темами и иллюстрациями: к каждой теме подберите относящуюся к ней иллюстрацию.



1)



2)



3)



4)

Запишите в таблицу выбранные цифры под соответствующими буквами.



Ответ:

А	Б	В	Г

Перечень тем

- |                                 |                      |
|---------------------------------|----------------------|
| А) шумерские города-государства | Б) Древняя Индия     |
| В) Древний Египет               | Г) Древняя Палестина |

Прочтите отрывок из исторического источника и выполните задания 4 и 5.

«У царя этого племени родился первенец, которому дали имя Гаутама. На седьмой день после рождения сына умерла его мать. Отец решил посвятить свою жизнь сыну. Он приказал огородить дом высокой стеной, чтобы ничто не могло смутить юную душу. В ворота пропускали только красивых и хорошо одетых людей. Прожив 29 лет, став мужем и отцом, Гаутама ни разу не выходил за ворота и наивно полагал, что всюду живут так же беззаботно, как он. Но однажды он встретил дряхлого старца и понял, что старость неизбежна. Встретил больного и понял, что не вечно будет здоров. Он задумался о смерти и решил стать отшельником. Долго странствовал он, голодал и терпел лишения. И однажды, когда он сидел под огромным деревом, скрестив ноги, предаваясь глубокому размышлению, он обрёл мудрость».

- 4 Определите, к какой из предложенных тем относится данный отрывок. В ответе напишите букву, которой обозначена эта тема.

Ответ:

- 5 Почему согласно данному отрывку Гаутама считал, что всюду живут так же беззаботно, как он? Какое событие, согласно данному отрывку, позволило Гаутаме понять, что старость неизбежна?

Ответ: \_\_\_\_\_  
\_\_\_\_\_  
\_\_\_\_\_  
\_\_\_\_\_

Перечень тем

- |                                 |                      |
|---------------------------------|----------------------|
| А) шумерские города-государства | Б) Древняя Индия     |
| В) Древний Египет               | Г) Древняя Палестина |

Выберите одну тему из перечня, а затем выполните относящиеся к этому перечню задание 6 только по выбранной Вами теме. Перед выполнением задания укажите букву, которой обозначена выбранная тема.

- 6 Выбранная тема:  (укажите букву в перечне).

Прочтите список слов и напишите слово, относящееся к выбранной Вами теме.

*Иероглифы, «Рамаяна», клинопись, десять заповедей, конфуцианство.*

Ответ: \_\_\_\_\_

Объясните смысл этого слова.

Ответ: \_\_\_\_\_  
\_\_\_\_\_

- 7 Что из перечисленного стало одним из последствий развития торговли у древних финикийцев?

- 1) создание первых в мире кораблей
- 2) создание первого в мире алфавита
- 3) создание первых в мире законов

Ответ:

Объясните, как выбранное Вами положение связано с развитием торговли у древних финикийцев.

Ответ: \_\_\_\_\_  
\_\_\_\_\_  
\_\_\_\_\_  
\_\_\_\_\_

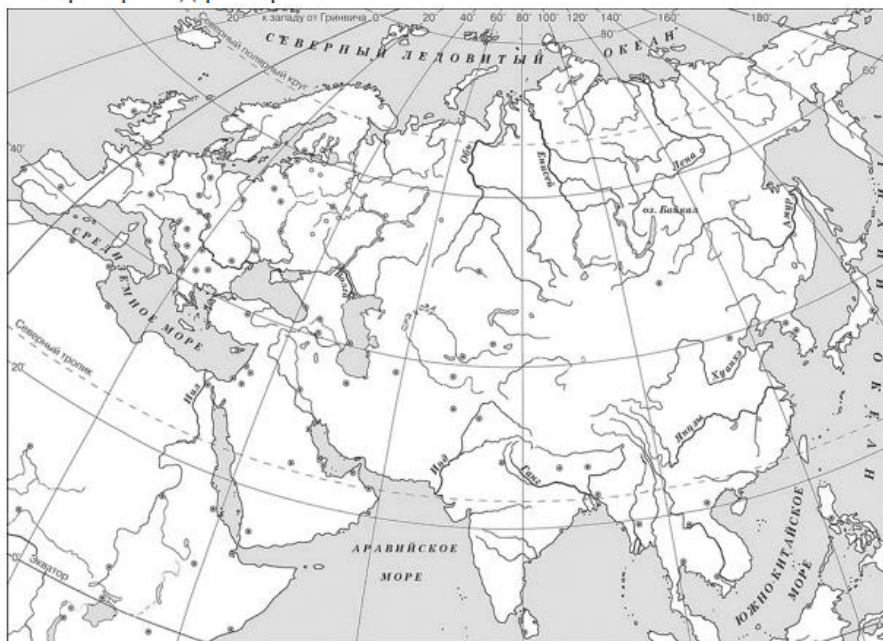
## Контрольная работа по теме «Древний Восток». Вариант 2

- 1) На данной ленте времени каждый отрезок между делениями соответствует одному веку. Отметьте на ленте времени чёрточками и подпишите следующие годы: 440 г. до н.э., 90 г. до н.э., 150 г. н.э.

Рождение  
Иисуса  
Христа





- 2) Заштрихуйте на контурной карте один четырёхугольник, образованный градусной сеткой (параллелями и меридианами), где полностью или частично было расположено государство, в котором правил Дарий Первый.



### Перечень тем

- А) Древний Египет  
Б) Древний Китай  
В) Ассирийское государство  
Г) Древняя Индия

- 3) Каждая из иллюстраций, приведённых ниже, относится к одной из указанных в перечне тем. Установите соответствие между темами и иллюстрациями: к каждой теме подберите по одной иллюстрации.



Запишите в таблицу выбранные цифры под соответствующими буквами.

Ответ:

А	Б	В	Г

Перечень тем

- |                            |                  |
|----------------------------|------------------|
| А) Древний Египет          | Б) Древний Китай |
| В) Ассирийское государство | Г) Древняя Индия |

Прочтите отрывок из исторического источника и выполните задания 4 и 5.

Прочитайте отрывок из исторического источника и определите, к какой из данных тем он относится. В ответе напишите букву, которой обозначена эта тема.

«Поскольку весь честный народ жаждал обрести покой в своей жизни, все с открытым сердцем, как один, взирали на государя. Именно в это время решалось, будет ли сохранено величие династии, упрочены заслуги и основы спокойствия или гибели.

Но циньский ван отличался алчностью и грубостью, действовал исключительно по своему разумению, не доверяя заслуженным чиновникам, не был близок к служилым людям и к народу. Он отверг пути совершенных правителей, утвердил единоличную власть, запретил учёность и книги, ужесточил законы о наказаниях, поставил на первое место хитрость и силу и только затем человеколюбие и справедливость; так жестокость и насилия легли в основу управления Поднебесной».

- 4) Определите, к какой из предложенных тем относится данный отрывок. В ответе напишите букву, которой обозначена эта тема.

□ Ответ: □

- 5) Чего жаждал народ от правителя, согласно данному отрывку? Почему, согласно данному отрывку, циньский ван отверг пути совершенных правителей?

□ Ответ: \_\_\_\_\_  
\_\_\_\_\_  
\_\_\_\_\_  
\_\_\_\_\_

Перечень тем

- |                            |                  |
|----------------------------|------------------|
| А) Древний Египет          | Б) Древний Китай |
| В) Ассирийское государство | Г) Древняя Индия |

Выберите одну тему из перечня, а затем выполните относящиеся к этому перечню задание 6 только по выбранной Вами теме. Перед выполнением задания укажите букву, которой обозначена выбранная тема.

- 6) Выбранная тема: □ (укажите букву в перечне).

Прочтите список слов и напишите слово, относящееся к выбранной Вами теме.

*Иероглифы, библиотека глиняных книг, Хуанхэ, «царь царей», царская дорога, «неприкасаемые».*

Ответ: \_\_\_\_\_

Объясните смысл этого слова.

□ Ответ: \_\_\_\_\_  
\_\_\_\_\_

- 7) Что из перечисленного стало одним из последствий развития торговли у древних финикийцев?

- 1) создание первых в мире кораблей
- 2) создание первого в мире алфавита
- 3) создание первых в мире законов

Ответ: □

Объясните, как выбранное Вами положение связано с развитием торговли у древних финикийцев.

□ Ответ: \_\_\_\_\_  
\_\_\_\_\_  
\_\_\_\_\_  
\_\_\_\_\_