

Места распределяются по результатам лучшей попытки каждого спортсмена: чем дальше он метнул молот, тем лучше.

Какое место занял спортсмен Арнюк?

4. Энергия заряженного конденсатора W (в Дж) вычисляется по формуле $W = \frac{CU^2}{2}$, где C – ёмкость конденсатора (в Ф), а U – разность потенциалов на обкладках конденсатора (в В). Найдите энергию конденсатора (в Дж) ёмкостью 10^{-4} Ф, если разность потенциалов на обкладках конденсатора равна 12 В.

5. Конкурс исполнителей проводится в 5 дней. Всего заявлено 60 выступлений – по одному от каждой страны, участвующей в конкурсе. Исполнитель из России участвует в конкурсе. Все выступления поровну распределены между конкурсными днями. Порядок выступлений определяется жеребьёвкой. Какова вероятность, что выступление исполнителя из России состоится в третий день конкурса?

6. Мебельный салон заключает договоры с производителями мебели. В договорах указывается, какой процент от суммы, вырученной за продажу мебели, поступает в доход мебельного салона.

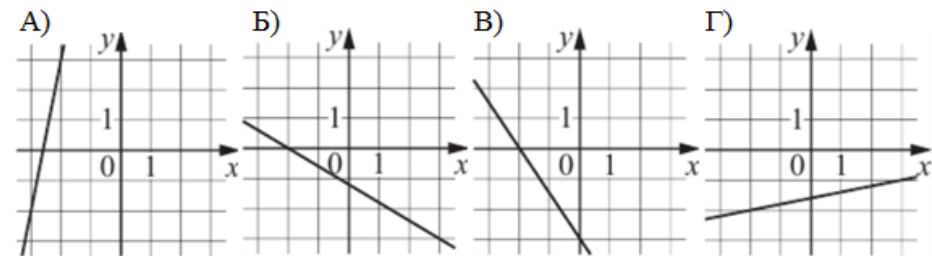
Фирма-производитель	Процент от выручки, поступающий в доход салона	Примечание
«Альфа»	6,5 %	Изделия ценой до 20 000 руб.
«Альфа»	2 %	Изделия ценой свыше 20 000 руб.
«Бета»	3 %	Все изделия
«Омикрон»	4,5%	Все изделия

В прейскуранте приведены цены на четыре софы. Определите, продажа какой софы наиболее выгодна для салона. В ответ запишите, сколько рублей поступит в доход салона от продажи этой софы.

Фирма-производитель	Изделие	Цена
«Альфа»	Софа «Победа»	16000 руб.
«Альфа»	Софа «Храбрость»	23000 руб.
«Бета»	Софа «Нега»	20000 руб.
«Омикрон»	Софа «Удача»	17500 руб.

7. На рисунках изображены графики функций вида $y = kx + b$. Установите соответствие между графиками функций и угловыми коэффициентами прямых.

ГРАФИКИ



УГЛОВЫЕ КОЭФФИЦИЕНТЫ

- 1) 0,2 2) 5 3) - 1,5 4) - 0,6

В таблице под каждой буквой укажите соответствующий номер.

А	Б	В	Г

8. Некоторые учащиеся 11-х классов школы ходили в октябре на спектакль "Вишнёвый сад", декабре некоторые одиннадцатиклассники пойдут на постановку по пьесе «Три сестры», причём среди них не будет тех, кто ходил в октябре на спектакль «Вишнёвый сад». Выберите утверждения, которые будут верны при указанных условиях независимо от того, кто из одиннадцатиклассников пойдёт на постановку по пьесе "Три сестры".

1) Нет ни одного одиннадцатиклассника, который ходил на спектакль «Вишнёвый сад» и пойдёт на постановку по пьесе «Три сестры».

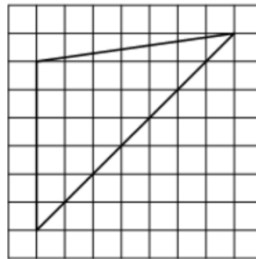
2) Каждый учащийся 11-х классов, который не был на спектакле «Вишнёвый сад», пойдёт на постановку по пьесе «Три сестры».

3) Среди учащихся 11-х классов этой школы, которые не пойдут на постановку по пьесе «Три сестры», есть хотя бы один, который ходил на спектакль «Вишнёвый сад».

4) Найдётся одиннадцатиклассник, который не ходил на спектакль «Вишнёвый сад» и не пойдёт на постановку по пьесе «Три сестры».

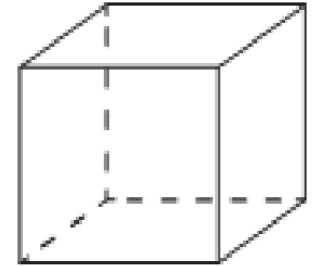
В ответе запишите номера выбранных утверждений без пробелов, запятых и других дополнительных символов.

9. План местности разбит на клетки. Каждая клетка является квадратом размером $1\text{ м} \times 1\text{ м}$. Найдите площадь участка, изображённого на плане. Ответ дайте в квадратных метрах.

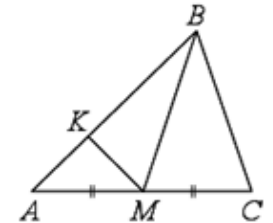


10. Масштаб карты такой, что в одном сантиметре 8,5 км. Чему равно расстояние между городами A и B (в км), если на карте оно составляет 2 см?

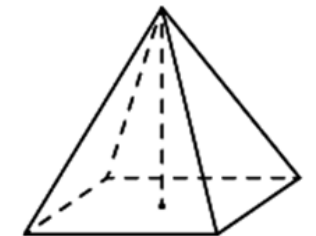
11. Ящик, имеющий форму куба с ребром 20 см без одной грани, нужно покрасить со всех сторон снаружи. Найдите площадь поверхности, которую необходимо покрасить. Ответ дайте в квадратных сантиметрах.



12. В треугольнике ABC проведена медиана BM , на стороне AB взята точка K так, что $AK = \frac{1}{4}AB$. Площадь треугольника AMK равна 4. Найдите площадь треугольника ABC .



13. Основанием четырёхугольной пирамиды является прямоугольник со сторонами 3 и 12. Найдите высоту этой пирамиды, если её объём равен 60.



14. Найдите значение выражения $2,3 + 1,92 : 1,6$

15. Длины двух рек относятся как 5:6, при этом одна из них длиннее другой на 10 км. Найдите длину большей реки. Ответ дайте в километрах.

16. Найдите значение выражения $2^{\log_2 7 - 2}$

17. Найдите корень уравнения $(2x - 1)^2 - 4x^2 = 0$.

18. Число m равно $\sqrt{5}$.

Каждому из четырёх чисел в левом столбце соответствует отрезок, которому оно принадлежит. Установите соответствие между числами и отрезками из правого столбца.

ЧИСЛА	ОТРЕЗКИ
А) $\frac{1}{m}$	1) $[0;1]$
Б) \sqrt{m}	2) $[1;2]$
В) $-m + 5$	3) $[2;3]$
Г) $m^2 - 1,2$	4) $[3;4]$

Впишите в приведённую в ответе таблицу под каждой буквой соответствующую цифру.

A	B	C	D

19. Вычеркните в числе 181615121 три цифры так, чтобы получившееся число делилось на 12. В ответе укажите какое-нибудь одно такое число

20. Один мастер может выполнить заказ за 12 часов, а другой — за 6 часов. За сколько часов выполнят заказ оба мастера, работая вместе?

21. Во всех подъездах дома одинаковое число этажей, и на всех этажах одинаковое число квартир. При этом число этажей в доме больше числа квартир на этаже, число квартир на этаже больше числа подъездов, а число подъездов больше одного. Сколько этажей в доме, если всего в нём 105 квартир?

ОТВЕТЫ К ТРЕНИРОВОЧНОМУ ВАРИАНТУ 32

1	3	Решение
2	1432	Решение
3	3	Решение
4	0,0072	Решение
5	0,2	Решение
6	1040	Решение
7	2431	
8	13	Решение
9	21	
10	17	
11	2000	
12	32	
13	5	
14	3,5	Решение
15	60	Решение
16	1,75	Решение
17	0,25	Решение
18	1234	
19	181512 116112 811512 181152	
20	4	Решение
21	7	