

ВСЕРОССИЙСКАЯ ОЛИМПИАДА ШКОЛЬНИКОВ
ИСТОРИЯ. 2025 уч. г.
ПРИГЛАСИТЕЛЬНЫЙ ЭТАП. 6–7 КЛАССЫ

ЗАДАНИЯ

Максимальный балл за работу – 45.

1. Ниже приведены названия городов. Укажите тот, который НЕ входил в состав Русского государства в XVII веке.

- 1) Киев 2) Смоленск 3) Минск 4) Псков

Ответ:

2. Прочитайте отрывок из произведения и укажите его название.

«Король наш Карл, великий император,
Провоевал семь лет в стране испанской.
Весь этот горный край до моря занял,
Взял приступом все города и замки,
Поверг их стены и разрушил башни,
Не сдали только Сарагосу мавры».

- 1) «Ромео и Джульетта»
2) «Повесть временных лет»
3) «Песнь о Роланде»
4) «Старшая Эдда»

Ответ:

3-5. Внимательно рассмотрите изображение и ответьте на вопросы.



3. Выберите имена исторических деятелей, изображённых на юбилейной медали.

1. Дмитрий Донской
2. Александр Невский
3. Сергей Радонежский
4. Ярослав Мудрый
5. Александр Пересвет
6. Родион Ослябя
7. Нестор
8. Челубей

Ответ:

4. Определите монастырь, где происходило отражённое на юбилейной медали событие.

1. Новоиерусалимский монастырь
2. Иосифо-Волоцкий монастырь
3. Киево-Печёрский монастырь
4. Троице-Сергиев монастырь

Ответ:

5. Укажите, какие события произошли при правлении того же князя, что и событие, изображённое на медали.

1. Тверское восстание
2. стояние на Угре
3. битва на р. Воже
4. поход Тамерлана на Русь
5. битва на р. Пьяне
6. битва под Оршей
7. поход Тохтамыша на Москву
8. битва на р. Шелони
9. поход Едигея на Москву.

Ответ:

6-7. Выберите из приведённых вариантов обоснование логического ряда (то, что объединяет перечисленные элементы (кроме одного) с исторической точки зрения).

А) куна Б) ногата В) резана Г) гривна Д) вервь

- 1) денежные единицы Древней Руси
- 2) категории зависимого населения Древней Руси
- 3) древнерусские меры веса
- 4) денежные единицы Византии
- 5) древнерусские меры длины

Ответ:

7. Укажите, какой из элементов является лишним по выбранному вами основанию.

Ответ:

8. Расположите в хронологической последовательности перечисленные события.

- А) отмена опричнины
- Б) Вестфальский мирный договор
- В) Гуситские войны
- Г) начало экспедиции Ф. Магеллана
- Д) присоединение Твери к Московскому княжеству
- Е) смерть Феодора Годунова

Ответ:

1	2	3	4	5	6

9-14. Внимательно рассмотрите карту и выполните задания.



9. Выберите из списка корректную датировку событий, обозначенных на карте.

1. 1337–1453 гг.
2. 1455–1485 гг.
3. 732–1492 гг.
4. 1433–1453 гг.
5. 1565–1572 гг.

Ответ:

10. Выберите из списка корректное название событий, обозначенных на карте.

1. Альбигойские войны
2. реконкиста
3. Столетняя война
4. Война Алой и Белой розы
5. движение таборитов

Ответ:

11. Выберите из списка буквенное обозначение территорий, на которые претендовали обе воюющие стороны в силу экономической значимости этих территорий.

- 1) А
- 2) Б
- 3) В
- 4) Г
- 5) Д
- 6) Е

Ответ:

12. Укажите цифру, обозначающую город, в снятии осады которого приняла участие историческая личность, известная как «Орлеанская дева».

Ответ:

13. Укажите цифру, обозначающую посёлок, близ которого развернулось первое значительное сражение изображённой войны, обернувшееся тяжёлыми потерями для одной из противоборствующих сторон.

Ответ:

14. Выберите верные утверждения.

1. Цифрой «3» на карте обозначен город, в котором некоторое время находилась резиденция Папы Римского.
2. Буквой «Д» на карте обозначено Адриатическое море
3. По состоянию на время, отражённое на карте, территории, обозначенные буквами «В» и «Г», входили в состав Англии.
4. Территория, обозначенная буквой «А», являлась одним из крупнейших в Европе центром производства тканей вообще и сукна в частности.
5. В ходе битв близ населённых пунктов, обозначенных на карте цифрами «2» и «4», было выявлено значительное превосходство лучников одной воюющей стороны над арбалетчиками другой.

Ответ:

15. Перед вами изображения, посвящённые различным событиям в истории России. Укажите годы, когда произошли эти события.

Годы: 1380, 1238, 988, 1433, 1478, 971.



А)



Б)




В)



Г)



Д)



Е)

Ответ:

Изображение	Год
А	
Б	
В	
Г	
Д	
Е	

16-19. Прочитайте отрывок из документа и выполните задания.

«И сказал князь великий: “Сосчитайте, братья, скольких воевод нет, скольких служилых людей”. Говорит боярин московский, именем Михаил Александрович, а был он в полку у Микулы у Васильевича, счётчик был гораздый: “Нет у нас, государь, сорока бояр московских, да двенадцати князей белозерских, да тринадцати бояр – посадников новгородских, да пятидесяти бояр Новгорода Нижнего, да сорока бояр серпуховских, да пятидесяти бояр суздальских, да сорока бояр муромских, да двадцати бояр дмитровских, да семидесяти бояр можайских, а младшим дружинникам и счёта нет; но только знаем: погубило у нас дружины всей двести пятьдесят тысяч и три тысячи, а осталось у нас дружины пятьдесят тысяч”. И сказал князь великий: “Слава тебе, высший Творец, царь небесный, милостивый Спас, что помиловал нас, грешных, не отдал в руки врагов наших, поганых сыроядцев. А вам, братья, князья, и бояре, и воеводы, и младшая дружина, русские сыны, суждено место между Доном и Непрядвой. Положили вы головы свои за землю Русскую, за веру христианскую. Простите меня, братья, и благословите в сей жизни и в будущей!”»

16. Укажите год, когда произошло это событие.

Ответ:

17. Укажите великого князя, о котором идёт речь в отрывке.

1. Александр Ярославич Невский
2. Василий Дмитриевич Первый
3. Дмитрий Юрьевич Шемяка
4. Дмитрий Иванович Донской
5. Иван Васильевич Грозный

Ответ:

18. Летописец перечисляет земли и княжества, представители которых погибли на поле боя. Выберите среди них города, которые в период описываемых событий, помимо Москвы, входили в состав Московского княжества.

1. Белоозеро
2. Великий Новгород
3. Дмитров
4. Можайск
5. Муром
6. Нижний Новгород
7. Серпухов
8. Суздаль

Ответ:

19. Летописец перечисляет земли и княжества, представители которых погибли на поле боя. Выберите среди них город, форма правления в котором отличалась от остальных.

Выберите из списка:

1. Белоозеро
2. Великий Новгород
3. Дмитров
4. Можайск
5. Муром
6. Нижний Новгород
7. Серпухов
8. Суздаль

Ответ:

20. Рассмотрите представленные фотографии. Выберите те, которые посвящены событиям Великой Отечественной войны.



5



6



7



8



9



10



Ответ:

21. Почему полёт Гагарина произошёл именно в День космонавтики?

1. В СССР знаковые события приурочивали к большим праздникам.
2. Случайно совпало - в этот день была хорошая погода.
3. Это связано с наиболее удобными условиями для старта корабля, исходя из расположения Земли и Луны.
4. Другой ответ.

Ответ:

ВСЕРОССИЙСКАЯ ОЛИМПИАДА ШКОЛЬНИКОВ
ИСТОРИЯ. 2025 уч. г.
ПРИГЛАСИТЕЛЬНЫЙ ЭТАП. 6–7 КЛАССЫ

ОТВЕТЫ И КРИТЕРИИ ОЦЕНИВАНИЯ

Максимальный балл за работу – 45.

1. Ниже приведены названия городов. Укажите тот, который НЕ входил в состав Русского государства в XVII веке.

- 1) Киев 2) Смоленск 3) Минск 4) Псков

Ответ: 3.

За верный ответ – 1 балл.

2. Прочитайте отрывок из произведения и укажите его название.

«Король наш Карл, великий император,
Провоевал семь лет в стране испанской.
Весь этот горный край до моря занял,
Взял приступом все города и замки,
Поверг их стены и разрушил башни,
Не сдали только Сарагосу мавры».

- 1) «Ромео и Джульетта»
2) «Повесть временных лет»
3) «Песнь о Роланде»
4) «Старшая Эдда»

Ответ: 3.

За верный ответ – 1 балл.

3-5. Внимательно рассмотрите изображение и ответьте на вопросы.



3. Выберите имена исторических деятелей, изображённых на юбилейной медали.

1. Дмитрий Донской
2. Александр Невский
3. Сергей Радонежский
4. Ярослав Мудрый
5. Александр Пересвет
6. Родион Ослябя
7. Нестор
8. Челубей

Ответ: 1, 3, 5, 6.

За каждый верный выбор – 1 балл, за каждый неверный выбор – штраф 1 балл, при выборе более 6 ответов - 0 баллов за задание. Максимум за задание – 4 балла.

4. Определите монастырь, где происходило отражённое на юбилейной медали событие.

1. Новоиерусалимский монастырь
2. Иосифо-Волоцкий монастырь
3. Киево-Печёрский монастырь
4. Троице-Сергиев монастырь

Ответ: 4.

За верный ответ – 1 балл.

5. Укажите, какие события произошли при правлении того же князя, что и событие, изображённое на медали.

1. Тверское восстание
2. стояние на Угре
3. битва на р. Воже
4. поход Тамерлана на Русь
5. битва на р. Пьяне
6. битва под Оршей
7. поход Тохтамыша на Москву
8. битва на р. Шелони
9. поход Едигея на Москву.

Ответ: 3, 5, 7.

За каждый верный выбор – 1 балл, за каждый неверный выбор – штраф 1 балл, при выборе более 5 ответов - 0 баллов за задание. Максимум за задание – 3 балла.

6-7. Выберите из приведённых вариантов обоснование логического ряда (то, что объединяет перечисленные элементы (кроме одного) с исторической точки зрения).

А) куна Б) ногата В) резана Г) гривна Д) вервь

- 1) денежные единицы Древней Руси
- 2) категории зависимого населения Древней Руси
- 3) древнерусские меры веса
- 4) денежные единицы Византии
- 5) древнерусские меры длины

Ответ: 1.

За верный ответ – 1 балл.

7. Укажите, какой из элементов является лишним по выбранному вами основанию.

Ответ: Д.

За верный ответ – 1 балл.

8. Расположите в хронологической последовательности перечисленные события.

- А) отмена опричнины
- Б) Вестфальский мирный договор
- В) Гуситские войны
- Г) начало экспедиции Ф. Магеллана
- Д) присоединение Твери к Московскому княжеству
- Е) смерть Феодора Годунова

Ответ:

1	2	3	4	5	6
В	Д	Г	А	Е	Б

Максимум за задание – 6 баллов.

9-14. Внимательно рассмотрите карту и выполните задания.



9. Выберите из списка корректную датировку событий, обозначенных на карте.

1. 1337–1453 гг.
2. 1455–1485 гг.
3. 732–1492 гг.
4. 1433–1453 гг.
5. 1565–1572 гг.

Ответ: 1.

За верный ответ – 1 балл.

10. Выберите из списка корректное название событий, обозначенных на карте.

1. Альбигойские войны
2. реконкиста
3. Столетняя война
4. Война Алой и Белой розы
5. движение таборитов

Ответ: 3.

За верный ответ – 1 балл.

11. Выберите из списка буквенное обозначение территорий, на которые претендовали обе воюющие стороны в силу экономической значимости этих территорий.

- 1) А
- 2) Б
- 3) В
- 4) Г
- 5) Д
- 6) Е

Ответ: 1.

За верный ответ – 1 балл.

12. Укажите цифру, обозначающую город, в снятии осады которого приняла участие историческая личность, известная как «Орлеанская дева».

Ответ: 1.

За верный ответ – 1 балл.

13. Укажите цифру, обозначающую посёлок, близ которого развернулось первое значительное сражение изображённой войны, обернувшееся тяжёлыми потерями для одной из противоборствующих сторон.

Ответ: 4.

За верный ответ – 1 балл.

14. Выберите верные утверждения.

1. Цифрой «3» на карте обозначен город, в котором некоторое время находилась резиденция Папы Римского.
2. Буквой «Д» на карте обозначено Адриатическое море
3. По состоянию на время, отражённое на карте, территории, обозначенные буквами «В» и «Г», входили в состав Англии.
4. Территория, обозначенная буквой «А», являлась одним из крупнейших в Европе центром производства тканей вообще и сукна в частности.
5. В ходе битв близ населённых пунктов, обозначенных на карте цифрами «2» и «4», было выявлено значительное превосходство лучников одной воюющей стороны над арбалетчиками другой.

Ответ: 1, 4, 5.

За каждый верный выбор – 1 балл, при выборе более 4 ответов - 0 баллов за задание. Максимум за задание – 3 балла.

15. Перед вами изображения, посвящённые различным событиям в истории России. Укажите годы, когда произошли эти события.



А)



Б)




В)



Г)



Д)



Е)

Ответ:

Изображение	Год
А	1380
Б	1238
В	988
Г	1433
Д	1478
Е	971

За каждый верный ответ – 1 балл. Максимум за задание – 6 баллов.

16-19. Прочитайте отрывок из документа и выполните задания.

«И сказал князь великий: “Сосчитайте, братья, скольких воевод нет, скольких служилых людей”. Говорит боярин московский, именем Михаил Александрович, а был он в полку у Микулы у Васильевича, счётчик был гораздый: “Нет у нас, государь, сорока бояр московских, да двенадцати князей белозерских, да тринадцати бояр – посадников новгородских, да пятидесяти бояр Новгорода Нижнего, да сорока бояр серпуховских, да пятидесяти бояр суздальских, да сорока бояр муромских, да двадцати бояр дмитровских, да семидесяти бояр можайских, а младшим дружинникам и счёта нет; но только знаем: погубло у нас дружины всей двести пятьдесят тысяч и три тысячи, а осталось у нас дружины пятьдесят тысяч”. И сказал князь великий: “Слава тебе, высший Творец, царь небесный, милостивый Спас, что помиловал нас, грешных, не отдал в руки врагов наших, поганых сыроядцев. А вам, братья, князья, и бояре, и воеводы, и младшая дружина, русские сыны, суждено место между Доном и Непрядвой. Положили вы головы свои за землю Русскую, за веру христианскую. Простите меня, братья, и благословите в сей жизни и в будущей!”»

16. Укажите год, когда произошло это событие.

Ответ: 1380.

Максимум за задание – 1 балл.

17. Укажите великого князя, о котором идёт речь в отрывке.

1. Александр Ярославич Невский
2. Василий Дмитриевич Первый
3. Дмитрий Юрьевич Шемяка
4. Дмитрий Иванович Донской
5. Иван Васильевич Грозный

Ответ: 4.

За верный ответ – 1 балл.

18. Летописец перечисляет земли и княжества, представители которых погибли на поле боя. Выберите среди них города, которые в период описываемых событий, помимо Москвы, входили в состав Московского княжества.

1. Белоозеро
2. Великий Новгород
3. Дмитров
4. Можайск
5. Муром
6. Нижний Новгород

7. Серпухов
8. Суздаль

Ответ: 1, 3, 4, 7.

За каждый верный выбор – 1 балл, за каждый неверный выбор – штраф 1 балл, при выборе более 6 ответов - 0 баллов за задание. Максимум за задание – 4 балла.

19. Летописец перечисляет земли и княжества, представители которых погибли на поле боя. Выберите среди них город, форма правления в котором отличалась от остальных.

Выберите из списка:

1. Белоозеро
2. Великий Новгород
3. Дмитров
4. Можайск
5. Муром
6. Нижний Новгород
7. Серпухов
8. Суздаль

Ответ: 2.

За верный ответ – 1 балл.

20. Рассмотрите представленные фотографии. Выберите те, которые посвящены событиям Великой Отечественной войны.



5



6




7



8



9



10



Ответ: 2, 4, 5, 8, 10.

За каждый верный выбор – 1 балл, за каждый неверный выбор – штраф 1 балл, при выборе более 7 ответов - 0 баллов за задание. Максимум за задание – 5 баллов.

21. Почему полёт Гагарина произошёл именно в День космонавтики?

1. В СССР знаковые события приурочивали к большим праздникам.
2. Случайно совпало - в этот день была хорошая погода.
3. Это связано с наиболее удобными условиями для старта корабля, исходя из расположения Земли и Луны.
4. Другой ответ.

Ответ: 4.

За верный ответ – 1 балл.