

ВСЕРОССИЙСКАЯ ОЛИМПИАДА ШКОЛЬНИКОВ
ИСТОРИЯ. 2025 уч. г.
ПРИГЛАСИТЕЛЬНЫЙ ЭТАП. 4–5 КЛАССЫ

ЗАДАНИЯ

Максимальный балл за работу – 32.

1-3. Рассмотрите изображение и выполните задания.



1. Выберите из приведённого ниже списка регион, культуре которого принадлежит этот памятник архитектуры.

- 1) Древняя Греция
- 2) Древний Египет
- 3) Русь
- 4) Древний Китай
- 5) Индия
- 6) Древний Рим

Ответ:

2. Выберите верные назначения данного объекта.

- 1) гладиаторские бои
- 2) морские сражения
- 3) рыночная торговля
- 4) заседания Сената
- 5) праздничные мероприятия
- 6) наблюдения за звёздами

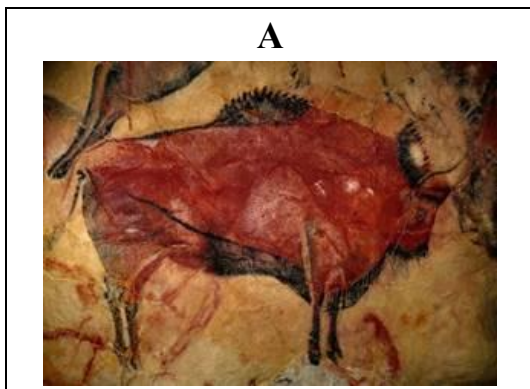
Ответ:

3. Выберите богов, которым поклонялись жители региона, где был создан изображённый памятник архитектуры.

- 1) Перун
- 2) Марс
- 3) Ра
- 4) Юпитер
- 5) Венера
- 6) Зевс

Ответ:

4. Установите последовательность создания памятников искусства, представленных на иллюстрациях, в хронологическом порядке от раннего (1) к позднему (5).



Б



В



Г



Д



Ответ:

1	2	3	4	5

5-7. Рассмотрите изображение и выполните предложенные задания.



5. Определите регион Древнего мира, к культуре которого принадлежит представленный на изображении сосуд.

- 1) Древний Рим
- 2) Древний Египет
- 3) Древняя Греция
- 4) Древний Китай
- 5) Древнее Междуречье
- 6) Древняя Индия

Ответ:

6. Выберите из предложенного списка города, существовавшие в регионе, к культуре которого принадлежит представленный на изображении сосуд.

- 1) Микены
- 2) Вавилон
- 3) Тир
- 4) Карфаген
- 5) Мемфис
- 6) Афины
- 7) Флоренция
- 8) Коринф
- 9) Ниневия
- 10) Спарта

- 11) Дельфы
- 12) Сузы

Ответ:

7. Выберите из предложенного списка название изображённого на сосуде мифического существа.

- 1) василиск
- 2) кентавр
- 3) сирин
- 4) минотавр

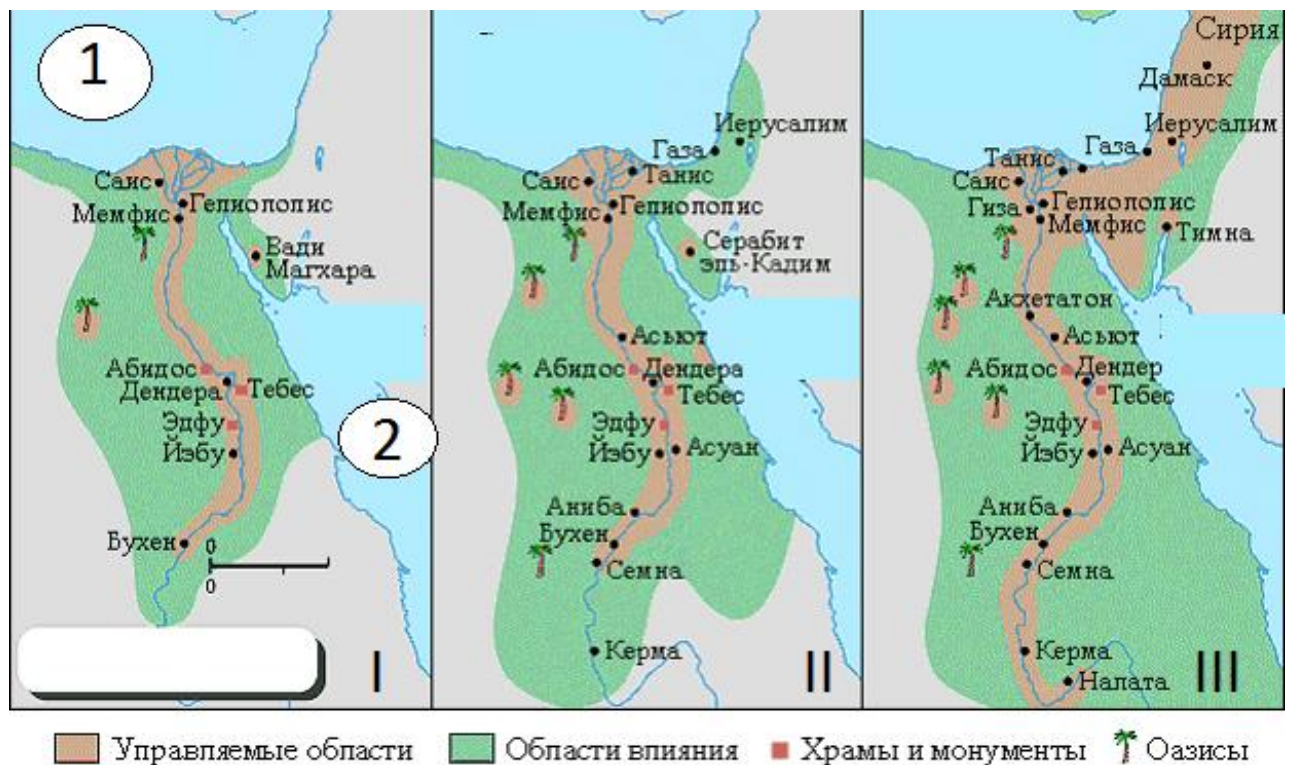
Ответ:

8. Выберите причину резкого изменения границ азиатских государств из приведённого списка.

- 1) IV Крестовый поход
- 2) распад Древнерусского государства
- 3) образование и усиление Литовского княжества
- 4) эпидемия чумы
- 5) образование империи Чингисхана
- 6) Ключийское возрождение
- 7) открытие морского пути в Индию
- 8) перенесение Мухаммедом столицы из Мекки в Медину (хиджра)

Ответ:

9–10. Рассмотрите представленную карту и выполните задания.



9. Выберите названия морей, обозначенных цифрами «1» и «2» на схеме I.

- 1) Средиземное море
- 2) Баренцево море
- 3) Чёрное море
- 4) Белое море
- 5) Жёлтое море
- 6) Красное море

Ответ:

10. Выберите верные утверждения, относящиеся к отражённым на схемах историческим периодам.

- 1) Современником государства, изображённого на схеме I, был Гильгамеш.
- 2) Море, обозначенное цифрой «2», омывало берега финикийских земель.
- 3) На территориях, изображённых на схемах I–III, происходил ряд событий описанных в Библии.
- 4) На схеме II отмечен город, славившийся в древности и средних веках особо крепкой сталью.
- 5) На схеме III отмечен город, в котором расположены египетские пирамиды.
- 6) Современником государства, изображённого на схеме III, был Тутмос III.
- 7) Территория, выделенная коричневым цветом на схемах I–II, совпадает с территорией наиболее плодородных земель этой страны.

- 8) Представленные схемы позволяют сделать вывод, что рост числа городов приводил к сокращению числа оазисов.
- 9) На схеме I отмечен город, являющийся священным для трёх авраамических религий (иудаизм, христианство, ислам).
- 10) На территории, выделенной зелёным цветом на схеме II, впоследствии располагались северные греческие полисы (города-государства).

Ответ:

11. Укажите номера медалей, которые связаны с событиями Великой Отечественной войны 1941–1945 гг.

1		2	
3		4	

5		6	
7		8	

Ответ:

12. Почему полёт Гагарина произошёл именно в День космонавтики?

1. В СССР знаковые события приурочивали к большим праздникам.
2. Случайно совпало - в этот день была хорошая погода.
3. Это связано с наиболее удобными условиями для старта корабля, исходя из расположения Земли и Луны.
4. Другой ответ.

Ответ:

ВСЕРОССИЙСКАЯ ОЛИМПИАДА ШКОЛЬНИКОВ
ИСТОРИЯ. 2025 уч. г.
ПРИГЛАСИТЕЛЬНЫЙ ЭТАП. 4–5 КЛАССЫ
ОТВЕТЫ И КРИТЕРИИ ОЦЕНИВАНИЯ

Максимальный балл за работу – 32.

1-3. Рассмотрите изображение и выполните задания.



1. Выберите из приведённого ниже списка регион, культуре которого принадлежит этот памятник архитектуры.

- 1) Древняя Греция
- 2) Древний Египет
- 3) Русь
- 4) Древний Китай
- 5) Индия
- 6) Древний Рим

Ответ: 6.

За верный ответ – 1 балл.

2. Выберите верные назначения данного объекта.

- 1) гладиаторские бои
- 2) морские сражения
- 3) рыночная торговля
- 4) заседания Сената
- 5) праздничные мероприятия
- 6) наблюдения за звёздами

Ответ: 1, 2, 5.

За каждый верный выбор – 1 балл, за каждый неверный выбор – штраф 1 балл, но не менее 0 баллов за задание. Максимум за задание – 3 балла.


3. Выберите богов, которым поклонялись жители региона, где был создан изображённый памятник архитектуры.

- 1) Перун
- 2) Марс
- 3) Ра
- 4) Юпитер
- 5) Венера
- 6) Зевс

Ответ: 2, 4, 5.

За каждый верный выбор – 1 балл, за каждый неверный выбор – штраф 1 балл, но не менее 0 баллов за задание. Максимум за задание – 3 балла.

4. Установите последовательность создания памятников искусства, представленных на иллюстрациях, в хронологическом порядке от раннего (1) к позднему (5).



Б



В



Г



Д



Ответ:

1	2	3	4	5
А	В	Г	Д	Б

Максимум за задание – 5 баллов.

5-7. Рассмотрите изображение и выполните предложенные задания.



5. Определите регион Древнего мира, к культуре которого принадлежит представленный на изображении сосуд.

- 1) Древний Рим
- 2) Древний Египет
- 3) Древняя Греция
- 4) Древний Китай
- 5) Древнее Междуречье
- 6) Древняя Индия

Ответ: 3.

За верный ответ – 1 балл.

6. Выберите из предложенного списка города, существовавшие в регионе, к культуре которого принадлежит представленный на изображении сосуд.

- 1) Микены
- 2) Вавилон
- 3) Тир
- 4) Карфаген
- 5) Мемфис
- 6) Афины
- 7) Флоренция
- 8) Коринф

- 9) Ниневия
- 10) Спарта
- 11) Дельфы
- 12) Сузы

Ответ: 1, 6, 8, 10, 11.

За каждый верный выбор – 1 балл, за каждый неверный выбор – штраф 1 балл. При выборе более 8 ответов – 0 баллов. Максимум за задание – 5 баллов.

7. Выберите из предложенного списка название изображённого на сосуде мифического существа.

- 1) василиск
- 2) кентавр
- 3) сирин
- 4) минотавр

Ответ: 2.

За верный ответ – 1 балл.

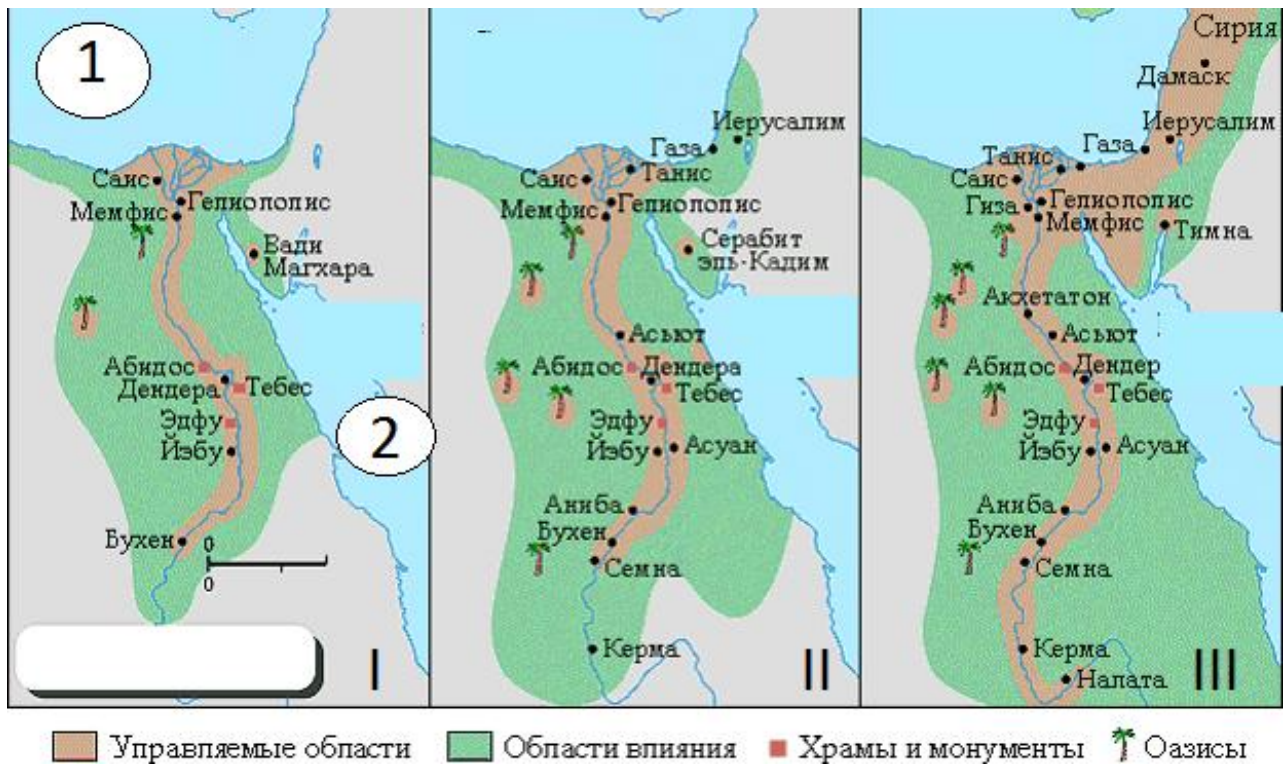
8. Выберите причину резкого изменения границ азиатских государств из приведённого списка.

- 1) IV Крестовый поход
- 2) распад Древнерусского государства
- 3) образование и усиление Литовского княжества
- 4) эпидемия чумы
- 5) образование империи Чингисхана
- 6) Ключийское возрождение
- 7) открытие морского пути в Индию
- 8) перенесение Мухаммедом столицы из Мекки в Медину (хиджра)

Ответ: 5.

За верный ответ – 1 балл.

9–10. Рассмотрите представленную карту и выполните задания.



9. Выберите названия морей, обозначенных цифрами «1» и «2» на схеме I.

- 1) Средиземное море
- 2) Баренцево море
- 3) Чёрное море
- 4) Белое море
- 5) Жёлтое море
- 6) Красное море

Ответ: 1, 6.

За каждый верный выбор – 1 балл, за каждый неверный выбор – штраф 0 баллов, при выборе более 2 ответов – 0 баллов за задание. Максимум за задание – 2 балла.

10. Выберите верные утверждения, относящиеся к отражённым на схемах историческим периодам.

- 1) Современником государства, изображённого на схеме I, был Гильгамеш.
- 2) Море, обозначенное цифрой «2», омывало берега финикийских земель.
- 3) На территориях, изображённых на схемах I–III, происходил ряд событий описанных в Библии.
- 4) На схеме II отмечен город, славившийся в древности и средних веках особо крепкой сталью.
- 5) На схеме III отмечен город, в котором расположены египетские пирамиды.

- 6) Современником государства, изображённого на схеме III, был Тутмос III.
- 7) Территория, выделенная коричневым цветом на схемах I–II, совпадает с территорией наиболее плодородных земель этой страны.
- 8) Представленные схемы позволяют сделать вывод, что рост числа городов приводил к сокращению числа оазисов.
- 9) На схеме I отмечен город, являющийся священным для трёх авраамических религий (иудаизм, христианство, ислам).
- 10) На территории, выделенной зелёным цветом на схеме II, впоследствии располагались северные греческие полисы (города-государства).

Ответ: 1, 3, 5, 6, 7.

За каждый верный выбор – 1 балл, за каждый неверный выбор – штраф 1 балл. При выборе более 8 утверждений – 0 баллов. Максимум за задание – 5 баллов.

11. Укажите номера медалей, которые связаны с событиями Великой Отечественной войны 1941–1945 гг.

1		2	
3		4	



Ответ: 2, 4, 5, 7.

За каждый верный выбор – 1 балл, за каждый неверный выбор – штраф 1 балл. При выборе более 6 ответов – 0 баллов. Максимум за задание – 4 балла.

12. Почему полёт Гагарина произошёл именно в День космонавтики?

1. В СССР знаковые события приурочивали к большим праздникам.
2. Случайно совпало - в этот день была хорошая погода.
3. Это связано с наиболее удобными условиями для старта корабля, исходя из расположения Земли и Луны.
4. Другой ответ.

Ответ: 4.

За верный ответ – 1 балл.