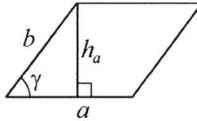


Площади фигур

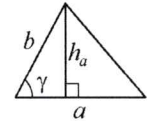
Параллелограмм



$$S = ah_a$$

$$S = ab \sin \gamma$$

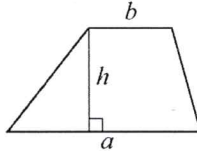
Треугольник



$$S = \frac{1}{2} ah_a$$

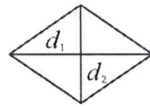
$$S = \frac{1}{2} ab \sin \gamma$$

Трапеция



$$S = \frac{a+b}{2} \cdot h$$

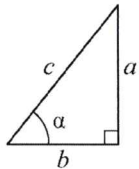
Ромб



d_1, d_2 — диагонали

$$S = \frac{1}{2} d_1 d_2$$

Прямоугольный треугольник



$$\sin \alpha = \frac{a}{c}$$

$$\cos \alpha = \frac{b}{c}$$

$$\operatorname{tg} \alpha = \frac{a}{b}$$

Теорема Пифагора: $a^2 + b^2 = c^2$

Основное тригонометрическое тождество: $\sin^2 \alpha + \cos^2 \alpha = 1$

Некоторые значения тригонометрических функций

α	градусы	0°	30°	45°	60°	90°	180°	270°	360°
$\sin \alpha$		0	$\frac{1}{2}$	$\frac{\sqrt{2}}{2}$	$\frac{\sqrt{3}}{2}$	1	0	-1	0
$\cos \alpha$		1	$\frac{\sqrt{3}}{2}$	$\frac{\sqrt{2}}{2}$	$\frac{1}{2}$	0	-1	0	1
$\operatorname{tg} \alpha$		0	$\frac{\sqrt{3}}{3}$	1	$\sqrt{3}$	—	0	—	0

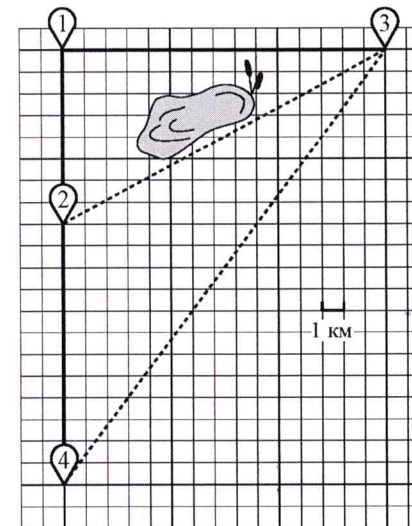
Копирование не допускается

Часть 1

Ответами к заданиям 1–19 являются число или последовательность цифр, которые следует записать в БЛАНК ОТВЕТОВ № 1 справа от номера соответствующего задания, начиная с первой клеточки. Если ответом является последовательность цифр, то запишите её без пробелов и других дополнительных символов. Каждый символ пишите в отдельной клеточке в соответствии с приведёнными в бланке образцами.

Прочитайте внимательно текст и выполните задания 1–5.

Гриша летом отдыхает у дедушки в деревне Осиновка. В субботу они собираются съездить на велосипедах в село Николаево в магазин. Из деревни Осиновка в село Николаево можно проехать по прямой лесной дорожке. Есть более длинный путь: по прямолинейному шоссе через деревню Зябликово до деревни Старая, где нужно повернуть под прямым углом направо на другое шоссе, ведущее в село Николаево. Есть и третий маршрут: в деревне Зябликово можно свернуть на прямую тропинку в село Николаево, которая идёт мимо пруда. Лесная дорожка и тропинка образуют с шоссе прямоугольные треугольники.



По шоссе Гриша с дедушкой едут со скоростью 15 км/ч, а по лесной дорожке и тропинке — со скоростью 10 км/ч. На плане изображено взаимное расположение населённых пунктов, длина стороны каждой клеточки равна 1 км.

- 1 Пользуясь описанием, определите, какими цифрами на плане обозначены населённые пункты.
Заполните таблицу, в бланк ответов перенесите последовательность трёх цифр без пробелов, запятых и других дополнительных символов.

Насел. пункты	д. Осиновка	с. Николаево	д. Зябликово
Цифры			

- 2 Сколько километров проедут Гриша с дедушкой от деревни Осиновка до села Николаево, если они поедут по шоссе через деревню Старая?

Ответ: _____.

- 3 Найдите расстояние от деревни Зябликово до села Николаево по прямой.
Ответ дайте в километрах.

Ответ: _____.

- 4 Сколько минут затратят на дорогу из деревни Осиновка в село Николаево Гриша с дедушкой, если они поедут сначала по шоссе, а затем свернут в деревне Зябликово на прямую тропинку, которая проходит мимо пруда?

Ответ: _____.

- 5 В таблице указана стоимость (в рублях) некоторых продуктов в четырёх магазинах, расположенных в деревне Осиновка, селе Николаево, деревне Зябликово и деревне Старая.

Наименование продукта	д. Осиновка	с. Николаево	д. Зябликово	д. Старая
Молоко (1 л)	44	48	54	60
Хлеб (1 батон)	26	19	23	18
Сыр «Российский» (1 кг)	310	330	340	290
Говядина (1 кг)	370	320	330	360
Картофель (1 кг)	24	26	25	27

Гриша с дедушкой хотят купить 3 л молока, 2 батона хлеба и 3 кг картофеля. В каком магазине такой набор продуктов будет стоить дешевле всего? В ответ запишите стоимость данного набора в этом магазине.

Ответ: _____.

- 6 Найдите значение выражения $\frac{1}{2} - \frac{49}{20}$.

Ответ: _____.

- 7 На координатной прямой точки A , B , C и D соответствуют числам $-0,39$; $-0,09$; $-0,93$; $0,03$.



Какой точке соответствует число $-0,09$?

- 1) A 2) B 3) C 4) D

Ответ:

- 8 Найдите значение выражения $\frac{a^{21} \cdot (b^4)^4}{(a \cdot b)^{16}}$ при $a = 2$ и $b = \sqrt{2}$.

Ответ: _____.

9 Решите уравнение $2x^2 = 8x$.
Если уравнение имеет более одного корня, в ответ запишите меньший из корней.

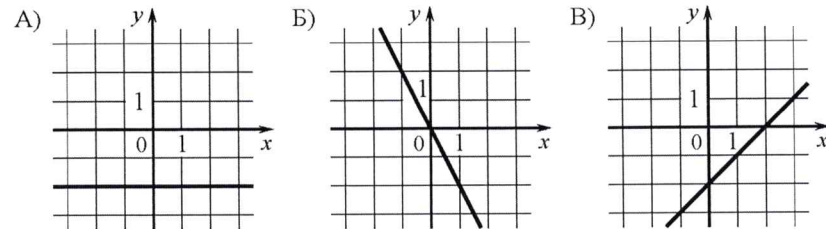
Ответ: _____.

10 Вероятность того, что новая шариковая ручка пишет плохо (или не пишет), равна 0,26. Покупатель в магазине выбирает одну шариковую ручку. Найдите вероятность того, что эта ручка пишет хорошо.

Ответ: _____.

11 Установите соответствие между графиками функций и формулами, которые их задают.

ГРАФИКИ



ФОРМУЛЫ

- 1) $y = -2$ 2) $y = x - 2$ 3) $y = -2x$

В таблице под каждой буквой укажите соответствующий номер.

Ответ:

А	Б	В

12 Мощность постоянного тока (в ваттах) вычисляется по формуле $P = I^2 R$, где I — сила тока (в амперах), R — сопротивление (в омах). Пользуясь этой формулой, найдите сопротивление R , если мощность составляет 28 Вт, а сила тока равна 2 А. Ответ дайте в омах.

Ответ: _____.

13 Укажите решение неравенства

$$-3 - x \geq x - 6.$$

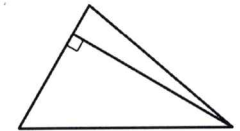
- 1) $(-\infty; 1,5]$ 2) $[1,5; +\infty)$ 3) $(-\infty; 4,5]$ 4) $[4,5; +\infty)$

Ответ:

14 В ходе распада радиоактивного изотопа его масса уменьшается вдвое каждые 8 минут. В начальный момент масса изотопа составляла 320 мг. Найдите массу изотопа через 48 минут. Ответ дайте в миллиграммах.

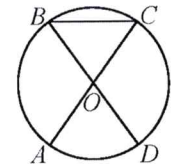
Ответ: _____.

15 Сторона треугольника равна 18, а высота, проведённая к этой стороне, равна 22. Найдите площадь этого треугольника.



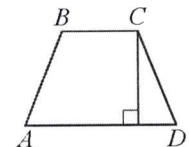
Ответ: _____.

16 В окружности с центром в точке O отрезки AC и BD — диаметры. Угол AOD равен 74° . Найдите угол ACB . Ответ дайте в градусах.



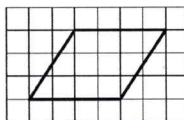
Ответ: _____.

17 Высота равнобедренной трапеции, проведённая из вершины C , делит основание AD на отрезки длиной 11 и 14. Найдите длину основания BC .



Ответ: _____.

- 18 На клетчатой бумаге с размером клетки 1×1 изображён параллелограмм. Найдите его площадь.



Ответ: _____.

- 19 Какие из следующих утверждений верны?

- 1) В параллелограмме есть два равных угла.
- 2) Площадь треугольника меньше произведения двух его сторон.
- 3) Средняя линия трапеции равна сумме её оснований.

В ответ запишите номера выбранных утверждений без пробелов, запятых и других дополнительных символов.

Ответ: _____.



Не забудьте перенести все ответы в бланк ответов № 1 в соответствии с инструкцией по выполнению работы. Проверьте, чтобы каждый ответ был записан в строке с номером соответствующего задания.

Часть 2

При выполнении заданий 20–25 используйте БЛАНК ОТВЕТОВ № 2. Сначала укажите номер задания, а затем запишите его решение и ответ. Пишите чётко и разборчиво.

20 Решите уравнение $(x+4)^4 - 6(x+4)^2 - 7 = 0$.

- 21 Из А в В одновременно выехали два автомобиля. Первый проехал весь путь с постоянной скоростью. Второй проехал первую половину пути со скоростью 78 км/ч, а вторую половину пути проехал со скоростью больше скорости первого на 7 км/ч, в результате чего прибыл в В одновременно с первым автомобилем. Найдите скорость первого автомобиля.

- 22 Постройте график функции

$$y = \begin{cases} x^2 - 6x + 6 & \text{при } x \geq 2, \\ x - 3 & \text{при } x < 2. \end{cases}$$

Определите, при каких значениях t прямая $y = t$ имеет с графиком ровно две общие точки.

- 23 Прямая, параллельная стороне AC треугольника ABC , пересекает стороны AB и BC в точках M и N соответственно. Найдите BN , если $MN = 16$, $AC = 20$, $NC = 15$.

- 24 Основания BC и AD трапеции $ABCD$ равны соответственно 3 и 12, $BD = 6$. Докажите, что треугольники CBD и BDA подобны.

- 25 Четырёхугольник $ABCD$ со сторонами $AB = 12$ и $CD = 30$ вписан в окружность. Диагонали AC и BD пересекаются в точке K , причём $\angle AKB = 60^\circ$. Найдите радиус окружности, описанной около этого четырёхугольника.



Проверьте, чтобы каждый ответ был записан рядом с номером соответствующего задания.