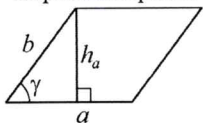


**Площади фигур**

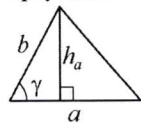
Параллелограмм



$$S = ah_a$$

$$S = ab \sin \gamma$$

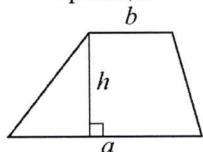
Треугольник



$$S = \frac{1}{2} ah_a$$

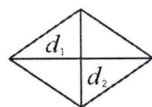
$$S = \frac{1}{2} ab \sin \gamma$$

Трапеция



$$S = \frac{a+b}{2} \cdot h$$

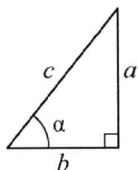
Ромб



$d_1, d_2$  — диагонали

$$S = \frac{1}{2} d_1 d_2$$

Прямоугольный треугольник



$$\sin \alpha = \frac{a}{c}$$

$$\cos \alpha = \frac{b}{c}$$

$$\operatorname{tg} \alpha = \frac{a}{b}$$

Теорема Пифагора:  $a^2 + b^2 = c^2$

Основное тригонометрическое тождество:  $\sin^2 \alpha + \cos^2 \alpha = 1$

Некоторые значения тригонометрических функций

$\alpha$	градусы	$0^\circ$	$30^\circ$	$45^\circ$	$60^\circ$	$90^\circ$	$180^\circ$	$270^\circ$	$360^\circ$
$\sin \alpha$		0	$\frac{1}{2}$	$\frac{\sqrt{2}}{2}$	$\frac{\sqrt{3}}{2}$	1	0	-1	0
$\cos \alpha$		1	$\frac{\sqrt{3}}{2}$	$\frac{\sqrt{2}}{2}$	$\frac{1}{2}$	0	-1	0	1
$\operatorname{tg} \alpha$		0	$\frac{\sqrt{3}}{3}$	1	$\sqrt{3}$	—	0	—	0

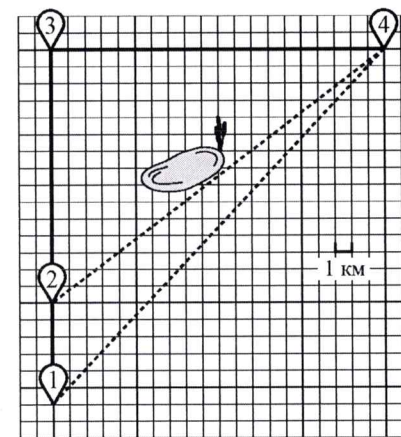
Копирование не допускается

**Часть 1**

Ответами к заданиям 1–19 являются число или последовательность цифр, которые следует записать в БЛАНК ОТВЕТОВ № 1 справа от номера соответствующего задания, начиная с первой клеточки. Если ответом является последовательность цифр, то запишите её без пробелов и других дополнительных символов. Каждый символ пишите в отдельной клеточке в соответствии с приведёнными в бланке образцами.

**Прочитайте внимательно текст и выполните задания 1–5.**

Саша летом отдыхает у дедушки в деревне Масловка. В субботу они собираются съездить на велосипедах в село Захарово в магазин. Из деревни Масловка в село Захарово можно проехать по прямой лесной дорожке. Есть более длинный путь: по прямолинейному шоссе через деревню Вёсенка до деревни Полянка, где нужно повернуть под прямым углом направо на другое шоссе, ведущее в село Захарово. Есть и третий маршрут: в деревне Вёсенка можно свернуть на прямую тропинку в село Захарово, которая идёт мимо пруда. Лесная дорожка и тропинка образуют с шоссе прямоугольные треугольники.



По шоссе Саша с дедушкой едут со скоростью 20 км/ч, а по лесной дорожке и тропинке — со скоростью 15 км/ч. На плане изображено взаимное расположение населённых пунктов, сторона каждой клетки равна 1 км.

- 1 Пользуясь описанием, определите, какими цифрами на плане обозначены населённые пункты.  
Заполните таблицу, в бланк ответов перенесите последовательность трёх цифр без пробелов, запятых и других дополнительных символов.

Насел. пункты	д. Полянка	с. Захарово	д. Вёсенка
Цифры			

- 2 Сколько километров проедут Саша с дедушкой от деревни Вёсенка до села Захарово, если они поедут по шоссе через деревню Полянка?

Ответ: \_\_\_\_\_.

- 3 Найдите расстояние от деревни Масловка до села Захарово по прямой. Ответ дайте в километрах.

Ответ: \_\_\_\_\_.

- 4 Сколько минут затратят на дорогу из деревни Масловка в село Захарово Саша с дедушкой, если они поедут по прямой лесной дорожке?

Ответ: \_\_\_\_\_.

- 5 В таблице указана стоимость (в рублях) некоторых продуктов в четырёх магазинах, расположенных в деревне Масловка, селе Захарово, деревне Вёсенка и деревне Полянка.

Наименование продукта	д. Масловка	с. Захарово	д. Вёсенка	д. Полянка
Молоко (1 л)	45	40	42	52
Хлеб (1 батон)	29	28	31	22
Сыр «Российский» (1 кг)	250	270	290	280
Говядина (1 кг)	350	380	360	390
Картофель (1 кг)	35	25	32	24

Саша с дедушкой хотят купить 2 л молока, 2 кг говядины и 4 кг картофеля. В каком магазине такой набор продуктов будет стоить дешевле всего? В ответ запишите стоимость данного набора в этом магазине.

Ответ: \_\_\_\_\_.

- 6 Найдите значение выражения  $\frac{1}{10} + \frac{21}{50}$ .

Ответ: \_\_\_\_\_.

- 7 Между какими числами заключено число  $\sqrt{67}$ ?

1) 8 и 9      2) 22 и 24      3) 4 и 5      4) 66 и 68

Ответ:

- 8 Найдите значение выражения  $\frac{a^{19} \cdot a^{-11}}{a^5}$  при  $a = 5$ .

Ответ: \_\_\_\_\_.

**9** Решите уравнение  $x^2 = 5x$ .  
Если уравнение имеет более одного корня, в ответ запишите меньший из корней.

Ответ: \_\_\_\_\_.

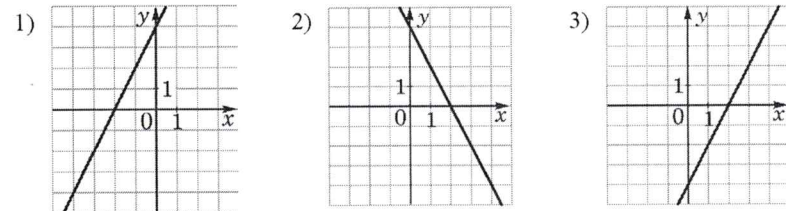
**10** У бабушки 15 чашек: 6 с красными цветами, остальные с синими. Бабушка наливает чай в случайно выбранную чашку. Найдите вероятность того, что это будет чашка с синими цветами.

Ответ: \_\_\_\_\_.

**11** Установите соответствие между функциями и их графиками.  
ФУНКЦИИ

- А)  $y = -2x + 4$       Б)  $y = 2x - 4$       В)  $y = 2x + 4$

ГРАФИКИ



В таблице под каждой буквой укажите соответствующий номер.

Ответ:

А	Б	В

**12** Мощность постоянного тока (в ваттах) вычисляется по формуле  $P = I^2 R$ , где  $I$  — сила тока (в амперах),  $R$  — сопротивление (в омах). Пользуясь этой формулой, найдите сопротивление  $R$ , если мощность составляет 144,5 Вт, а сила тока равна 8,5 А. Ответ дайте в омах.

Ответ: \_\_\_\_\_.

**13** Укажите решение неравенства  
 $-9 - 6x > 9x + 9$ .

- 1)  $(-\infty; 0)$       2)  $(-1, 2; +\infty)$       3)  $(-\infty; -1, 2)$       4)  $(0; +\infty)$

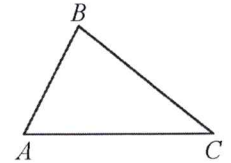
Ответ:

**14** В ходе распада радиоактивного изотопа его масса уменьшается вдвое каждые 7 минут. В начальный момент масса изотопа составляла 160 мг. Найдите массу изотопа через 28 минут. Ответ дайте в миллиграммах.

Ответ: \_\_\_\_\_.

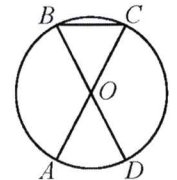
**15** В треугольнике  $ABC$  известно, что  $AB = 9$ ,  $BC = 16$ ,  $\sin \angle ABC = \frac{7}{12}$ . Найдите площадь треугольника  $ABC$ .

Ответ: \_\_\_\_\_.



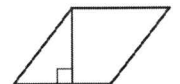
**16** Отрезки  $AC$  и  $BD$  — диаметры окружности с центром в точке  $O$ . Угол  $ACB$  равен  $59^\circ$ . Найдите угол  $AOD$ . Ответ дайте в градусах.

Ответ: \_\_\_\_\_.

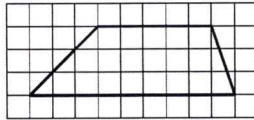


**17** Сторона ромба равна 38, а один из углов этого ромба равен  $150^\circ$ . Найдите высоту этого ромба.

Ответ: \_\_\_\_\_.



- 18 На клетчатой бумаге с размером клетки  $1 \times 1$  изображена трапеция. Найдите длину её средней линии.



Ответ: \_\_\_\_\_.

- 19 Какие из следующих утверждений верны?

- 1) Боковые стороны любой трапеции равны.
- 2) Площадь ромба равна произведению его стороны на высоту, проведённую к этой стороне.
- 3) Один из углов треугольника всегда не превышает  $60$  градусов.

В ответ запишите номера выбранных утверждений без пробелов, запятых и других дополнительных символов.

Ответ: \_\_\_\_\_.



*Не забудьте перенести все ответы в бланк ответов № 1 в соответствии с инструкцией по выполнению работы. Проверьте, чтобы каждый ответ был записан в строке с номером соответствующего задания.*

**Часть 2**

*При выполнении заданий 20–25 используйте БЛАНК ОТВЕТОВ № 2. Сначала укажите номер задания, а затем запишите его решение и ответ. Пишите чётко и разборчиво.*

20 Решите уравнение  $(x-1)(x^2+6x+9)=5(x+3)$ .

- 21 Два автомобиля одновременно отправляются в  $480$ -километровый пробег. Первый едет со скоростью на  $20$  км/ч большей, чем второй, и прибывает к финишу на  $2$  ч раньше второго. Найдите скорость первого автомобиля.

- 22 Постройте график функции

$$y = \begin{cases} -x^2 - 4x - 1 & \text{при } x \geq -3, \\ -x - 3 & \text{при } x < -3. \end{cases}$$

Определите, при каких значениях  $m$  прямая  $y = m$  имеет с графиком ровно две общие точки.

- 23 Найдите боковую сторону  $AB$  трапеции  $ABCD$ , если углы  $ABC$  и  $BCD$  равны соответственно  $30^\circ$  и  $135^\circ$ , а  $CD = 17$ .

- 24 В остроугольном треугольнике  $ABC$  проведены высоты  $AA_1$  и  $CC_1$ . Докажите, что углы  $AA_1C_1$  и  $ACC_1$  равны.

- 25 Окружности радиусов  $33$  и  $99$  касаются внешним образом. Точки  $A$  и  $B$  лежат на первой окружности, точки  $C$  и  $D$  — на второй. При этом  $AC$  и  $BD$  — общие касательные окружностей. Найдите расстояние между прямыми  $AB$  и  $CD$ .



*Проверьте, чтобы каждый ответ был записан рядом с номером соответствующего задания.*