

Тренировочный вариант 165 07.04.2025 ОГЭ 2025

Основной государственный экзамен по МАТЕМАТИКЕ

Тренировочный вариант № 165

Инструкция по выполнению работы

Экзаменационная работа состоит из двух частей, включающих в себя 25 заданий. Часть 1 содержит 19 заданий, часть 2 содержит 6 заданий с развёрнутым ответом. На выполнение экзаменационной работы по математике отводится 3 часа 55 минут (235 минут).

Ответы к заданиям 7 и 13 запишите в бланк ответов № 1 в виде одной цифры, которая соответствует номеру правильного ответа.

Для остальных заданий части 1 ответом является число или последовательность цифр. Ответ запишите в поле ответа в тексте работы, а затем перенесите в бланк ответов № 1. Если получилась обыкновенная дробь, ответ запишите в виде десятичной. Решения заданий части 2 и ответы к ним запишите на бланке ответов № 2. Задания можно выполнять в любом порядке. Текст задания переписывать не надо, необходимо только указать его номер. Все бланки заполняются яркими чёрными чернилами. Допускается использование гелевой или капиллярной ручки.

Сначала выполняйте задания части 1. Начать советуем с тех заданий, которые вызывают у Вас меньше затруднений, затем переходите к другим заданиям. Для экономии времени пропускайте задание, которое не удаётся выполнить сразу, и переходите к следующему. Если у Вас останется время, Вы сможете вернуться к пропущенным заданиям. При выполнении части 1 все необходимые вычисления, преобразования выполняйте в черновике.

Если задание содержит рисунок, то на нём непосредственно в тексте работы можно выполнять необходимые Вам построения. Рекомендуем внимательно читать условие и проводить проверку полученного ответа. При выполнении работы Вы можете воспользоваться справочными материалами, выданными вместе с вариантом КИМ, и линейкой. Баллы, полученные Вами за выполненные задания, суммируются. Постарайтесь выполнить как можно больше заданий и набрать наибольшее количество баллов.

При выполнении работы Вы можете воспользоваться справочными материалами, выданными вместе с вариантом КИМ и линейкой.

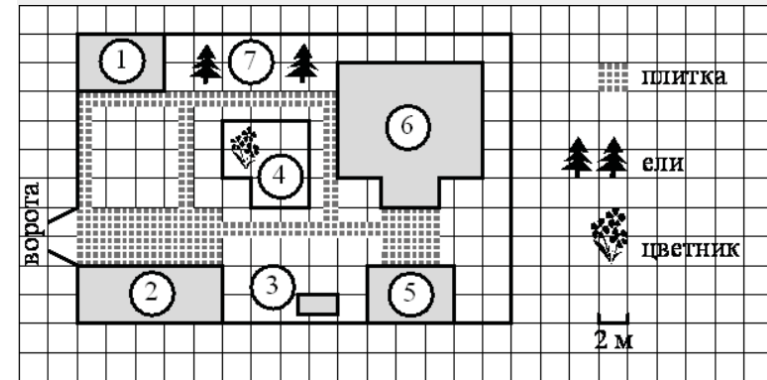
Для прохождения аттестационного порога необходимо набрать не менее 8 баллов, из которых не менее 2 баллов должны быть получены за решение заданий по геометрии (задания 15–19, 23–25).

После завершения работы проверьте, чтобы ответ на каждое задание в бланках ответов № 1 и № 2 был записан под правильным номером.

Желаем успеха!

Часть 1

Прочитайте внимательно текст и выполните задание 1-5.



На плане изображено домохозяйство по адресу: СНТ «Прибор», 2-я Линия, д. 26 (сторона каждой клетки на плане равна 2 м). Участок имеет прямоугольную форму. Выезд и въезд осуществляются через единственные ворота. При входе на участок справа от ворот находится гараж, а слева в углу участка расположен сарай, отмеченный на плане цифрой 1. Площадь, занятая сараем, равна 24 кв. м. Жилой дом находится в глубине территории и обозначен на плане цифрой 6. Помимо гаража, жилого дома и сарая, на участке имеется летняя беседка, расположенная напротив входа в дом, и мангал рядом с ней. На участке также растут ели. В центре участка расположен цветник. Все дорожки внутри участка имеют ширину 1 м и вымощены тротуарной плиткой размером 50 см×50 см. Перед гаражом и между домом и беседкой имеются площадки площадью 40 и 16 кв. м соответственно, вымощенные такой же плиткой. К домохозяйству подведено электричество. Имеется магистральное газоснабжение.

- Для объектов, указанных в таблице, определите, какими цифрами они обозначены на плане. Заполните таблицу, в бланк ответов перенесите последовательность четырёх цифр без дополнительных символов.

Объекты	беседка	ели	гараж	мангал
Цифры				

Ответ: _____

Тренировочный вариант 165 07.04.2025 ОГЭ 2025

2. Найдите площадь, которую занимает жилой дом. Ответ дайте в квадратных метрах.

Ответ: _____

3. Трогуарная плитка продаётся в упаковках по 8 штук. Сколько упаковок плитки понадобилось, чтобы выложить только дорожки?

Ответ: _____

4. Найдите расстояние от гаража до жилого дома (расстояние между двумя ближайшими точками по прямой) в метрах.

Ответ: _____

5. Хозяин участка планирует установить в жилом доме систему отопления. Он рассматривает два варианта: электрическое или газовое отопление. Цены на оборудование и стоимость его установки, данные о расходе газа, электроэнергии и их стоимости даны в таблице.

	Нагреватель (котёл)	Прочее оборудование и монтаж	Средн. расход газа/средн. потребл. мощность	Стоимость газа/электроэнергии
Газовое отопление	18 000 руб.	9980 руб.	1,2 куб. м/ч	4,8 руб./куб. м
Электр. отопление	13 000 руб.	10 500 руб.	6,4 кВт	4,4 руб./(кВт·ч)

Обдумав оба варианта, хозяин решил установить газовое оборудование. Через сколько часов непрерывной работы отопления экономия от использования газа вместо электричества компенсирует разницу в стоимости установки газового и электрического оборудования?

Ответ: _____

6. Найдите значение выражения $5,7 - 7,6$

Ответ: _____

7. Между какими целыми числами заключено число $\sqrt{56}$?

1) 55 и 57 2) 3 и 4 3) 19 и 21 4) 7 и 8

Ответ: _____

8. Найдите значение выражения $13^{-5} \cdot (13^3)^2$.

Ответ: _____

9. Найдите корень уравнения $10(x + 2) = -7$

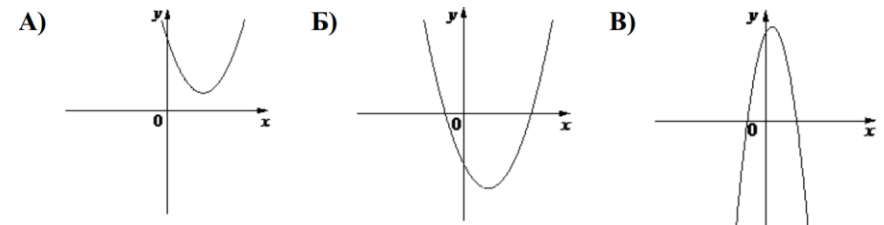
Ответ: _____

10. В фирме такси в данный момент свободно 10 машин: 5 чёрных, 3 жёлтых и 2 зелёных. По вызову выехала одна из машин, случайно оказавшаяся ближе всего к заказчику. Найдите вероятность того, что к нему приедет жёлтое такси.

Ответ: _____

11. На рисунке изображены графики функций вида $y = ax^2 + bx + c$. Установите соответствие между графиками функций и знаками коэффициентов a и c .

ГРАФИКИ



КОЭФФИЦИЕНТЫ

1) $a < 0, c > 0$ 2) $a > 0, c < 0$ 3) $a > 0, c > 0$

В таблице под каждой буквой укажите соответствующий номер

А	Б	В

12. Центростремительное ускорение при движении по окружности (в m/c^2) можно вычислить по формуле $a = \omega^2 R$, где ω – угловая скорость (в c^{-1}), а R – радиус окружности (в метрах). Пользуясь этой формулой, найдите радиус R , если угловая скорость равна $0,5 c^{-1}$, а центростремительное ускорение равно $1,5 m/c^2$. Ответ дайте в метрах.

Ответ: _____

13. Укажите решение неравенства $8x - x^2 \leq 0$

- 1) $[8; +\infty)$ 2) $[0; 8]$
3) $(-\infty; 0] \cup [8; +\infty)$ 4) $[0; +\infty)$

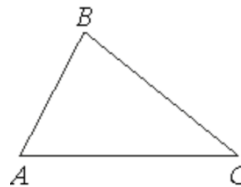
Ответ: _____

14. Камень бросают в глубокое ущелье. При этом в первую секунду он пролетает 12 метров, а в каждую следующую секунду на 10 метров больше, чем в предыдущую, до тех пор, пока не достигнет дна ущелья. Сколько метров пролетит камень за первые четыре секунды?

Ответ: _____

15. В треугольнике ABC известно, что $AB = 16$, $BC = 25$, $\sin \angle ABC = \frac{3}{10}$.

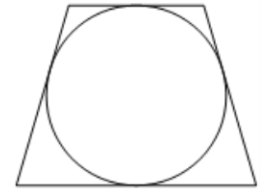
Найдите площадь треугольника ABC .



Ответ: _____

16. Радиус окружности, вписанной в равнобедренную трапецию, равен 34. Найдите высоту этой трапеции.

Ответ: _____



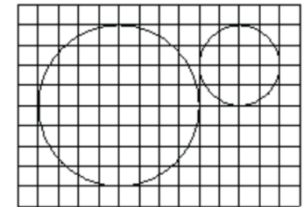
17. Площадь параллелограмма равна 36, а две его стороны равны 6 и 12. Найдите его высоты. В ответе укажите *большую* высоту.

Ответ: _____



18. На клетчатой бумаге изображены два круга. Во сколько раз площадь большего круга больше площади меньшего?

Ответ: _____



19. Какие из следующих утверждений **верны**?

- 1) Существует квадрат, который не является прямоугольником.
2) Если в параллелограмме две соседние стороны равны, то этот параллелограмм является ромбом.
3) Все диаметры окружности равны между собой.

В ответ запишите номера выбранных утверждений без пробелов, запятых и других дополнительных символов.

Ответ: _____

Не забудьте перенести в бланк ответов №1 в соответствии с инструкцией по выполнению работы

Часть 2

Для выполнения задания 20-25 используйте БЛАНК ОТВЕТОВ №2.
Сначала укажите номер задания, а затем запишите его решение и ответ. Пишите чётко и разборчиво

Модуль «Алгебра»

20. Решите неравенство: $\frac{-10}{(x-3)^2-5} \geq 0$.

21. Из двух городов одновременно навстречу друг другу отправились два велосипедиста. Проехав некоторую часть пути, первый велосипедист сделал остановку на 26 минут, а затем продолжил движение до встречи со вторым велосипедистом. Расстояние между городами составляет 217 км, скорость первого велосипедиста равна 21 км/ч, скорость второго — 30 км/ч. Определите расстояние от города, из которого выехал второй велосипедист, до места встречи.

22. Постройте график функции

$$y = \begin{cases} x^2 - 6x + 11 & \text{при } x \geq 2, \\ x + 3 & \text{при } x < 2. \end{cases}$$

Определите, при каких значениях m прямая $y = m$ имеет с графиком две общие точки.

Модуль «Геометрия»

23. Прямая, параллельная основаниям трапеции $ABCD$, пересекает её боковые стороны AB и CD в точках E и F соответственно. Найдите длину отрезка EF , если $AD = 25$, $BC = 15$, $CF : DF = 3 : 2$.

24. Сторона BC параллелограмма $ABCD$ вдвое больше стороны CD . Точка K — середина стороны BC . Докажите, что DK — биссектриса угла ADC .

25. В трапеции $ABCD$ основания AD и BC равны соответственно 18 и 6, а сумма углов при основании AD равна 90° . Найдите радиус окружности, проходящей через точки A и B и касающейся прямой CD , если $AB = 10$.

ОТВЕТЫ К ТРЕНИРОВОЧНОМУ ВАРИАНТУ 165

1	5723
2	88
3	26
4	10
5	200
6	-1,9
7	4
8	13
9	-2,7
10	0,3
11	321
12	6
13	3
14	108
15	60
16	68
17	6
18	4
19	23

20	$(3 - \sqrt{5}; 3 + \sqrt{5})$.	<u>Решение</u>
21	133.	<u>Решение</u>
22	$\{2\} \cup (3; 5)$.	
23	21.	
24		
25	10.	