

**Проверочная работа
по ИСТОРИИ**

5 класс

Вариант 1

Инструкция по выполнению работы

На выполнение проверочной работы по истории отводится один урок (не более 45 минут). Работа включает в себя 7 заданий по истории Древнего мира и 1 задание, связанное с памятью о Великой Отечественной войне.

Ответы на задания запишите в поля ответов в тексте работы. В случае записи неверного ответа зачеркните его и запишите рядом новый.

При выполнении работы не разрешается пользоваться учебниками, рабочими тетрадями, справочным материалом.

При необходимости можно пользоваться черновиком. Записи в черновике проверяться и оцениваться не будут.

Советуем выполнять задания в том порядке, в котором они даны. В целях экономии времени пропускайте задание, которое не удаётся выполнить сразу, и переходите к следующему. Если после выполнения всей работы у Вас останется время, то Вы сможете вернуться к пропущенным заданиям.

Желаем успеха!

Таблица для внесения баллов участника*

Номер задания	1	2	3	4	5	6	7	8	Сумма баллов	Отметка за работу
Баллы										

* *Обратите внимание:* в случае, если какие-либо задания не могли быть выполнены целым классом по причинам, связанным с особенностями организации учебного процесса, в форме сбора результатов ВПР всем обучающимся класса за данные задания вместо баллов выставляется значение «Тема не пройдена». В соответствующие ячейки таблицы заполняется н/п.

1

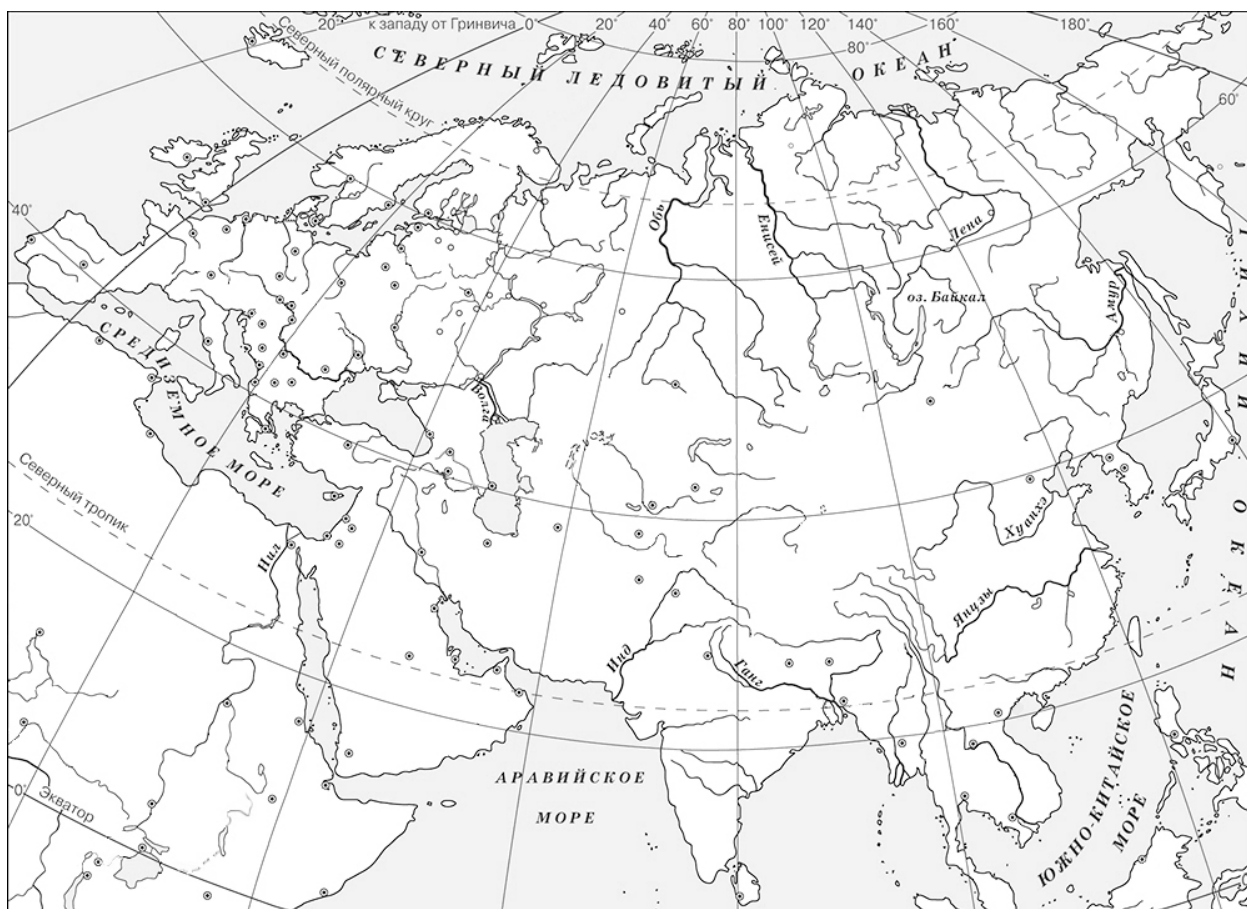
На данной ленте времени каждый отрезок между делениями соответствует одному веку. Отметьте на ленте времени чёрточками и подпишите следующие годы: 470 г. до н.э.; 20 г. до н.э.; 150 г. н.э.

**Рождение
Иисуса
Христа**



2

Заштрихуйте на контурной карте четырёхугольник, образованный градусной сеткой (параллелями и меридианами), где находился древний город, в котором мальчики воспитывались по знаменитой спартанской методике.



Прочтите перечень из четырёх тем и выполните задания, относящиеся к этому перечню.

Перечень тем

А) Древняя Палестина

Б) Персидская держава


В) Древний Египет

Г) Древний Китай


3

Каждая из иллюстраций, приведённых ниже, относится к одной из указанных в перечне тем. Установите соответствие между темами и иллюстрациями: к каждой теме подберите относящуюся к ней иллюстрацию.

1)




2)



3)



4)



Запишите в таблицу выбранные цифры под соответствующими буквами.

Ответ:

А	Б	В	Г

Перечень тем

А) Древняя Палестина

Б) Персидская держава

В) Древний Египет

Г) Древний Китай

Прочтите отрывок из исторического источника и выполните задания 4 и 5.

«Оставшиеся на месте скифы решили не водить больше завоевателей, но нападать на них всякий раз, как только те заняты будут добыванием продовольствия. Так скифы впредь и поступали, подстерегая, когда воины царя Дария выходили за хлебом...

Бедность этого народа, царь, – сказал Дарию Гобрий, – была мне известна достаточно ещё раньше, по слухам; теперь на месте я убедился в том вполне, когда вижу, как они издеваются над нами. Вот почему, я полагаю, следует поступить нам так: как скоро наступит ночь, зажечь по обыкновению огни, обмануть тех из наших воинов, которые наименее способны к перенесению лишений, и, привязавши всех ослов, уходить назад, пока скифы не пришли ещё на Истр с целью разрушить мост...

При наступлении ночи царь Дарий стал приводить этот свой совет в исполнение».

4

Определите, к какой из предложенных тем относится данный отрывок. В ответе напишите букву, которой обозначена эта тема.

Ответ:

5

Какое время, согласно данному отрывку, выбрали скифы, чтобы напасть на воинов царя Дария? С какой целью, по мнению Горбия, скифы должны были прийти на Истр?

Ответ: _____

Выберите одну тему из перечня, а затем выполните относящееся к этому перечню задание 6 только по выбранной Вами теме. Перед выполнением задания укажите букву, которой обозначена выбранная тема.

Перечень тем

А) Древняя Палестина

Б) Персидская держава

В) Древний Египет

Г) Древний Китай

6

Выбранная тема: (укажите букву в перечне).

Прочтите список слов и напишите слово, относящееся к выбранной Вами теме.

Осирис, гунны, филистимляне, Персеполь, плебеи, варны.

Ответ: _____

Объясните смысл этого слова.

Ответ: _____

7

Что из перечисленного стало причиной (предпосылкой) того, что в древнем Междуречье постройки возводились из глиняных кирпичей?

- 1) особенности природы Междуречья
- 2) использование глины в качестве материала для письма
- 3) образование в Междуречье городов-государств

Ответ:

Объясните, как выбранное Вами положение связано с использованием в Междуречье глины в качестве материала для строительства.

Ответ: _____

8

Рассмотрите изображение и выполните задание.



В какой по счёту год с начала Великой Отечественной войны произошло событие, которому посвящён данный памятный мемориал? Объясните, почему граждане нашей страны хранят память о войне, событиям которой посвящен этот мемориал.

Ответ: _____

Система оценивания проверочной работы

Правильный ответ на задание 4 оценивается 1 баллом.

Правильный ответ на задание 3 оценивается 2 баллами. Если в ответе допущена одна ошибка (в том числе написана лишняя цифра или не написана необходимая цифра), выставляется 1 балл; если допущено две или более ошибки – 0 баллов.

Номер задания	Правильный ответ
3	2314
4	Б

1	Содержание верного ответа и указания по оцениванию	Баллы
	Правильно отмечены на ленте времени три года: в нужном месте поставлены чёточки и подписаны годы (допустимы небольшие отклонения, связанные с недостаточной аккуратностью)	2
	Правильно отмечен(ы) на ленте времени один-два года: в нужном месте поставлена(-ы) чёточка(-и) и подписан(ы) год(ы) (допустимы небольшие отклонения, связанные с недостаточной аккуратностью)	1
	Ответ неправильный	0
	<i>Максимальный балл</i>	2

2	Содержание верного ответа и указания по оцениванию	Баллы
	Заштрихован четырёхугольник, образованный градусной сеткой, в котором был расположен древний город Спарта (допустимы небольшие отклонения, связанные с недостаточной аккуратностью)	1
	Заштрихован четырёхугольник, образованный градусной сеткой, в котором не был расположен древний город Спарта. ИЛИ Заштрихованы два или более двух четырёхугольников, в одном из которых был расположен древний город Спарта. ИЛИ Ответ неправильный	0
	<i>Максимальный балл</i>	1

5	Содержание верного ответа и указания по оцениванию (допускаются иные формулировки ответа, не искажающие его смысла)	Баллы
	Правильный ответ должен содержать следующие элементы: 1) <u>ответ на первый вопрос</u> : когда воины будут заняты «добыванием продовольствия» / «когда воины царя Дария выходили за хлебом»; 2) <u>ответ на второй вопрос</u> : «с целью разрушить мост»	
	Правильно даны ответы на два вопроса	2
	Правильно дан ответ на один вопрос	1
	Ответ неправильный	0
	<i>Максимальный балл</i>	2

6

Содержание верного ответа и указания по оцениванию (допускаются иные формулировки ответа, не искажающие его смысла)	Баллы
<p>Правильный ответ должен содержать следующие <u>элементы</u>:</p> <p>1) <u>соответствие тем и слов</u>: А – филистимляне; Б – Персеполь; В – Осирис; Г – гунны;</p> <p>2) <u>объяснение смысла слов</u>: <i>филистимляне</i> – народ, населявший в древности прибрежные равнины Палестины, который по библейским сказаниям был главным врагом израильтян; <i>Персеполь</i> – столица Персидской державы; <i>Осирис</i> – бог, правитель загробного царства в древнеегипетской мифологии; <i>гунны</i> – кочевой народ из Внутренней Азии, совершали набеги на Древний Китай. (Содержание объяснения смысла слова может быть раскрыто в иных формулировках.)</p>	
Правильно указано слово и раскрыт его смысл	3
Правильно указано слово, при раскрытии его смысла допущена(-ы) неточность(-и), существенно не искажающая(-ие) ответа. ИЛИ Правильно указано слово, при раскрытии его смысла указаны не основные, а только второстепенные (несущественные) признаки	2
Правильно указано только слово	1
Слово указано неправильно / не указано независимо от наличия/отсутствия раскрытия его смысла. ИЛИ Приведены рассуждения общего характера, не соответствующие требованию задания. ИЛИ Ответ неправильный	0
<i>Максимальный балл</i>	3

7

Содержание верного ответа и указания по оцениванию (допускаются иные формулировки ответа, не искажающие его смысла)	Баллы
<p>Правильный ответ должен содержать следующие <u>элементы</u>:</p> <p>1) <u>правильный ответ</u> – 1 (особенности природы Междуречья);</p> <p>2) <u>объяснение</u>, например: в Междуречье отсутствовали леса и камень. Поэтому дома строили из глиняных кирпичей. (Может быть приведено другое, близкое по смыслу объяснение)</p>	
Даны правильный ответ и верное объяснение	2
Дан правильный ответ, объяснение не дано. ИЛИ Дан правильный ответ, объяснение неверно	1
Ответ неправильный	0
<i>Максимальный балл</i>	2

8

Содержание верного ответа и указания по оцениванию (допускаются иные формулировки ответа, не искажающие его смысла)	Баллы
<p>Правильный ответ должен содержать следующие <u>элементы</u>:</p> <p>1) <u>год с начала войны</u> – первый;</p> <p>2) <u>объяснение</u>, например: Великая Отечественная война явилась величайшим событием, в ходе которого наши предки сумели выстоять и победить в борьбе с врагом, угрожавшим существованию нашей Родины. Победа над гитлеровской Германией добыта огромной ценой, и мы никогда не должны забывать о событиях этой войны.</p> <p>Объяснение может быть дано в иных, близких по смыслу формулировках</p>	
Правильно указан год с начала войны и дано объяснение	3
<p>Правильно указан год с начала войны, объяснение содержит неточность(-и), существенно не искажающую(-ие) смысла ответа.</p> <p>ИЛИ Правильно указан год с начала войны, объяснение содержит не основные, а только второстепенные (несущественные) связи, не в полной мере раскрывающие суть ответа на задание</p>	2
Правильно указан только год с начала войны	1
<p>Год с начала войны указан неправильно / не указан независимо от наличия/отсутствия объяснения.</p> <p>ИЛИ Приведены рассуждения общего характера, не соответствующие требованию задания</p>	0
<i>Максимальный балл</i>	3

Система оценивания выполнения всей работы

Максимальный первичный балл за выполнение работы – 16.

Рекомендации по переводу первичных баллов в отметки по пятибалльной шкале

Отметка по пятибалльной шкале	«2»	«3»	«4»	«5»
Первичные баллы	0–4	5–8	9–12	13–16