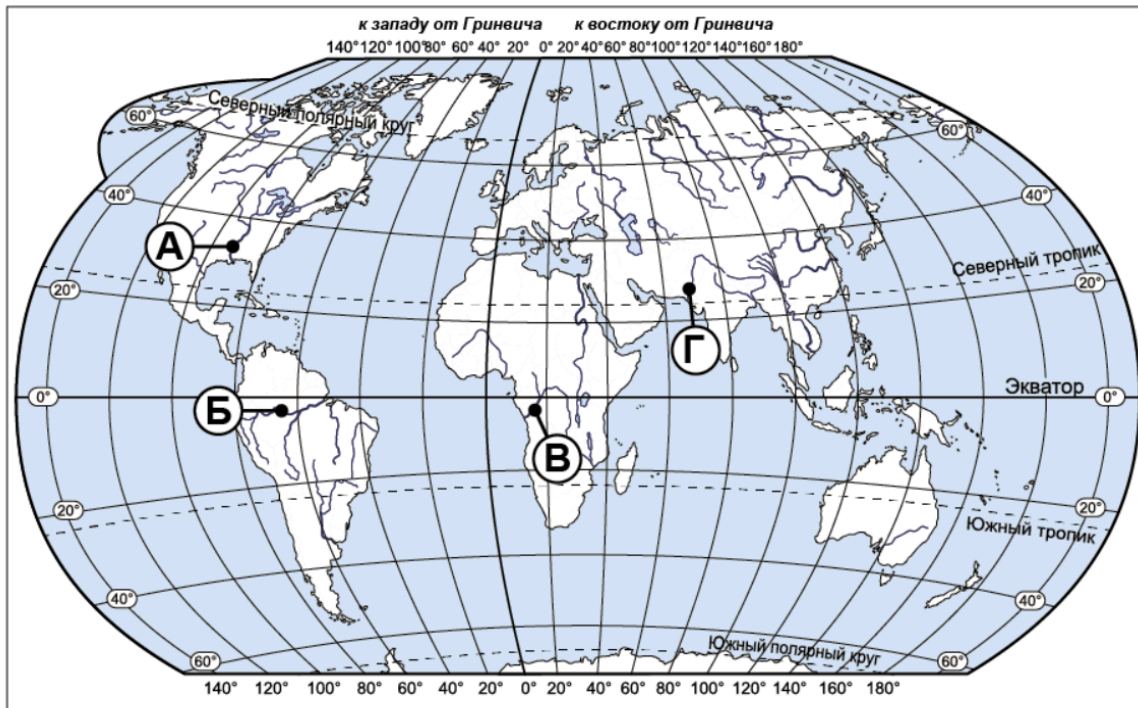


Демоверсия МЦКО 2025 по географии 7 класс

Задание выполняется с использованием карты мира.



Реки играют важную роль во многих природных процессах на всех материках Земли.

Определите, какой буквой на карте обозначена река Миссисипи.

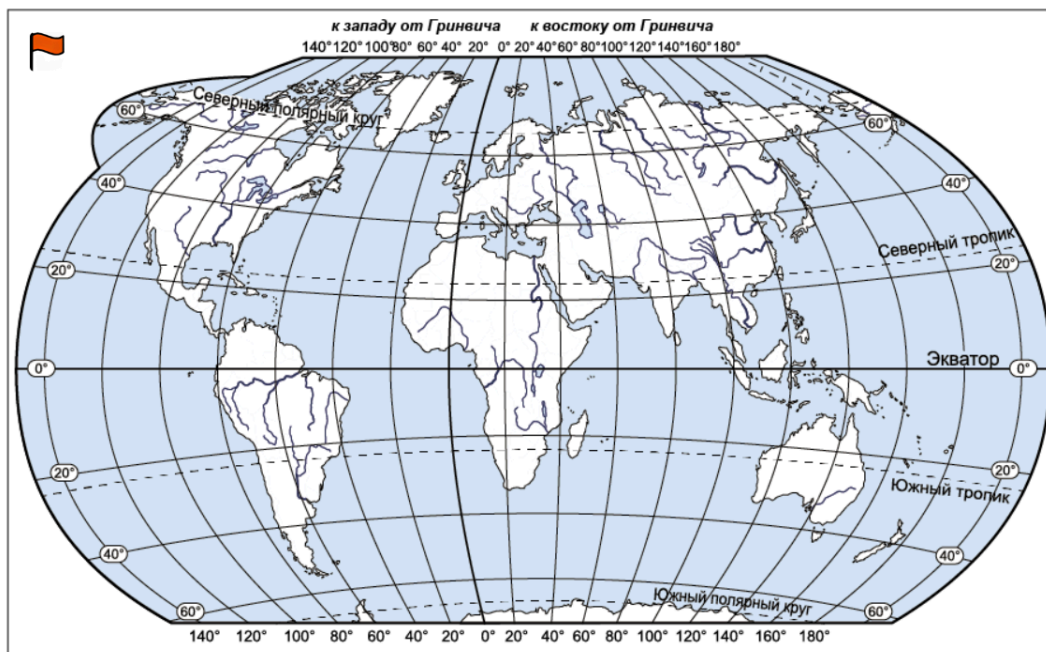
А Б В Г

100ballnik.com

Задание выполняется с использованием карты мира.

Остров Калимантан относится к числу крупнейших островов Земли.

Переместите флажок на остров Калимантан на представленной ниже карте мира.



100ballnik.com

Определите, процесс формирования какого ветра отображён на схеме.

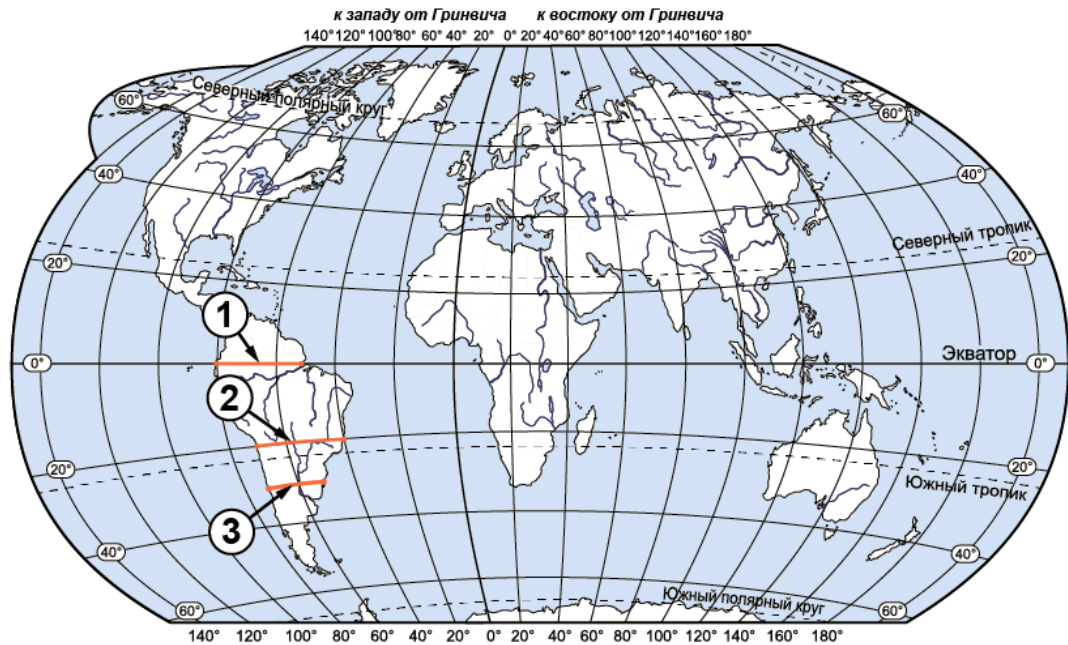


Н – низкое давление
В – высокое давление

100ballnik.com

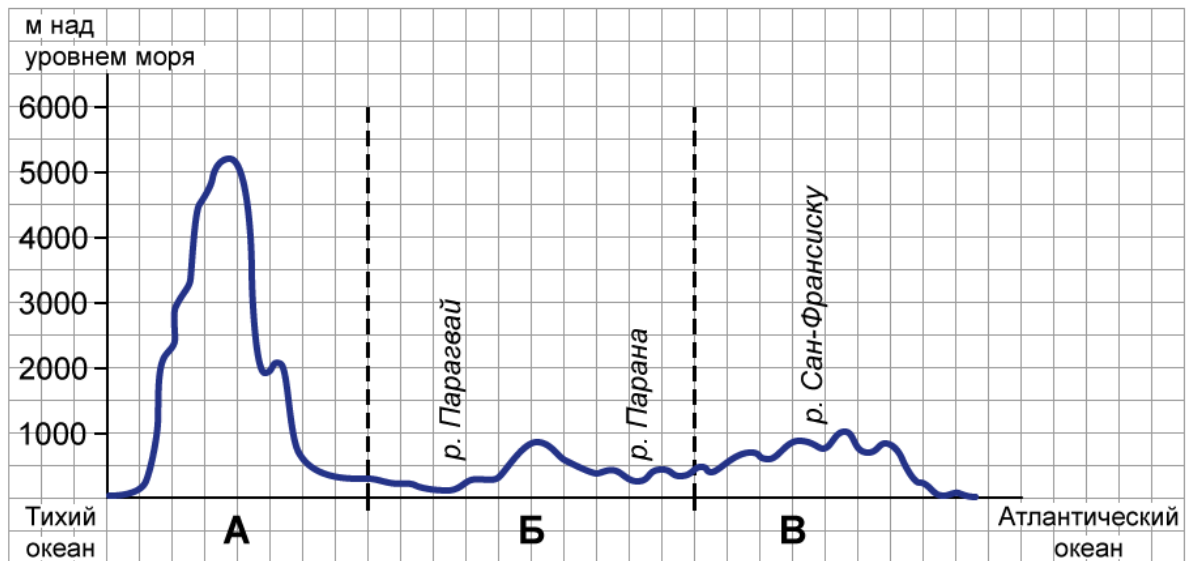
Ответ: .

Задание выполняется с использованием карты мира и профиля рельефа Южной Америки.



На карте мира через материк Южная Америка проведены три отрезка, обозначенные цифрами. Каждый из них соединяет точки с одинаковой географической широтой: 0° ш., 20° ю. ш. и 30° ю. ш.

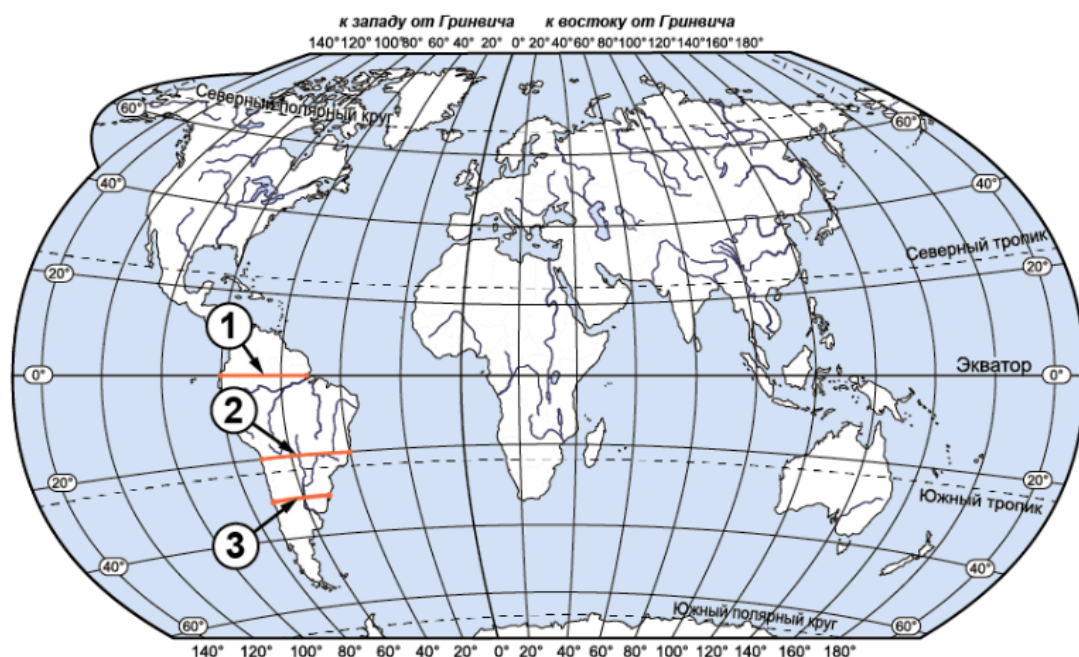
На уроке географии Сергей построил профиль рельефа Южной Америки, представленный на рисунке.



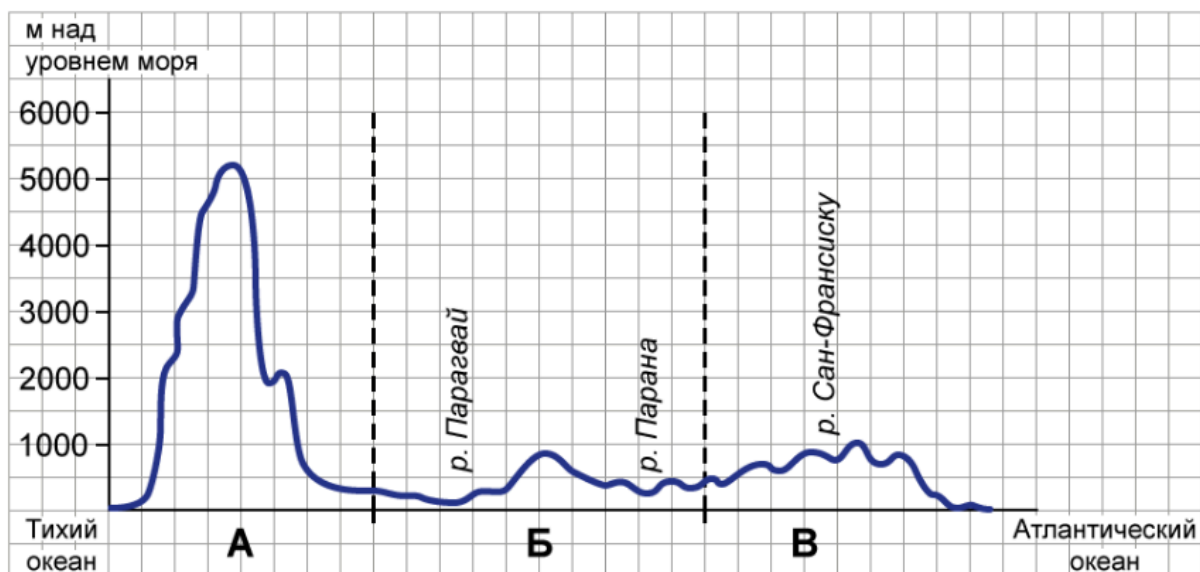
По какому из отрезков построен профиль рельефа, представленный на рисунке? Укажите в ответе номер этого отрезка.

- 1
 2
 3

Задание выполняется с использованием карты мира и профиля рельефа Южной Америки.



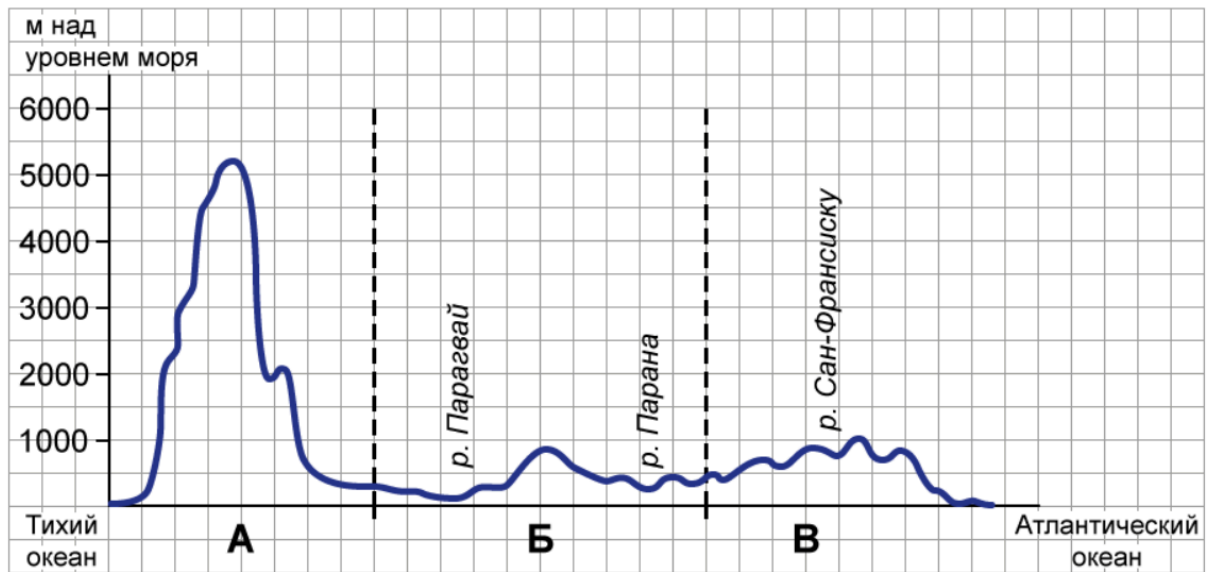
На уроке географии Сергей построил профиль рельефа Южной Америки, представленный на рисунке.



Какой крупной форме рельефа соответствует участок профиля, обозначенный на рисунке буквой В?

- Амазонская низменность
- горы Анды
- Бразильское плоскогорье
- Ла-Платская низменность

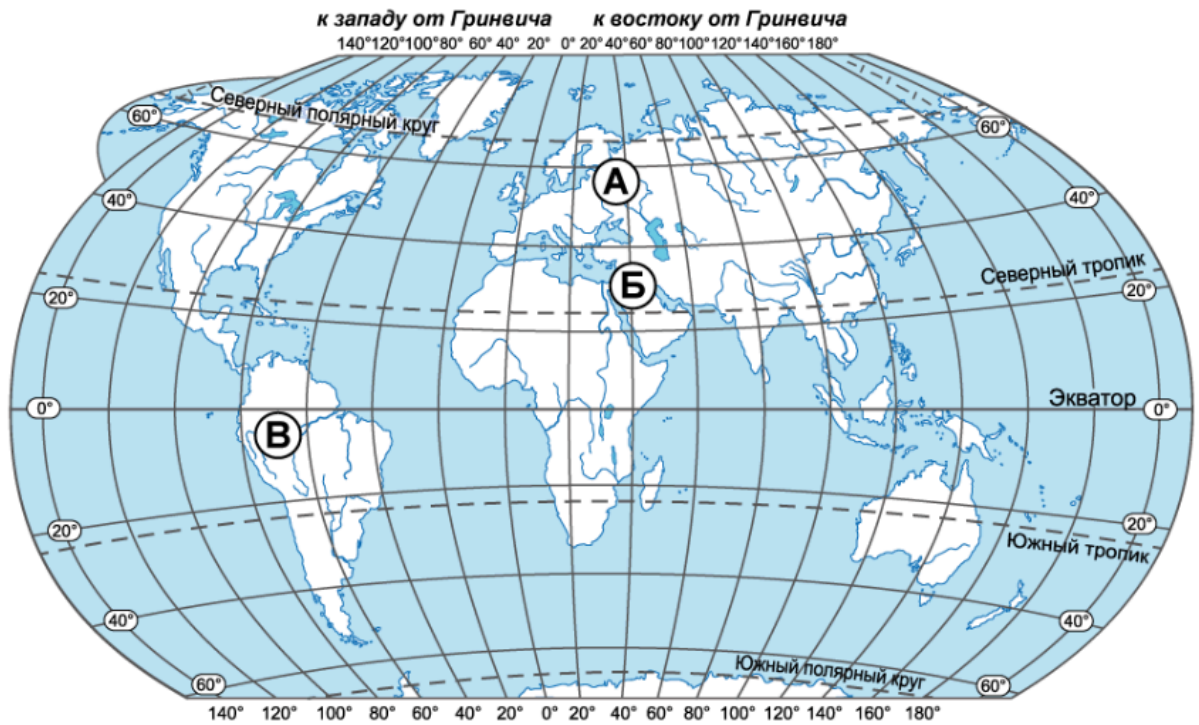
На уроке географии Сергей построил профиль рельефа Южной Америки, представленный на рисунке.



Определите абсолютную высоту (в метрах) наиболее высокой точки на линии профиля в пределах участка, обозначенного на рисунке буквой В. Значение округлите до сотен метров.

Ответ: м.

Задание выполняется с использованием карты мира и приведённых ниже климатограмм, построенных по данным метеонаблюдений в разных частях Земли.

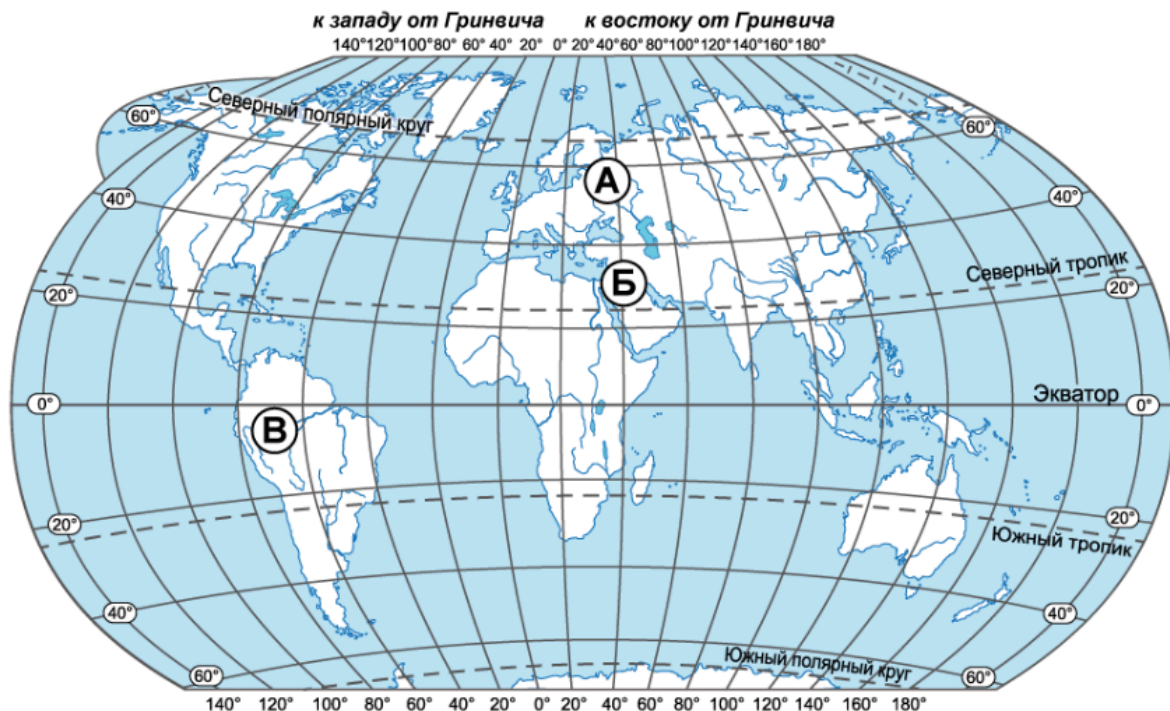


На карте мира пункты, для которых построены изображённые на рисунках климатограммы, обозначены буквами, соответствующими буквам климатограмм.

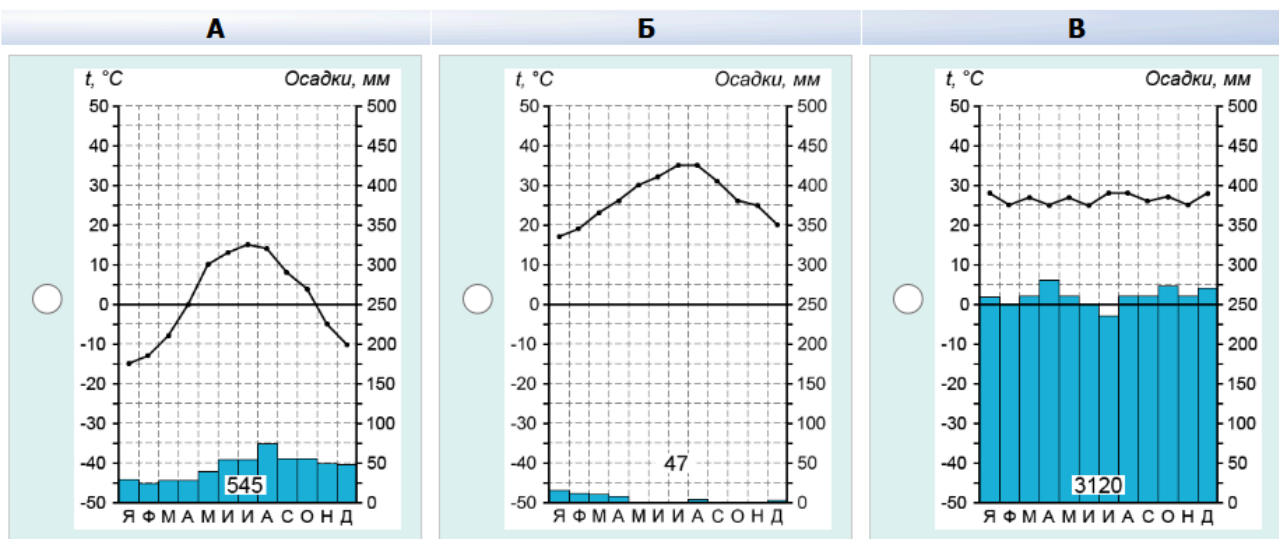
Установите соответствие между климатограммой пункта на карте и названием климатического пояса, в котором находится пункт. Каждой климатограмме, обозначенной буквой, поставьте в соответствие климатический пояс из выпадающего списка.

	А	Б	В
КЛИМАТОГРАММА			
КЛИМАТИЧЕСКИЙ ПОЯС	- выберите ответ - ▾	- выберите ответ - ▾	- выберите ответ - ▾

Задание выполняется с использованием карты мира и приведённых ниже климатограмм, построенных по данным метеонаблюдений в разных частях Земли.



Выберите и отметьте любую из приведённых климатограмм и заполните таблицу климатических показателей, используя данные соответствующей климатограммы.



100ballnik.com

Средняя температура воздуха, °C		Годовая амплитуда температур, °C	Годовое количество осадков, мм	Месяц, на который приходится наибольшее количество осадков
в январе	в июле			
<input type="text"/>	<input type="text"/>	<input type="text"/>	<input type="text"/>	- выберите ответ ->

Определите, какой природной зоне мира соответствуют приведённые ниже характеристики.

- 1) Эта зона занимает большие территории в Северной Америке; распространена преимущественно в Канаде.
- 2) Чётко выражены сезоны года.
- 3) В растительном покрове преобладают хвойные деревья.
- 4) Формируются подзолистые почвы.
- 5) К типичным представителям этой природной зоны в Северной Америке относятся: медведь гризли, волк, белка.

Выберите из выпадающего списка название этой природной зоны.

Ответ:

Сохранить

- тундра
- лесотундра
- тайга
- широколиственные леса

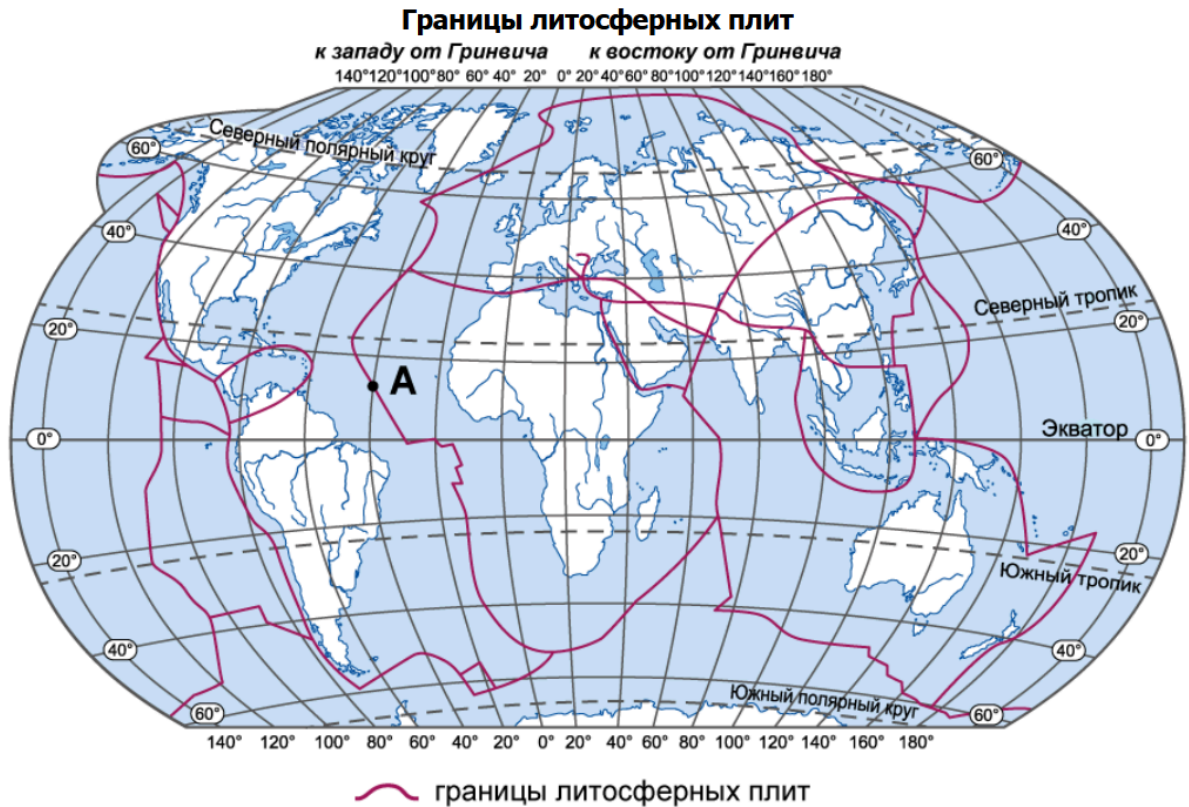
Page generated in 0.005, r

Ритмичность – одна из важнейших закономерностей, свойственных географической оболочке.

Какое из перечисленных географических явлений является примером её проявления?

- смена направления бризов в течение суток
- смена природных зон в Евразии при движении с севера на юг
- изменение атмосферного давления с высотой
- изменение средней годовой температуры воздуха от экватора к полюсам

Определите, какой процесс происходит на границе литосферных плит в точке, обозначенной на карте буквой А.



- раздвижение земной коры океанического типа
- раздвижение земной коры материкового типа
- погружение плиты с земной корой океанического типа под плиту с корой материкового типа
- столкновение плит с земной корой материкового типа

Задание выполняется с использованием приведённой ниже таблицы.

Территория, численность и структура занятости населения некоторых стран, 2022 г.

Страна	Площадь территории, км ²	Численность населения, млн человек	Структура занятости населения, %		
			сельское хозяйство	промышленность	сфера услуг
Бразилия	8 358 140	215	9	20	71
Великобритания	229 946	68	1	18	81
Нигер	1 266 700	26	71	7	22
Япония	364 485	125	3	24	73

Расположите страны в порядке увеличения численности населения, начиная со страны с самой маленькой численностью.



Бразилия

Великобритания

Нигер

Япония

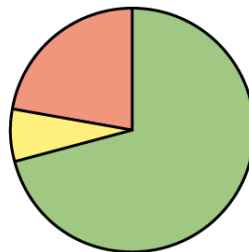
Задание выполняется с использованием приведённой ниже таблицы.

Территория, численность и структура занятости населения некоторых стран, 2022 г.

Страна	Площадь территории, км ²	Численность населения, млн человек	Структура занятости населения, %		
			сельское хозяйство	промышленность	сфера услуг
Бразилия	8 358 140	215	9	20	71
Великобритания	229 946	68	1	18	81
Нигер	1 266 700	26	71	7	22
Япония	364 485	125	3	24	73

Структуру занятости населения какой страны отражает представленная на рисунке диаграмма?

Структура занятости населения



сельское хозяйство

промышленность

сфера услуг

Бразилия

Великобритания

Нигер

Япония

Задание выполняется с использованием приведённой ниже таблицы.

Территория, численность и структура занятости населения некоторых стран, 2022 г.

Страна	Площадь территории, км ²	Численность населения, млн человек	Структура занятости населения, %		
			сельское хозяйство	промышленность	сфера услуг
Бразилия	8 358 140	215	9	20	71
Великобритания	229 946	68	1	18	81
Нигер	1 266 700	26	71	7	22
Япония	364 485	125	3	24	73

Определите, в какой из представленных в таблице стран средняя плотность населения наибольшая.

Бразилия

Великобритания

Нигер

Япония

Определите страну по её краткому описанию.

Это древнейшая страна, большая часть населения которой проживает в долине и дельте одной из самых протяжённых рек на Земле. Запасы нефти, орошаемые земли, рекреационные ресурсы – основные богатства этой страны; она обладает также выгодным географическим положением: выходом к морям и близостью к развитым странам. На её территории функционирует один из крупнейших каналов в мире.

Ответ: .

В каком из высказываний говорится о высотной поясности?

- По обе стороны от экватора в бассейне реки Конго и вдоль северного берега Гвинейского залива расположены влажные экваториальные леса.
- Постепенно с увеличением сухости воздуха саванны сменяются тропическими пустынями, которые расположены преимущественно в северной части равнинной Африки.
- Экваториальные леса Южной Америки известны своей труднопроходимостью, они занимают практически всю Амазонскую низменность.
- В области экватора у подножий Анд растут влажные леса, сходные с лесами равнинной части материка; выше их сменяют низкорослые леса из бамбуков, древовидных папоротников.

Обычно количество атмосферных осадков при удалении от побережья уменьшается.

На территории пустыни Намиб при движении вглубь материка количество атмосферных осадков постепенно увеличивается из-за того, что

- резко изменяется абсолютная высота местности в направлении от побережья вглубь материка
- уменьшается относительная влажность воздуха
- ослабевает влияние холодного Бенгельского течения
- изменяется характер подстилающей поверхности