

Тренировочный вариант 140 14.10.2024 ОГЭ 2025

Основной государственный экзамен по МАТЕМАТИКЕ

Тренировочный вариант № 140

Инструкция по выполнению работы

Экзаменационная работа состоит из двух частей, включающих в себя 25 заданий. Часть 1 содержит 19 заданий, часть 2 содержит 6 заданий с развёрнутым ответом. На выполнение экзаменационной работы по математике отводится 3 часа 55 минут (235 минут).

Ответы к заданиям 7 и 13 запишите в бланк ответов № 1 в виде одной цифры, которая соответствует номеру правильного ответа.

Для остальных заданий части 1 ответом является число или последовательность цифр. Ответ запишите в поле ответа в тексте работы, а затем перенесите в бланк ответов № 1. Если получилась обыкновенная дробь, ответ запишите в виде десятичной. Решения заданий части 2 и ответы к ним запишите на бланке ответов № 2. Задания можно выполнять в любом порядке. Текст задания переписывать не надо, необходимо только указать его номер. Все бланки заполняются яркими чёрными чернилами. Допускается использование гелевой или капиллярной ручки.

Сначала выполняйте задания части 1. Начать советуем с тех заданий, которые вызывают у Вас меньше затруднений, затем переходите к другим заданиям. Для экономии времени пропускайте задание, которое не удаётся выполнить сразу, и переходите к следующему. Если у Вас останется время, Вы сможете вернуться к пропущенным заданиям. При выполнении части 1 все необходимые вычисления, преобразования выполняйте в черновике.

Если задание содержит рисунок, то на нём непосредственно в тексте работы можно выполнять необходимые Вам построения. Рекомендуем внимательно читать условие и проводить проверку полученного ответа. При выполнении работы Вы можете воспользоваться справочными материалами, выданными вместе с вариантом КИМ, и линейкой. Баллы, полученные Вами за выполненные задания, суммируются. Постарайтесь выполнить как можно больше заданий и набрать наибольшее количество баллов.

При выполнении работы Вы можете воспользоваться справочными материалами, выданными вместе с вариантом КИМ и линейкой.

Для прохождения аттестационного порога необходимо набрать не менее 8 баллов, из которых не менее 2 баллов должны быть получены за решение заданий по геометрии (задания 15–19, 23–25).

После завершения работы проверьте, чтобы ответ на каждое задание в бланках ответов № 1 и № 2 был записан под правильным номером.

Желаем успеха!

Часть 1

Прочитайте внимательно текст и выполните задание 1-5.

Хозяин дачного участка строит баню с парным отделением. Парное отделение имеет размеры: длина 3,5 м, ширина 2,2 м, высота 2 м. Окон в парном отделении нет, для доступа внутрь планируется дверь шириной 60 см, высота дверного проёма 1,8 м. Для прогрева парного отделения можно использовать электрическую или дровяную печь. В таблице представлены характеристики трёх печей.

Номер печи	Тип	Объём помещения (куб. м)	Масса (кг)	Стоимость (руб.)
1	дровяная	8—12	40	18 000
2	дровяная	10—16	48	19 500
3	электрическая	9—15,5	15	15 000

Для установки дровяной печи дополнительных затрат не потребуется. Установка электрической печи потребует подведения специального кабеля, что обойдётся в 6500 руб.

1. Установите соответствие между массами и номерами печей. Заполните таблицу, в бланк ответов перенесите последовательность трёх цифр без пробелов, запятых и других дополнительных символов.

Масса (кг)	15	40	48
Номер печи			

Ответ: _____

2. Найдите объём парного отделения строящейся бани. Ответ дайте в кубических метрах.

Ответ: _____

3. На сколько рублей покупка дровяной печи, подходящей по объёму парного отделения, обойдётся дешевле электрической с учётом установки?

Ответ: _____

Тренировочный вариант 140 14.10.2024 ОГЭ 2025

4. На деревянную печь, масса которой 40 кг, сделали скидку 10%. Сколько рублей стала стоить печь?

Ответ: _____

5. Хозяин выбрал деревянную печь (рис. 1). Чертёж передней панели печи показан на рисунке 2.



Рис. 1

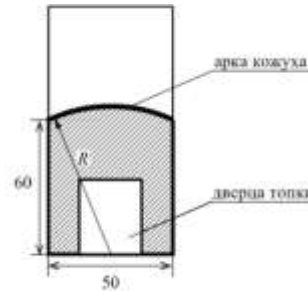


Рис. 2


Печь снабжена кожухом вокруг дверцы топки. Верхняя часть кожуха выполнена в виде арки, приваренной к передней стенке печки по дуге окружности с центром в середине нижней части кожуха (рис. 2). Для установки печки хозяину понадобилось узнать радиус закругления арки R . Размеры кожуха в сантиметрах показаны на рисунке. Найдите радиус закругления арки в сантиметрах.

Ответ: _____

6. Найдите значение выражения $\frac{1}{5} + \frac{53}{50}$

Ответ: _____

7. На координатной прямой отмечено число a .



Какое из утверждений для этого числа является верным?

- 1) $a - 5 < 0$ 2) $5 - a < 0$ 3) $a - 7 > 0$ 4) $6 - a > 0$

Ответ: _____

8. Найдите значение выражения $\sqrt{\frac{1}{16} \cdot x^6 y^4}$ при $x = 2$ и $y = 5$.

Ответ: _____

9. Решите уравнение $10x^2 = 80x$. Если уравнение имеет более одного корня, то в ответ запишите меньший из корней

Ответ: _____

10. Родительский комитет закупил 10 пазлов для подарков детям в связи с окончанием учебного года, из них 5 с машинами и 5 с видами городов. Подарки распределяются случайным образом между 10 детьми, среди которых есть Витя. Найдите вероятность того, что Вите достанется пазл с машиной.

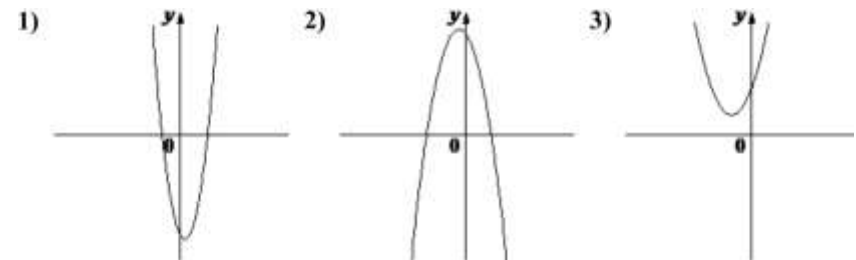
Ответ: _____

11. На рисунке изображены графики функций вида $y = ax^2 + bx + c$. Установите соответствие между знаками коэффициентов a и c и графиками функций.

КОЭФФИЦИЕНТЫ

- А) $a > 0, c > 0$ Б) $a < 0, c > 0$ В) $a > 0, c < 0$

ГРАФИКИ



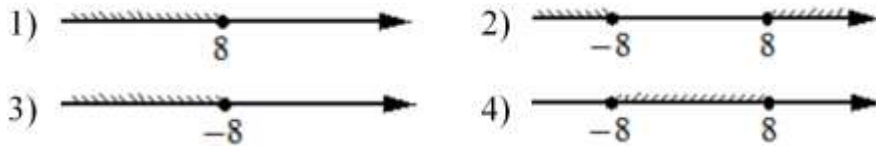
В таблице под каждой буквой укажите соответствующий номер

А	Б	В

12. Перевести значение температуры по шкале Фаренгейта в шкалу Цельсия позволяет формула $t_c = \frac{5}{9}(t_F - 32)$, где t_c – температура в градусах Цельсия, t_F – температура в градусах Фаренгейта. Скольким градусам по шкале Цельсия соответствует -58 градусов по шкале Фаренгейта?

Ответ: _____

13. Укажите решение неравенства $x^2 \leq 64$



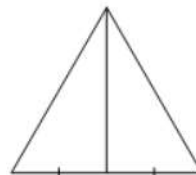
Ответ: _____

14. В амфитеатре 16 рядов, причём в каждом следующем ряду на одно и то же число мест больше, чем в предыдущем. В четвёртом ряду 23 места, а в восьмом ряду 35 мест. Сколько мест в последнем ряду амфитеатра?

Ответ: _____

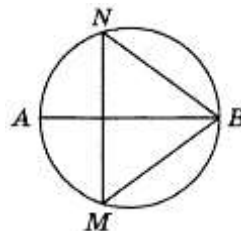
15. Медиана равностороннего треугольника равна $12\sqrt{3}$. Найдите сторону этого треугольника.

Ответ: _____

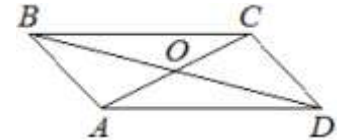


16. На окружности по разные стороны от диаметра AB взяты точки M и N . Известно, что $\angle NBA = 69^\circ$. Найдите угол NMB . Ответ дайте в градусах.

Ответ: _____



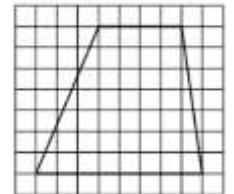
17. Диагонали AC и BD параллелограмма $ABCD$ пересекаются в точке O , $AC = 14$, $BD = 18$, $AB = 5$. Найдите DO .



Ответ: _____

18. На клетчатой бумаге с размером клетки 1×1 изображена трапеция. Найдите её площадь.

Ответ: _____



19. Какое из следующих утверждений **верно**?

- 1) Центр описанной около треугольника окружности всегда лежит внутри этого треугольника.
- 2) Сумма углов равнобедренного треугольника равна 180 градусам.
- 3) Диагонали ромба равны.

В ответ запишите номер выбранного утверждения.

Ответ: _____

Не забудьте перенести в бланк ответов №1 в соответствии с инструкцией по выполнению работы

Часть 2

Для выполнения задания 20-25 используйте БЛАНК ОТВЕТОВ №2. Сначала укажите номер задания, а затем запишите его решение и ответ. Пишите чётко и разборчиво

Модуль «Алгебра»

20. Решите неравенство: $(x-7)^2 < \sqrt{11}(x-7)$.

21. Первая труба пропускает на 15 литров воды в минуту меньше, чем вторая труба. Сколько литров воды в минуту пропускает вторая труба, если резервуар объёмом 100 литров она заполняет на 6 минут быстрее, чем первая труба?

22. Постройте график функции

$$y = \begin{cases} 2,5x - 1 & \text{при } x < 2, \\ -3,5x + 11 & \text{при } 2 \leq x \leq 3, \\ x - 1 & \text{при } x > 3. \end{cases}$$

Определите, при каких значениях m прямая $y = m$ имеет с графиком две общие точки.

Модуль «Геометрия»

23. Отрезки AB и CD являются хордами окружности. Найдите расстояние от центра окружности до хорды CD , если $AB = 30$, $CD = 40$, а расстояние от центра окружности до хорды AB равно 20.

24. В трапеции $ABCD$ с основаниями AD и BC диагонали пересекаются в точке P . Докажите, что площади треугольников APB и CPD равны.

25. Окружности радиусов 45 и 90 касаются внешним образом. Точки A и B лежат на первой окружности, точки C и D — на второй. При этом AC и BD — общие касательные окружностей. Найдите расстояние между прямыми AB и CD .

Тренировочный вариант 140 14.10.2024 ОГЭ 2025

ОТВЕТЫ К ТРЕНИРОВОЧНОМУ ВАРИАНТУ 140

1	312
2	15,4
3	2000
4	16200
5	65
6	1,26
7	2
8	50
9	0
10	0,5
11	321
12	– 50
13	4
14	59
15	24
16	21
17	9
18	42
19	2

20	$(7; 7 + \sqrt{11})$.
21	25.
22	$[0,5; 2] \cup \{4\}$.
23	15.
24	
25	120.