

Тренировочный вариант 139 07.10.2024 ОГЭ 2025

Основной государственный экзамен по МАТЕМАТИКЕ

Тренировочный вариант № 139

Инструкция по выполнению работы

Экзаменационная работа состоит из двух частей, включающих в себя 25 заданий. Часть 1 содержит 19 заданий, часть 2 содержит 6 заданий с развёрнутым ответом. На выполнение экзаменационной работы по математике отводится 3 часа 55 минут (235 минут).

Ответы к заданиям 7 и 13 запишите в бланк ответов № 1 в виде одной цифры, которая соответствует номеру правильного ответа.

Для остальных заданий части 1 ответом является число или последовательность цифр. Ответ запишите в поле ответа в тексте работы, а затем перенесите в бланк ответов № 1. Если получилась обыкновенная дробь, ответ запишите в виде десятичной. Решения заданий части 2 и ответы к ним запишите на бланке ответов № 2. Задания можно выполнять в любом порядке. Текст задания переписывать не надо, необходимо только указать его номер. Все бланки заполняются яркими чёрными чернилами. Допускается использование гелевой или капиллярной ручки.

Сначала выполняйте задания части 1. Начать советуем с тех заданий, которые вызывают у Вас меньше затруднений, затем переходите к другим заданиям. Для экономии времени пропускайте задание, которое не удаётся выполнить сразу, и переходите к следующему. Если у Вас останется время, Вы сможете вернуться к пропущенным заданиям. При выполнении части 1 все необходимые вычисления, преобразования выполняйте в черновике.

Если задание содержит рисунок, то на нём непосредственно в тексте работы можно выполнять необходимые Вам построения. Рекомендуем внимательно читать условие и проводить проверку полученного ответа. При выполнении работы Вы можете воспользоваться справочными материалами, выданными вместе с вариантом КИМ, и линейкой. Баллы, полученные Вами за выполненные задания, суммируются. Постарайтесь выполнить как можно больше заданий и набрать наибольшее количество баллов.

При выполнении работы Вы можете воспользоваться справочными материалами, выданными вместе с вариантом КИМ и линейкой.

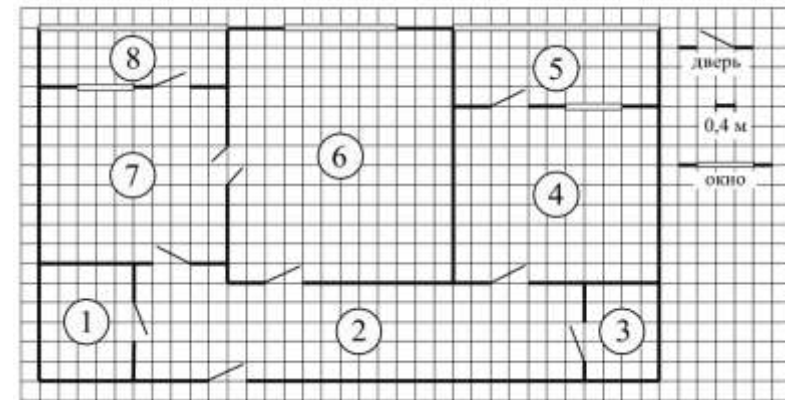
Для прохождения аттестационного порога необходимо набрать не менее 8 баллов, из которых не менее 2 баллов должны быть получены за решение заданий по геометрии (задания 15–19, 23–25).

После завершения работы проверьте, чтобы ответ на каждое задание в бланках ответов № 1 и № 2 был записан под правильным номером.

Желаем успеха!

Часть 1

Прочитайте внимательно текст и выполните задание 1-5.



На рисунке изображён план двухкомнатной квартиры в многоэтажном жилом доме. Сторона одной клетки на плане соответствует 0,4 м, а условные обозначения двери и окна приведены в правой части рисунка. Вход в квартиру находится в коридоре. Слева от входа в квартиру находится санузел, а в противоположном конце коридора — дверь в кладовую. Рядом с кладовой находится спальня, из которой можно пройти на одну из застеклённых лоджий. Самое большое по площади помещение — гостиная, откуда можно попасть в коридор и на кухню. Из кухни также можно попасть на застеклённую лоджию.

1. Для объектов, указанных в таблице, определите, какими цифрами они обозначены на плане. Заполните таблицу, в бланк перенесите последовательность четырёх цифр без пробелов, запятых и других дополнительных символов.

Объекты	коридор	кладовая	спальня	кухня
Цифры				

Ответ: _____

2. Паркетная доска размером 20 см на 80 см продаётся в упаковках по 14 штук. Сколько упаковок паркетной доски понадобилось, чтобы выложить пол в гостиной?

Ответ: _____

Тренировочный вариант 139 07.10.2024 ОГЭ 2025

3. Найдите площадь санузла. Ответ дайте в квадратных метрах.

Ответ: _____

4. На сколько процентов площадь коридора больше площади кладовой?

Ответ: _____

5. В квартире планируется установить стиральную машину. Характеристики стиральных машин, условия подключения и доставки приведены в таблице. Планируется купить стиральную машину с вертикальной загрузкой, не превосходящую 85 см по высоте.

Модель	Вместимость барабана (кг)	Тип загрузки	Стоимость (руб.)	Стоимость подключения (руб.)	Стоимость доставки (% от стоимости машины)	Габариты (высота × ширина × глубина, см)
А	7	верт.	28 000	1700	бесплатно	85 × 60 × 45
Б	5	фронт.	24 000	4500	10	85 × 60 × 40
В	5	фронт.	25 000	5000	10	85 × 60 × 40
Г	6,5	фронт.	24 000	4500	10	85 × 60 × 44
Д	6	фронт.	28 000	1700	бесплатно	85 × 60 × 45
Е	6	верт.	27 600	2300	бесплатно	89 × 60 × 40
Ж	6	верт.	27 585	1900	10	89 × 60 × 40
З	6	фронт.	20 000	6300	15	85 × 60 × 42
И	5	фронт.	27 000	1800	бесплатно	85 × 60 × 40
К	5	верт.	27 000	1800	бесплатно	85 × 60 × 40

Сколько рублей будет стоить наиболее дешёвый подходящий вариант вместе с подключением и доставкой?

Ответ: _____

6. Найдите значение выражения $2,3 \cdot 7,5$

Ответ: _____

7. Между какими целыми числами заключено число $\sqrt{27}$?

1) 2 и 3 2) 5 и 6 3) 12 и 14 4) 26 и 28

Ответ: _____

8. Найдите значение выражения $\frac{3^7}{81}$

Ответ: _____

9. Найдите корень уравнения $-4 + 7x = 8x + 1$

Ответ: _____

10. В фирме такси в данный момент свободно 30 машин: 3 чёрных, 9 жёлтых и 18 зелёных. По вызову выехала одна из машин, случайно оказавшаяся ближе всего к заказчику. Найдите вероятность того, что к нему приедет жёлтое такси.

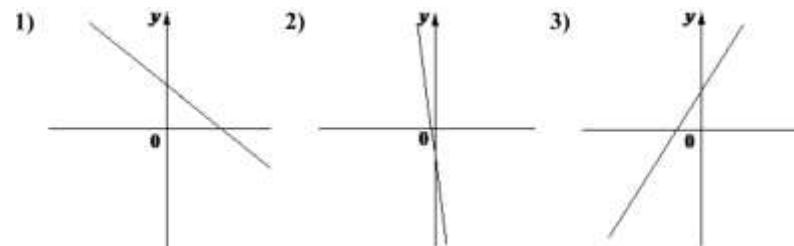
Ответ: _____

11. На рисунке изображены графики функций вида $y = kx + b$. Установите соответствие между знаками коэффициентов k и b графиками функций.

КОЭФФИЦИЕНТЫ

А) $k > 0, b > 0$ Б) $k < 0, b > 0$ В) $k < 0, b < 0$

ГРАФИКИ



В таблице под каждой буквой укажите соответствующий номер

А	Б	В

Тренировочный вариант 139 07.10.2024 ОГЭ 2025

12. Чтобы перевести значение температуры по шкале Цельсия в шкалу Фаренгейта, пользуются формулой $t_F = 1,8t_C + 32$, где t_C – температура в градусах Цельсия, t_F – температура в градусах Фаренгейта. Скольким градусам по шкале Фаренгейта соответствует 100 градусов по шкале Цельсия?

Ответ: _____

13. Укажите решение системы неравенств:
$$\begin{cases} x + 2,8 \leq 0, \\ x + 0,3 \leq -2,4. \end{cases}$$
- 1) $(-\infty; -2,8]$ 2) $(-\infty; -2,8] \cup [-2,7; +\infty)$
 3) $[-2,8; -2,7]$ 4) $[-2,7; +\infty)$

Ответ: _____

14. Камень бросают в глубокое ущелье. При этом в первую секунду он пролетает 13 метров, а в каждую следующую секунду на 10 метров больше, чем в предыдущую, до тех пор, пока не достигнет дна ущелья. Сколько метров пролетит камень за первые пять секунд?

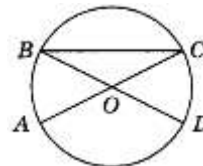
Ответ: _____

15. Два катета прямоугольного треугольника равны 4 и 10. Найдите площадь этого треугольника.



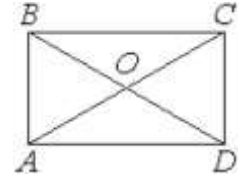
Ответ: _____

16. Отрезки AC и BD – диаметры окружности с центром O . Угол ACB равен 23° . Найдите угол AOD . Ответ дайте в градусах.



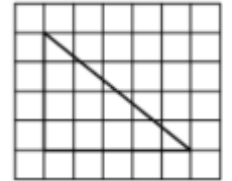
Ответ: _____

17. Диагонали AC и BD прямоугольника $ABCD$ пересекаются в точке O , $BO = 24$, $AB = 45$. Найдите AC .



Ответ: _____

18. На клетчатой бумаге с размером клетки 1×1 изображён прямоугольный треугольник. Найдите длину его большего катета.



Ответ: _____

19. Какие из следующих утверждений **верны**?

- 1) Если три угла одного треугольника равны соответственно трём углам другого треугольника, то такие треугольники равны.
- 2) Через точку, не лежащую на данной прямой, можно провести прямую, параллельную этой прямой.
- 3) Расстояние от точки, лежащей на окружности, до центра окружности равно радиусу.

В ответ запишите номера выбранных утверждений без пробелов, запятых и других дополнительных символов.

Ответ: _____

Не забудьте перенести в бланк ответов №1 в соответствии с инструкцией по выполнению работы

Часть 2

Для выполнения задания 20-25 используйте БЛАНК ОТВЕТОВ №2. Сначала укажите номер задания, а затем запишите его решение и ответ. Пишите чётко и разборчиво

Модуль «Алгебра»

20. Решите уравнение: $(x-1)(x^2+8x+16)=6(x+4)$.
21. Из двух городов одновременно навстречу друг другу отправились два велосипедиста. Проехав некоторую часть пути, первый велосипедист сделал остановку на 28 минут, а затем продолжил движение до встречи со вторым велосипедистом. Расстояние между городами составляет 286 км, скорость первого велосипедиста равна 10 км/ч, скорость второго — 30 км/ч. Определите расстояние от города, из которого выехал второй велосипедист, до места встречи.
22. Постройте график функции

$$y = \frac{7x-5}{7x^2-5x}$$

Определите, при каких значениях k прямая $y = kx$ имеет с графиком ровно одну общую точку.

Модуль «Геометрия»

23. Углы B и C треугольника ABC равны соответственно 65° и 85° . Найдите BC , если радиус окружности, описанной около треугольника ABC , равен 14.
24. На средней линии трапеции $ABCD$ с основаниями AD и BC выбрали произвольную точку F . Докажите, что сумма площадей треугольников BFC и AFD равна половине площади трапеции.
25. Боковые стороны AB и CD трапеции $ABCD$ равны соответственно 8 и 10, а основание BC равно 2. Биссектриса угла ADC проходит через середину стороны AB . Найдите площадь трапеции.

Тренировочный вариант 139 07.10.2024 ОГЭ 2025

ОТВЕТЫ К ТРЕНИРОВОЧНОМУ ВАРИАНТУ 139

1	2347
2	12
3	4,8
4	525
5	28800
6	17,25
7	2
8	27
9	- 5
10	0,3
11	312
12	212
13	1
14	165
15	20
16	134
17	48
18	5
19	23

20	-5; -4; 2.
21	218.
22	$\frac{49}{25}$.
23	14
24	
25	40.