

## СПРАВОЧНЫЕ МАТЕРИАЛЫ ПО МАТЕМАТИКЕ

## АЛГЕБРА

## Инструкция по выполнению работы

Экзаменационная работа состоит из двух частей, включающих в себя 25 заданий. Часть 1 содержит 19 заданий, часть 2 содержит 6 заданий с развёрнутым ответом.

На выполнение экзаменационной работы по математике отводится 3 часа 55 минут (235 минут).

Ответы к заданиям 7 и 13 запишите в бланк ответов № 1 в виде одной цифры, которая соответствует номеру правильного ответа.

Для остальных заданий части 1 ответом является число или последовательность цифр. Ответ запишите в поле ответа в тексте работы, а затем перенесите в бланк ответов № 1. Если получилась обыкновенная дробь, ответ запишите в виде десятичной.

Решения заданий части 2 и ответы к ним запишите на бланке ответов № 2. Задания можно выполнять в любом порядке. Текст задания переписывать не надо, необходимо только указать его номер.

Все бланки заполняются яркими чёрными чернилами. Допускается использование гелевой или капиллярной ручки.

Сначала выполняйте задания части 1. Начать советуем с тех заданий, которые вызывают у Вас меньше затруднений, затем переходите к другим заданиям. Для экономии времени пропускайте задание, которое не удаётся выполнить сразу, и переходите к следующему. Если у Вас останется время, Вы сможете вернуться к пропущенным заданиям.

При выполнении части 1 все необходимые вычисления, преобразования выполняйте в черновике. **Записи в черновике, а также в тексте контрольных измерительных материалов не учитываются при оценивании работы.**

Если задание содержит рисунок, то на нём непосредственно в тексте работы можно выполнять необходимые Вам построения. Рекомендуем внимательно читать условие и проводить проверку полученного ответа.

При выполнении работы Вы можете воспользоваться справочными материалами, выданными вместе с вариантом КИМ, и линейкой.

Баллы, полученные Вами за выполненные задания, суммируются. Постарайтесь выполнить как можно больше заданий и набрать наибольшее количество баллов.

После завершения работы проверьте, чтобы ответ на каждое задание в бланках ответов № 1 и № 2 был записан под правильным номером.

*Желаем успеха!*

Копирование не допускается

- Формула корней квадратного уравнения:

$$x = \frac{-b \pm \sqrt{D}}{2a}, \text{ где } D = b^2 - 4ac.$$

- Если квадратный трёхчлен  $ax^2 + bx + c$  имеет два корня  $x_1$  и  $x_2$ , то

$$ax^2 + bx + c = a(x - x_1)(x - x_2);$$

- если квадратный трёхчлен  $ax^2 + bx + c$  имеет единственный корень  $x_0$ , то

$$ax^2 + bx + c = a(x - x_0)^2.$$

- Абсцисса вершины параболы, заданной уравнением  $y = ax^2 + bx + c$ :

$$x_0 = -\frac{b}{2a}.$$

- Формула  $n$ -го члена арифметической прогрессии  $(a_n)$ , первый член которой равен  $a_1$  и разность равна  $d$ :

$$a_n = a_1 + d(n - 1).$$

- Формула суммы первых  $n$  членов арифметической прогрессии:

$$S_n = \frac{(a_1 + a_n)n}{2}.$$

- Формула  $n$ -го члена геометрической прогрессии  $(b_n)$ , первый член которой равен  $b_1$ , а знаменатель равен  $q$ :

$$b_n = b_1 \cdot q^{n-1}$$

- Формула суммы первых  $n$  членов геометрической прогрессии:

$$S_n = \frac{(q^n - 1)b_1}{q - 1}.$$

- Формулы сокращённого умножения:

$$(a + b)^2 = a^2 + 2ab + b^2;$$

$$(a - b)^2 = a^2 - 2ab + b^2;$$

$$a^2 - b^2 = (a - b)(a + b).$$

- Свойства арифметического квадратного корня:

$$\sqrt{ab} = \sqrt{a} \cdot \sqrt{b} \text{ при } a \geq 0, b \geq 0;$$

$$\sqrt{\frac{a}{b}} = \frac{\sqrt{a}}{\sqrt{b}} \text{ при } a \geq 0, b > 0.$$

- Свойства степени при  $a > 0, b > 0$

$$a^{-n} = \frac{1}{a^n};$$

$$a^n \cdot a^m = a^{n+m};$$

$$\frac{a^n}{a^m} = a^{n-m};$$

$$(a^n)^m = a^{nm};$$

$$(ab)^n = a^n \cdot b^n;$$

$$\left(\frac{a}{b}\right)^n = \frac{a^n}{b^n}.$$

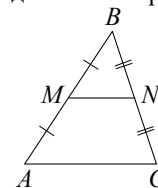
Таблица квадратов двузначных чисел

		Единицы									
		0	1	2	3	4	5	6	7	8	9
Десятки	1	100	121	144	169	196	225	256	289	324	361
	2	400	441	484	529	576	625	676	729	784	841
	3	900	961	1024	1089	1156	1225	1296	1369	1444	1521
	4	1600	1681	1764	1849	1936	2025	2116	2209	2304	2401
	5	2500	2601	2704	2809	2916	3025	3136	3249	3364	3481
	6	3600	3721	3844	3969	4096	4225	4356	4489	4624	4761
	7	4900	5041	5184	5329	5476	5625	5776	5929	6084	6241
	8	6400	6561	6724	6889	7056	7225	7396	7569	7744	7921
	9	8100	8281	8464	8649	8836	9025	9216	9409	9604	9801

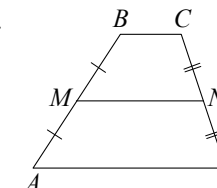
ГЕОМЕТРИЯ

Сумма углов выпуклого  $n$ -угольника равна  $180^\circ(n-2)$ .

Средняя линия треугольника и трапеции

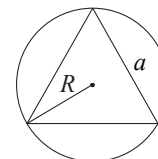


$MN$  — ср. лин.  
 $MN \parallel AC$   
 $MN = \frac{AC}{2}$



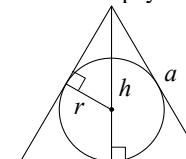
$BC \parallel AD$   
 $MN$  — ср. лин.  
 $MN \parallel AD$   
 $MN = \frac{BC + AD}{2}$

Описанная и вписанная окружности правильного треугольника



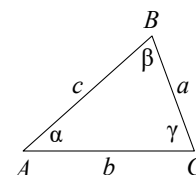
$$R = \frac{a\sqrt{3}}{3}$$

$$S = \frac{a^2\sqrt{3}}{4}$$



$$r = \frac{a\sqrt{3}}{6}$$

$$h = \frac{a\sqrt{3}}{2}$$



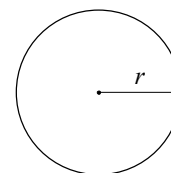
Для треугольника  $ABC$  со сторонами  $AB = c$ ,  $AC = b$ ,  $BC = a$ :

$$\frac{a}{\sin A} = \frac{b}{\sin B} = \frac{c}{\sin C} = 2R,$$

где  $R$  — радиус описанной окружности.

Для треугольника  $ABC$  со сторонами  $AB = c$ ,  $AC = b$ ,  $BC = a$ :

$$c^2 = a^2 + b^2 - 2ab \cos C.$$

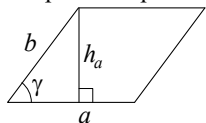


Длина окружности  $C = 2\pi r$

Площадь круга  $S = \pi r^2$

**Площади фигур**

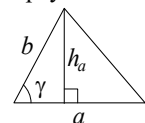
Параллелограмм



$$S = ah_a$$

$$S = ab \sin \gamma$$

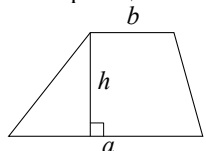
Треугольник



$$S = \frac{1}{2} ah_a$$

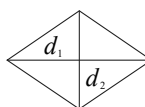
$$S = \frac{1}{2} ab \sin \gamma$$

Трапеция



$$S = \frac{a+b}{2} \cdot h$$

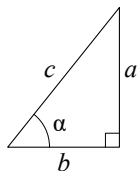
Ромб



$d_1, d_2$  — диагонали

$$S = \frac{1}{2} d_1 d_2$$

Прямоугольный треугольник



$$\sin \alpha = \frac{a}{c}$$

$$\cos \alpha = \frac{b}{c}$$

$$\operatorname{tg} \alpha = \frac{a}{b}$$

Теорема Пифагора:  $a^2 + b^2 = c^2$

Основное тригонометрическое тождество:  $\sin^2 \alpha + \cos^2 \alpha = 1$

Некоторые значения тригонометрических функций

$\alpha$	градусы	$0^\circ$	$30^\circ$	$45^\circ$	$60^\circ$	$90^\circ$	$180^\circ$	$270^\circ$	$360^\circ$
$\sin \alpha$		0	$\frac{1}{2}$	$\frac{\sqrt{2}}{2}$	$\frac{\sqrt{3}}{2}$	1	0	-1	0
$\cos \alpha$		1	$\frac{\sqrt{3}}{2}$	$\frac{\sqrt{2}}{2}$	$\frac{1}{2}$	0	-1	0	1
$\operatorname{tg} \alpha$		0	$\frac{\sqrt{3}}{3}$	1	$\sqrt{3}$	—	0	—	0

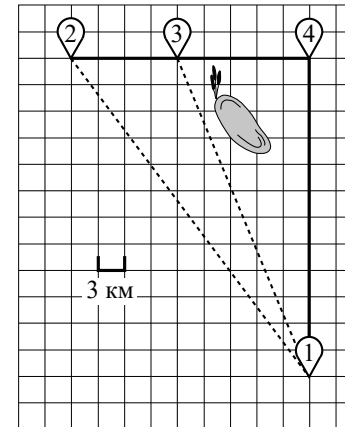
Копирование не допускается

**Часть 1**

Ответами к заданиям 1–19 являются число или последовательность цифр, которые следует записать в БЛАНК ОТВЕТОВ № 1 справа от номера соответствующего задания, начиная с первой клеточки. Если ответом является последовательность цифр, то запишите её без пробелов и других дополнительных символов. Каждый символ пишите в отдельной клеточке в соответствии с приведёнными в бланке образцами.

**Прочитайте внимательно текст и выполните задания 1–5.**

Дима летом отдыхает у бабушки в деревне Васильевка. Во вторник они собираются съездить на велосипедах в село Плодородное на ярмарку. Из деревни Васильевка в село Плодородное можно проехать по прямой лесной дорожке. Есть более длинный путь: по прямолинейному шоссе через деревню Шарковка до деревни Рассвет, где нужно повернуть под прямым углом направо на другое шоссе, ведущее в село Плодородное. Есть и третий маршрут: в деревне Шарковка можно свернуть на прямую тропинку в село Плодородное, которая идёт мимо пруда. Лесная дорожка и тропинка образуют с шоссе прямоугольные треугольники.



По шоссе Дима с бабушкой едут со скоростью 25 км/ч, а по лесной дорожке и тропинке — со скоростью 18 км/ч. На плане изображено взаимное расположение населённых пунктов, длина стороны каждой клетки равна 3 км.

- 1 Пользуясь описанием, определите, какими цифрами на плане обозначены населённые пункты.  
Заполните таблицу, в бланк ответов перенесите последовательность трёх цифр без пробелов, запятых и других дополнительных символов.

Насел. пункты	д. Рассвет	с. Плодородное	д. Васильевка
Цифры			

- 2 Сколько километров проедут Дима с дедушкой от деревни Васильевка до села Плодородное, если они поедут по шоссе через деревню Рассвет?

Ответ: \_\_\_\_\_.

- 3 Найдите расстояние от деревни Шарковка до села Плодородное по прямой. Ответ дайте в километрах.

Ответ: \_\_\_\_\_.

- 4 Сколько минут затратят на дорогу из деревни Васильевка в село Плодородное Дима с дедушкой, если они поедут по прямой лесной дорожке?

Ответ: \_\_\_\_\_.

- 5 В таблице указана стоимость (в рублях) некоторых продуктов в четырёх магазинах, расположенных в деревне Васильевка, селе Плодородное, деревне Шарковка и деревне Рассвет.

Наименование продукта	д. Васильевка	с. Плодородное	д. Шарковка	д. Рассвет
Молоко (1 л)	37	38	36	39
Хлеб (1 батон)	16	18	22	21
Сыр «Российский» (1 кг)	240	280	250	260
Говядина (1 кг)	420	430	415	410
Картофель (1 кг)	30	28	35	25


Дима с дедушкой хотят купить 2 л молока, 3 кг говядины и 2 кг картофеля. В каком магазине такой набор продуктов будет стоить дешевле всего? В ответ запишите стоимость данного набора в этом магазине.

Ответ: \_\_\_\_\_.

- 6 Найдите значение выражения  $\frac{1}{5} - \frac{27}{20}$ .

Ответ: \_\_\_\_\_.

- 7 На координатной прямой отмечены числа  $x$ ,  $y$  и  $z$ .



Какая из разностей  $z - x$ ,  $y - z$ ,  $x - y$  отрицательна?

- 1)  $z - x$       2)  $y - z$       3)  $x - y$       4) ни одна из них

Ответ:

- 8 Найдите значение выражения  $a^{-15} \cdot (a^5)^4$  при  $a = 2$ .

Ответ: \_\_\_\_\_.

**9** Решите уравнение  $x^2 - 25 = 0$ .  
Если уравнение имеет более одного корня, в ответ запишите меньший из корней.

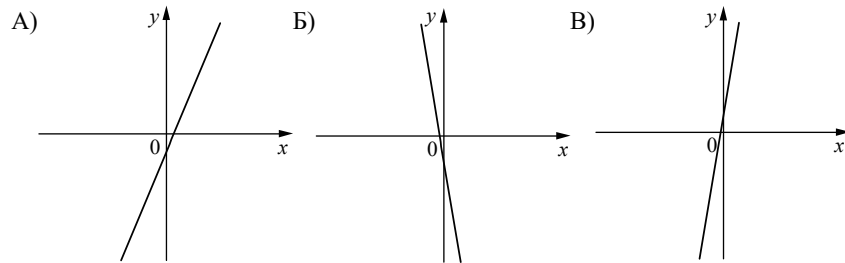
Ответ: \_\_\_\_\_.

**10** Вероятность того, что новая шариковая ручка пишет плохо (или не пишет), равна 0,21. Покупатель в магазине выбирает одну шариковую ручку. Найдите вероятность того, что эта ручка пишет хорошо.

Ответ: \_\_\_\_\_.

**11** На рисунках изображены графики функций вида  $y = kx + b$ . Установите соответствие между графиками функций и знаками коэффициентов  $k$  и  $b$ .

ГРАФИКИ



КОЭФФИЦИЕНТЫ

- 1)  $k > 0, b > 0$       2)  $k > 0, b < 0$       3)  $k < 0, b < 0$

В таблице под каждой буквой укажите соответствующий номер.

Ответ:

A	B	B

**12** Мощность постоянного тока (в ваттах) вычисляется по формуле  $P = I^2 R$ , где  $I$  — сила тока (в амперах),  $R$  — сопротивление (в омах). Пользуясь этой формулой, найдите сопротивление  $R$ , если мощность составляет 588 Вт, а сила тока равна 7 А. Ответ дайте в омах.

Ответ: \_\_\_\_\_.

**13** Укажите решение системы неравенств

$$\begin{cases} x - 5,2 \geq 0, \\ x + 4 \leq 10. \end{cases}$$

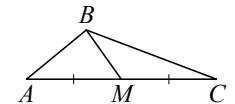
- 1)  $(-\infty; 5,2] \cup [6; +\infty)$       3)  $[5,2; +\infty)$   
2)  $[5,2; 6]$       4)  $[6; +\infty)$

Ответ:

**14** В амфитеатре 10 рядов. В первом ряду 25 мест, а в каждом следующем на 3 места больше, чем в предыдущем. Сколько мест в восьмом ряду амфитеатра?

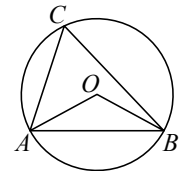
Ответ: \_\_\_\_\_.

**15** В треугольнике  $ABC$  известно, что  $AC = 56$ ,  $BM$  — медиана,  $BM = 48$ . Найдите  $AM$ .



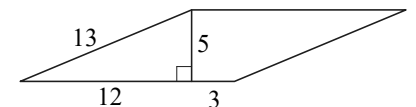
Ответ: \_\_\_\_\_.

**16** Треугольник  $ABC$  вписан в окружность с центром в точке  $O$ . Точки  $O$  и  $C$  лежат в одной полуплоскости относительно прямой  $AB$ . Найдите угол  $ACB$ , если угол  $AOB$  равен  $115^\circ$ . Ответ дайте в градусах.



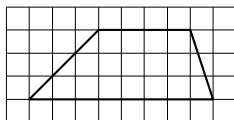
Ответ: \_\_\_\_\_.

**17** Найдите площадь параллелограмма, изображённого на рисунке.



Ответ: \_\_\_\_\_.

- 18 На клетчатой бумаге с размером клетки  $1 \times 1$  изображена трапеция. Найдите её площадь.



Ответ: \_\_\_\_\_.

- 19 Какие из следующих утверждений верны?

- 1) Один из углов треугольника всегда не превышает  $60$  градусов.
- 2) Две прямые, параллельные третьей прямой, перпендикулярны.
- 3) Если диагонали параллелограмма равны, то это прямоугольник.

В ответ запишите номера выбранных утверждений без пробелов, запятых и других дополнительных символов.

Ответ: \_\_\_\_\_.



**Не забудьте перенести все ответы в бланк ответов № 1 в соответствии с инструкцией по выполнению работы. Проверьте, чтобы каждый ответ был записан в строке с номером соответствующего задания.**

### Часть 2

**При выполнении заданий 20–25 используйте БЛАНК ОТВЕТОВ № 2. Сначала укажите номер задания, а затем запишите его решение и ответ. Пишите чётко и разборчиво.**

- 20 Решите уравнение  $x^3 + 3x^2 = 4x + 12$ .

- 21 Теплоход проходит по течению реки до пункта назначения  $176$  км и после стоянки возвращается в пункт отправления. Найдите скорость течения, если скорость теплохода в неподвижной воде равна  $19$  км/ч, стоянка длится  $1$  час, а в пункт отправления теплоход возвращается через  $20$  часов после отплытия из него.

- 22 Постройте график функции

$$y = 5|x - 2| - x^2 + 5x - 6.$$

Определите, при каких значениях  $t$  прямая  $y = t$  имеет с графиком ровно три общие точки.

- 23 Катеты прямоугольного треугольника равны  $15$  и  $36$ . Найдите высоту, проведённую к гипотенузе.

- 24 В трапеции  $ABCD$  с основаниями  $AD$  и  $BC$  диагонали пересекаются в точке  $O$ . Докажите, что площади треугольников  $AOB$  и  $COD$  равны.

- 25 Середина  $M$  стороны  $AD$  выпуклого четырёхугольника  $ABCD$  равноудалена от всех его вершин. Найдите  $AD$ , если  $BC = 18$ , а углы  $B$  и  $C$  четырёхугольника равны соответственно  $132^\circ$  и  $93^\circ$ .



**Проверьте, чтобы каждый ответ был записан рядом с номером соответствующего задания.**