

Тренировочный вариант 161 10.03.2025 ОГЭ 2025

Основной государственный экзамен по МАТЕМАТИКЕ

Тренировочный вариант № 161

Инструкция по выполнению работы

Экзаменационная работа состоит из двух частей, включающих в себя 25 заданий. Часть 1 содержит 19 заданий, часть 2 содержит 6 заданий с развёрнутым ответом. На выполнение экзаменационной работы по математике отводится 3 часа 55 минут (235 минут).

Ответы к заданиям 7 и 13 запишите в бланк ответов № 1 в виде одной цифры, которая соответствует номеру правильного ответа.

Для остальных заданий части 1 ответом является число или последовательность цифр. Ответ запишите в поле ответа в тексте работы, а затем перенесите в бланк ответов № 1. Если получилась обыкновенная дробь, ответ запишите в виде десятичной. Решения заданий части 2 и ответы к ним запишите на бланке ответов № 2. Задания можно выполнять в любом порядке. Текст задания переписывать не надо, необходимо только указать его номер. Все бланки заполняются яркими чёрными чернилами. Допускается использование гелевой или капиллярной ручки.

Сначала выполняйте задания части 1. Начать советуем с тех заданий, которые вызывают у Вас меньше затруднений, затем переходите к другим заданиям. Для экономии времени пропускайте задание, которое не удаётся выполнить сразу, и переходите к следующему. Если у Вас останется время, Вы сможете вернуться к пропущенным заданиям. При выполнении части 1 все необходимые вычисления, преобразования выполняйте в черновике.

Если задание содержит рисунок, то на нём непосредственно в тексте работы можно выполнять необходимые Вам построения. Рекомендуем внимательно читать условие и проводить проверку полученного ответа. При выполнении работы Вы можете воспользоваться справочными материалами, выданными вместе с вариантом КИМ, и линейкой. Баллы, полученные Вами за выполненные задания, суммируются. Постарайтесь выполнить как можно больше заданий и набрать наибольшее количество баллов.

При выполнении работы Вы можете воспользоваться справочными материалами, выданными вместе с вариантом КИМ и линейкой.

Для прохождения аттестационного порога необходимо набрать не менее 8 баллов, из которых не менее 2 баллов должны быть получены за решение заданий по геометрии (задания 15–19, 23–25).

После завершения работы проверьте, чтобы ответ на каждое задание в бланках ответов № 1 и № 2 был записан под правильным номером.

Желаем успеха!

Часть 1

Прочитайте внимательно текст и выполните задание 1-5.

Автомобильное колесо, как правило, представляет из себя металлический диск с установленной на него резиновой шиной. Диаметр диска совпадает с диаметром внутреннего отверстия в шине. Для маркировки автомобильных шин применяется единая система обозначений. Например, 195/65 R15 (рис. 1). Первое число (число 195 в приведённом примере) обозначает ширину шины в миллиметрах (параметр B на рисунке 2). Второе число (число 65 в приведённом примере) — процентное отношение высоты боковины (параметр H на рисунке 2) к ширине



Рис. 1

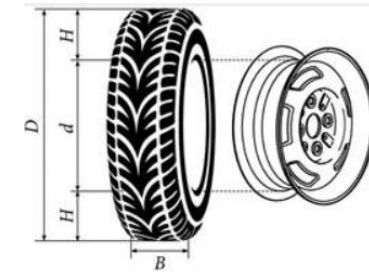


Рис. 2

шины, то есть $100 \cdot \frac{H}{B}$. Последующая

буква обозначает тип конструкции шины. В данном примере буква R означает, что шина радиальная, то есть нити каркаса в боковине шины расположены вдоль радиусов колеса. На всех легковых автомобилях применяются шины радиальной конструкции. За обозначением типа конструкции шины идёт число, указывающее диаметр диска колеса d в дюймах (в одном дюйме 25,4 мм). Таким образом, общий диаметр колеса D легко найти, зная диаметр диска и высоту боковины. Возможны дополнительные маркировки, обозначающие допустимую нагрузку на шину, сезонность использования, тип дорожного покрытия и другие параметры. Завод производит внедорожники определённой модели и устанавливает на них колёса с шинами маркировки 205/55 R16.

1. Завод допускает установку шин с другими маркировками. В таблице показаны разрешённые размеры шин.

Тренировочный вариант 161 10.03.2025 ОГЭ 2025

Ширина шины (мм)	Диаметр диска (дюймы)		
	16	17	18
205	205/55	—	—
215	215/55; 215/50	215/45	215/40
225	225/50; 225/45	225/45; 225/40	225/40

Шины какой наименьшей ширины можно устанавливать на автомобиль, если диаметр диска равен 17 дюймам? Ответ дайте в миллиметрах.

Ответ: _____

2. На сколько миллиметров радиус колеса с шиной маркировки 205/45 R17 меньше, чем радиус колеса с шиной маркировки 215/55 R17?

Ответ: _____

3. На сколько миллиметров увеличится диаметр колеса, если заменить колёса, установленные на заводе, колёсами с шинами маркировки 225/45 R17?

Ответ: _____

4. Найдите диаметр колеса автомобиля, выходящего с завода. Ответ дайте в миллиметрах.

Ответ: _____

5. На сколько процентов увеличится пробег автомобиля при одном обороте колеса, если заменить колёса, установленные на заводе, колёсами с шинами маркировки 215/55 R16? Результат округлите до десятых.

Ответ: _____

6. Найдите значение выражения $9,2 - 2,4$

Ответ: _____

7. Между какими целыми числами заключено число $\sqrt{59}$?

1) 7 и 8 2) 29 и 30 3) 58 и 60 4) 3 и 4

Ответ: _____

8. Найдите значение выражения $(8 \cdot 10^2)^3 \cdot (12 \cdot 10^{-5})$.

Ответ: _____

9. Найдите корень уравнения $-2x - 7 = -4x$

Ответ: _____

10. Родительский комитет закупил 20 пазлов для подарков детям в связи с окончанием учебного года, из них 10 с машинами и 10 с видами городов. Подарки распределяются случайным образом между 20 детьми, среди которых есть Коля. Найдите вероятность того, что Коле достанется пазл с машиной.

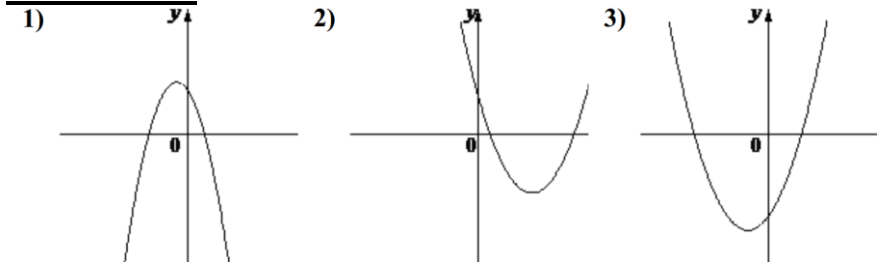
Ответ: _____

11. На рисунке изображены графики функций вида $y = ax^2 + bx + c$. Установите соответствие между знаками коэффициентов a и c и графиками функций.

КОЭФФИЦИЕНТЫ

А) $a > 0, c < 0$ Б) $a > 0, c > 0$ В) $a < 0, c > 0$

ГРАФИКИ



В таблице под каждой буквой укажите соответствующий номер

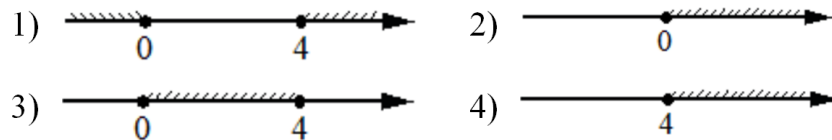
А	Б	В

Тренировочный вариант 161 10.03.2025 ОГЭ 2025

12. Кинетическая энергия тела массой m кг, движущегося со скоростью v м/с, вычисляется по формуле $E = \frac{mv^2}{2}$ и измеряется в джоулях (Дж). Известно, что автомобиль массой 2000 кг обладает кинетической энергией 289 тысяч джоулей. Найдите скорость этого автомобиля в метрах в секунду.

Ответ: _____

13. Укажите решение неравенства $4x - x^2 \leq 0$



Ответ: _____

14. Водитель автомобиля начал торможение. За секунду после начала торможения автомобиль проехал 30 м, а за каждую следующую секунду он проезжал на 4 м меньше, чем за предыдущую. Сколько метров автомобиль прошёл за первые 5 секунд торможения?

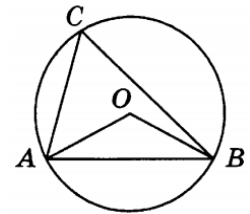
Ответ: _____

15. Косинус острого угла A треугольника ABC равен $\frac{\sqrt{21}}{5}$.

Найдите $\sin A$.

Ответ: _____

16. Треугольник ABC вписан в окружность с центром в точке O . Точки O и C лежат в одной полуплоскости относительно прямой AB . Найдите угол ACB , если угол AOB равен 153° . Ответ дайте в градусах.



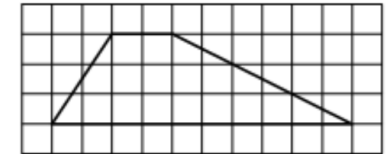
Ответ: _____

17. Один из углов равнобедренной трапеции равен 131° . Найдите меньший угол этой трапеции. Ответ дайте в градусах.



Ответ: _____

18. На клетчатой бумаге с размером клетки 1×1 изображена трапеция. Найдите длину её средней линии.



Ответ: _____

19. Какое из следующих утверждений **верно**?

- 1) Диагональ трапеции делит её на два равных треугольника.
- 2) Косинус острого угла прямоугольного треугольника равен отношению гипотенузы к прилежащему к этому углу катету.
- 3) Расстояние от точки, лежащей на окружности, до центра окружности равно радиусу.

В ответ запишите номер выбранного утверждения.

Ответ: _____

Не забудьте перенести в бланк ответов №1 в соответствии с инструкцией по выполнению работы

Часть 2

Для выполнения задания 20-25 используйте БЛАНК ОТВЕТОВ №2. Сначала укажите номер задания, а затем запишите его решение и ответ. Пишите чётко и разборчиво

Модуль «Алгебра»

20. Решите уравнение: $\frac{1}{(x-2)^2} - \frac{1}{x-2} - 6 = 0$.

21. Два бегуна одновременно стартовали в одном направлении из одного и того же места круговой трассы в беге на несколько кругов. Спустя один час, когда одному из них оставалось 4 км до окончания первого круга, ему сообщили, что второй бегун пробежал первый круг 20 минут назад. Найдите скорость первого бегуна, если известно, что она на 11 км/ч меньше скорости второго.

22. Постройте график функции

$$y = |x^2 - 4x + 3|.$$

Какое наибольшее число общих точек может иметь график данной функции с прямой, параллельной оси абсцисс?

Модуль «Геометрия»

23. Отрезки AB и DC лежат на параллельных прямых, а отрезки AC и BD пересекаются в точке M . Найдите MC , если $AB = 12$, $DC = 48$, $AC = 35$.
24. Сторона AB параллелограмма $ABCD$ вдвое больше стороны BC . Точка L — середина стороны AB . Докажите, что CL — биссектриса угла BCD .
25. Биссектрисы углов A и B параллелограмма $ABCD$ пересекаются в точке K . Найдите площадь параллелограмма, если $BC = 18$, а расстояние от точки K до стороны AB равно 1.

Тренировочный вариант 161 10.03.2025 ОГЭ 2025

ОТВЕТЫ К ТРЕНИРОВОЧНОМУ ВАРИАНТУ 161

1	215
2	26
3	2,4
4	631,9
5	1,7
6	6,8
7	1
8	61440
9	3,5
10	0,5
11	321
12	17
13	1
14	110
15	0,4
16	76,5
17	49
18	6
19	3

20	$\frac{3}{2}; \frac{7}{3}$	<u>Решение</u>
21	10.	<u>Решение</u>
22	4.	
23	28.	
24		
25	36.	