

Основной государственный экзамен по МАТЕМАТИКЕ

Тренировочный вариант № 160

Инструкция по выполнению работы

Экзаменационная работа состоит из двух частей, включающих в себя 25 заданий. Часть 1 содержит 19 заданий, часть 2 содержит 6 заданий с развёрнутым ответом. На выполнение экзаменационной работы по математике отводится 3 часа 55 минут (235 минут).

Ответы к заданиям 7 и 13 запишите в бланк ответов № 1 в виде одной цифры, которая соответствует номеру правильного ответа.

Для остальных заданий части 1 ответом является число или последовательность цифр. Ответ запишите в поле ответа в тексте работы, а затем перенесите в бланк ответов № 1. Если получилась обыкновенная дробь, ответ запишите в виде десятичной. Решения заданий части 2 и ответы к ним запишите на бланке ответов № 2. Задания можно выполнять в любом порядке. Текст задания переписывать не надо, необходимо только указать его номер. Все бланки заполняются яркими чёрными чернилами. Допускается использование гелевой или капиллярной ручки.

Сначала выполняйте задания части 1. Начать советуем с тех заданий, которые вызывают у Вас меньше затруднений, затем переходите к другим заданиям. Для экономии времени пропускайте задание, которое не удаётся выполнить сразу, и переходите к следующему. Если у Вас останется время, Вы сможете вернуться к пропущенным заданиям. При выполнении части 1 все необходимые вычисления, преобразования выполняйте в черновике.

Если задание содержит рисунок, то на нём непосредственно в тексте работы можно выполнять необходимые Вам построения. Рекомендуем внимательно читать условие и проводить проверку полученного ответа. При выполнении работы Вы можете воспользоваться справочными материалами, выданными вместе с вариантом КИМ, и линейкой. Баллы, полученные Вами за выполненные задания, суммируются. Постарайтесь выполнить как можно больше заданий и набрать наибольшее количество баллов.

При выполнении работы Вы можете воспользоваться справочными материалами, выданными вместе с вариантом КИМ и линейкой.

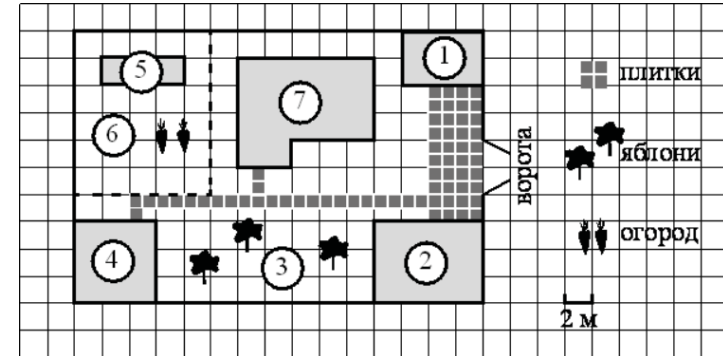
Для прохождения аттестационного порога необходимо набрать не менее 8 баллов, из которых не менее 2 баллов должны быть получены за решение заданий по геометрии (задания 15–19, 23–25).

После завершения работы проверьте, чтобы ответ на каждое задание в бланках ответов № 1 и № 2 был записан под правильным номером.

Желаем успеха!

Часть 1

Прочитайте внимательно текст и выполните задание 1-5.



На плане изображён дачный участок по адресу: п. Сосновка, ул. Зелёная, д. 19 (сторона каждой клетки на плане равна 2 м). Участок имеет прямоугольную форму. Выезд и въезд осуществляются через единственные ворота. При входе на участок слева от ворот находится гараж. Справа от ворот находится сарай площадью 24 кв. м, а чуть подальше — жилой дом. Напротив жилого дома расположены яблоневые посадки. Также на участке есть баня, к которой ведёт дорожка, выложенная плиткой, и огород с теплицей внутри (огород отмечен на плане цифрой 6). Все дорожки внутри участка имеют ширину 1 м и вымощены тротуарной плиткой размером 1 м×1 м. Между гаражом и сараем находится площадка, вымощенная такой же плиткой. К участку подведено электричество. Имеется магистральное газоснабжение.

- Для объектов, указанных в таблице, определите, какими цифрами они обозначены на плане. Заполните таблицу, в бланк ответов перенесите последовательность четырёх цифр.

Объекты	жилой дом	яблони	теплица	гараж
Цифры				

Ответ: _____

- Плитки для садовых дорожек продаются в упаковках по 6 штук. Сколько упаковок плиток понадобилось, чтобы выложить все дорожки?

Ответ: _____

Тренировочный вариант 160 03.03.2025 ОГЭ 2025

3. Найдите площадь, которую занимает баня. Ответ дайте в квадратных метрах.

Ответ: _____

4. На сколько процентов площадь, которую занимает теплица, меньше площади, которую занимает гараж?

Ответ: _____

5. Хозяин участка планирует установить в жилом доме систему отопления. Он рассматривает два варианта: электрическое или газовое отопление. Цены на оборудование и стоимость его установки, данные о расходе газа, электроэнергии и их стоимости даны в таблице.

	Нагреватель (котёл)	Прочее оборудование и монтаж	Средн. расход газа/средн. потребл. мощность	Стоимость газа/электроэнергии
Газовое отопление	25 000 руб.	17 552 руб.	1,3 куб. м/ч	5,2 руб./куб. м
Электр. отопление	21 000 руб.	15 000 руб.	5,2 кВт	4,1 руб./(кВт·ч)


Обдумав оба варианта, хозяин решил установить газовое отопление. Через сколько часов непрерывной работы отопления экономия от использования газа вместо электричества компенсирует разницу в стоимости покупки и установки газового и электрического оборудования?

Ответ: _____

6. Найдите значение выражения $4,7 - 8,2$

Ответ: _____

7. На координатной прямой отмечены числа p , q и r .



Какая из разностей $q - p$, $r - q$, $p - r$ отрицательна?

1) $q - p$ 2) $r - q$ 3) $p - r$ 4) ни одна из них

Ответ: _____

8. Найдите значение выражения $a^7 \cdot a^{19} : a^{23}$ при $a = 2$.

Ответ: _____

9. Решите уравнение $x^2 - 10x + 21 = 0$. Если уравнение имеет более одного корня, то в ответ запишите больший из корней

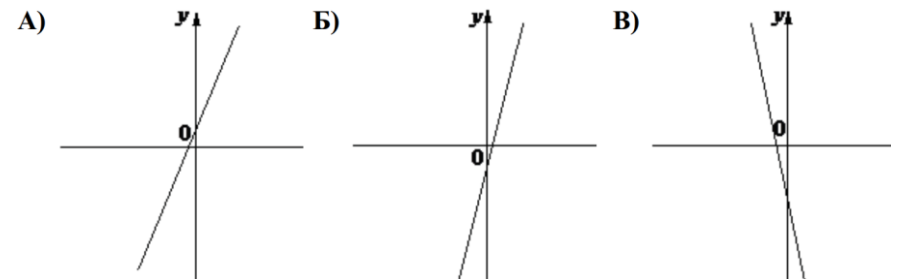
Ответ: _____

10. В среднем из 50 карманных фонариков, поступивших в продажу, шесть неисправных. Найдите вероятность того, что выбранный наудачу в магазине фонарик окажется исправен.

Ответ: _____

11. На рисунке изображены графики функций вида $y = kx + b$. Установите соответствие между графиками функций и знаками коэффициентов k и b .

ГРАФИКИ



КОЭФФИЦИЕНТЫ

1) $k > 0, b < 0$ 2) $k < 0, b < 0$ 3) $k > 0, b > 0$

В таблице под каждой буквой укажите соответствующий номер

А	Б	В

12. Сила Архимеда, выталкивающая на поверхность погружённое в воду тело, вычисляется по формуле $F = \rho g V$, где $\rho = 1000 \text{ кг/м}^3$ – плотность воды, $g = 9,8 \text{ м/с}^2$ – ускорение свободного падения, а V – объём тела в кубических метрах. Сила F измеряется в ньютонах. Найдите силу Архимеда, действующую на погружённое в воду тела объёмом $0,05$ куб. м. Ответ дайте в ньютонах.

Ответ: _____

13. Укажите решение неравенства $3x - x^2 > 0$

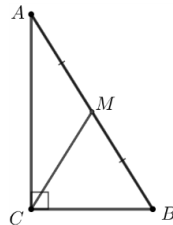
- 1) $(3; +\infty)$ 2) $(-\infty; 0) \cup (3; +\infty)$
 3) $(0; +\infty)$ 4) $(0; 3)$

Ответ: _____

14. Каучуковый мячик с силой бросили на асфальт. Отскочив, мячик подпрыгнул на $5,4$ м, а при каждом следующем прыжке он поднимался на высоту в три раза меньше предыдущей. При каком по счёту прыжке мячик в первый раз не достигнет высоты 10 см?

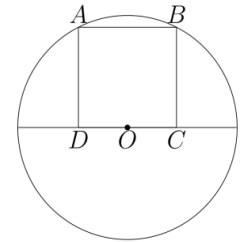
Ответ: _____

15. В треугольнике ABC угол C равен 90° , M – середина стороны AB , $AB = 20$, $BC = 10$. Найдите CM .



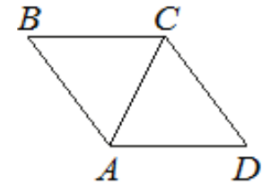
Ответ: _____

16. Точка O является серединой стороны CD квадрата $ABCD$. Радиус окружности с центром в точке O , проходящей через вершину A , равен $1,5$. Найдите площадь квадрат $ABCD$.



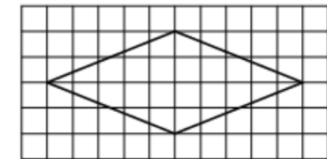
Ответ: _____

17. В ромбе $ABCD$ угол ABC равен 40° . Найдите угол ACD . Ответ дайте в градусах.



Ответ: _____

18. На клетчатой бумаге с размером клетки 1×1 изображён ромб. Найдите площадь этого ромба.



Ответ: _____

19. Какое из следующих утверждений **верно**?

- 1) Отношение площадей подобных треугольников равно коэффициенту подобия.
- 2) Диагонали прямоугольника точкой пересечения делятся пополам.
- 3) Биссектриса треугольника делит пополам сторону, к которой проведена.

В ответ запишите номер выбранного утверждения.

Ответ: _____

Не забудьте перенести в бланк ответов №1 в соответствии с инструкцией по выполнению работы

Часть 2

Для выполнения задания 20-25 используйте БЛАНК ОТВЕТОВ №2. Сначала укажите номер задания, а затем запишите его решение и ответ. Пишите чётко и разборчиво

Модуль «Алгебра»

20. Решите систему уравнений:
$$\begin{cases} 9x^2 - 14x = y, \\ 9x - 14 = y. \end{cases}$$
21. Свежие фрукты содержат 88% воды, а высушенные — 30%. Сколько требуется свежих фруктов для приготовления 72 кг высушенных фруктов?

22. Постройте график функции

$$y = \begin{cases} -x^2 + 8x - 17 & \text{при } x \geq 2, \\ -x - 2 & \text{при } x < 2. \end{cases}$$

Определите, при каких значениях m прямая $y = m$ имеет с графиком две общие точки.

Модуль «Геометрия»

23. Биссектриса угла A параллелограмма $ABCD$ пересекает сторону BC в точке K . Найдите периметр параллелограмма, если $BK = 9$, $CK = 15$.
24. Окружности с центрами в точках P и Q не имеют общих точек, и ни одна из них не лежит внутри другой. Внутренняя общая касательная к этим окружностям делит отрезок, соединяющий их центры, в отношении $a:b$. Докажите, что диаметры этих окружностей относятся как $a:b$.
25. Окружности радиусов 33 и 99 касаются внешним образом. Точки A и B лежат на первой окружности, точки C и D — на второй. При этом AC и BD — общие касательные окружностей. Найдите расстояние между прямыми AB и CD .

Тренировочный вариант 160 03.03.2025 ОГЭ 2025

ОТВЕТЫ К ТРЕНИРОВОЧНОМУ ВАРИАНТУ 160

1	7352
2	5
3	36
4	75
5	450
6	-3,5
7	3
8	8
9	7
10	0,88
11	312
12	490
13	4
14	5
15	10
16	1,8
17	70
18	20
19	2

20	$(1; -5), \left(\frac{14}{9}; 0\right).$
21	420.
22	$[-5; -4] \cup \{-1\}.$
23	66.
24	
25	99.