

Тренировочный вариант 156 03.02.2025 ОГЭ 2025

Основной государственный экзамен по МАТЕМАТИКЕ

Тренировочный вариант № 156

Инструкция по выполнению работы

Экзаменационная работа состоит из двух частей, включающих в себя 25 заданий. Часть 1 содержит 19 заданий, часть 2 содержит 6 заданий с развёрнутым ответом. На выполнение экзаменационной работы по математике отводится 3 часа 55 минут (235 минут).

Ответы к заданиям 7 и 13 запишите в бланк ответов № 1 в виде одной цифры, которая соответствует номеру правильного ответа.

Для остальных заданий части 1 ответом является число или последовательность цифр. Ответ запишите в поле ответа в тексте работы, а затем перенесите в бланк ответов № 1. Если получилась обыкновенная дробь, ответ запишите в виде десятичной. Решения заданий части 2 и ответы к ним запишите на бланке ответов № 2. Задания можно выполнять в любом порядке. Текст задания переписывать не надо, необходимо только указать его номер. Все бланки заполняются яркими чёрными чернилами. Допускается использование гелевой или капиллярной ручки.

Сначала выполняйте задания части 1. Начать советуем с тех заданий, которые вызывают у Вас меньше затруднений, затем переходите к другим заданиям. Для экономии времени пропускайте задание, которое не удаётся выполнить сразу, и переходите к следующему. Если у Вас останется время, Вы сможете вернуться к пропущенным заданиям. При выполнении части 1 все необходимые вычисления, преобразования выполняйте в черновике.

Если задание содержит рисунок, то на нём непосредственно в тексте работы можно выполнять необходимые Вам построения. Рекомендуем внимательно читать условие и проводить проверку полученного ответа. При выполнении работы Вы можете воспользоваться справочными материалами, выданными вместе с вариантом КИМ, и линейкой. Баллы, полученные Вами за выполненные задания, суммируются. Постарайтесь выполнить как можно больше заданий и набрать наибольшее количество баллов.

При выполнении работы Вы можете воспользоваться справочными материалами, выданными вместе с вариантом КИМ и линейкой.

Для прохождения аттестационного порога необходимо набрать не менее 8 баллов, из которых не менее 2 баллов должны быть получены за решение заданий по геометрии (задания 15–19, 23–25).

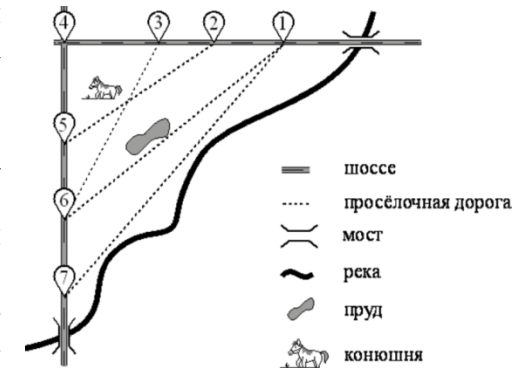
После завершения работы проверьте, чтобы ответ на каждое задание в бланках ответов № 1 и № 2 был записан под правильным номером.

Желаем успеха!

Часть 1

Прочитайте внимательно текст и выполните задание 1-5.

На рисунке изображён план сельской местности. Таня на летних каникулах приезжает в гости к дедушке в деревню Антоновка (на плане обозначена цифрой 1). В конце каникул дедушка на машине собирается отвезти Таню на автобусную станцию, которая находится в деревне Богданово. Из Антоновки в Богданово можно проехать по просёлочной дороге мимо реки. Есть другой путь — по шоссе до деревни Ванютино, где нужно повернуть под прямым углом налево на другое шоссе, ведущее в Богданово. Третий маршрут проходит по просёлочной дороге мимо пруда до деревни Горюново, где можно свернуть на шоссе до Богданово. Четвёртый маршрут пролегает по шоссе до деревни Доломино, от Доломино до Горюново по просёлочной дороге мимо конюшни и от Горюново до Богданово по шоссе. Ещё один маршрут проходит по шоссе до деревни Егорка, по просёлочной дороге мимо конюшни от Егорки до Жилино и по шоссе от Жилино до Богданово. Шоссе и просёлочные дороги образуют прямоугольные треугольники. По шоссе Таня с дедушкой едут со скоростью 50 км/ч, а по просёлочным дорогам — со скоростью 30 км/ч. Расстояние от Антоновки до Доломино равно 12 км, от Доломино до Егорки — 4 км, от Егорки до Ванютино — 12 км, от Горюново до Ванютино — 15 км, от Ванютино до Жилино — 9 км, а от Жилино до Богданово — 12 км.



1. Пользуясь описанием, определите, какими цифрами на плане обозначены населённые пункты. Заполните таблицу, в бланк ответов перенесите последовательность четырёх цифр без пробелов, запятых и других дополнительных символов.

Тренировочный вариант 156 03.02.2025 ОГЭ 2025

Деревни	Богданово	Горюново	Доломино	Егорка
Цифры				

Ответ: _____

2. Найдите расстояние от Горюново до Жилино по шоссе. Ответ дайте в километрах.

Ответ: _____

3. Найдите расстояние от Антоновки до Горюново по прямой. Ответ дайте в километрах.

Ответ: _____

4. Сколько минут затратят на дорогу Таня с бабушкой из Антоновки в Богданово, если поедут через Егорку и Жилино мимо конюшни?

Ответ: _____

5. На шоссе машина бабушки расходует 6,5 литра бензина на 100 км. Известно, что на путь из Антоновки до Богданово через Ванютино и путь через Горюново мимо пруда ей необходим один и тот же объём бензина. Сколько литров бензина на 100 км машина бабушки расходует на просёлочных дорогах?

Ответ: _____

6. Найдите значение выражения $8,4 + 3,7$

Ответ: _____

7. Какому из данных промежутков принадлежит число $\frac{7}{9}$?

1) $[0,5;0,6]$ 2) $[0,6;0,7]$ 3) $[0,7;0,8]$ 4) $[0,8;0,9]$

Ответ: _____

8. Найдите значение выражения $(16 \cdot 10^{-2})^2 \cdot (13 \cdot 10^4)$.

Ответ: _____

9. Найдите корень уравнения $6x + 1 = -4x$

Ответ: _____

10. У бабушки 25 чашек: 5 с красными цветами, остальные с синими. Бабушка наливает чай в случайно выбранную чашку. Найдите вероятность того, что это будет чашка с синими цветами.

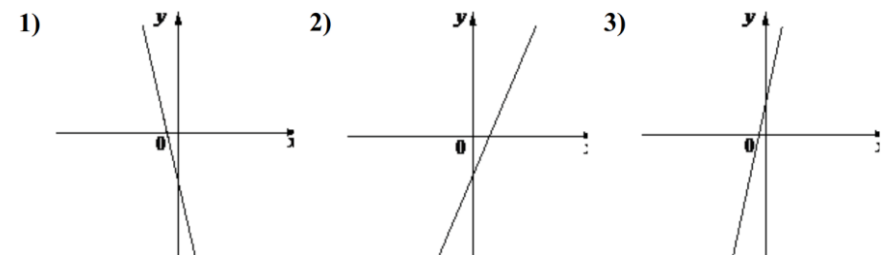
Ответ: _____

11. На рисунке изображены графики функций вида $y = kx + b$. Установите соответствие между знаками коэффициентов k и b графиками функций.

КОЭФФИЦИЕНТЫ

А) $k > 0, b < 0$ Б) $k > 0, b > 0$ В) $k < 0, b < 0$

ГРАФИКИ



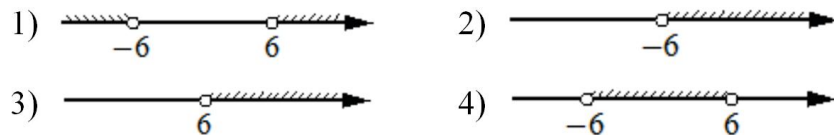
В таблице под каждой буквой укажите соответствующий номер

А	Б	В

12. Энергия заряженного конденсатора W (в джоулях) вычисляется по формуле $W = \frac{CU^2}{2}$, где C — ёмкость конденсатора (в фарадах), а U — разность потенциалов на обкладках конденсатора (в вольтах). Найдите энергию конденсатора ёмкостью $2 \cdot 10^{-4}$ фарад, если разность потенциалов на обкладках конденсатора равна 13 вольт. Ответ дайте в джоулях.

Ответ: _____

13. Укажите решение неравенства $x^2 > 36$

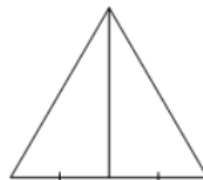


Ответ: _____

14. У Тани есть теннисный мячик. Она со всей силы бросила его об асфальт. После первого отскока мячик подлетел на высоту 480 см, а после каждого следующего отскока от асфальта подлетал на высоту в два раза меньше предыдущей. После какого по счёту отскока высота, на которую подлетит мячик, станет меньше 10 см?

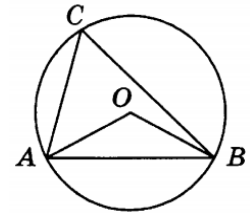
Ответ: _____

15. Медиана равностороннего треугольника равна $13\sqrt{3}$. Найдите сторону этого треугольника.



Ответ: _____

16. Треугольник ABC вписан в окружность с центром в точке O . Точки O и C лежат в одной полуплоскости относительно прямой AB . Найдите угол ACB , если угол AOB равен 47° . Ответ дайте в градусах.



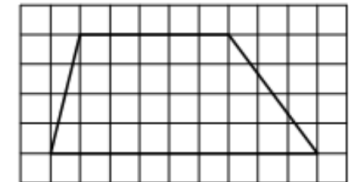
Ответ: _____

17. Основания трапеции равны 5 и 13, а высота равна 9. Найдите площадь этой трапеции.



Ответ: _____

18. На клетчатой бумаге с размером клетки 1×1 изображена трапеция. Найдите её площадь.



Ответ: _____

19. Какое из следующих утверждений **верно**?

- 1) Площадь параллелограмма равна половине произведения его диагоналей.
- 2) Сумма углов прямоугольного треугольника равна 90 градусам.
- 3) Биссектрисы треугольника пересекаются в точке, которая является центром окружности, вписанной в треугольник.

В ответ запишите номер выбранного утверждения.

Ответ: _____

Не забудьте перенести в бланк ответов №1 в соответствии с инструкцией по выполнению работы

Часть 2

Для выполнения задания 20-25 используйте БЛАНК ОТВЕТОВ №2. Сначала укажите номер задания, а затем запишите его решение и ответ. Пишите чётко и разборчиво

Модуль «Алгебра»

20. Решите систему уравнений:
$$\begin{cases} 2x^2 + 4y^2 = 24, \\ 4x^2 + 8y^2 = 24x. \end{cases}$$

21. Первый рабочий за час делает на 9 деталей больше, чем второй, и выполняет заказ, состоящий из 216 деталей, на 4 часа быстрее, чем второй рабочий, выполняющий такой же заказ. Сколько деталей в час делает первый рабочий?

22. Постройте график функции

$$y = \frac{x - 3}{x^2 - 3x}.$$

Определите, при каких значениях k прямая $y = kx$ имеет с графиком ровно одну общую точку.

Модуль «Геометрия»

23. Точка H является основанием высоты, проведённой из вершины прямого угла B треугольника ABC к гипотенузе AC . Найдите AB , если $AH = 6$, $AC = 24$.

24. Биссектрисы углов A и B параллелограмма $ABCD$ пересекаются в точке N , лежащей на стороне CD . Докажите, что N — середина CD .

25. Точки M и N лежат на стороне AC треугольника ABC на расстояниях соответственно 4 и 15 от вершины A . Найдите радиус окружности, проходящей через точки M и N и касающейся луча AB , если $\cos \angle BAC = \frac{\sqrt{15}}{4}$.

Тренировочный вариант 156 03.02.2025 ОГЭ 2025

ОТВЕТЫ К ТРЕНИРОВОЧНОМУ ВАРИАНТУ 156

1	7632
2	6
3	25
4	54
5	9,1
6	12,1
7	3
8	3328
9	-0,1
10	0,8
11	231
12	0,0169
13	1
14	7
15	26
16	23,5
17	81
18	28
19	3

20	$(2; -2), (2; 2).$
21	27.
22	$\frac{1}{9}.$
23	12.
24	
25	8.