

ВСЕРОССИЙСКАЯ ОЛИМПИАДА ШКОЛЬНИКОВ ПО ОСНОВАМ  
БЕЗОПАСНОСТИ ЖИЗНЕДЕЯТЕЛЬНОСТИ

(ШКОЛЬНЫЙ ЭТАП)

ТЕОРЕТИЧЕСКИЙ ТУР

I возрастная группа (5-6 классы)

**Уважаемый участник олимпиады!**

Вам предстоит выполнить теоретические (письменные) и тестовые задания.

Время выполнения заданий теоретического тура 45 минут.

Выполнение теоретических (письменных) заданий целесообразно организовать следующим образом:

- не спеша, внимательно прочитайте задание и определите, наиболее верный и полный ответ;
- отвечая на теоретический вопрос, обдумайте и сформулируйте конкретный ответ только на поставленный вопрос;
- если Вы отвечаете на задание, связанное с заполнением таблицы или схемы, не старайтесь детализировать информацию, вписывайте только те сведения или данные, которые указаны в вопросе;
- особое внимание обратите на задания, в выполнении которых требуется выразить Ваше мнение с учетом анализа ситуации или поставленной проблемы. Внимательно и вдумчиво определите смысл вопроса и логику ответа (последовательность и точность изложения). Отвечая на вопрос, предлагайте свой вариант решения проблемы, при этом ответ должен быть кратким, но содержать необходимую информацию;
- после выполнения всех предложенных заданий еще раз удостоверьтесь в правильности выбранных Вами ответов и решений.

Выполнение тестовых заданий целесообразно организовать следующим образом:

- не спеша, внимательно прочитайте тестовое задание;
- определите, какой из предложенных вариантов ответа наиболее верный и полный;
- напишите букву, соответствующую выбранному Вами ответу;
- продолжайте, таким образом, работу до завершения выполнения тестовых заданий;
- после выполнения всех предложенных заданий еще раз удостоверьтесь в правильности ваших ответов;
- если потребуется корректировка выбранного Вами варианта ответа, то неправильный вариант ответа зачеркните крестиком, и рядом напишите новый.





Предупреждаем Вас, что:

- при оценке тестовых заданий, где необходимо определить один правильный ответ, 0 баллов выставляется за неверный ответ и в случае, если участником отмечены несколько ответов (в том числе правильный), или все ответы;
- при оценке тестовых заданий, где необходимо определить все правильные ответы, 0 баллов выставляется, если участником отмечены неверные ответы, большее количество ответов, чем предусмотрено в задании (в том числе правильные ответы) или все ответы.

Задание теоретического тура считается выполненным, если Вы вовремя сдаете его членам жюри. Максимальная оценка – **100** баллов.




## МОДУЛЬ 1

**ЗАДАНИЕ 1.** Впишите в правых окошках названия (значения) изображенных знаков дорожного движения.

*Максимальный балл – 12*

**ЗАДАНИЕ 2.** В условиях туристического похода может возникнуть необходимость преодолеть водные препятствия. На рисунке представлено несколько вариантов переправ. Впишите их названия.

*Максимальный балл – 6*

**ЗАДАНИЕ 3.** Пешеход, переходя дорогу, споткнулся о неровность на проезжей части и, ударившись о светофор, получил травму. Является ли данное событие дорожно-транспортным происшествием (ДТП)? Дайте обоснованный ответ.

---



---



---

*Максимальный балл – 7*

**ЗАДАНИЕ 4.** Сформулируйте подробно общие правила вызова специальных служб (скорая помощь, полиция, пожарная охрана, спасатели и др.) по телефону при возникновении опасных или аварийных ситуаций в доме, квартире.

---

---

---

---

*Максимальный балл – 12*

**ЗАДАНИЕ 5.** Вы спускаетесь по лестнице с 4-го этажа, на котором находится ваша квартира. На лестничной площадке, между вторым и первым этажами чувствуете специфический запах и понимаете, что где-то происходит утечка газа. Примите решение, определив алгоритм Ваших действий, и заполните таблицу:

1	
2	
3	
4	

*Максимальный балл – 8*

**ЗАДАНИЕ 6.** При пожаре в школе произошло сильное задымление. Какие правила безопасности необходимо выполнять, эвакуируясь из задымленного здания?

---

---

---

---

*Максимальный балл – 6*

**ЗАДАНИЕ 7.** Какие опасные ситуации возможны в доме (квартире) и каковы их причины? Заполните до конца таблицу.

№	Наименование опасных ситуаций	Причины опасных ситуаций
1.		Неосторожное обращение и шалость детей с огнем; нарушение правил пользования электробытовыми и электронагревательными



		приборами; нарушение правил хранения и использования горючих и легковоспламеняющихся жидкостей; утечка бытового газа; неосторожное обращение с пиротехническими изделиями и др.
2.		Использование неисправных электроприборов и электрооборудования, ремонт не обесточенных электроприборов, игры детей с работающими электроприборами, прикосновение открытой частью тела (особенно мокрыми рукам) к неисправной электропроводке, оголенным или оборванным электропроводам.
3.		Нарушение правил пользования и хранения препаратов бытовой химии; использование неизвестных препаратов и препаратов, приобретенных не в магазине разлитые или рассыпанные препараты.

Максимальный балл – 6

## МОДУЛЬ 2

### Тестовые задания

№ п/п	Тестовые задания	Макс. балл
<i>Определите один правильный ответ</i>		
1	<p><b>В населенных пунктах разрешается движение транспортных средств со скоростью не более:</b></p> <p>а) 60 км/ч;  б) 40 км/ч;  в) 90 км/ч;  г) вопросы ограничения скорости регулируются муниципалитетами</p>	1

2		<p><b>Изображённые на рисунке грибы являются:</b></p> <p>а) условно съедобными;  б) съедобными;  в) не съедобными;  г) ядовитыми.</p>	1
3	<p><b>На перекрёстке работает светофор и стоит регулировщик. Какими сигналами должен руководствоваться пешеход в данном случае?</b></p> <p>а) светофора;  б) регулировщика;  в) дорожной обстановкой;  г) переход проезжей части в данном месте запрещён</p>		1
4		<p><b>Данный знак международной кодовой таблицы аварийных сигналов означает:</b></p> <p>а) нужны средства связи;  б) не можем взлететь;  в) задача не выполнена;  г) нет возможности к передвижению</p>	1
5	<p><b>Истечение крови из поврежденного сосуда называется:</b></p> <p>а) кровотечение;  б) кровеизвержение;  в) кровосмещение.</p>		1
6	<p><b>Во время движения велосипедист поднял левую руку, согнутую в локте вверх. Что означает данный жест?</b></p> <p>а) приветствие;  б) предупреждение о повороте налево;  в) предупреждение о повороте направо.</p>		1
7	<p><b>В Северном полушарии в полдень по местному времени Солнце будет находиться:</b></p> <p>а) на Востоке;  б) на Юге;  в) на Западе;  г) на Севере.</p>		1

8	<p><b>Асептика - это:</b></p> <p>а) меры по предотвращению попадания болезнетворных микроорганизмов в рану;</p> <p>б) меры по борьбе с болезнетворными микроорганизмами в ране;</p> <p>в) способы остановки кровотечения из раны.</p>	1
9	<p>Регулировщик на перекрёстке поднял руку вверх. Какому сигналу светофора соответствует этот жест?</p> <p>а) красному;</p> <p>б) желтому;</p> <p>в) зеленому.</p>	1
<b>Определите все правильные ответы</b>		
10	<p><b>Выберите из предложенных вариантов установленные требования к месту сооружения временного жилища:</b></p> <p>а) место должно находиться на берегу реки на уровне воды;</p> <p>б) место должно находиться на ровной возвышенной продуваемой площадке;</p> <p>в) место должно находиться среди сухостоя, который можно использовать для костра;</p> <p>г) возле площадки должен находиться источник воды и достаточно топлива;</p> <p>д) недалеко от площадки должна быть дорога или наезженная тропа;</p> <p>е) возле лагеря должна быть площадка (поляна) для подачи сигналов бедствия в случае необходимости</p>	9
11	<p><b>В каких из указанных мест не следует разводить костер?</b></p> <p>а) вблизи палаток;</p> <p>б) вблизи деревьев;</p> <p>в) вблизи железных дорог;</p> <p>г) вблизи линий электропередач.</p>	4
12	<p><b>Чтобы лучше адаптироваться к условиям горной местности необходимо:</b></p> <p>а) пить больше жидкости;</p> <p>б) больше спать;</p>	4

	<p>в) сократить физические нагрузки;</p> <p>г) пить меньше жидкости</p>	
13	<p><b>Как необходимо поступить человеку, если в подъезд вместе с ним входит незнакомец?</b></p> <p>а) не следует обращать на постороннего внимания;</p> <p>б) пропустить незнакомца вперёд;</p> <p>в) под любым предлогом задержаться у подъезда;</p> <p>г) войдя в подъезд побежать наверх.</p>	4
14	<p><b>Проблесковый маячок желтого или оранжевого цвета означает:</b></p> <p>а) перевозку крупногабаритных грузов, взрывчатых, легковоспламеняющихся, радиоактивных веществ;</p> <p>б) перевозку групп детей;</p> <p>в) выполнение работ по строительству, ремонту или содержанию дорог;</p> <p>г) не является специальным сигналом.</p>	4
15	<p><b>Для определения сторон горизонта можно использовать следующие признаки:</b></p> <p>а) в католических костелах алтарь находится на западе;</p> <p>б) двери синагог находятся на востоке;</p> <p>в) кресты, расположенные на православном храме, нижняя часть нижней перекладины указывает на запад, верхняя на восток;</p> <p>г) двери мечетей находятся на севере;</p> <p>д) колокольня православного храма находится с западной стороны.</p>	9

**ВСЕРОССИЙСКАЯ ОЛИМПИАДА ШКОЛЬНИКОВ ПО ОСНОВАМ БЕЗОПАСНОСТИ  
ЖИЗНЕДЕЯТЕЛЬНОСТИ  
РЕГИОНАЛЬНАЯ ПРЕДМЕТНО-МЕТОДИЧЕСКАЯ КОМИССИЯ  
КРИТЕРИИ И МЕТОДИКА ОЦЕНИВАНИЯ  
ВЫПОЛНЕННЫХ ОЛИМПИАДНЫХ ЗАДАНИЙ ТЕОРЕТИЧЕСКОГО ТУРА  
I возрастной группы (5-6 класс) школьного этапа всероссийской олимпиады  
школьников по основам безопасности жизнедеятельности**

**2023-2024 учебный год**

По теоретическому туру максимальная оценка результатов участника возрастной группы (5-6 классы) определяется арифметической суммой всех баллов, полученных за выполнение заданий и тестов и не должна превышать **100 баллов (57+43)**.

**МОДУЛЬ 1**

**ЗАДАНИЕ 1. Впишите в правых окошках названия (значения) изображенных знаков дорожного движения.**

	<i>Скользкая дорога</i>		<i>Велосипедная дорожка</i>
	<i>Стоянка запрещена по нечётным числам месяца</i>		<i>Надземный пешеходный переход</i>

**Оценка задания.** Максимальная оценка за правильно выполненное задание – *12 баллов*, при этом:

- за каждый правильный ответ начисляется по *3 балла*;

при отсутствии правильных ответов баллы не начисляются.

**ЗАДАНИЕ 2. В условиях туристического похода может возникнуть необходимость преодолеть водные препятствия. На рисунке представлено несколько вариантов переправ. Впишите их названия.**

		
<i>с шестом</i>	<i>шеренгой</i>	<i>по веревке со страховкой</i>

**Оценка задания.** Максимальная оценка за правильно выполненное задание – *6 баллов*, при этом:

- за каждый правильный ответ начисляется по *2 балла*;

при отсутствии правильных ответов баллы не начисляются.

**ЗАДАНИЕ 3.** Пешеход, переходя дорогу, споткнулся о неровность на проезжей части и, ударившись о светофор, получил травму. Является ли данное событие дорожно-транспортным происшествием (ДТП)? Дайте обоснованный ответ.

**Вариант правильного ответа:**

*ДТП - это событие, возникшее в процессе движения по дороге транспортного средства и с его участием, при котором погибли или ранены люди, повреждены транспортные средства, сооружения, грузы, либо причинен иной материальный ущерб. Таким образом, дорожные происшествия с участием только пешеходов не являются ДТП.*

**Оценка задания.** Максимальная оценка за правильно выполненное задание – *7 баллов*, при этом:

при отсутствии правильных ответов баллы не начисляются.

**ЗАДАНИЕ 4.** Сформулируйте подробно общие правила вызова специальных служб (скорая помощь, полиция, пожарная охрана, спасатели и др.) по телефону при возникновении опасных или аварийных ситуаций в доме, квартире.

**Вариант правильного ответа:**

*При вызове специальные службы по телефону, необходимо сообщить:*

- *причину вызова (пожар, несчастный случай, взрыв, нападение, запах газа, захват заложников и т.п.)*
- *свое имя и фамилию, а также номер телефона, откуда передается сообщение;*
- *точный адрес (улица, номер дома и квартиры, этаж, подъезд, код) или другие ориентиры.*

**Оценка задания.** Максимальная оценка за правильно выполненное задание – *12 баллов*, при этом:

- за каждый правильный ответ начисляется по *4 балла*;
- при отсутствии правильных ответов баллы не начисляются.

**ЗАДАНИЕ 5.** Вы спускаетесь по лестнице с 4-го этажа, на котором находится ваша квартира. На лестничной площадке, между вторым и первым этажами чувствуете специфический запах и понимаете, что где-то происходит утечка газа. Примите решение, определив алгоритм Ваших действий, и заполните таблицу:

1	<i>Оповестить окружающих о мерах предосторожности</i>
2	<i>Сообщить в аварийную газовую службу об аварии по телефону 040 или 112</i>
3	<i>Не включать и не выключать освещение</i>
4	<i>Организовать проветривание помещения (здания)</i>

**Оценка задания.** Максимальная оценка за правильно выполненное задание – *8 баллов*, при этом:

- за каждый правильный ответ начисляется по *2 балла*;

при отсутствии правильных ответов баллы не начисляются.

**ЗАДАНИЕ 6.** При пожаре в школе произошло сильное задымление. Какие правила безопасности необходимо выполнять, эвакуируясь из задымленного здания?

**Вариант правильного ответа:**

- *защитить глаза и органы дыхания, дышать через влажный носовой платок;*
- *накрыться плотной влажной тканью и двигаться, пригнувшись или ползком;*
- *не входить туда, где большая концентрация дыма.*

**Оценка задания.** Максимальная оценка за правильно выполненное задание – *6 баллов*, при этом:

- за каждый правильный ответ начисляется по *2 балла*;

при отсутствии правильных ответов баллы не начисляются.

**ЗАДАНИЕ 7.** Какие опасные ситуации возможны в доме (квартире) и каковы их причины? Заполните до конца таблицу.

<b>№</b>	<b>Наименование опасных ситуаций</b>	<b>Причины опасных ситуаций</b>
<b>1.</b>	<b><i>Пожар</i></b>	Неосторожное обращение и шалость детей с огнем; нарушение правил пользования электробытовыми и электронагревательными приборами; нарушение правил хранения и использования горючих и легковоспламеняющихся жидкостей; утечка бытового газа; неосторожное обращение с пиротехническими изделиями и др.
<b>2.</b>	<b><i>Поражение электрическим током</i></b>	Использование неисправных электроприборов и электрооборудования, ремонт не обесточенных электроприборов, игры детей с работающими электроприборами, прикосновение открытой частью тела (особенно мокрыми руками) к неисправной электропроводке, оголенным или оборванным электропроводам.
<b>3.</b>	<b><i>Отравление препаратами бытовой химии</i></b>	Нарушение правил пользования и хранения препаратов бытовой химии; использование неизвестных препаратов и препаратов, приобретенных не в магазине разлитые или рассыпанные препараты.

**Оценка задания.** Максимальная оценка за правильно выполненное задание – *6 баллов*, при этом:



- за каждый правильный ответ начисляется по *2 балла*;

при отсутствии правильных ответов баллы не начисляются.

## **МОДУЛЬ 2**

### **Тестовые задания**

<b>№ п/п</b>	<b>Тестовые задания</b>	<b>Макс. балл</b>
<b><i>Определите один правильный ответ</i></b>		

1	<p><b>В населенных пунктах разрешается движение транспортных средств со скоростью не более:</b></p> <p>а) 60 км/ч;  б) 40 км/ч;  в) 90 км/ч;  г) вопросы ограничения скорости регулируются муниципалитетами</p>	1
2	 <p><b>Изображённые на рисунке грибы являются:</b></p> <p>а) условно съедобными;  б) съедобными;  в) не съедобными;  г) ядовитыми.</p>	1
3	<p><b>На перекрёстке работает светофор и стоит регулировщик. Какими сигналами должен руководствоваться пешеход в данном случае?</b></p> <p>а) светофора;  б) регулировщика;  в) дорожной обстановкой;  г) переход проезжей части в данном месте запрещён</p>	1
4	 <p><b>Данный знак международной кодовой таблицы аварийных сигналов означает:</b></p> <p>а) нужны средства связи;  б) не можем взлететь;  в) задача не выполнена;  г) нет возможности к передвижению</p>	1
5	<p><b>Истечение крови из поврежденного сосуда называется:</b></p> <p>а) кровотечение;  б) кровезвержение;  в) кровосмешение.</p>	1
6	<p><b>Во время движения велосипедист поднял левую руку, согнутую в локте вверх. Что означает данный жест?</b></p> <p>а) приветствие;  б) предупреждение о повороте налево;  в) предупреждение о повороте направо.</p>	1
7	<p><b>В Северном полушарии в полдень по местному времени Солнце будет находиться:</b></p> <p>а) на Востоке;  б) на Юге;  в) на Западе;  г) на Севере.</p>	1
8	<p><b>Асептика - это:</b></p> <p>а) меры по предотвращению попадания болезнетворных микроорганизмов в рану;  б) меры по борьбе с болезнетворными микроорганизмами в ране;  в) способы остановки кровотечения из раны.</p>	1
9	<p>Регулировщик на перекрёстке поднял руку вверх. Какому сигналу светофора соответствует этот жест?</p> <p>а) красному;  б) желтому;  в) зеленому.</p>	1

<b>Определите все правильные ответы</b>		
10	<p><b>Выберите из предложенных вариантов установленные требования к месту сооружения временного жилища:</b></p> <p>а) место должно находиться на берегу реки на уровне воды;</p> <p>б) место должно находиться на ровной возвышенной продуваемой площадке;</p> <p>в) место должно находиться среди сухостоя, который можно использовать для костра;</p> <p>г) возле площадки должен находиться источник воды и достаточно топлива;</p> <p>д) недалеко от площадки должна быть дорога или наезженная тропа;</p> <p>е) возле лагеря должна быть площадка (поляна) для подачи сигналов бедствия в случае необходимости</p>	9
11	<p><b>В каких из указанных мест не следует разводить костер?</b></p> <p>а) вблизи палаток;</p> <p>б) вблизи деревьев;</p> <p>в) вблизи железных дорог;</p> <p>г) вблизи линий электропередач.</p>	4
12	<p><b>Чтобы лучше адаптироваться к условиям горной местности необходимо:</b></p> <p>а) пить больше жидкости;</p> <p>б) больше спать;</p> <p>в) сократить физические нагрузки;</p> <p>г) пить меньше жидкости</p>	4
13	<p><b>Как необходимо поступить человеку, если в подъезд вместе с ним входит незнакомец?</b></p> <p>а) не следует обращать на постороннего внимание;</p> <p>б) пропустить незнакомца вперёд;</p> <p>в) под любым предлогом задержаться у подъезда;</p> <p>г) войдя в подъезд побежать наверх.</p>	4
14	<p><b>Проблесковый маячок желтого или оранжевого цвета означает:</b></p> <p>а) перевозку крупногабаритных грузов, взрывчатых, легковоспламеняющихся, радиоактивных веществ;</p> <p>б) перевозку групп детей;</p> <p>в) выполнение работ по строительству, ремонту или содержанию дорог;</p> <p>г) не является специальным сигналом.</p>	4
15	<p><b>Для определения сторон горизонта можно использовать следующие признаки:</b></p> <p>а) в католических костелах алтарь находится на западе;</p> <p>б) двери синагог находятся на востоке;</p> <p>в) кресты, расположенные на православном храме, нижняя часть нижней перекладины указывает на запад, верхняя на восток;</p> <p>г) двери мечетей находятся на севере;</p> <p>д) колокольня православного храма находится с западной стороны.</p>	9

**Матрица ответов на тестовые задания**

<b>Номер теста</b>	<b>1</b>	<b>2</b>	<b>3</b>	<b>4</b>	<b>5</b>
<b>Верный</b>	а	б	б	г	а

ответ					
<b>Номер теста</b>	<b>6</b>	<b>7</b>	<b>8</b>	<b>9</b>	<b>10</b>
Верный ответ	в	б	а	б	б,г,е
<b>Номер теста</b>	<b>11</b>	<b>12</b>	<b>13</b>	<b>14</b>	<b>15</b>
Верный ответ	а,б	а,в	б,в	а,в	а,г,д

**Примечание:**

а) за каждый правильный ответ на задания с одиночным выбором ответа начисляется по 1 баллу.

б) в заданиях № 11, 12, 13, 14 за каждый правильный ответ начисляется по 2 балла;

в) в заданиях № 10 и 15 за каждый правильный ответ начисляется по 3 балла;

г) при оценке заданий, 0 баллов выставляется за отсутствие правильных ответов, а также, если участником отмечено большее количество ответов, чем предусмотрено в ключе (в том числе правильные) или все ответы.