

**Проверочная работа
по БИОЛОГИИ**

**6 КЛАСС
(линейная программа)
Вариант 1**

Инструкция по выполнению работы

На выполнение работы по биологии отводится 45 минут. Работа включает в себя 10 заданий.

Ответы на задания запишите в поля ответов в тексте работы. В случае записи неверного ответа зачеркните его и запишите рядом новый.

При выполнении работы не разрешается пользоваться учебником, рабочими тетрадями и другим справочным материалом. Разрешается использовать линейку.

При необходимости можно пользоваться черновиком. Записи в черновике проверяться и оцениваться не будут.

Советуем выполнять задания в том порядке, в котором они даны. В целях экономии времени пропускайте задание, которое не удаётся выполнить сразу, и переходите к следующему. Если после выполнения всей работы у Вас останется время, то Вы сможете вернуться к пропущенным заданиям.

Желаем успеха!

Заполняется учителем, экспертом или техническим специалистом


Обратите внимание: в случае, если какие-либо задания не могли быть выполнены целым классом по причинам, связанным с отсутствием соответствующей темы в реализуемой школой образовательной программе, в форме сбора результатов ВПР всем обучающимся класса за данное задание вместо балла выставляется значение «Тема не пройдена». В соответствующие ячейки таблицы заполняется н/п.

Таблица для внесения баллов участника

Номер задания	1.1	1.2	1.3	2.1	2.2	3	4.1	4.2	4.3	5	6	7	8.1	8.2	9	10	Сумма баллов	Отметка за работу
Баллы																		

1

На представленном ниже рисунке ученик зафиксировал в виде схемы один из процессов жизнедеятельности растений. Рассмотрите схему и ответьте на вопросы.



1.1. Как называют данный процесс?

Ответ. _____

1.2. Знание в какой области ботанической науки позволит ученику изучить данный процесс?

Ответ. _____

1.3. Из какой почки в ходе данного процесса появилось соцветие?

Ответ. _____

2

В приведённой ниже таблице между позициями первого и второго столбцов имеется взаимосвязь.

Целое	Часть
Образовательная ткань	Камбий
...	Ситовидные трубки

2.1. Какое понятие следует вписать на место пропуска в этой таблице?

- 1) механическая ткань
- 2) проводящая ткань
- 3) покровная ткань
- 4) запасаящая ткань

Ответ.

2.2. Какие функции выполняют устьица у растений? Назовите одну любую функцию.

Ответ. _____

3

Выберите из предложенного списка и вставьте в текст пропущенные слова, используя для этого их цифровые обозначения. Впишите номера выбранных слов на места пропусков в тексте.

СИНТЕЗ ОРГАНИЧЕСКИХ ВЕЩЕСТВ В РАСТЕНИИ

Энергию, необходимую для своего существования, растения запасают в виде органических веществ. Эти вещества синтезируются в ходе _____ (А). Этот процесс протекает в клетках листа в _____ (Б) – особых пластидах зелёного цвета. Они содержат особое вещество зелёного цвета – хлорофилл. Обязательным условием образования органических веществ, помимо наличия воды и углекислого газа, является _____ (В).

Список слов:

- 1) дыхание
- 2) кислород
- 3) хлоропласт
- 4) фотосинтез
- 5) свет
- 6) лейкопласт


Запишите в таблицу выбранные цифры под соответствующими буквами.

Ответ.

А	Б	В

4

Рассмотрите изображение вегетативной почки и выполните задания.



4.1. Покажите стрелками и подпишите на рисунке *зачаточный лист*, *конус нарастания*, *зачаточный стебель*.

4.2. Какую функцию в почке выполняют почечные чешуи?

Ответ. _____

4.3. Как называют почку, несущую зачатки соцветий или цветков?

Ответ. _____


5

Рассмотрите изображение листа смородины и опишите его по следующему плану: форма листа, жилкование листа, тип листа по соотношению длины и ширины листовой пластинки (без черешка) и по расположению наиболее широкой части. Используйте при выполнении задания линейку и карандаш.




А. Форма листа

1) перисто-лопастная




2) перисто-раздельная




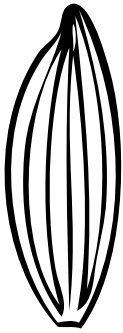


3) перисто-рассечённая



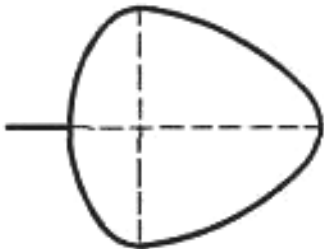
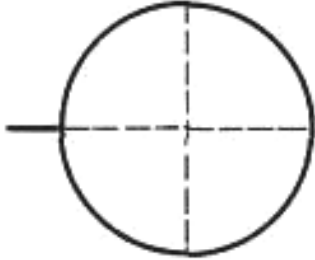
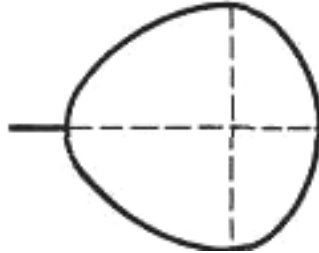
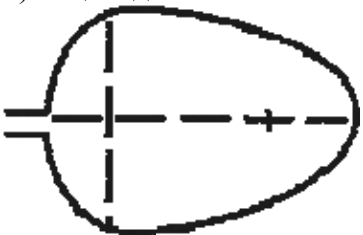
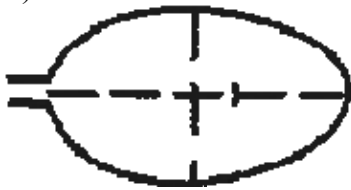
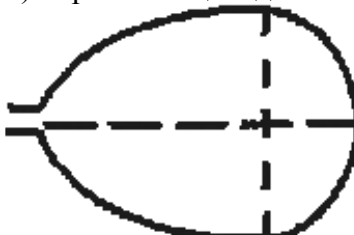
4) пальчато-лопастная



Б. Жилкование листа

			
1) параллельное	2) дуговидное	3) пальчатое	4) перисто-сетчатое

В. Тип листа по соотношению длины и ширины листовой пластинки (без черешка) и по расположению наиболее широкой части

Длина равна ширине или немного её превышает.		
1) широкояйцевидный 	2) округлый 	3) обратно-широкояйцевидный 
Длина превышает ширину в 1,5–2 раза.		
4) яйцевидный 	5) овальный 	6) обратно-яйцевидный 

Впишите в таблицу **номера** выбранных ответов под соответствующими буквами.

Ответ.

А	Б	В

6 Какой из перечисленных плодов является сухим многосеменным?

- 1) коробочка
- 2) орех
- 3) костянка
- 4) ягода

Ответ.

7 Рассмотрите рисунок растительной клетки (рис. 1). Какие органоиды клетки обозначены на рисунке буквой А?

Ответ. _____

Каково значение этих органоидов в жизнедеятельности клетки?

Ответ. _____

Алина рассмотрела под микроскопом поперечный срез завязи пестика лилии и сделала микрофотографию (рис. 2). Что она обозначила на фотографии цифрой 1?

Ответ. _____

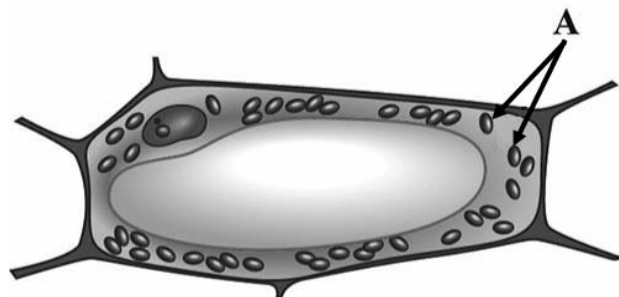


Рис. 1

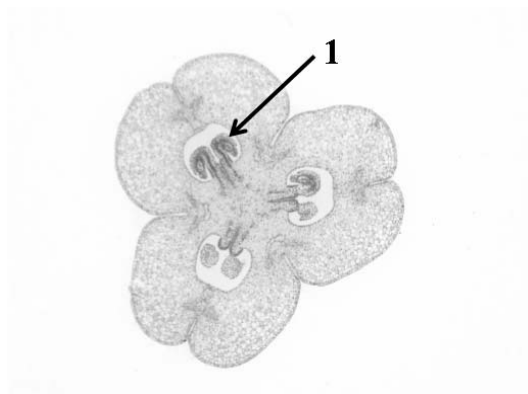
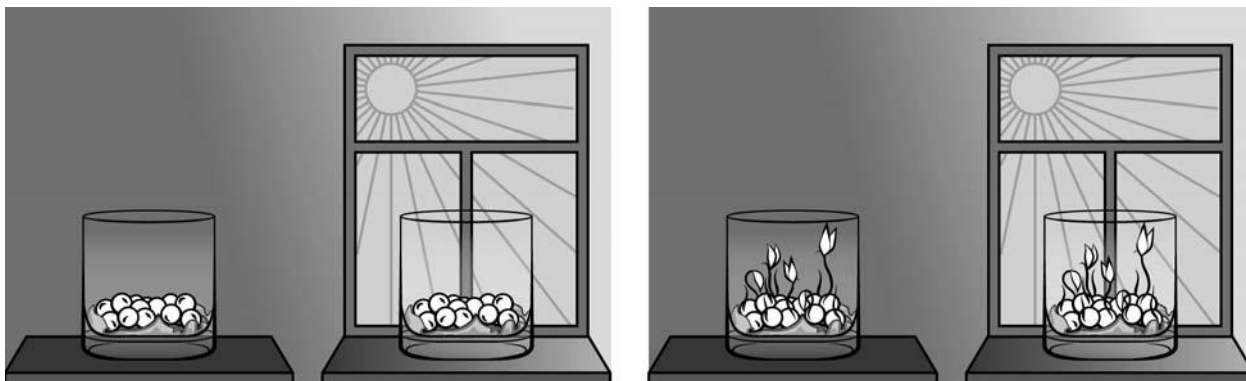


Рис. 2

8

Известно, что для прорастания семян необходимы определённые условия. Алёна решила выяснить роль одного из таких условий, проведя следующий опыт. Она положила в два одинаковых стакана по влажной тряпочке и насыпала одинаковое количество семян гороха. Один из стаканов она оставила на столе в углу класса, а другой поставила на освещённый подоконник в этом же классе. Вскоре она обнаружила, что в обоих стаканах семена начали одновременно прорастать.



8.1. Влияние какого условия на прорастание семян изучала Алёна?

Ответ. _____

Сформулируйте вывод о влиянии этого условия на прорастание семян.

Ответ. _____

8.2. Какие из условий прорастания семян были одинаковыми в проведённом опыте? Назовите одно из них. Обоснуйте свой ответ.

Ответ. _____

9

Используя приведённую ниже таблицу, ответьте на вопросы.

Условия прорастания семян

Растение	Минимальная температура прорастания, °С	Глубина заделки семян, см	Масса 1000 семян, г
Кукуруза	8	4–6	200–370
Рожь	1	3–4	20–60
Морковь	5	2–3	1–2
Пшеница	3	5–6	30–60

Какое растение из перечисленных в таблице имеет наибольшую массу семян?

Ответ. _____

Семена какого растения из перечисленных в таблице заделывают на наименьшую глубину?

Ответ. _____









Прорастание семян какого растения из перечисленных в таблице происходит при температуре ниже 2 °С?

Ответ. _____


10





Растения по-разному относятся к свету, теплу и влаге, и это учитывается цветоводами при разведении различных растений. Опишите особенности растений бегонии и замиокулькаса, которые необходимо учитывать при их разведении в домашних условиях, используя для этого таблицу условных обозначений.


Условные обозначения:





1) Выносливость			3) Требуемый режим полива				
	выносливое	капризное		сухая земля	увлажнённая земля	постоянно влажная земля	вода в поддоне
2) Требуемая влажность воздуха			4) Отношение к свету				
	не требует опрыскивания	регулярное опрыскивание		прямые лучи	рассеянный свет	полутень	тьма

Характеристики:



1)	2)	3)	4)
			



1)	2)	3)	4)
			

Бегония:

1) _____

2) _____

3) _____

4) _____

Замиокулькас:

1) _____

2) _____

3) _____

4) _____

По каким позициям из приведённых в описании эти растения имеют одинаковые характеристики?



Ответ. _____

Система оценивания проверочной работы

Правильный ответ на каждое из заданий 1.1, 1.2, 1.3, 2.1, 4.3, 6 оценивается 1 баллом.

Полный правильный ответ на задания 3 и 5 оценивается 2 баллами. Если в ответе допущена одна ошибка (в том числе написана лишняя цифра или не написана одна необходимая цифра), выставляется 1 балл; если допущено две или более ошибки – 0 баллов.

Номер задания	Правильный ответ
3	435
5	432
6	1

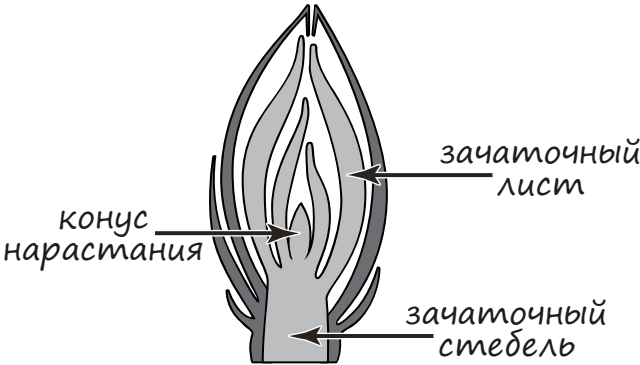
1	1.1	развитие
	1.2	физиология
	1.3	генеративная/верхушечная

2	2.1	2
	2.2	

Содержание верного ответа и указания к оцениванию (допускаются иные формулировки ответа, не искажающие его смысла)	Баллы
Правильный ответ должен содержать <u>указание функции</u> : газообмен ИЛИ испарение ИЛИ защита от перегрева	
Правильно указана функция	1
Ответ неправильный	0
<i>Максимальный балл</i>	<i>1</i>

4

4.1

Содержание верного ответа и указания по оцениванию	Баллы
	
Верно подписаны три части почки	2
Верно подписаны только две части почки	1
Верно подписана только одна любая часть почки. ИЛИ Ответ неправильный	0
<i>Максимальный балл</i>	2

4.2

Содержание верного ответа и указания к оцениванию (допускаются иные формулировки ответа, не искажающие его смысла)	Баллы
Правильный ответ должен содержать <u>указание функции</u> : защита почки от воздействия неблагоприятных условий внешней среды	
Правильно указана функция	1
Ответ неправильный	0
<i>Максимальный балл</i>	1

4.3

генеративная почка / бутон

7

Содержание верного ответа и указания к оцениванию (допускаются иные формулировки ответа, не искажающие его смысла)	Баллы
Должны быть даны <u>ответы на три вопроса</u> : 1) хлоропласты/пластиды; 2) фотосинтез ИЛИ образование органических веществ; 3) семязачаток/семяпочка. Ответы на вопросы могут быть даны в иных, близких по смыслу формулировках	
Даны правильные ответы на три вопроса	2
Даны правильные ответы только на два вопроса	1
Дан правильный ответ только на один любой вопрос. ИЛИ Ответ неправильный	0
<i>Максимальный балл</i>	2

8

8.1

Содержание верного ответа и указания к оцениванию (допускаются иные формулировки ответа, не искажающие его смысла)	Баллы
Должны быть даны <u>ответы на два вопроса</u> : 1) влияние света/освещённости; 2) свет/освещённость не влияет на прорастание семян ИЛИ прорастание семян не зависит от их освещённости. Ответы на вопросы могут быть даны в иных, близких по смыслу формулировках	
Правильно даны ответы на два вопроса	2
Правильно дан ответ только на один любой вопрос	1
Ответ неправильный	0
<i>Максимальный балл</i>	2

8.2

Содержание верного ответа и указания по оцениванию	Баллы
Правильный ответ должен содержать следующие <u>элементы</u> : 1) <u>ответ на вопрос (условия)</u> , например: температура воздуха / наличие воздуха / состав воздуха / живой зародыш; 2) <u>обоснование</u> , например: опыт проводился в одном и том же помещении, где температура воздуха примерно одинаковая / состав воздуха одинаковый / все семена были с живым зародышем. Элементы ответа могут быть приведены в иных, близких по смыслу формулировках	
Правильно дан ответ на вопрос, приведено обоснование	2
Правильно дан только ответ на вопрос	1
Ответ неправильный	0
<i>Максимальный балл</i>	2

9

Содержание верного ответа и указания по оцениванию	Баллы
Правильный ответ должен содержать <u>ответы на три вопроса</u> : 1) кукуруза; 2) морковь; 3) рожь	
Правильно даны ответы на три вопроса	1
Правильно даны ответы только на один-два любых вопроса. ИЛИ Ответ неправильный	0
<i>Максимальный балл</i>	1

10

Содержание верного ответа и указания по оцениванию	Баллы
<p>Правильный ответ должен содержать следующие <u>элементы</u>.</p> <p>1. <u>Условия выращивания растений</u>:</p> <p><u>бегония</u>:</p> <p>1) выносливое; 2) требует регулярного опрыскивания; 3) увлажнённая земля; 4) рассеянный свет;</p> <p><u>замиокулькас</u>:</p> <p>1) выносливое; 2) не требует опрыскивания; 3) сухая земля; 4) рассеянный свет.</p> <p>2. <u>Указание позиций, по которым растения имеют одинаковые характеристики</u>:</p> <p>1) бегония и замиокулькас – выносливые растения ИЛИ выносливость ИЛИ пункт 1; 2) для выращивания предпочитают рассеянный свет ИЛИ отношение к свету ИЛИ пункт 4.</p> <p>Элементы ответа могут быть приведены в более развёрнутых формулировках</p>	
<p>Правильно указаны по четыре условия для выращивания каждого из растений (всего восемь условий). Правильно указаны две одинаковые характеристики</p>	3
<p>Правильно указаны два-три условия для выращивания одного из растений и два–четыре условия для выращивания другого растения (всего четыре–семь условий). Правильно указаны две одинаковые характеристики. ИЛИ Правильно указаны четыре условия для выращивания только одного из растений. Правильно указаны две одинаковые характеристики</p>	2
<p>Правильно указаны два-три условия для выращивания одного из растений и два–четыре условия для выращивания другого растения (всего четыре–семь условий). Правильно указана только одна одинаковая характеристика. ИЛИ Правильно указаны четыре условия для выращивания только одного из растений. Правильно указана только одна одинаковая характеристика</p>	1
<p>Все комбинации элементов, не соответствующие указаниям по выставлению 3, 2 и 1 балла. ИЛИ Ответ неправильный</p>	0
<i>Максимальный балл</i>	3

Система оценивания выполнения всей работы

Максимальный первичный балл – 24.

Рекомендации по переводу первичных баллов в отметки по пятибалльной шкале

Отметка по пятибалльной шкале	«2»	«3»	«4»	«5»
Первичные баллы	0–9	10–14	15–19	20–24