

Тренировочная работа №6 по ОБЩЕСТВОЗНАНИЮ

9 класс

24 апреля 2024 года

Вариант ОБ2390601

Выполнена: ФИО _____ класс _____

Инструкция по выполнению работы

Тренировочная работа включает в себя 24 задания: 16 заданий с кратким ответом и 8 заданий с развёрнутым ответом.

На выполнение тренировочной работы по обществознанию отводится 3 часа (180 минут).

Ответы к заданиям 2–4, 7–11, 13, 14, 16–18 записываются в виде одной цифры, которая соответствует номеру правильного ответа. Ответом к заданиям 15, 19 является последовательность цифр. Ответом к заданию 20 является слово (словосочетание). Ответы запишите в поле ответа в тексте работы без запятых, пробелов и прочих символов.

Задания 1, 5, 6, 12, 21–24 выполняются на отдельном чистом листе. Для выполнения заданий 21–24 необходимо: выбрать нужную информацию из текста, раскрыть (в том числе на примерах) его отдельные положения; соотнести сведения из текста со знаниями, полученными при изучении курса; применить имеющиеся знания для анализа социальных ситуаций; высказать и обосновать собственное мнение.

Ответы записываются яркими чёрными чернилами. Допускается использование гелевой или капиллярной ручки.

При выполнении заданий можно пользоваться черновиком. **Записи в черновике не учитываются при оценивании работы.**

Баллы, полученные Вами за выполненные задания, суммируются. Постарайтесь выполнить как можно больше заданий и набрать наибольшее количество баллов.

После завершения работы проверьте, чтобы ответ на каждое задание был записан под правильным номером.

Желаем успеха!

Для ответов на задания 1, 5, 6 и 12 используйте отдельные листы. Запишите сначала номер задания, а затем ответ к нему. Ответы записывайте чётко и разборчиво.

Ответами к заданиям 2–4, 7–11, 13–20 являются цифра, последовательность цифр или слово (словосочетание).

1 Какие два из перечисленных понятий используются для обозначения основных признаков государства?

Суверенитет; выборы; налогообложение; вооруженные силы; парламент.

Выпишите соответствующие понятия и раскройте смысл любого одного из них.

Ответ запишите на отдельном листе, указав номер задания.

2 Какой из примеров иллюстрирует глобальные экологические проблемы?

- 1) быстрый рост населения в странах Азии и Африки
- 2) повышение уровня мирового океана
- 3) распространение короновиральной инфекции
- 4) обострение отношений между странами, обладающими ядерным оружием

Ответ:

3 Николай Васильевич в течение многих лет работает преподавателем высшей математики в университете. Раз в три года он проходит курсы повышения квалификации, ежегодно занимается на дистанционных курсах, регулярно участвует в вебинарах, которые проводят известные учёные-математики. Какую тенденцию в развитии образования отражает данный пример?

- 1) демократизация
- 2) гуманизация
- 3) гуманитаризация
- 4) непрерывность

Ответ:

4 Верны ли следующие суждения о массовой культуре?

А. Массовая культура создается преимущественно анонимными творцами.

Б. Массовая культура использует преимущественно простые и легко-доступные для понимания образы и сюжеты.

- 1) верно только А
- 2) верно только Б
- 3) верны оба суждения
- 4) оба суждения неверны

Ответ:

5 Рассмотрите фотографию.



Какая отрасль экономики может быть проиллюстрирована с помощью данной фотографии? Используя обществоведческие знания, факты общественной жизни и личный социальный опыт, сформулируйте два суждения о роли (значении) данной отрасли в современной экономике. Кратко объясните каждое суждение.

Ответ запишите на отдельном листе, указав номер задания.

6 Анна получила сообщение от своей подруги Ирины о том, что та потеряла сумочку с телефоном, наличными деньгами и банковскими картами, находясь в другом городе на отдыхе. В сообщении содержалась просьба перечислить деньги на электронный кошелёк знакомого Ирины с обещанием вернуть долг после возвращения с отдыха. В чём состоит опасность этой ситуации для личных финансов Анны? Как ей правильно поступить в такой ситуации?

Ответ запишите на отдельном листе, указав номер задания.

7 Что из перечисленного относится к характерным чертам рыночной экономики?

- 1) конкуренция между производителями товаров и услуг
- 2) централизованное планирование экономической деятельности
- 3) преобладание натурального хозяйства
- 4) государственная собственность на основные экономические ресурсы

Ответ:

8 ООО «Волгатопливо» реализует автомобильный бензин. Какой из налогов, уплачиваемых данной организацией, относится к категории косвенных налогов?

- 1) налог на прибыль
- 2) налог на имущество организаций
- 3) таможенная пошлина на продажу бензина за рубеж
- 4) транспортный налог

Ответ:

9 Верны ли следующие суждения о государственном бюджете?

А. Государственный бюджет – это свод доходов и расходов государства.

Б. Государственный бюджет Российской Федерации принимается Федеральным Собранием.

- 1) верно только А
- 2) верно только Б
- 3) верны оба суждения
- 4) оба суждения неверны

Ответ:

10 Что из перечисленного является примером реализации хозяйственно-бытовой функции семьи?

- 1) покупка нового дома
- 2) поездка семьи на морской курорт для отдыха
- 3) проведение воспитательной беседы с детьми
- 4) решение о переводе детей на домашнее обучение

Ответ:

11 Верны ли следующие суждения о социальных нормах?

А. Все социальные нормы устанавливаются и охраняются государством.

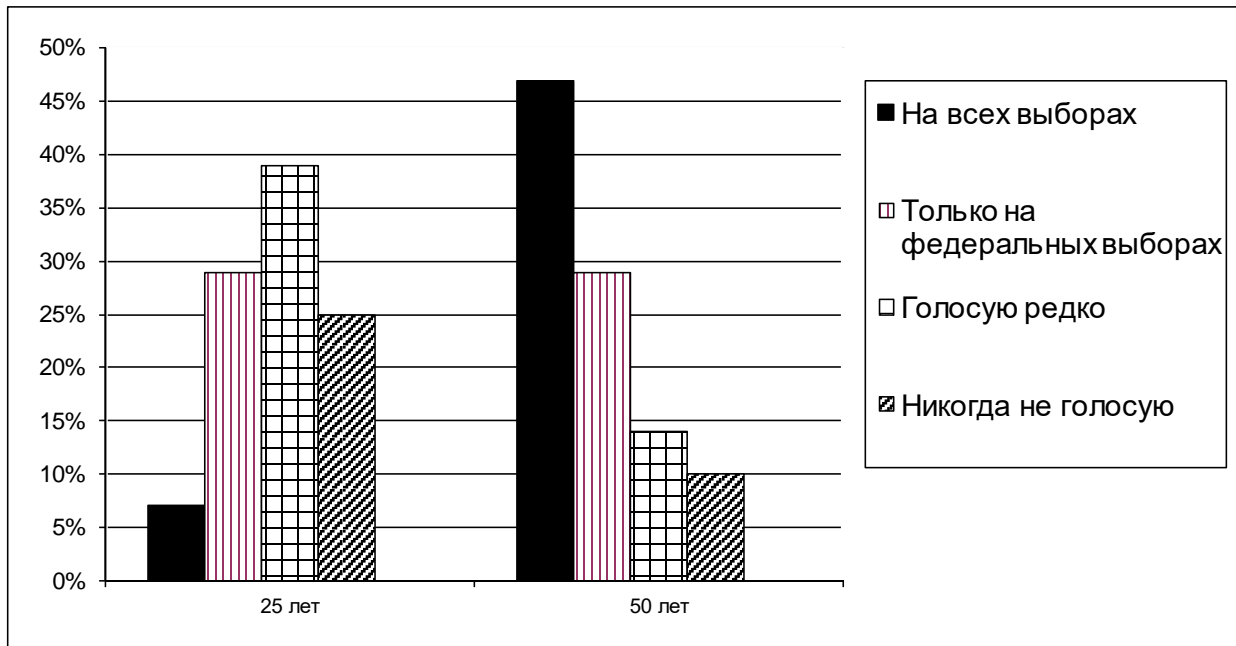
Б. Социальные нормы не имеют конкретного адресата и действуют непрерывно во времени.

- 1) верно только А
- 2) верно только Б
- 3) верны оба суждения
- 4) оба суждения неверны

Ответ:

12

В ходе социологического опроса совершеннолетних жителей федеративного государства Z им задали вопрос: «Как часто Вы голосуете на выборах в органы государственной власти?» Его результаты отражены в гистограмме.



Сформулируйте по одному выводу: а) о сходстве; б) о различии в позициях групп опрошенных. Выскажите предположение о том, чем объясняются указанные Вами: а) сходство; б) различие.

Ответ запишите на отдельном листе, указав номер задания.

13

Глава государства Z избирается гражданами на определённый срок, в стране свободно действуют оппозиционные политические партии, территория страны разделена на провинции, которые управляются губернаторами, назначенными главой государства, на всей территории страны действует единое законодательство. Какая форма государственного устройства в стране Z?

- 1) демократическая
- 2) республиканская
- 3) унитарная
- 4) федеративная

Ответ:

14 Верны ли следующие суждения о политических партиях?

А. Главной целью политических партий является достижение политической власти.

Б. Цели деятельности политической партии и способы их достижения отражаются в программе партии.

- 1) верно только А
- 2) верно только Б
- 3) верны оба суждения
- 4) оба суждения неверны

Ответ:

15 Установите соответствие между характеристиками и видами юридической ответственности: к каждому элементу первого столбца подберите соответствующий элемент из второго столбца.

ХАРАКТЕРИСТИКА

**ВИД ЮРИДИЧЕСКОЙ
ОТВЕТСТВЕННОСТИ**

А) носит исключительно имущественный характер

1) уголовная

2) гражданско-правовая

Б) единственным основанием для привлечения к ответственности является совершение преступления

В) меры ответственности определяются законом или договором

Г) ответственность несут как физические, так и юридические лица

Д) меры ответственности устанавливаются только законом

Запишите в таблицу выбранные цифры под соответствующими буквами.

Ответ:

А	Б	В	Г	Д

16 Согласно Конституции Российской Федерации Государственная Дума

- 1) назначает судей Конституционного суда
- 2) утверждает изменение границ между субъектами Российской Федерации
- 3) назначает выборы Президента
- 4) объявляет амнистию

Ответ:

17 Александр решил отказаться от своей доли наследства в пользу младшей сестры. Какой отраслью права регулируется данное правоотношение?

- 1) гражданское
- 2) административное
- 3) семейное
- 4) конституционное

Ответ:

18 Верны ли следующие суждения об административных правоотношениях?

- А. Административные правоотношения складываются в процессе осуществления исполнительной власти.
- Б. Административные правоотношения охватывают все основные сферы жизни общества.

- 1) верно только А
- 2) верно только Б
- 3) верны оба суждения
- 4) оба суждения неверны

Ответ:

19 Сравните особенности науки и искусства как форм познания мира. Выберите и запишите в первую колонку таблицы порядковые номера черт сходства, а во вторую колонку – порядковые номера черт различия.

- 1) Способствует формированию мировоззрения человека.
- 2) Опирается на подтверждённые опытным путём данные.
- 3) Позволяет прогнозировать и предвосхищать явления и события будущего.
- 4) Большую роль в процессе познания играют воображение и фантазия познающего субъекта.

Ответ:

	Черты сходства	Черты различия	

20 Заполните пропуск в таблице.

Вид деятельности	Характеристика
Учение	Вид деятельности, целью которого является приобретение человеком знаний, умений и навыков
...	Вид деятельности, при котором происходит обмен идеями и эмоциями

Ответ: _____.

Прочитайте текст и выполните задания 21–24. Для записи ответов на задания используйте отдельные листы. Запишите сначала номер задания, а затем развёрнутый ответ на него. Ответы записывайте чётко и разборчиво.

Уровень развития общества во многом определяется эффективностью правового регулирования общественных отношений. Право человека на труд относится к основным правам человека, а состояние законодательства и реального положения дел в области реализации данного права не только является показателем цивилизованности общества, но и непосредственно воздействует на его нравственность, эффективность его экономики. Много десятилетий тому назад, появившись из недр гражданского права, трудовое право стало одной из ведущих отраслей практически во всех мировых правовых системах. Во многом это произошло потому, что используемые им методы оказались эффективным способом правового регулирования в сфере наемного труда свободных граждан.

Сегодняшнее состояние правового регулирования трудовых отношений в России отражает специфику периода перехода к рыночной экономике. С одной стороны, оно уже не в состоянии адекватно реагировать на все происходящие в экономике изменения, с другой – именно переходный характер нынешнего этапа затрудняет, например, использование в чистом

виде аналогичного механизма регулирования, имеющегося в странах с развитой рыночной экономикой.

Специфика этого регулирования заключается ещё и в том, что в сферу действия трудового права попадает огромное количество трудоспособного населения в любых странах, независимо от степени их экономического развития (по оценкам специалистов – не менее 80 %). При этом, как правило, это люди, которые не имеют другого источника существования, кроме заработной платы, получаемой за свой труд. Поэтому вопросы уровня оплаты труда, условий, в которых он протекает, соотношения рабочего времени и времени отдыха, если хотите – душевного комфорта, все проблемы социального обеспечения в самом широком смысле, формы, размер и условия предоставления которого напрямую зависят от результатов труда человека, являются важнейшими социальными факторами, которые могут либо укрепить общество, либо подействовать на его развитие деструктивно.

Существенным недостатком современного состояния трудовых отношений является отсутствие чёткого механизма реализации принципов, заложенных в законодательстве. Причин тому много. Это и недостаточно чёткое разделение решаемых вопросов по уровням нормативных актов, и нестыковка этих актов между собой, и отсутствие специальных органов и процедур, и недостаточный уровень юридической техники, и многое другое.

(А.М. Куренной)

- 21 Составьте план текста. Для этого выделите основные смысловые фрагменты текста и озаглавьте каждый из них.
- 22 В чём заключается специфика правового регулирования трудовых отношений? Как, по мнению автора, реализация права на труд влияет на развитие общества? На какие причины существенных недостатков в современном регулировании трудовых отношений указывает автор? (Укажите три причины.)
- 23 Как, по мнению автора, состояние правового регулирования трудовых отношений в России отражает специфику периода перехода к рыночной экономике? Какие вопросы, регулируемые трудовым правом, автор считает наиболее важными социальными факторами? Укажите два любых вопроса и объясните значение этих вопросов для социального благополучия общества.
- 24 Автор полагает, что право на труд относится к основным правам человека. Используя текст и обществоведческие знания, подтвердите двумя аргументами (объяснениями) необходимость активного участия государства в регулировании трудовых отношений.

Тренировочная работа №6 по ОБЩЕСТВОЗНАНИЮ

9 класс

24 апреля 2024 года

Вариант ОБ2390602

Выполнена: ФИО _____ класс _____

Инструкция по выполнению работы

Тренировочная работа включает в себя 24 задания: 16 заданий с кратким ответом и 8 заданий с развёрнутым ответом.

На выполнение тренировочной работы по обществознанию отводится 3 часа (180 минут).

Ответы к заданиям 2–4, 7–11, 13, 14, 16–18 записываются в виде одной цифры, которая соответствует номеру правильного ответа. Ответом к заданиям 15, 19 является последовательность цифр. Ответом к заданию 20 является слово (словосочетание). Ответы запишите в поле ответа в тексте работы без запятых, пробелов и прочих символов.

Задания 1, 5, 6, 12, 21–24 выполняются на отдельном чистом листе. Для выполнения заданий 21–24 необходимо: выбрать нужную информацию из текста, раскрыть (в том числе на примерах) его отдельные положения; соотнести сведения из текста со знаниями, полученными при изучении курса; применить имеющиеся знания для анализа социальных ситуаций; высказать и обосновать собственное мнение.

Ответы записываются яркими чёрными чернилами. Допускается использование гелевой или капиллярной ручки.

При выполнении заданий можно пользоваться черновиком. **Записи в черновике не учитываются при оценивании работы.**

Баллы, полученные Вами за выполненные задания, суммируются. Постарайтесь выполнить как можно больше заданий и набрать наибольшее количество баллов.

После завершения работы проверьте, чтобы ответ на каждое задание был записан под правильным номером.

Желаем успеха!

Для ответов на задания 1, 5, 6 и 12 используйте отдельные листы. Запишите сначала номер задания, а затем ответ к нему. Ответы записывайте чётко и разборчиво.

Ответами к заданиям 2–4, 7–11, 13–20 являются цифра, последовательность цифр или слово (словосочетание).

1 Какие два из перечисленных понятий используются для обозначения ветвей власти?

Распорядительная; исполнительная; военная; правовая; законодательная.

Выпишите соответствующие понятия и раскройте смысл любого одного из них.

Ответ запишите на отдельном листе, указав номер задания.

2 Какой из примеров иллюстрирует удовлетворение духовных потребностей человека?

- 1) посещение художественной выставки
- 2) голосование на выборах
- 3) покупка продуктов в супермаркете
- 4) замена системы отопления в доме

Ответ:

3 Семён верит в возможность избавления людей от страданий через отказ от страстей и чрезмерных желаний, в возможность для человека обрести полный покой – нирвану. Он стремится не причинять зла любым живым существам, посещает религиозный комплекс, на территории которого установлены культовые сооружения в виде ступы. Последователем какой традиционной для России религии является Семён?

- 1) православное христианство
- 2) ислам
- 3) буддизм
- 4) иудаизм

Ответ:

4 Верны ли следующие суждения об искусстве?

А. Искусство отражает мир в образах, в которых реальность переплетается с вымыслом.

Б. Искусство привлекает внимание общества к актуальным социальным проблемам.

- 1) верно только А
- 2) верно только Б
- 3) верны оба суждения
- 4) оба суждения неверны

Ответ:

5 Рассмотрите фотографию.



Какая форма государственного правления может быть проиллюстрирована с помощью данной фотографии? Используя обществоведческие знания, факты общественной жизни и личный социальный опыт, сформулируйте два суждения о роли (значении) религии в данной форме государственного правления.

Кратко объясните каждое суждение.

Ответ запишите на отдельном листе, указав номер задания.

6 Вере поступил звонок с просьбой подтвердить перевод крупной суммы на карту другого клиента. Звонивший представился сотрудником банка, назвал номер банковской карты Веры и номер телефона получателя перевода. Вера заявила звонившему, что не делала в течение последнего времени никаких переводов. Тогда звонившей заявил, что для отмены перевода Вера должна назвать код, который она получит из банка в смс сообщении. В чём состоит опасность этой ситуации для личных финансов Веры? Как ей правильно поступить в такой ситуации?
Ответ запишите на отдельном листе, указав номер задания.

7 Что из перечисленного относится к характерным чертам плановой экономики?

- 1) большое влияние обычаев и традиций на экономическую деятельность
- 2) циклический характер развития экономики, сочетание периодов экономических подъёмов и экономических кризисов
- 3) государственная собственность на основные экономические ресурсы
- 4) преобладание натурального хозяйства

Ответ:

8 В городе N ремонт сотовых телефонов осуществляет только одна компания. Какой тип рынка услуг по ремонту сотовых телефонов существует в городе N?

- 1) чистая конкуренция
- 2) монополистическая конкуренция
- 3) олигополия
- 4) монополия

Ответ:

9 Верны ли следующие суждения о безработице?

А. Безработица выражается в превышении предложения рабочей силы над спросом на рынке труда.

Б. Безработица имеет как отрицательные, так и положительные последствия для развития рыночной экономики.

- 1) верно только А
- 2) верно только Б
- 3) верны оба суждения
- 4) оба суждения неверны

Ответ:

10 Какая из перечисленных социальных групп характеризуется прежде всего общностью языка, культуры, традиций, самосознания?

- 1) класс
- 2) страта
- 3) этнос
- 4) сословие

Ответ:

11 Верны ли следующие суждения о нуклеарной семье?

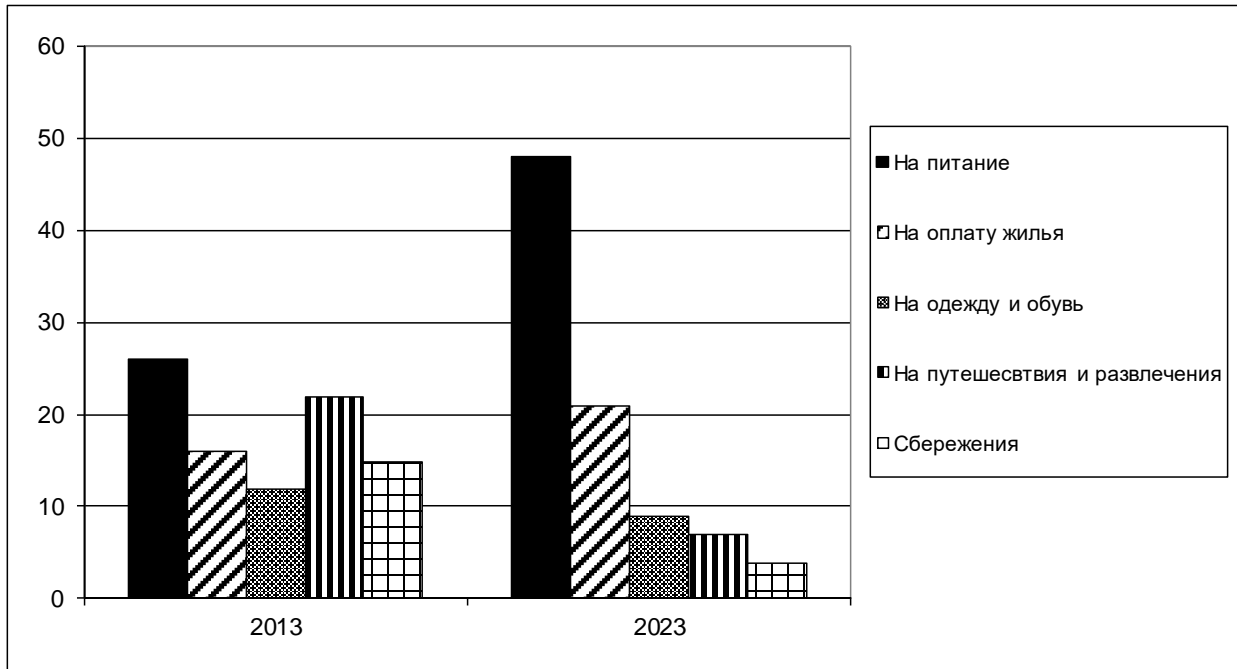
А. Нуклеарная семья может включать в себя представителей трёх поколений родственников.

Б. В постиндустриальном обществе нуклеарная семья является преобладающим типом семьи.

- 1) верно только А
- 2) верно только Б
- 3) верны оба суждения
- 4) оба суждения неверны

Ответ:

- 12** В ходе социологических опросов в 2013 и 2023 годах совершеннолетним жителям страны Z задавали вопрос: «На что Вы тратите больше всего средств?» Результаты опросов отражены в гистограмме.



Сформулируйте по одному выводу: а) о сходстве; б) о различии в позициях групп опрошенных. Выскажите предположение о том, чем объясняются указанные Вами: а) сходство; б) различие.

Ответ запишите на отдельном листе, указав номер задания.

- 13** В государстве Z глава государства избирается по двухступенчатой системе: сначала граждане страны голосуют за выборщиков, коллегия которых затем избирает главу государства. Какой принцип демократических выборов нарушается в избирательной системе страны Z?

- 1) непосредственность
- 2) всеобщность
- 3) состязательность
- 4) тайное голосование

Ответ:

14 Верны ли следующие суждения о политической оппозиции?

А. Наличие законно действующей политической оппозиции является обязательным условием демократии.

Б. Политическая оппозиция не может быть представлена в исполнительных и законодательных органах государственной власти.

- 1) верно только А
- 2) верно только Б
- 3) верны оба суждения
- 4) оба суждения неверны

Ответ:

15 Установите соответствие между социальными статусами и их типами: к каждому элементу первого столбца подберите соответствующий элемент из второго столбца.

СОЦИАЛЬНЫЙ СТАТУС

- А) мужчина
- Б) супруг
- В) студент
- Г) ребёнок
- Д) учитель

ТИП СТАТУСА

- 1) предписанный
- 2) достигаемый

Запишите в таблицу выбранные цифры под соответствующими буквами.

Ответ:

А	Б	В	Г	Д

16 Согласно Конституции Российской Федерации Председатель Правительства РФ

- 1) избирается Государственной Думой
- 2) избирается на совместном заседании Государственной Думы и Совета Федерации
- 3) избирается Советом Федерации
- 4) назначается Президентом с согласия Государственной Думы

Ответ:

17 Нина решила открыть счёт в банке и откладывать часть своих карманных денег для покупки планшетного компьютера. Однако сотрудник банка объяснил Нине, что она ещё не достигла возраста, позволяющего самостоятельного открывать счета в кредитных учреждениях. Сколько лет должно исполниться Нине, чтобы она смогла самостоятельно открыть счёт в банке?

- 1) 12
- 2) 14
- 3) 16
- 4) 18

Ответ:

18 Верны ли следующие суждения об уголовной ответственности несовершеннолетних?

- А. Несовершеннолетние, не достигшие возраста 14 лет, не могут привлекаться к уголовной ответственности.
- Б. Максимальный срок лишения свободы для несовершеннолетних не может превышать 10 лет.

- 1) верно только А
- 2) верно только Б
- 3) верны оба суждения
- 4) оба суждения неверны

Ответ:

19 Сравните особенности выборов и референдумов как форм волеизъявления народа в Российской Федерации. Выберите и запишите в первую колонку таблицы порядковые номера черт сходства, а во вторую колонку – порядковые номера черт различия.

- 1) Гарантируется тайна голосования граждан.
- 2) Предполагают непосредственное участие граждан в правотворчестве.
- 3) Являются инструментом представительной демократии.
- 4) Право на участие имеют все граждане, обладающие активным избирательным правом.

Ответ:

Черты сходства		Черты различия	

20

Заполните пропуск в таблице.

Форма духовной деятельности	Характеристика
Искусство	Форма духовной деятельности, направленная на освоение и создание эстетических ценностей
...	Форма духовной деятельности людей, направленная на производство знаний о природе, обществе и о самом познании, имеющая непосредственную цель постижения истины и открытия объективных законов

Ответ: _____.

Прочитайте текст и выполните задания 21–24. Для записи ответов на задания используйте отдельные листы. Запишите сначала номер задания, а затем развёрнутый ответ на него. Ответы записывайте чётко и разборчиво.

Главное предназначение культуры в человеческом обществе заключается в том, чтобы служить эффективным, надёжным инструментом накопления, сохранения и передачи многообразного опыта деятельности, познания и общения различных субъектов, социальных процессов и отношений.

В первую очередь, ведущей функцией культуры является приобщение людей, прежде всего подрастающего поколения, к культурному наследию предков, богатым историческим и духовным традициям своего народа и общечеловеческим ценностям. Показателем реализации этой функции применительно к личности выступает уровень её культурной социализации. Последняя выражается не только в общекультурной эрудиции, начитанности, владении иностранными языками, но и в уровне профессиональной, политической, экологической, семейной культуры, опирающихся на высокую нравственность человека.

Культура как система групповых символов и смыслов, действующих, прежде всего, в пределах этнической общности, объединяет её членов с помощью общего языка, имени, образа жизни, традиций и ценностей. Эта система знаков, отличающая одну культуру от другой, служит самосохранению данной культуры, в том числе противостоянию влиянию другой, господствующей в стране культуры. Благодаря сплочению членов определённых социальных сообществ, национально-этнических, религиозных, политических структур, подобного рода группы сохраняют свою целостность, самобытность. Однако не следует преувеличивать значение этой функции, так как эти «культурные продукты» могут приводить к чрезмерному обособлению, разъединению и конфликтам.

Совершенно необходима в социальном общении людей регулятивная функция культуры, которая определяет общественно признанные и приемлемые рамки социального взаимодействия. Выход за пределы социального и культурного пространства влечёт за собой применение различных санкций официального и неформального характера, которые приводит в исполнение «машина» социального контроля.

(Г.Н. Нурышев, Д.С. Бразевич)

21 Составьте план текста. Для этого выделите основные смысловые фрагменты текста и озаглавьте каждый из них.

22 В чём авторы видят главное предназначение культуры? Что авторы считают ведущей функцией культуры? В чём, по мнению авторов, выражается культурная социализация человека? (Назовите два показателя.)

23 На какие негативные последствия влияния «культурных продуктов» указывает автор? Назовите два любых вида социальных конфликтов, в основе которых лежат культурные различия. В каждом случае укажите, какие именно культурные различия способствуют началу конфликта.

24 Авторы подчёркивают роль культуры в регулировании социальных отношений. Используя текст и обществоведческие знания, подтвердите двумя аргументами (объяснениями) тесную взаимосвязь культуры и социального контроля.

Тренировочная работа №6 по ОБЩЕСТВОЗНАНИЮ

9 класс

24 апреля 2024 года

Вариант ОБ2390603

Выполнена: ФИО _____ класс _____

Инструкция по выполнению работы

Тренировочная работа включает в себя 24 задания: 16 заданий с кратким ответом и 8 заданий с развёрнутым ответом.

На выполнение тренировочной работы по обществознанию отводится 3 часа (180 минут).

Ответы к заданиям 2–4, 7–11, 13, 14, 16–18 записываются в виде одной цифры, которая соответствует номеру правильного ответа. Ответом к заданиям 15, 19 является последовательность цифр. Ответом к заданию 20 является слово (словосочетание). Ответы запишите в поле ответа в тексте работы без запятых, пробелов и прочих символов.

Задания 1, 5, 6, 12, 21–24 выполняются на отдельном чистом листе. Для выполнения заданий 21–24 необходимо: выбрать нужную информацию из текста, раскрыть (в том числе на примерах) его отдельные положения; соотнести сведения из текста со знаниями, полученными при изучении курса; применить имеющиеся знания для анализа социальных ситуаций; высказать и обосновать собственное мнение.

Ответы записываются яркими чёрными чернилами. Допускается использование гелевой или капиллярной ручки.

При выполнении заданий можно пользоваться черновиком. **Записи в черновике не учитываются при оценивании работы.**

Баллы, полученные Вами за выполненные задания, суммируются. Постарайтесь выполнить как можно больше заданий и набрать наибольшее количество баллов.

После завершения работы проверьте, чтобы ответ на каждое задание был записан под правильным номером.

Желаем успеха!

Для ответов на задания 1, 5, 6 и 12 используйте отдельные листы. Запишите сначала номер задания, а затем ответ к нему. Ответы записывайте чётко и разборчиво.

Ответами к заданиям 2–4, 7–11, 13–20 являются цифра, последовательность цифр или слово (словосочетание).

1 Какие два из перечисленных понятий используются для обозначения основных признаков государства?

Суверенитет; выборы; налогообложение; вооруженные силы; парламент.

Выпишите соответствующие понятия и раскройте смысл любого одного из них.

Ответ запишите на отдельном листе, указав номер задания.

2 Какой из примеров иллюстрирует удовлетворение духовных потребностей человека?

- 1) посещение художественной выставки
- 2) голосование на выборах
- 3) покупка продуктов в супермаркете
- 4) замена системы отопления в доме

Ответ:

3 Николай Васильевич в течение многих лет работает преподавателем высшей математики в университете. Раз в три года он проходит курсы повышения квалификации, ежегодно занимается на дистанционных курсах, регулярно участвует в вебинарах, которые проводят известные учёные-математики. Какую тенденцию в развитии образования отражает данный пример?

- 1) демократизация
- 2) гуманизация
- 3) гуманитаризация
- 4) непрерывность

Ответ:

4 Верны ли следующие суждения об искусстве?

А. Искусство отражает мир в образах, в которых реальность переплетается с вымыслом.

Б. Искусство привлекает внимание общества к актуальным социальным проблемам.

- 1) верно только А
- 2) верно только Б
- 3) верны оба суждения
- 4) оба суждения неверны

Ответ:

5 Рассмотрите фотографию.



Какая отрасль экономики может быть проиллюстрирована с помощью данной фотографии? Используя обществоведческие знания, факты общественной жизни и личный социальный опыт, сформулируйте два суждения о роли (значении) данной отрасли в современной экономике. Кратко объясните каждое суждение.

Ответ запишите на отдельном листе, указав номер задания.

6 Вере поступил звонок с просьбой подтвердить перевод крупной суммы на карту другого клиента. Звонивший представился сотрудником банка, назвал номер банковской карты Веры и номер телефона получателя перевода. Вера заявила звонившему, что не делала в течение последнего времени никаких переводов. Тогда звонившей заявил, что для отмены перевода Вера должна назвать код, который она получит из банка в смс сообщении. В чём состоит опасность этой ситуации для личных финансов Веры? Как ей правильно поступить в такой ситуации?
Ответ запишите на отдельном листе, указав номер задания.

7 Что из перечисленного относится к характерным чертам рыночной экономики?

- 1) конкуренция между производителями товаров и услуг
- 2) централизованное планирование экономической деятельности
- 3) преобладание натурального хозяйства
- 4) государственная собственность на основные экономические ресурсы

Ответ:

8 В городе N ремонт сотовых телефонов осуществляет только одна компания. Какой тип рынка услуг по ремонту сотовых телефонов существует в городе N?

- 1) чистая конкуренция
- 2) монополистическая конкуренция
- 3) олигополия
- 4) монополия

Ответ:

9 Верны ли следующие суждения о государственном бюджете?

А. Государственный бюджет – это свод доходов и расходов государства.

Б. Государственный бюджет Российской Федерации принимается Федеральным Собранием.

- 1) верно только А
- 2) верно только Б
- 3) верны оба суждения
- 4) оба суждения неверны

Ответ:

10 Какая из перечисленных социальных групп характеризуется прежде всего общностью языка, культуры, традиций, самосознания?

- 1) класс
- 2) страта
- 3) этнос
- 4) сословие

Ответ:

11 Верны ли следующие суждения о социальных нормах?

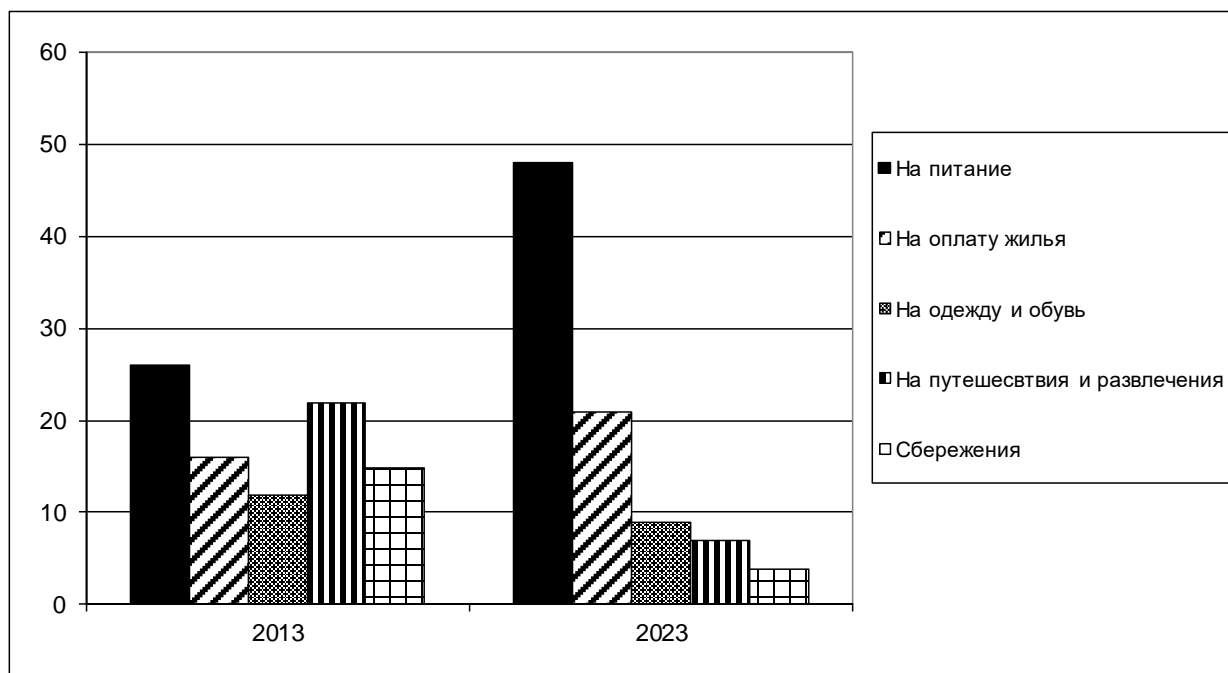
А. Все социальные нормы устанавливаются и охраняются государством.

Б. Социальные нормы не имеют конкретного адресата и действуют непрерывно во времени.

- 1) верно только А
- 2) верно только Б
- 3) верны оба суждения
- 4) оба суждения неверны

Ответ:

- 12** В ходе социологических опросов в 2013 и 2023 годах совершеннолетним жителям страны Z задавали вопрос: «На что Вы тратите больше всего средств?» Результаты опросов отражены в гистограмме.



Сформулируйте по одному выводу: а) о сходстве; б) о различии в позициях групп опрошенных. Выскажите предположение о том, чем объясняются указанные Вами: а) сходство; б) различие.

Ответ запишите на отдельном листе, указав номер задания.

- 13** Глава государства Z избирается гражданами на определённый срок, в стране свободно действуют оппозиционные политические партии, территория страны разделена на провинции, которые управляются губернаторами, назначенными главой государства, на всей территории страны действует единое законодательство. Какая форма государственного устройства в стране Z?

- 1) демократическая
- 2) республиканская
- 3) унитарная
- 4) федеративная

Ответ:

14 Верны ли следующие суждения о политической оппозиции?

А. Наличие законно действующей политической оппозиции является обязательным условием демократии.

Б. Политическая оппозиция не может быть представлена в исполнительных и законодательных органах государственной власти.

- 1) верно только А
- 2) верно только Б
- 3) верны оба суждения
- 4) оба суждения неверны

Ответ:

15 Установите соответствие между характеристиками и видами юридической ответственности: к каждому элементу первого столбца подберите соответствующий элемент из второго столбца.

ХАРАКТЕРИСТИКА

**ВИД ЮРИДИЧЕСКОЙ
ОТВЕТСТВЕННОСТИ**

А) носит исключительно имущественный характер

1) уголовная

2) гражданско-правовая

Б) единственным основанием для привлечения к ответственности является совершение преступления

В) меры ответственности определяются законом или договором

Г) ответственность несут как физические, так и юридические лица

Д) меры ответственности устанавливаются только законом

Запишите в таблицу выбранные цифры под соответствующими буквами.

Ответ:

А	Б	В	Г	Д

16 Согласно Конституции Российской Федерации Председатель Правительства РФ

- 1) избирается Государственной Думой
- 2) избирается на совместном заседании Государственной Думы и Совета Федерации
- 3) избирается Советом Федерации
- 4) назначается Президентом с согласия Государственной Думы

Ответ:

17 Александр решил отказаться от своей доли наследства в пользу младшей сестры. Какой отраслью права регулируется данное правоотношение?

- 1) гражданское
- 2) административное
- 3) семейное
- 4) конституционное

Ответ:

18 Верны ли следующие суждения об уголовной ответственности несовершеннолетних?

- А. Несовершеннолетние, не достигшие возраста 14 лет, не могут привлекаться к уголовной ответственности.
- Б. Максимальный срок лишения свободы для несовершеннолетних не может превышать 10 лет.

- 1) верно только А
- 2) верно только Б
- 3) верны оба суждения
- 4) оба суждения неверны

Ответ:

19 Сравните особенности науки и искусства как форм познания мира. Выберите и запишите в первую колонку таблицы порядковые номера черт сходства, а во вторую колонку – порядковые номера черт различия.

- 1) Способствует формированию мировоззрения человека.
- 2) Опирается на подтверждённые опытным путём данные.
- 3) Позволяет прогнозировать и предвосхищать явления и события будущего.
- 4) Большую роль в процессе познания играют воображение и фантазия познающего субъекта.

Ответ:

Черты сходства		Черты различия	

20 Заполните пропуск в таблице.

Вид деятельности	Характеристика
Учение	Вид деятельности, целью которого является приобретение человеком знаний, умений и навыков
...	Вид деятельности, при котором происходит обмен идеями и эмоциями

Ответ: _____.

Прочитайте текст и выполните задания 21–24. Для записи ответов на задания используйте отдельные листы. Запишите сначала номер задания, а затем развёрнутый ответ на него. Ответы записывайте чётко и разборчиво.

Уровень развития общества во многом определяется эффективностью правового регулирования общественных отношений. Право человека на труд относится к основным правам человека, а состояние законодательства и реального положения дел в области реализации данного права не только является показателем цивилизованности общества, но и непосредственно воздействует на его нравственность, эффективность его экономики. Много десятилетий тому назад, появившись из недр гражданского права, трудовое право стало одной из ведущих отраслей практически во всех мировых правовых системах. Во многом это произошло потому, что используемые им методы оказались эффективным способом правового регулирования в сфере наемного труда свободных граждан.

Сегодняшнее состояние правового регулирования трудовых отношений в России отражает специфику периода перехода к рыночной экономике. С одной стороны, оно уже не в состоянии адекватно реагировать на все происходящие в экономике изменения, с другой – именно переходный характер нынешнего этапа затрудняет, например, использование в чистом

виде аналогичного механизма регулирования, имеющегося в странах с развитой рыночной экономикой.

Специфика этого регулирования заключается ещё и в том, что в сферу действия трудового права попадает огромное количество трудоспособного населения в любых странах, независимо от степени их экономического развития (по оценкам специалистов – не менее 80 %). При этом, как правило, это люди, которые не имеют другого источника существования, кроме заработной платы, получаемой за свой труд. Поэтому вопросы уровня оплаты труда, условий, в которых он протекает, соотношения рабочего времени и времени отдыха, если хотите – душевного комфорта, все проблемы социального обеспечения в самом широком смысле, формы, размер и условия предоставления которого напрямую зависят от результатов труда человека, являются важнейшими социальными факторами, которые могут либо укрепить общество, либо подействовать на его развитие деструктивно.

Существенным недостатком современного состояния трудовых отношений является отсутствие чёткого механизма реализации принципов, заложенных в законодательстве. Причин тому много. Это и недостаточно чёткое разделение решаемых вопросов по уровням нормативных актов, и нестыковка этих актов между собой, и отсутствие специальных органов и процедур, и недостаточный уровень юридической техники, и многое другое.

(А.М. Куренной)

- 21** Составьте план текста. Для этого выделите основные смысловые фрагменты текста и озаглавьте каждый из них.
- 22** В чём заключается специфика правового регулирования трудовых отношений? Как, по мнению автора, реализация права на труд влияет на развитие общества? На какие причины существенных недостатков в современном регулировании трудовых отношений указывает автор? (Укажите три причины.)
- 23** Как, по мнению автора, состояние правового регулирования трудовых отношений в России отражает специфику периода перехода к рыночной экономике? Какие вопросы, регулируемые трудовым правом, автор считает наиболее важными социальными факторами? Укажите два любых вопроса и объясните значение этих вопросов для социального благополучия общества.
- 24** Автор полагает, что право на труд относится к основным правам человека. Используя текст и обществоведческие знания, подтвердите двумя аргументами (объяснениями) необходимость активного участия государства в регулировании трудовых отношений.

Тренировочная работа №6 по ОБЩЕСТВОЗНАНИЮ

9 класс

24 апреля 2024 года

Вариант ОБ2390604

Выполнена: ФИО _____ класс _____

Инструкция по выполнению работы

Тренировочная работа включает в себя 24 задания: 16 заданий с кратким ответом и 8 заданий с развёрнутым ответом.

На выполнение тренировочной работы по обществознанию отводится 3 часа (180 минут).

Ответы к заданиям 2–4, 7–11, 13, 14, 16–18 записываются в виде одной цифры, которая соответствует номеру правильного ответа. Ответом к заданиям 15, 19 является последовательность цифр. Ответом к заданию 20 является слово (словосочетание). Ответы запишите в поле ответа в тексте работы без запятых, пробелов и прочих символов.

Задания 1, 5, 6, 12, 21–24 выполняются на отдельном чистом листе. Для выполнения заданий 21–24 необходимо: выбрать нужную информацию из текста, раскрыть (в том числе на примерах) его отдельные положения; соотнести сведения из текста со знаниями, полученными при изучении курса; применить имеющиеся знания для анализа социальных ситуаций; высказать и обосновать собственное мнение.

Ответы записываются яркими чёрными чернилами. Допускается использование гелевой или капиллярной ручки.

При выполнении заданий можно пользоваться черновиком. **Записи в черновике не учитываются при оценивании работы.**

Баллы, полученные Вами за выполненные задания, суммируются. Постарайтесь выполнить как можно больше заданий и набрать наибольшее количество баллов.

После завершения работы проверьте, чтобы ответ на каждое задание был записан под правильным номером.

Желаем успеха!

Для ответов на задания 1, 5, 6 и 12 используйте отдельные листы. Запишите сначала номер задания, а затем ответ к нему. Ответы записывайте чётко и разборчиво.

Ответами к заданиям 2–4, 7–11, 13–20 являются цифра, последовательность цифр или слово (словосочетание).

1 Какие два из перечисленных понятий используются для обозначения ветвей власти?

Распорядительная; исполнительная; военная; правовая; законодательная.

Выпишите соответствующие понятия и раскройте смысл любого одного из них.

Ответ запишите на отдельном листе, указав номер задания.

2 Какой из примеров иллюстрирует глобальные экологические проблемы?

- 1) быстрый рост населения в странах Азии и Африки
- 2) повышение уровня мирового океана
- 3) распространение короновиральной инфекции
- 4) обострение отношений между странами, обладающими ядерным оружием

Ответ:

3 Семён верит в возможность избавления людей от страданий через отказ от страстей и чрезмерных желаний, в возможность для человека обрести полный покой – нирвану. Он стремится не причинять зла любым живым существам, посещает религиозный комплекс, на территории которого установлены культовые сооружения в виде ступы. Последователем какой традиционной для России религии является Семён?

- 1) православное христианство
- 2) ислам
- 3) буддизм
- 4) иудаизм

Ответ:

4 Верны ли следующие суждения о массовой культуре?

А. Массовая культура создается преимущественно анонимными творцами.

Б. Массовая культура использует преимущественно простые и легко-доступные для понимания образы и сюжеты.

- 1) верно только А
- 2) верно только Б
- 3) верны оба суждения
- 4) оба суждения неверны

Ответ:

5 Рассмотрите фотографию.



Какая форма государственного правления может быть проиллюстрирована с помощью данной фотографии? Используя обществоведческие знания, факты общественной жизни и личный социальный опыт, сформулируйте два суждения о роли (значении) религии в данной форме государственного правления.

Кратко объясните каждое суждение.

Ответ запишите на отдельном листе, указав номер задания.

6 Анна получила сообщение от своей подруги Ирины о том, что та потеряла сумочку с телефоном, наличными деньгами и банковскими картами, находясь в другом городе на отдыхе. В сообщении содержалась просьба перечислить деньги на электронный кошелек знакомого Ирины с обещанием вернуть долг после возвращения с отдыха. В чём состоит опасность этой ситуации для личных финансов Анны? Как ей правильно поступить в такой ситуации?

Ответ запишите на отдельном листе, указав номер задания.

7 Что из перечисленного относится к характерным чертам плановой экономики?

- 1) большое влияние обычаев и традиций на экономическую деятельность
- 2) циклический характер развития экономики, сочетание периодов экономических подъёмов и экономических кризисов
- 3) государственная собственность на основные экономические ресурсы
- 4) преобладание натурального хозяйства

Ответ:

8 ООО «Волгатопливо» реализует автомобильный бензин. Какой из налогов, уплачиваемых данной организацией, относится к категории косвенных налогов?

- 1) налог на прибыль
- 2) налог на имущество организаций
- 3) таможенная пошлина на продажу бензина за рубеж
- 4) транспортный налог

Ответ:

9 Верны ли следующие суждения о безработице?

А. Безработица выражается в превышении предложения рабочей силы над спросом на рынке труда.

Б. Безработица имеет как отрицательные, так и положительные последствия для развития рыночной экономики.

- 1) верно только А
- 2) верно только Б
- 3) верны оба суждения
- 4) оба суждения неверны

Ответ:

10 Что из перечисленного является примером реализации хозяйственно-бытовой функции семьи?

- 1) покупка нового дома
- 2) поездка семьи на морской курорт для отдыха
- 3) проведение воспитательной беседы с детьми
- 4) решение о переводе детей на домашнее обучение

Ответ:

11 Верны ли следующие суждения о нуклеарной семье?

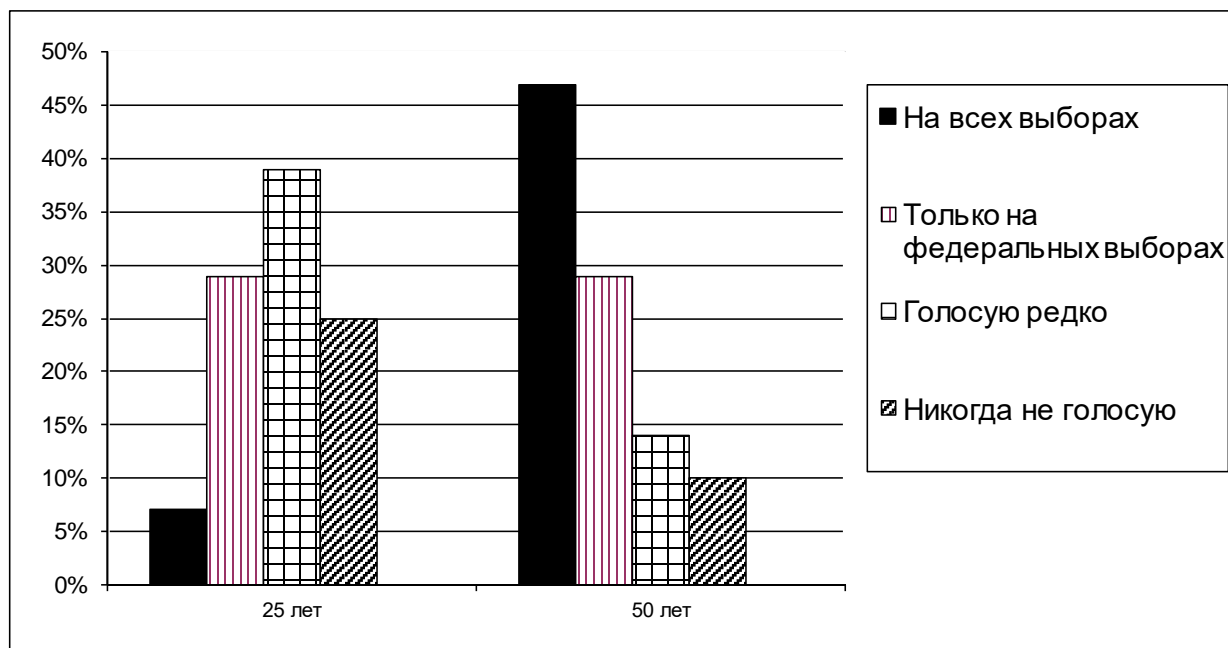
А. Нуклеарная семья может включать в себя представителей трёх поколений родственников.

Б. В постиндустриальном обществе нуклеарная семья является преобладающим типом семьи.

- 1) верно только А
- 2) верно только Б
- 3) верны оба суждения
- 4) оба суждения неверны

Ответ:

- 12** В ходе социологического опроса совершеннолетних жителей федеративного государства Z им задали вопрос: «Как часто Вы голосуете на выборах в органы государственной власти?» Его результаты отражены в гистограмме.



Сформулируйте по одному выводу: а) о сходстве; б) о различии в позициях групп опрошенных. Выскажите предположение о том, чем объясняются указанные Вами: а) сходство; б) различие.

Ответ запишите на отдельном листе, указав номер задания.

- 13** В государстве Z глава государства избирается по двухступенчатой системе: сначала граждане страны голосуют за выборщиков, коллегия которых затем избирает главу государства. Какой принцип демократических выборов нарушается в избирательной системе страны Z?

- 1) непосредственность
- 2) всеобщность
- 3) состязательность
- 4) тайное голосование

Ответ:

14 Верны ли следующие суждения о политических партиях?

А. Главной целью политических партий является достижение политической власти.

Б. Цели деятельности политической партии и способы их достижения отражаются в программе партии.

- 1) верно только А
- 2) верно только Б
- 3) верны оба суждения
- 4) оба суждения неверны

Ответ:

15 Установите соответствие между социальными статусами и их типами: к каждому элементу первого столбца подберите соответствующий элемент из второго столбца.

СОЦИАЛЬНЫЙ СТАТУС

- А) мужчина
- Б) супруг
- В) студент
- Г) ребёнок
- Д) учитель

ТИП СТАТУСА

- 1) предписанный
- 2) достигаемый

Запишите в таблицу выбранные цифры под соответствующими буквами.

Ответ:

А	Б	В	Г	Д

16 Согласно Конституции Российской Федерации Государственная Дума

- 1) назначает судей Конституционного суда
- 2) утверждает изменение границ между субъектами Российской Федерации
- 3) назначает выборы Президента
- 4) объявляет амнистию

Ответ:

17 Нина решила открыть счёт в банке и откладывать часть своих карманных денег для покупки планшетного компьютера. Однако сотрудник банка объяснил Нине, что она ещё не достигла возраста, позволяющего самостоятельно открывать счета в кредитных учреждениях. Сколько лет должно исполниться Нине, чтобы она смогла самостоятельно открыть счёт в банке?

- 1) 12
- 2) 14
- 3) 16
- 4) 18

Ответ:

18 Верны ли следующие суждения об административных правоотношениях?

А. Административные правоотношения складываются в процессе осуществления исполнительной власти.

Б. Административные правоотношения охватывают все основные сферы жизни общества.

- 1) верно только А
- 2) верно только Б
- 3) верны оба суждения
- 4) оба суждения неверны

Ответ:

19 Сравните особенности выборов и референдумов как форм волеизъявления народа в Российской Федерации. Выберите и запишите в первую колонку таблицы порядковые номера черт сходства, а во вторую колонку – порядковые номера черт различия.

- 1) Гарантируется тайна голосования граждан.
- 2) Предполагают непосредственное участие граждан в правотворчестве.
- 3) Являются инструментом представительной демократии.
- 4) Право на участие имеют все граждане, обладающие активным избирательным правом.

Ответ:

Черты сходства		Черты различия	

20

Заполните пропуск в таблице.

Форма духовной деятельности	Характеристика
Искусство	Форма духовной деятельности, направленная на освоение и создание эстетических ценностей
...	Форма духовной деятельности людей, направленная на производство знаний о природе, обществе и о самом познании, имеющая непосредственную цель постижения истины и открытия объективных законов

Ответ: _____.

Прочитайте текст и выполните задания 21–24. Для записи ответов на задания используйте отдельные листы. Запишите сначала номер задания, а затем развёрнутый ответ на него. Ответы записывайте чётко и разборчиво.

Главное предназначение культуры в человеческом обществе заключается в том, чтобы служить эффективным, надёжным инструментом накопления, сохранения и передачи многообразного опыта деятельности, познания и общения различных субъектов, социальных процессов и отношений.

В первую очередь, ведущей функцией культуры является приобщение людей, прежде всего подрастающего поколения, к культурному наследию предков, богатым историческим и духовным традициям своего народа и общечеловеческим ценностям. Показателем реализации этой функции применительно к личности выступает уровень её культурной социализации. Последняя выражается не только в общекультурной эрудиции, начитанности, владении иностранными языками, но и в уровне профессиональной, политической, экологической, семейной культуры, опирающихся на высокую нравственность человека.

Культура как система групповых символов и смыслов, действующих, прежде всего, в пределах этнической общности, объединяет её членов с помощью общего языка, имени, образа жизни, традиций и ценностей. Эта система знаков, отличающая одну культуру от другой, служит самосохранению данной культуры, в том числе противостоянию влиянию другой, господствующей в стране культуры. Благодаря сплочению членов определённых социальных сообществ, национально-этнических, религиозных, политических структур, подобного рода группы сохраняют свою целостность, самобытность. Однако не следует преувеличивать значение этой функции, так как эти «культурные продукты» могут приводить к чрезмерному обособлению, разъединению и конфликтам.

Совершенно необходима в социальном общении людей регулятивная функция культуры, которая определяет общественно признанные и приемлемые рамки социального взаимодействия. Выход за пределы социального и культурного пространства влечёт за собой применение различных санкций официального и неформального характера, которые приводит в исполнение «машина» социального контроля.

(Г.Н. Нурышев, Д.С. Бразевич)

21 Составьте план текста. Для этого выделите основные смысловые фрагменты текста и озаглавьте каждый из них.

22 В чём авторы видят главное предназначение культуры? Что авторы считают ведущей функцией культуры? В чём, по мнению авторов, выражается культурная социализация человека? (Назовите два показателя.)

23 На какие негативные последствия влияния «культурных продуктов» указывает автор? Назовите два любых вида социальных конфликтов, в основе которых лежат культурные различия. В каждом случае укажите, какие именно культурные различия способствуют началу конфликта.

24 Авторы подчёркивают роль культуры в регулировании социальных отношений. Используя текст и обществоведческие знания, подтвердите двумя аргументами (объяснениями) тесную взаимосвязь культуры и социального контроля.