

**Задача 1**

В амфитеатре 10 рядов. В первом ряду 25 мест, а в каждом следующем на 3 места больше, чем в предыдущем. Сколько мест в восьмом ряду амфитеатра?

**Задача 2**

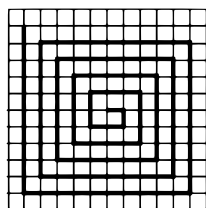
В ходе распада радиоактивного изотопа его масса уменьшается вдвое каждые 7 минут. В начальный момент масса изотопа составляла 640 мг. Найдите массу изотопа через 42 минуты. Ответ дайте в миллиграммах.

**Задача 3**

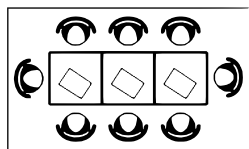
В ходе биологического эксперимента в чашку Петри с питательной средой поместили колонию микроорганизмов массой 13 мг. За каждые 30 минут масса колонии увеличивается в 3 раза. Найдите массу колонии микроорганизмов через 90 минут после начала эксперимента. Ответ дайте в миллиграммах.

**Задача 4**

В ходе бета-распада радиоактивного изотопа А каждые 8 минут половина его атомов без потери массы преобразуются в атомы стабильного изотопа Б. В начальный момент масса изотопа А составляла 160 мг. Найдите массу образовавшегося изотопа Б через 40 минут. Ответ дайте в миллиграммах.

**Задача 5**

На клетчатой бумаге с размером клетки  $1 \times 1$  нарисована «змейка», представляющая из себя ломаную, состоящую из чётного числа звеньев, идущих по линиям сетки. На рисунке изображён случай, когда последнее звено имеет длину 10. Найдите длину ломаной, построенной аналогичным образом, последнее звено которой имеет длину 120.

**Задача 6**

В кафе есть только квадратные столики, за каждый из которых могут сесть 4 человека. Если сдвинуть два квадратных столика, то получится стол, за который могут сесть 6 человек. На рисунке изображён случай, когда сдвинули 3 квадратных столика вдоль одной линии. В этом случае получился стол, за который могут сесть 8 человек. Сколько человек может сесть за стол, который получится, если сдвинуть 16 квадратных столиков вдоль одной линии?

**Задача 7**

При проведении опыта вещество равномерно охлаждали в течение 10 минут. При этом каждую минуту температура вещества уменьшалась на  $6^\circ\text{C}$ . Найдите температуру вещества (в градусах Цельсия) через 4 минуты после начала проведения опыта, если его начальная температура составляла  $-7^\circ\text{C}$ .

**Задача 8**

У Тани есть теннисный мячик. Она со всей силы бросила его об асфальт. После первого отскока мячик подлетел на высоту 360 см, а после каждого следующего отскока от асфальта подлетал на высоту в три раза меньше предыдущей. После какого по счёту отскока высота, на которую подлетит мячик, станет меньше 15 см?

**Задача 9**

Камень бросают в глубокое ущелье. При этом в первую секунду он пролетает 9 метров, а в каждую следующую секунду на 10 метров больше, чем в предыдущую, до тех пор, пока не достигнет дна ущелья. Сколько метров пролетит камень за первые пять секунд?

**Задача 1**

В амфитеатре 14 рядов. В первом ряду 20 мест, а в каждом следующем на 3 места больше, чем в предыдущем. Сколько мест в десятом ряду амфитеатра?

**Задача 2**

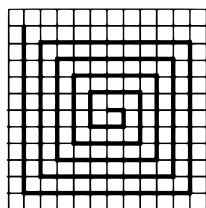
В ходе распада радиоактивного изотопа его масса уменьшается вдвое каждые 6 минут. В начальный момент масса изотопа составляла 640 мг. Найдите массу изотопа через 42 минуты. Ответ дайте в миллиграммах.

**Задача 3**

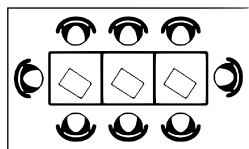
В ходе биологического эксперимента в чашку Петри с питательной средой поместили колонию микроорганизмов массой 18 мг. За каждые 20 минут масса колонии увеличивается в 3 раза. Найдите массу колонии микроорганизмов через 60 минут после начала эксперимента. Ответ дайте в миллиграммах.

**Задача 4**

В ходе бета-распада радиоактивного изотопа А каждые 9 минут половина его атомов без потери массы преобразуются в атомы стабильного изотопа Б. В начальный момент масса изотопа А составляла 400 мг. Найдите массу образовавшегося изотопа Б через 36 минут. Ответ дайте в миллиграммах.

**Задача 5**

На клетчатой бумаге с размером клетки  $1 \times 1$  нарисована «змейка», представляющая из себя ломаную, состоящую из чётного числа звеньев, идущих по линиям сетки. На рисунке изображён случай, когда последнее звено имеет длину 10. Найдите длину ломаной, построенной аналогичным образом, последнее звено которой имеет длину 190.

**Задача 6**

В кафе есть только квадратные столики, за каждый из которых могут сесть 4 человека. Если сдвинуть два квадратных столика, то получится стол, за который могут сесть 6 человек. На рисунке изображён случай, когда сдвинули 3 квадратных столика вдоль одной линии. В этом случае получился стол, за который могут сесть 8 человек. Сколько человек может сесть за стол, который получится, если сдвинуть 21 квадратный столик вдоль одной линии?

**Задача 7**

При проведении опыта вещество равномерно охлаждали в течение 10 минут. При этом каждую минуту температура вещества уменьшалась на  $9^\circ\text{C}$ . Найдите температуру вещества (в градусах Цельсия) через 4 минуты после начала проведения опыта, если его начальная температура составляла  $-5^\circ\text{C}$ .

**Задача 8**

У Кати есть попрыгунчик (каучуковый шарик). Она со всей силы бросила его об асфальт. После первого отскока попрыгунчик подлетел на высоту 400 см, а после каждого следующего отскока от асфальта подлетал на высоту в два раза меньше предыдущей. После какого по счёту отскока высота, на которую подлетит попрыгунчик, станет меньше 20 см?

**Задача 9**

Камень бросают в глубокое ущелье. При этом в первую секунду он пролетает 8 метров, а в каждую следующую секунду на 10 метров больше, чем в предыдущую, до тех пор, пока не достигнет дна ущелья. Сколько метров пролетит камень за первые шесть секунд?

**Задача 1**

В амфитеатре 11 рядов. В первом ряду 16 мест, а в каждом следующем на 3 места больше, чем в предыдущем. Сколько всего мест в амфитеатре?

**Задача 2**

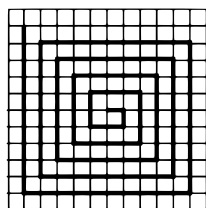
В ходе распада радиоактивного изотопа его масса уменьшается вдвое каждые 7 минут. В начальный момент масса изотопа составляла 160 мг. Найдите массу изотопа через 28 минут. Ответ дайте в миллиграммах.

**Задача 3**

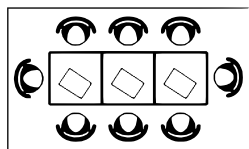
В ходе биологического эксперимента в чашку Петри с питательной средой поместили колонию микроорганизмов массой 10 мг. За каждые 30 минут масса колонии увеличивается в 3 раза. Найдите массу колонии микроорганизмов через 150 минут после начала эксперимента. Ответ дайте в миллиграммах.

**Задача 4**

В ходе бета-распада радиоактивного изотопа А каждые 9 минут половина его атомов без потери массы преобразуются в атомы стабильного изотопа Б. В начальный момент масса изотопа А составляла 640 мг. Найдите массу образовавшегося изотопа Б через 45 минут. Ответ дайте в миллиграммах.

**Задача 5**

На клетчатой бумаге с размером клетки  $1 \times 1$  нарисована «змейка», представляющая из себя ломаную, состоящую из чётного числа звеньев, идущих по линиям сетки. На рисунке изображён случай, когда последнее звено имеет длину 10. Найдите длину ломаной, построенной аналогичным образом, последнее звено которой имеет длину 160.

**Задача 6**

В кафе есть только квадратные столики, за каждый из которых могут сесть 4 человека. Если сдвинуть два квадратных столика, то получится стол, за который могут сесть 6 человек. На рисунке изображён случай, когда сдвинули 3 квадратных столика вдоль одной линии. В этом случае получился стол, за который могут сесть 8 человек. Сколько человек может сесть за стол, который получится, если сдвинуть 19 квадратных столиков вдоль одной линии?

**Задача 7**

При проведении опыта вещество равномерно охлаждали в течение 10 минут. При этом каждую минуту температура вещества уменьшалась на  $5^\circ\text{C}$ . Найдите температуру вещества (в градусах Цельсия) через 9 минут после начала проведения опыта, если его начальная температура составляла  $-8^\circ\text{C}$ .

**Задача 8**

У Светы есть попрыгунчик (каучуковый шарик). Она со всей силы бросила его об асфальт. После первого отскока попрыгунчик подлетел на высоту 560 см, а после каждого следующего отскока от асфальта подлетал на высоту в два раза меньше предыдущей. После какого по счёту отскока высота, на которую подлетит попрыгунчик, станет меньше 20 см?

**Задача 9**

Камень бросают в глубокое ущелье. При этом в первую секунду он пролетает 15 метров, а в каждую следующую секунду на 10 метров больше, чем в предыдущую, до тех пор, пока не достигнет дна ущелья. Сколько метров пролетит камень за первые четыре секунды?

**Задача 1**

В амфитеатре 11 рядов. В первом ряду 17 мест, а в каждом следующем на 3 места больше, чем в предыдущем. Сколько всего мест в амфитеатре?

**Задача 2**

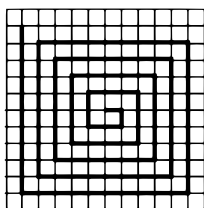
В ходе распада радиоактивного изотопа его масса уменьшается вдвое каждые 8 минут. В начальный момент масса изотопа составляла 320 мг. Найдите массу изотопа через 40 минут. Ответ дайте в миллиграммах.

**Задача 3**

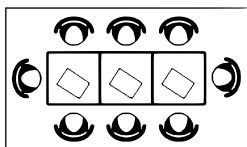
В ходе биологического эксперимента в чашку Петри с питательной средой поместили колонию микроорганизмов массой 3 мг. За каждые 20 минут масса колонии увеличивается в 3 раза. Найдите массу колонии микроорганизмов через 80 минут после начала эксперимента. Ответ дайте в миллиграммах.

**Задача 4**

В ходе бета-распада радиоактивного изотопа А каждые 7 минут половина его атомов без потери массы преобразуются в атомы стабильного изотопа Б. В начальный момент масса изотопа А составляла 640 мг. Найдите массу образовавшегося изотопа Б через 42 минуты. Ответ дайте в миллиграммах.

**Задача 5**

На клетчатой бумаге с размером клетки  $1 \times 1$  нарисована «змейка», представляющая из себя ломаную, состоящую из чётного числа звеньев, идущих по линиям сетки. На рисунке изображён случай, когда последнее звено имеет длину 10. Найдите длину ломаной, построенной аналогичным образом, последнее звено которой имеет длину 100.

**Задача 6**

В кафе есть только квадратные столики, за каждый из которых могут сесть 4 человека. Если сдвинуть два квадратных столика, то получится стол, за который могут сесть 6 человек. На рисунке изображён случай, когда сдвинули 3 квадратных столика вдоль одной линии. В этом случае получился стол, за который могут сесть 8 человек. Сколько человек может сесть за стол, который получится, если сдвинуть 20 квадратных столиков вдоль одной линии?

**Задача 7**

При проведении опыта вещество равномерно охлаждали в течение 10 минут. При этом каждую минуту температура вещества уменьшалась на  $8^\circ\text{C}$ . Найдите температуру вещества (в градусах Цельсия) через 6 минут после начала проведения опыта, если его начальная температура составляла  $-6^\circ\text{C}$ .

**Задача 8**

У Ани есть теннисный мячик. Она со всей силы бросила его об асфальт. После первого отскока мячик подлетел на высоту 630 см, а после каждого следующего отскока от асфальта подлетал на высоту в три раза меньше предыдущей. После какого по счёту отскока высота, на которую подлетит мячик, станет меньше 25 см?

**Задача 9**

Камень бросают в глубокое ущелье. При этом в первую секунду он пролетает 7 метров, а в каждую следующую секунду на 10 метров больше, чем в предыдущую, до тех пор, пока не достигнет дна ущелья. Сколько метров пролетит камень за первые шесть секунд?

**Задача 1**

В амфитеатре 12 рядов. В первом ряду 21 место, а в каждом следующем на 2 места больше, чем в предыдущем. Сколько мест в одиннадцатом ряду амфитеатра?

**Задача 2**

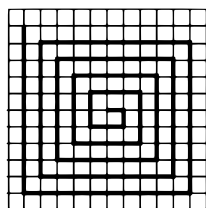
В ходе распада радиоактивного изотопа его масса уменьшается вдвое каждые 8 минут. В начальный момент масса изотопа составляла 160 мг. Найдите массу изотопа через 40 минут. Ответ дайте в миллиграммах.

**Задача 3**

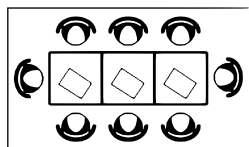
В ходе биологического эксперимента в чашку Петри с питательной средой поместили колонию микроорганизмов массой 8 мг. За каждые 20 минут масса колонии увеличивается в 3 раза. Найдите массу колонии микроорганизмов через 80 минут после начала эксперимента. Ответ дайте в миллиграммах.

**Задача 4**

В ходе бета-распада радиоактивного изотопа А каждые 8 минут половина его атомов без потери массы преобразуются в атомы стабильного изотопа Б. В начальный момент масса изотопа А составляла 480 мг. Найдите массу образовавшегося изотопа Б через 32 минут. Ответ дайте в миллиграммах.

**Задача 5**

На клетчатой бумаге с размером клетки  $1 \times 1$  нарисована «змейка», представляющая из себя ломаную, состоящую из чётного числа звеньев, идущих по линиям сетки. На рисунке изображён случай, когда последнее звено имеет длину 10. Найдите длину ломаной, построенной аналогичным образом, последнее звено которой имеет длину 170.

**Задача 6**

В кафе есть только квадратные столики, за каждый из которых могут сесть 4 человека. Если сдвинуть два квадратных столика, то получится стол, за который могут сесть 6 человек. На рисунке изображён случай, когда сдвинули 3 квадратных столика вдоль одной линии. В этом случае получился стол, за который могут сесть 8 человек. Сколько человек может сесть за стол, который получится, если сдвинуть 18 квадратных столиков вдоль одной линии?

**Задача 7**

При проведении опыта вещество равномерно охлаждали в течение 10 минут. При этом каждую минуту температура вещества уменьшалась на  $5^\circ\text{C}$ . Найдите температуру вещества (в градусах Цельсия) через 7 минут после начала проведения опыта, если его начальная температура составляла  $-9^\circ\text{C}$ .

**Задача 8**

У Алины есть попрыгунчик (каучуковый шарик). Она со всей силы бросила его об асфальт. После первого отскока попрыгунчик подлетел на высоту 360 см, а после каждого следующего отскока от асфальта подлетал на высоту в два раза меньше предыдущей. После какого по счёту отскока высота, на которую подлетит попрыгунчик, станет меньше 25 см?

**Задача 9**

Камень бросают в глубокое ущелье. При этом в первую секунду он пролетает 11 метров, а в каждую следующую секунду на 10 метров больше, чем в предыдущую, до тех пор, пока не достигнет дна ущелья. Сколько метров пролетит камень за первые пять секунд?

**Задача 1**

В амфитеатре 16 рядов. В первом ряду 19 мест, а в каждом следующем на 2 места больше, чем в предыдущем. Сколько мест в тринадцатом ряду амфитеатра?

**Задача 2**

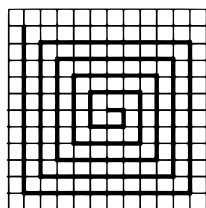
В ходе распада радиоактивного изотопа его масса уменьшается вдвое каждые 9 минут. В начальный момент масса изотопа составляла 400 мг. Найдите массу изотопа через 36 минут. Ответ дайте в миллиграммах.

**Задача 3**

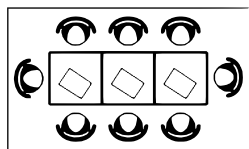
В ходе биологического эксперимента в чашку Петри с питательной средой поместили колонию микроорганизмов массой 17 мг. За каждые 20 минут масса колонии увеличивается в 3 раза. Найдите массу колонии микроорганизмов через 60 минут после начала эксперимента. Ответ дайте в миллиграммах.

**Задача 4**

В ходе бета-распада радиоактивного изотопа А каждые 7 минут половина его атомов без потери массы преобразуются в атомы стабильного изотопа Б. В начальный момент масса изотопа А составляла 160 мг. Найдите массу образовавшегося изотопа Б через 28 минут. Ответ дайте в миллиграммах.

**Задача 5**

На клетчатой бумаге с размером клетки  $1 \times 1$  нарисована «змейка», представляющая из себя ломаную, состоящую из чётного числа звеньев, идущих по линиям сетки. На рисунке изображён случай, когда последнее звено имеет длину 10. Найдите длину ломаной, построенной аналогичным образом, последнее звено которой имеет длину 130.

**Задача 6**

В кафе есть только квадратные столики, за каждый из которых могут сесть 4 человека. Если сдвинуть два квадратных столика, то получится стол, за который могут сесть 6 человек. На рисунке изображён случай, когда сдвинули 3 квадратных столика вдоль одной линии. В этом случае получился стол, за который могут сесть 8 человек. Сколько человек может сесть за стол, который получится, если сдвинуть 15 квадратных столиков вдоль одной линии?

**Задача 7**

При проведении опыта вещество равномерно охлаждали в течение 10 минут. При этом каждую минуту температура вещества уменьшалась на  $9^\circ\text{C}$ . Найдите температуру вещества (в градусах Цельсия) через 6 минут после начала проведения опыта, если его начальная температура составляла  $-6^\circ\text{C}$ .

**Задача 8**

У Лены есть попрыгунчик (каучуковый шарик). Она со всей силы бросила его об асфальт. После первого отскока попрыгунчик подлетел на высоту 320 см, а после каждого следующего отскока от асфальта подлетал на высоту в два раза меньше предыдущей. После какого по счёту отскока высота, на которую подлетит попрыгунчик, станет меньше 7 см?

**Задача 9**

Камень бросают в глубокое ущелье. При этом в первую секунду он пролетает 14 метров, а в каждую следующую секунду на 10 метров больше, чем в предыдущую, до тех пор, пока не достигнет дна ущелья. Сколько метров пролетит камень за первые четыре секунды?

**Задача 1**

В амфитеатре 14 рядов, причём в каждом следующем ряду на одно и то же число мест больше, чем в предыдущем. В пятом ряду 27 мест, а в восьмом ряду 36 мест. Сколько мест в последнем ряду амфитеатра?

**Задача 2**

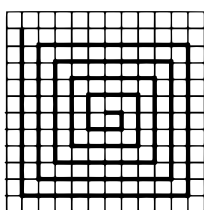
В ходе распада радиоактивного изотопа его масса уменьшается вдвое каждые 8 минут. В начальный момент масса изотопа составляла 320 мг. Найдите массу изотопа через 48 минут. Ответ дайте в миллиграммах.

**Задача 3**

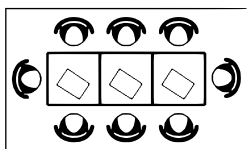
В ходе биологического эксперимента в чашку Петри с питательной средой поместили колонию микроорганизмов массой 14 мг. За каждые 30 минут масса колонии увеличивается в 3 раза. Найдите массу колонии микроорганизмов через 90 минут после начала эксперимента. Ответ дайте в миллиграммах.

**Задача 4**

В ходе бета-распада радиоактивного изотопа А каждые 9 минут половина его атомов без потери массы преобразуются в атомы стабильного изотопа Б. В начальный момент масса изотопа А составляла 320 мг. Найдите массу образовавшегося изотопа Б через 54 минуты. Ответ дайте в миллиграммах.

**Задача 5**

На клетчатой бумаге с размером клетки  $1 \times 1$  нарисована «змейка», представляющая из себя ломаную, состоящую из чётного числа звеньев, идущих по линиям сетки. На рисунке изображён случай, когда последнее звено имеет длину 10. Найдите длину ломаной, построенной аналогичным образом, последнее звено которой имеет длину 150.

**Задача 6**

В кафе есть только квадратные столики, за каждый из которых могут сесть 4 человека. Если сдвинуть два квадратных столика, то получится стол, за который могут сесть 6 человек. На рисунке изображён случай, когда сдвинули 3 квадратных столика вдоль одной линии. В этом случае получился стол, за который могут сесть 8 человек. Сколько человек может сесть за стол, который получится, если сдвинуть 23 квадратных столика вдоль одной линии?

**Задача 7**

При проведении опыта вещество равномерно охлаждали в течение 10 минут. При этом каждую минуту температура вещества уменьшалась на  $7^\circ\text{C}$ . Найдите температуру вещества (в градусах Цельсия) через 5 минут после начала проведения опыта, если его начальная температура составляла  $-7^\circ\text{C}$ .

**Задача 8**

У Юли есть теннисный мячик. Она со всей силы бросила его об асфальт. После первого отскока мячик подлетел на высоту 450 см, а после каждого следующего отскока от асфальта подлетал на высоту в три раза меньше предыдущей. После какого по счёту отскока высота, на которую подлетит мячик, станет меньше 20 см?

**Задача 9**

Камень бросают в глубокое ущелье. При этом в первую секунду он пролетает 11 метров, а в каждую следующую секунду на 10 метров больше, чем в предыдущую, до тех пор, пока не достигнет дна ущелья. Сколько метров пролетит камень за первые четыре секунды?

**Задача 1**

В амфитеатре 10 рядов. В первом ряду 19 мест, а в каждом следующем на 3 места больше, чем в предыдущем. Сколько всего мест в амфитеатре?

**Задача 2**

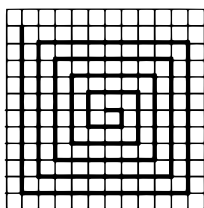
В ходе распада радиоактивного изотопа его масса уменьшается вдвое каждые 9 минут. В начальный момент масса изотопа составляла 640 мг. Найдите массу изотопа через 45 минут. Ответ дайте в миллиграммах.

**Задача 3**

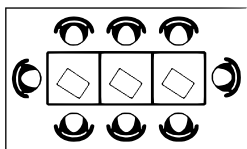
В ходе биологического эксперимента в чашку Петри с питательной средой поместили колонию микроорганизмов массой 4 мг. За каждые 30 минут масса колонии увеличивается в 3 раза. Найдите массу колонии микроорганизмов через 120 минут после начала эксперимента. Ответ дайте в миллиграммах.

**Задача 4**

В ходе бета-распада радиоактивного изотопа А каждые 7 минут половина его атомов без потери массы преобразуются в атомы стабильного изотопа Б. В начальный момент масса изотопа А составляла 480 мг. Найдите массу образовавшегося изотопа Б через 35 минут. Ответ дайте в миллиграммах.

**Задача 5**

На клетчатой бумаге с размером клетки  $1 \times 1$  нарисована «змейка», представляющая из себя ломаную, состоящую из чётного числа звеньев, идущих по линиям сетки. На рисунке изображён случай, когда последнее звено имеет длину 10. Найдите длину ломаной, построенной аналогичным образом, последнее звено которой имеет длину 180.

**Задача 6**

В кафе есть только квадратные столики, за каждый из которых могут сесть 4 человека. Если сдвинуть два квадратных столика, то получится стол, за который могут сесть 6 человек. На рисунке изображён случай, когда сдвинули 3 квадратных столика вдоль одной линии. В этом случае получился стол, за который могут сесть 8 человек. Сколько человек может сесть за стол, который получится, если сдвинуть 24 квадратных столика вдоль одной линии?

**Задача 7**

При проведении опыта вещество равномерно охлаждали в течение 10 минут. При этом каждую минуту температура вещества уменьшалась на  $8^\circ\text{C}$ . Найдите температуру вещества (в градусах Цельсия) через 7 минут после начала проведения опыта, если его начальная температура составляла  $-6^\circ\text{C}$ .

**Задача 8**

У Ксюши есть попрыгунчик (каучуковый шарик). Она со всей силы бросила его об асфальт. После первого отскока попрыгунчик подлетел на высоту 480 см, а после каждого следующего отскока от асфальта подлетал на высоту в два раза меньше предыдущей. После какого по счёту отскока высота, на которую подлетит попрыгунчик, станет меньше 10 см?

**Задача 9**

Камень бросают в глубокое ущелье. При этом в первую секунду он пролетает 13 метров, а в каждую следующую секунду на 10 метров больше, чем в предыдущую, до тех пор, пока не достигнет дна ущелья. Сколько метров пролетит камень за первые пять секунд?



**Задача 1**

В амфитеатре 13 рядов. В первом ряду 23 места, а в каждом следующем на 3 места больше, чем в предыдущем. Сколько мест в десятом ряду амфитеатра?

**Задача 2**

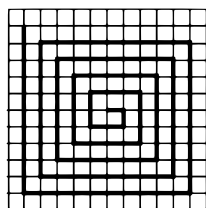
В ходе распада радиоактивного изотопа его масса уменьшается вдвое каждые 9 минут. В начальный момент масса изотопа составляла 320 мг. Найдите массу изотопа через 63 минуты. Ответ дайте в миллиграммах.

**Задача 3**

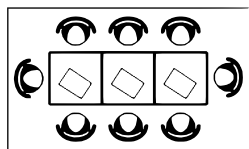
В ходе биологического эксперимента в чашку Петри с питательной средой поместили колонию микроорганизмов массой 16 мг. За каждые 20 минут масса колонии увеличивается в 3 раза. Найдите массу колонии микроорганизмов через 60 минут после начала эксперимента. Ответ дайте в миллиграммах.

**Задача 4**

В ходе бета-распада радиоактивного изотопа А каждые 7 минут половина его атомов без потери массы преобразуются в атомы стабильного изотопа Б. В начальный момент масса изотопа А составляла 640 мг. Найдите массу образовавшегося изотопа Б через 49 минут. Ответ дайте в миллиграммах.

**Задача 5**

На клетчатой бумаге с размером клетки  $1 \times 1$  нарисована «змейка», представляющая из себя ломаную, состоящую из чётного числа звеньев, идущих по линиям сетки. На рисунке изображён случай, когда последнее звено имеет длину 10. Найдите длину ломаной, построенной аналогичным образом, последнее звено которой имеет длину 140.

**Задача 6**

В кафе есть только квадратные столики, за каждый из которых могут сесть 4 человека. Если сдвинуть два квадратных столика, то получится стол, за который могут сесть 6 человек. На рисунке изображён случай, когда сдвинули 3 квадратных столика вдоль одной линии. В этом случае получился стол, за который могут сесть 8 человек. Сколько человек может сесть за стол, который получится, если сдвинуть 17 квадратных столиков вдоль одной линии?

**Задача 7**

При проведении опыта вещество равномерно охлаждали в течение 10 минут. При этом каждую минуту температура вещества уменьшалась на  $6^\circ\text{C}$ . Найдите температуру вещества (в градусах Цельсия) через 7 минут после начала проведения опыта, если его начальная температура составляла  $-9^\circ\text{C}$ .

**Задача 8**

У Кати есть теннисный мячик. Она со всей силы бросила его об асфальт. После первого отскока мячик подлетел на высоту 540 см, а после каждого следующего отскока от асфальта подлетал на высоту в три раза меньше предыдущей. После какого по счёту отскока высота, на которую подлетит мячик, станет меньше 10 см?

**Задача 9**

Камень бросают в глубокое ущелье. При этом в первую секунду он пролетает 12 метров, а в каждую следующую секунду на 10 метров больше, чем в предыдущую, до тех пор, пока не достигнет дна ущелья. Сколько метров пролетит камень за первые четыре секунды?

**Задача 1**

В амфитеатре 16 рядов, причём в каждом следующем ряду на одно и то же число мест больше, чем в предыдущем. В четвёртом ряду 23 места, а в восьмом ряду 35 мест. Сколько мест в последнем ряду амфитеатра?

**Задача 2**

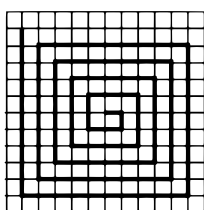
В ходе распада радиоактивного изотопа его масса уменьшается вдвое каждые 8 минут. В начальный момент масса изотопа составляла 200 мг. Найдите массу изотопа через 32 минуты. Ответ дайте в миллиграммах.

**Задача 3**

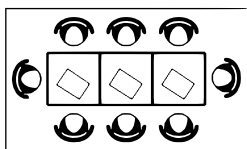
В ходе биологического эксперимента в чашку Петри с питательной средой поместили колонию микроорганизмов массой 5 мг. За каждые 30 минут масса колонии увеличивается в 3 раза. Найдите массу колонии микроорганизмов через 120 минут после начала эксперимента. Ответ дайте в миллиграммах.

**Задача 4**

В ходе бета-распада радиоактивного изотопа А каждые 8 минут половина его атомов без потери массы преобразуются в атомы стабильного изотопа Б. В начальный момент масса изотопа А составляла 320 мг. Найдите массу образовавшегося изотопа Б через 40 минут. Ответ дайте в миллиграммах.

**Задача 5**

На клетчатой бумаге с размером клетки  $1 \times 1$  нарисована «змейка», представляющая из себя ломаную, состоящую из чётного числа звеньев, идущих по линиям сетки. На рисунке изображён случай, когда последнее звено имеет длину 10. Найдите длину ломаной, построенной аналогичным образом, последнее звено которой имеет длину 110.

**Задача 6**

В кафе есть только квадратные столики, за каждый из которых могут сесть 4 человека. Если сдвинуть два квадратных столика, то получится стол, за который могут сесть 6 человек. На рисунке изображён случай, когда сдвинули 3 квадратных столика вдоль одной линии. В этом случае получился стол, за который могут сесть 8 человек. Сколько человек может сесть за стол, который получится, если сдвинуть 22 квадратных столика вдоль одной линии?

**Задача 7**

При проведении опыта вещество равномерно охлаждали в течение 10 минут. При этом каждую минуту температура вещества уменьшалась на  $7^\circ\text{C}$ . Найдите температуру вещества (в градусах Цельсия) через 6 минут после начала проведения опыта, если его начальная температура составляла  $-8^\circ\text{C}$ .

**Задача 8**

У Яны есть попрыгунчик (каучуковый шарик). Она со всей силы бросила его об асфальт. После первого отскока попрыгунчик подлетел на высоту 240 см, а после каждого следующего отскока от асфальта подлетал на высоту в два раза меньше предыдущей. После какого по счёту отскока высота, на которую подлетит попрыгунчик, станет меньше 5 см?

**Задача 9**

Камень бросают в глубокое ущелье. При этом в первую секунду он пролетает 6 метров, а в каждую следующую секунду на 10 метров больше, чем в предыдущую, до тех пор, пока не достигнет дна ущелья. Сколько метров пролетит камень за первые пять секунд?