

ВСЕРОССИЙСКАЯ ПРОВЕРОЧНАЯ РАБОТА
БИОЛОГИЯ
11 КЛАСС

Инструкция по выполнению работы

Проверочная работа состоит из одной части и включает в себя 14 заданий. На выполнение работы по биологии отводится 1 час 30 минут (90 минут).

Ответом к заданиям является последовательность цифр, число, слово (словосочетание) или короткий свободный ответ, который записывается в отведённом для этого месте работы. В случае записи неверного ответа зачеркните его и запишите рядом **новый**.

При выполнении заданий Вы можете пользоваться черновиком. Записи в черновике не учитываются при оценивании работы. Советуем выполнять задания в том порядке, в котором они даны. Для экономии времени пропускайте задание, которое не удаётся выполнить сразу, и переходите к следующему. Если после выполнения всей работы у Вас останется время, Вы сможете вернуться к пропущенным заданиям.

Баллы, полученные Вами за выполненные задания, суммируются.

Постарайтесь выполнить как можно больше заданий и набрать наибольшее количество баллов.

Желаем успеха!

Таблица для внесения баллов участника

Номер задания	1.1	1.2	2.1	2.2	2.3	3	4	5	6.1	6.2	7	8	9	10.1	10.2	11.1	11.2	12.1	12.2	
Баллы																				

Номер задания	12.3	13	14	Сумма баллов	Отметка за работу
Баллы					

1

На рисунке изображены связи растения с окружающей средой.



1.1. Какое свойство живых систем иллюстрируют эти связи?

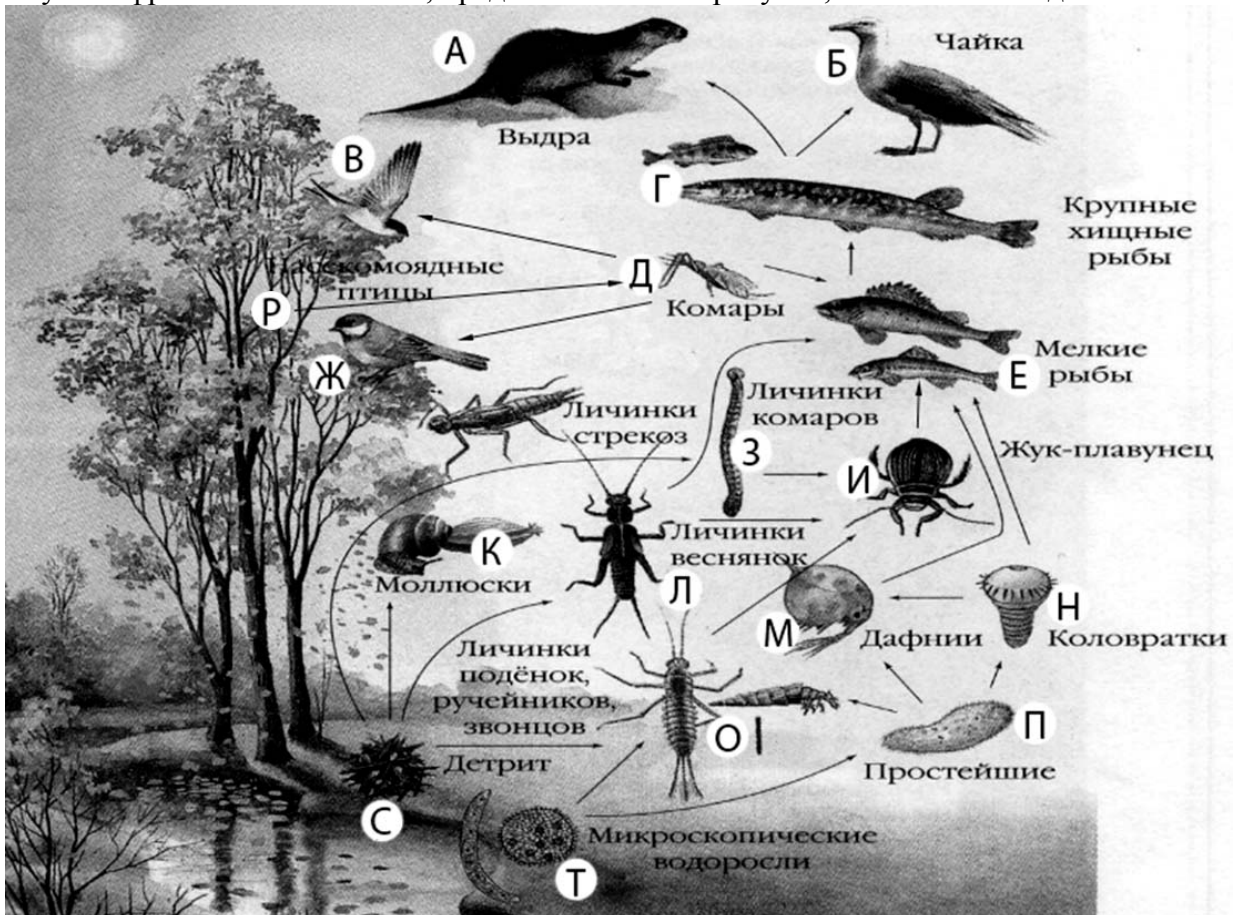
Ответ: _____

1.2. Приведите пример процесса, иллюстрирующего подобное свойство у человека.

Ответ: _____

2

Изучите фрагмент экосистемы, представленный на рисунке, и выполните задания.



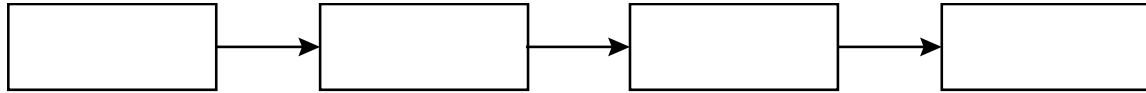
2.1. Выберите из приведённого ниже списка два понятия или термина, которые можно использовать для **экологического описания чайки** в экосистеме.

- 1) консумент
- 2) паразит
- 3) плотоядное животное
- 4) детритофаг
- 5) редуцент

Ответ:

--	--

2.2. Составьте пищевую цепь из четырёх организмов, в которую входит выдра. В ответе запишите последовательность букв.

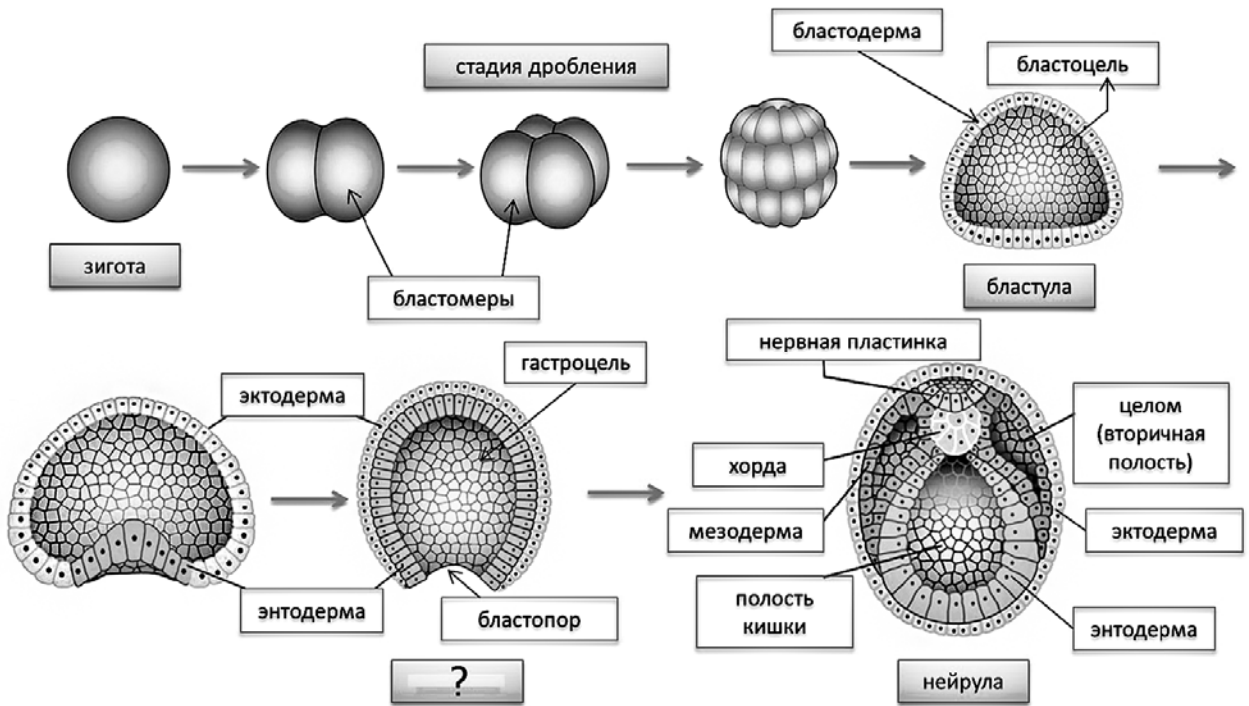


2.3. Правило гласит: «только 10% энергии поступает от каждого предыдущего трофического уровня к последующему». Рассчитайте величину запасённой в мёртвых органических остатках энергии (в кДж), если на уровень личинок комара перешло 8700 кДж. Объясните свои расчёты.

Ответ: _____

3

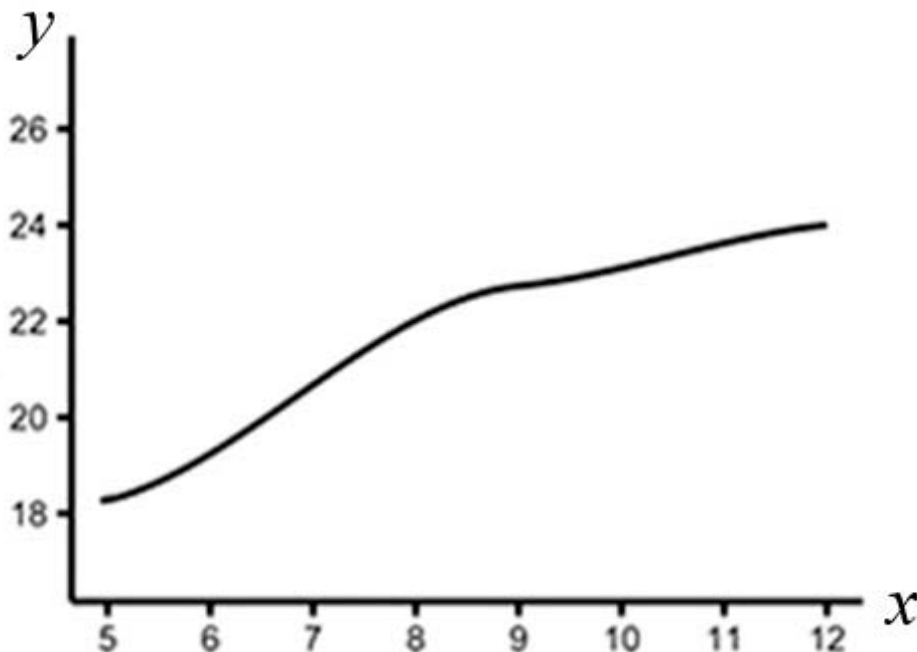
Рассмотрите рисунок, на котором представлена схема эмбриогенеза ланцетника. Название какой его стадии должно быть написано на месте вопросительного знака?



Ответ: _____

4

Семён Григорьевич изучал зависимость мышечной массы мышей от их возраста. Он оценивал мышечную массу мышей разного возраста, живших в одинаковых условиях и получавших одинаковое питание. По результатам исследования Семён Григорьевич построил график (по оси x отложен возраст (в неделях), а по оси y – мышечная масса (в г)).



Опишите, как меняется скорость увеличения мышечной массы мышей.

Ответ: _____

5

Установите последовательность соподчинения элементов биологических систем, начиная с наименьшего.

Элементы:

- 1) проводящий сосуд
- 2) лист
- 3) побег
- 4) жилка
- 5) проводящая ткань
- 6) липа

Запишите в таблицу соответствующую последовательность цифр.

Ответ:

--	--	--	--	--	--

6

6.1. Углеводы выполняют важные функции в организме человека и животных. Основная функция углеводов – энергетическая. Энергетическую функцию выполняют прежде всего глюкоза, фруктоза, сахароза, а также крахмал и гликоген. Целлюлоза, гемицеллюлоза, пектиновые вещества играют очень важную роль в питании, их волокна стимулируют перистальтику желудочно-кишечного тракта, адсорбируют токсические вещества и холестерин, обеспечивают оптимальные условия для жизнедеятельности нормальной микрофлоры кишечника. Для того чтобы организм не испытывал проблем, человеку в сутки необходимо 300 – 400 г углеводов.

Продукты	Содержание углеводов, г/100 г продукта	Продукты	Содержание углеводов, г/100 г продукта
Кефир	4,2	Сметана	2,5
Молоко коровье	4,4	Пирожное со взбитыми сливками	38,2
Творог полужирный	1,3	Хлеб	39,7
Сыр голландский	2,3	Морковь по-корейски	10,7
Масло сливочное несолёное	0,5	Крупа гречневая	64
Паштет из печени говяжий	5,3	Вермишель из твёрдых сортов пшеницы	71,5
Салями сырокопчёная	1	Горох шлифованный	44
Мясо курицы	0,6	Печень	2,7

Используя данные таблицы, рассчитайте количество углеводов, которое человек получил во время ужина, если в его рационе было 190 г куриного мяса, 180 г шлифованного гороха и 145 г кефира. Ответ округлите до целых.

Ответ: _____

6.2. Какая реакция среды в двенадцатиперстной кишке, где расщепляются углеводы?

Ответ: _____

7 Определите происхождение болезней, приведённых в списке. Запишите номер каждой из болезней в списке в соответствующую ячейку таблицы. В ячейках таблицы может быть записано несколько номеров.

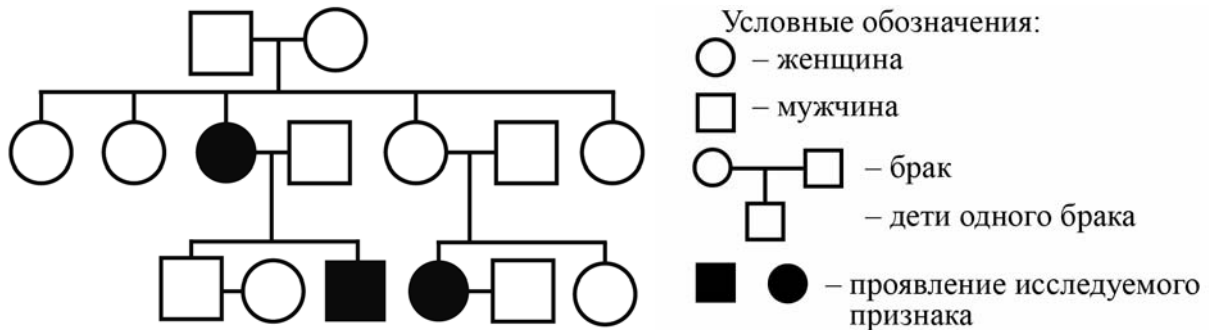
Список болезней человека:

- 1) синдром Дауна
- 2) инфаркт миокарда
- 3) малярия
- 4) пищевая аллергия
- 5) грипп

Наследственное заболевание (геномное)	Приобретённое заболевание	
	Инфекционное	Неинфекционное

8 В медицинской генетике широко используется **генеалогический метод**. Он основан на составлении родословной человека и изучении наследования того или иного признака. В подобных исследованиях используются определённые обозначения. Изучите фрагмент родословного древа одной семьи, у некоторых членов которой заострённый нос.

Фрагмент родословного древа семьи



Используя предложенную схему, определите, доминантным или рецессивным является данный признак, и сцеплен ли он с половыми хромосомами.

Ответ: _____

9 У резус-положительных родителей родился резус-отрицательный сын (рецессивный признак (а)). Определите генотипы членов семьи по указанному признаку. Ответы запишите в таблицу.

Мать	Отец	Сын

10

Отец Регины решил сдать кровь в качестве донора. При заборе крови ему определили группу, и выяснилось, что у отца Регины вторая группа крови. Известно, что Регина имеет третью группу крови.

		Группа крови отца				
		I (0)	II (A)	III (B)	IV (AB)	
Группа крови матери	I (0)	I (0)	I (0) II (A)	I (0) III (B)	II (A) III (B)	Группа крови ребенка
	II (A)	I (0) II (A)	I (0) II (A)	любая	II (A) III (B) IV (AB)	
	III (B)	I (0) III (B)	любая	I (0) III (B)	II (A) III (B) IV (AB)	
	IV (AB)	II (A) III (B)	II (A) III (B) IV (AB)	II (A) III (B) IV (AB)	II (A) III (B) IV (AB)	

10.1. Какой группы может быть кровь у матери Регины?



Ответ: _____

10.2. Руководствуясь правилами переливания крови, определите, может ли Регина быть донором крови для мамы?

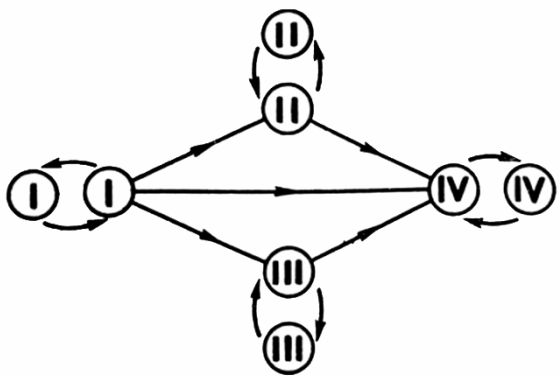



Рис. Правила переливания крови



Ответ: _____

11

При проектировании и строительстве человек нередко «подсматривал» идеи у природы. Например, при создании знаменитой Эйфелевой башни использовалась информация о свойствах костей, которые зависят от их строения и химического состава.



11.1. Каким видом костной ткани образована головка кости?

Ответ: _____

11.2. Какова связь между этой тканью и устройством конструкций Эйфелевой башни? Какие свойства костей обеспечиваются их неорганическим (минеральным), а какие – органическим компонентом?

Ответ: _____

12

Фрагмент транскрибируемой цепи молекулы ДНК имеет следующую последовательность:

ТАТТААТТАЦАГГТГ

Определите последовательность участка иРНК, матрицей для синтеза которого послужил этот фрагмент ДНК, и аминокислотную последовательность белка, которая кодируется этим фрагментом ДНК. При выполнении задания воспользуйтесь правилом комплементарности и таблицей генетического кода.

Таблица генетического кода (и-РНК)

Первое основание	Второе основание				Третье основание
	У	Ц	А	Г	
У	Фен	Сер	Тир	Цис	У
	Фен	Сер	Тир	Цис	Ц
	Лей	Сер	—	—	А
	Лей	Сер	—	Три	Г
Ц	Лей	Про	Гис	Арг	У
	Лей	Про	Гис	Арг	Ц
	Лей	Про	Глн	Арг	А
	Лей	Про	Глн	Арг	Г
А	Иле	Тре	Асн	Сер	У
	Иле	Тре	Асн	Сер	Ц
	Иле	Тре	Лиз	Арг	А
	Мет	Тре	Лиз	Арг	Г
Г	Вал	Ала	Асп	Гли	У
	Вал	Ала	Асп	Гли	Ц
	Вал	Ала	Глу	Гли	А
	Вал	Ала	Глу	Гли	Г

Правила пользования таблицей

Первый нуклеотид в триплете берётся из левого вертикального ряда, второй – из верхнего горизонтального ряда и третий – из правого вертикального. Там, где пересекутся линии, идущие от всех трёх нуклеотидов, и находится искомая аминокислота.

Ответ:

12.1 иРНК:

12.2 Белок:

12.3. При расшифровке генома лосося было установлено, что во фрагменте молекулы ДНК доля цитозина составляет 30%. Пользуясь правилом Чаргаффа, описывающим количественные соотношения между различными типами азотистых оснований в ДНК ($A = T, G = C$), рассчитайте количество (в %) в этой пробе нуклеотидов с тиминном.

Ответ:

13 Согласно современной эволюционной теории, существует два способа видообразования. Данные способы представлены на схеме.

Видообразование

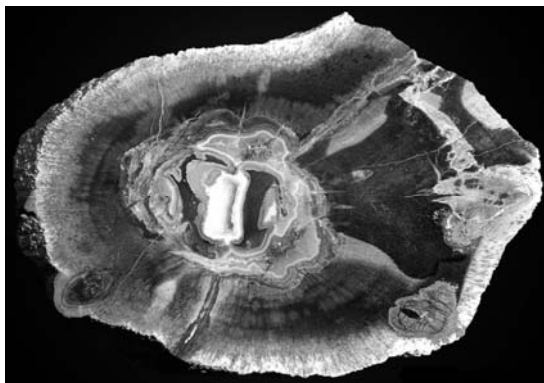


Объясните, руководствуясь этой схемой, образование эндемичных видов ракообразных в озере Байкал (эти виды встречаются только в озере Байкал).

Ответ: _____

14

На фотографии представлен спил окаменевшего ствола, найденного в Самарской области и датированного примерно 250 млн лет назад.



Используя фрагмент геохронологической таблицы, определите эру и период, в которых обитал данный организм. Эволюционным родственником какого отдела современных растений он является?

Геохронологическая таблица

ЭРА		Период и продолжительность (в млн лет)	Животный и растительный мир
Название и продолжительность (в млн лет)	Начало (млн лет назад)		
Кайнозойская, 67	67	Антропоген, 1,5	Появление и развитие человека. Формирование существующих растительных сообществ. Животный мир принял современный облик
		Неоген, 23,5	Господство млекопитающих и птиц
		Палеоген, 42	Появление хвостатых лемуров, позднее – парапитеков, дриопитеков. Бурный расцвет насекомых. Продолжается вымирание крупных пресмыкающихся. Исчезают многие группы головоногих моллюсков. Господство покрытосеменных растений
Мезозойская, 163	230	Мел, 70	Появление высших млекопитающих и настоящих птиц, хотя зубастые птицы ещё распространены. Преобладают костистые рыбы. Сокращение многообразия папоротников и голосеменных растений. Появление и распространение покрытосеменных растений
		Юра, 58	Появление первых птиц, примитивных млекопитающих, расцвет динозавров. Господство голосеменных. Процветание головоногих моллюсков
		Триас, 35	Начало расцвета пресмыкающихся. Появление костистых рыб

Палеозойская, 295	Нет точных данных	Пермь, 55	Вымирание трилобитов. Возникновение зверозубых пресмыкающихся. Исчезновение каменноугольных лесов
		Карбон, 63	Расцвет земноводных. Появление первых пресмыкающихся. Характерно разнообразие насекомых. Расцвет гигантских хвощей, плаунов, древовидных папоротников
		Девон, 60	Быстрая эволюция рыб. В позднем девоне многие группы древних рыб вымерли. Суша подверглась нашествию множества членистоногих. Появились первые земноводные. Появились споровые хвощи и плауны
		Силур, 25	Происходит активное рифостроительство. Распространены ракоскорпионы. Растения заселяют берега водоёмов
		Ордовик, 42	Множество бесчелюстных рыб. Появляются различные виды водорослей. В конце появляются первые наземные растения
		Кембрий, 56	В ходе грандиозного эволюционного взрыва возникло большинство современных типов животных. В океанах и морях многообразие водорослей

Эра: _____

Период: _____

Современный родственник: _____



Ответы и критерии оценивания проверочной работы по биологии

Правильный ответ на каждое из заданий 1.1, 1.2, 3, 4, 6.1, 6.2, 8, 10.1, 10.2, 11.1, 12.1, 12.3 оценивается 1 баллом.

Полный правильный ответ на каждое из заданий 2.1, 2.2, 5, 7, 9 оценивается 2 баллами.

Если в ответе допущена одна ошибка (в том числе написана лишняя цифра или не написана одна необходимая цифра), выставляется 1 балл; если допущено две или более ошибки – 0 баллов.

Задания 2.3, 11.2, 13 и 14 оцениваются в соответствии с критериями оценивания.

Максимальный балл за работу – 32.

№	Ответы	Баллы
1.1	обмен веществ и энергии ИЛИ обмен веществ ИЛИ метаболизм	1
1.2	потребление кислорода и выделение углекислого газа ИЛИ дыхание ИЛИ потребление пищи и рост <i>Может быть приведён любой корректный пример</i>	1
2.1	13	2
2.2	ДЕГА, ЛЕГА, МЕГА, НЕГА, ИЕГА	2
3	гастрола (двуслойный зародыш)	1
4	Сначала растёт быстро, затем растёт медленнее ИЛИ до 8–9-й недели растёт быстро, затем растёт медленнее	1
5	154236	2
6.1	86	1
6.2	щелочная	1
7	1 35 24	2
8	признак рецессивный, не сцеплен с половыми хромосомами	1
9	Мать – Аа; отец – Аа; сын – аа	2
10.1	III или IV	1
10.2	Да	1
11.1	Губчатая ткань (губчатое вещество)	1

12.1	иРНК: АУААУУААУГУЦЦАЦ	1
12.2	Белок: иле-иле-асн-вал-гис	1
12.3	20%	1

Критерии оценивания заданий с развернутым ответом

Задание 2.3

Содержание верного ответа и указания по оцениванию	Баллы
<p>Правильный ответ должен содержать следующие элементы:</p> <p>1) <u>ответ на вопрос</u>: 87000 кДж;</p> <p>2) <u>объяснение</u>, например: в пищевой цепи личинки комара находятся на уровне консумента I порядка, значит к ним приходит 0,1 (10%) от запасённой в детрите энергии.</p> <p><i>Объяснение может быть приведено в иной, близкой по смыслу формулировке</i></p>	
Правильно дан ответ на вопрос, дано объяснение	2
Правильно дан только ответ на вопрос	1
Ответ на вопрос дан неправильно независимо от наличия / отсутствия объяснения	0
<i>Максимальный балл</i>	2

Задание 11.2

Содержание верного ответа и указания по оцениванию	Баллы
<p>Правильный ответ должен содержать следующие элементы:</p> <p>1) Эйфелева башня и губчатая ткань имеют одинаковые принципы пересечения пластинок (балок, перекладин);</p> <p>2) неорганические (минеральные) вещества обуславливают прочность (твёрдость) кости, а органические вещества – упругость (эластичность, пластичность, гибкость)</p>	
Ответ включает в себя все названные выше элементы	2
Ответ включает в себя один из названных выше элементов	1
Ответ неправильный	0
<i>Максимальный балл</i>	2

Задание 13

Содержание верного ответа и указания по оцениванию	Баллы
Правильный ответ должен содержать следующие элементы: 1) предки ракообразных расселились и занимали новые водоёмы, в результате чего возникла географическая изоляция; 2) под воздействием естественного отбора у них формировались различные признаки; 3) в итоге байкальские ракообразные не могут свободно скрещиваться с другими видами (возникла репродуктивная изоляция) и стали отдельными видами	
Ответ включает в себя все названные выше элементы	3
Ответ включает в себя два из названных выше элементов ИЛИ Ответ включает в себя три названных выше элемента, но содержит биологические ошибки	2
Ответ включает в себя только один из названных выше элементов и не содержит биологических ошибок, ИЛИ ответ включает в себя два из названных выше элементов, но содержит биологические ошибки	1
Ответ неправильный	0
<i>Максимальный балл</i>	<i>3</i>

Задание 14

Содержание верного ответа и указания по оцениванию	Баллы
Правильный ответ должен содержать следующие элементы: 1) <u>эра</u> : палеозойская; 2) <u>период</u> : пермь; 3) <u>современный родственник</u> : голосеменные	
Ответ включает в себя все названные выше элементы	2
Ответ включает в себя два из названных выше элементов	1
Ответ включает в себя один из названных выше элементов, ИЛИ ответ неправильный	0
<i>Максимальный балл</i>	<i>2</i>

Система оценивания выполнения всей работы

Максимальный балл за выполнение работы – **32**.

Рекомендуемая шкала перевода суммарного балла за выполнение ВПР в отметку по пятибалльной шкале

Отметка по пятибалльной шкале	«2»	«3»	«4»	«5»
Суммарный балл	0–10	11–17	18–24	25–32