

**ВСЕРОССИЙСКАЯ ПРОВЕРОЧНАЯ РАБОТА****ХИМИЯ  
11 КЛАСС****Инструкция по выполнению работы**

Проверочная работа включает в себя 15 заданий. На выполнение работы по химии отводится 1 час 30 минут (90 минут).

Оформляйте ответы в тексте работы согласно инструкциям к заданиям. В случае записи неверного ответа зачеркните его и запишите рядом новый.

При выполнении работы разрешается использовать следующие дополнительные материалы:

- Периодическая система химических элементов Д.И. Менделеева;
- таблица растворимости солей, кислот и оснований в воде;
- электрохимический ряд напряжений металлов;
- непрограммируемый калькулятор.

При выполнении заданий Вы можете использовать черновик. Записи в черновике проверяться и оцениваться не будут.

Советуем выполнять задания в том порядке, в котором они даны. Для экономии времени пропускайте задание, которое не удаётся выполнить сразу, и переходите к следующему. Если после выполнения всей работы у Вас останется время, Вы сможете вернуться к пропущенным заданиям.

Баллы, полученные Вами за выполненные задания, суммируются. Постарайтесь выполнить как можно больше заданий и набрать наибольшее количество баллов.

***Желаем успеха!***

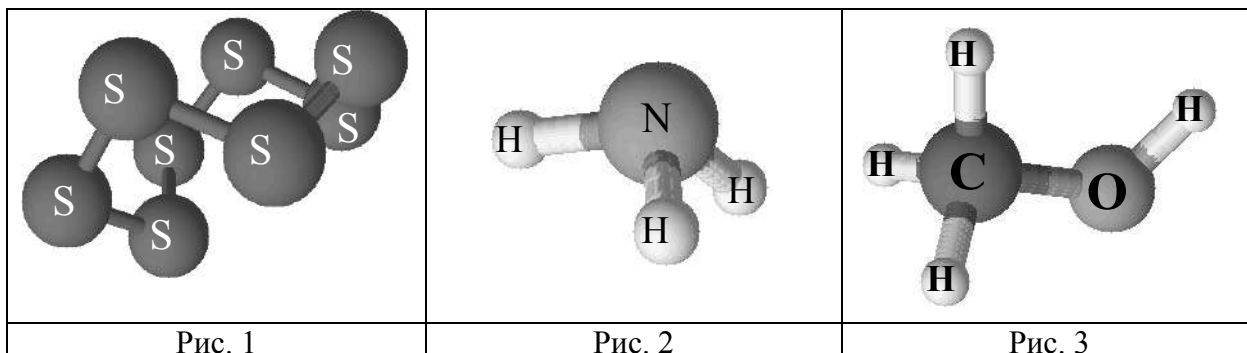
*Таблица для внесения баллов участника*

Номер задания	1	2	3	4	5	6	7	8	9	10	11	12	13	14	15	Сумма баллов	Отметка за работу
Баллы																	

1

Одним из научных методов познания веществ и химических явлений является моделирование. Так, модели молекул используются для установления взаимосвязи между строением и свойствами веществ.

На рис. 1–3 приведены модели молекул трёх веществ.



Какие из веществ, модели молекул которых изображены на рисунках, относятся к:

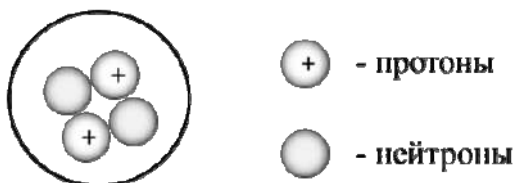
- 1) простым веществам;
- 2) сложным органическим веществам.

Запишите в таблицу номер рисунка и химическую формулу данного вещества.

Вещество	Номер рисунка	Химическая формула
Простое		
Сложное органическое вещество		

2

На рисунке изображена модель ядра атома некоторого химического элемента.



Ознакомьтесь с предложенной моделью и выполните следующие задания:

- 1) запишите символ химического элемента, которому соответствует данная модель атома;
- 2) запишите число электронов в атоме этого элемента и номер группы в Периодической системе химических элементов Д.И. Менделеева, в которой расположен этот элемент;
- 3) определите, к металлам или неметаллам относится простое вещество, которое образует этот элемент.

Ответы запишите в таблицу.

Символ химического элемента	Число электронов	№ группы	Простое вещество

3

2019 год объявлен Международным годом Периодической таблицы химических элементов Д.И. Менделеева. Мировое научное сообщество отметит 150-летие открытия Периодического закона химических элементов Д.И. Менделеевым в 1869 году.

Периодическая система химических элементов Д.И. Менделеева – богатое хранилище информации о химических элементах, их свойствах и свойствах их соединений. Так, например, известно, что с увеличением порядкового номера химического элемента радиусы атомов в периодах уменьшаются, а в группах увеличиваются.

Учитывая эти закономерности, расположите в порядке уменьшения радиусов атомов следующие элементы: кислород, углерод, азот. В ответе запишите символы элементов в нужной последовательности.

Ответ: \_\_\_\_\_

4

В приведённой ниже таблице перечислены характерные свойства веществ, которые имеют молекулярное и ионное строение.

Характерные свойства веществ	
Молекулярного строения	Ионного строения
<ul style="list-style-type: none"> <li>• при обычных условиях могут находиться в жидком, либо в газообразном, либо в твёрдом агрегатных состояниях;</li> <li>• имеют низкие значения температур кипения и плавления;</li> <li>• имеют низкую теплопроводность</li> <li>• могут обладать запахом</li> </ul>	<ul style="list-style-type: none"> <li>• при обычных условиях, как правило, твёрдые;</li> <li>• хрупкие;</li> <li>• тугоплавкие;</li> <li>• нелетучие;</li> <li>• в расплавах и растворах проводят электрический ток</li> <li>• не обладают запахом</li> </ul>

Используя данную информацию, определите, какое строение имеют вещества озон  $O_3$  и сода  $Na_2CO_3$ .

1) озон  $O_3$  \_\_\_\_\_

2) сода  $Na_2CO_3$  \_\_\_\_\_

**Прочитайте следующий текст и выполните задания 5–7.**

Содержание химического элемента азота в земной коре (включая гидросферу и атмосферу) составляет 0,04% по массе. При этом большая его часть находится в атмосфере в виде простого вещества ( $N_2$ ). Азот является главной составной частью воздуха, его объёмная доля в воздухе составляет 78%.

Простое вещество  $N_2$  химически довольно инертно. При обычных условиях азот реагирует только с литием, образуя нитрид ( $Li_3N$ ), при нагревании образуются нитриды и других активных металлов. С кислородом азот реагирует при очень высокой температуре (выше  $2000\text{ }^\circ\text{C}$ ), причём при этом образуется газ  $NO$ . В природных условиях протекание этой реакции возможно при разряде молнии во время грозы. Взаимодействие азота с кислородом является примером одной из немногих эндотермических реакций соединения.

Основное применение азота – в качестве исходного продукта для синтеза аммиака, азотной кислоты и некоторых других соединений. Кроме того, он применяется для заполнения электрических ламп, для создания инертной среды при промышленном проведении некоторых химических реакций, при перекачке горючих жидкостей.

Азотная кислота ( $HNO_3$ ) является сильной кислотой. Она проявляет все общие свойства кислот: взаимодействует с основными и амфотерными оксидами, основаниями и амфотерными гидроксидами, солями слабых кислот. Продуктом реакции азотной кислоты с гидроксидом натрия ( $NaOH$ ) является натриевая селитра ( $NaNO_3$ ), широко используемая в качестве минерального удобрения. Также в качестве удобрений используются и другие соли азотной кислоты ( $KNO_3$ ,  $NH_4NO_3$ ). Ещё одной областью применения азотной кислоты является производство взрывчатых веществ.

5

Сложные неорганические вещества условно можно распределить, то есть классифицировать, по четырём группам, как показано на схеме. В эту схему для каждой из четырёх групп *впишите* по одной химической формуле веществ из тех, о которых говорится в приведённом выше тексте.



6

1. Составьте молекулярное уравнение реакции азота с кислородом.

Ответ: \_\_\_\_\_

2. Укажите, с каким тепловым эффектом (с поглощением или выделением теплоты) протекает эта реакция.

Ответ: \_\_\_\_\_

7

1. Составьте молекулярное уравнение упомянутой в тексте реакции между азотной кислотой и гидроксидом натрия.

Ответ: \_\_\_\_\_

2. Укажите, к какому типу (соединения, разложения, замещения, обмена) относится эта реакция.

Ответ: \_\_\_\_\_

\_\_\_\_\_

8

В составе воды реки Неглинная были обнаружены следующие ионы:  $\text{NH}_4^+$ ,  $\text{Zn}^{2+}$ ,  $\text{Cl}^-$ . Для проведения качественного анализа к этой воде добавили раствор  $\text{AgNO}_3$ .

1. Укажите, какое изменение можно наблюдать в растворе при проведении данного опыта, учитывая, что концентрация веществ является достаточной для проведения анализа.

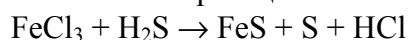
Ответ: \_\_\_\_\_

2. Запишите сокращённое ионное уравнение произошедшей химической реакции.

Ответ: \_\_\_\_\_

9

Дана схема окислительно-восстановительной реакции:



1. Составьте электронный баланс этой реакции.

Ответ: \_\_\_\_\_

2. Укажите окислитель и восстановитель.

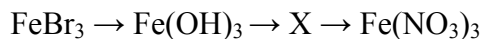
Ответ: \_\_\_\_\_

3. Расставьте коэффициенты и запишите получившееся уравнение реакции.

Ответ: \_\_\_\_\_

10

Дана схема превращений:



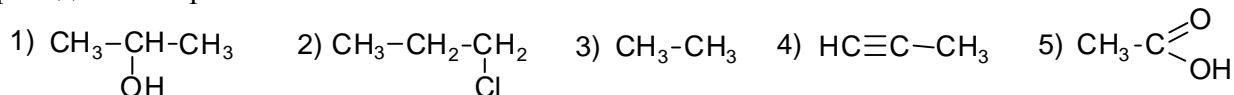
Напишите молекулярные уравнения реакций, с помощью которых можно осуществить указанные превращения.

1) \_\_\_\_\_

2) \_\_\_\_\_

3) \_\_\_\_\_

Для выполнения заданий 11–13 используйте вещества, структурные формулы которых приведены в перечне:



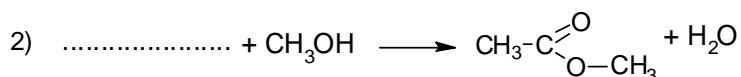
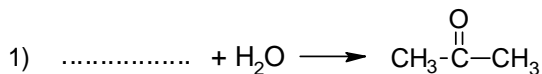
11

Из приведённого перечня выберите алкин и карбоновую кислоту. Запишите в таблицу номера, под которыми указаны эти соединения.

Алкин	Карбоновая кислота

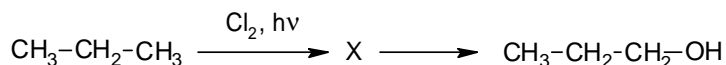
12

Составьте уравнения реакций: в предложенные схемы химических реакций впишите структурные формулы пропущенных веществ и расставьте коэффициенты.



13

Пропанол-1 применяют в качестве растворителя для восков, чернил, природных и синтетических смол, для синтеза пропионовой кислоты, пестицидов и некоторых фармацевтических препаратов. Пропанол-1 можно получить в соответствии с приведённой схемой превращений:



Определите вещество X, выбрав его из предложенного выше перечня веществ. Запишите уравнения двух реакций, с помощью которых можно осуществить эти превращения. Запишите название вещества X.

При написании уравнений реакций используйте структурные формулы органических веществ.

1) \_\_\_\_\_

2) \_\_\_\_\_

3) \_\_\_\_\_

14

Одним из важных понятий в экологии и химии является «предельно допустимая концентрация» (ПДК). ПДК – это такая концентрация вредного вещества в окружающей среде, присутствуя в которой постоянно, данное вещество не оказывает прямого или косвенного неблагоприятного влияния на настоящее или будущее поколение в течение всей жизни, не снижает работоспособности человека, не ухудшает его самочувствия и условий жизни.

ПДК ртути в воздухе составляет  $0,0003 \text{ мг/м}^3$ .

В комнате площадью  $15 \text{ м}^2$ , с высотой потолка  $2,4 \text{ м}$ , разбили ртутный термометр. Определите и подтвердите расчётами, превышает ли концентрация ртути в воздухе данного помещения значение ПДК, если в воздух при этом испарилось  $0,018 \text{ мг}$  ртути. Предложите способ, позволяющий снизить концентрацию паров ртути в помещении.

Ответ: \_\_\_\_\_

\_\_\_\_\_

\_\_\_\_\_

15

В автомобильных свинцово-кислотных аккумуляторах в качестве электролита применяется 35%-ный раствор серной кислоты в дистиллированной воде. Рассчитайте массы безводной серной кислоты и дистиллированной воды, которые необходимы для приготовления  $800 \text{ г}$  такого раствора. Запишите подробное решение задачи.

Ответ: \_\_\_\_\_

\_\_\_\_\_

\_\_\_\_\_

### Ответы и критерии оценивания проверочной работы по химии

1	Содержание верного ответа и указания по оцениванию (допускаются иные формулировки ответа, не искажающие его смысла)			Баллы
	Вещество	Номер рисунка	Химическая формула	
	Простое	1	$S_8$	
	Сложное органическое вещество	3	$CH_4O$ или $CH_3OH$	
	Ответ правильный и полный, содержит все названные выше элементы			2
	Допущена ошибка в одном из элементов ответа			1
	Допущено две и более ошибки			0
	<i>Максимальный балл</i>			2

2	Содержание верного ответа и указания по оцениванию (допускаются иные формулировки ответа, не искажающие его смысла)				Баллы
	Символ химического элемента	Число электронов	№ группы	Простое вещество	
	He	2	8	Неметалл	
	Ответ правильный и полный, содержит все названные выше элементы				2
	Допущена ошибка в одном из элементов ответа				1
	Допущено две и более ошибки, или ответ отсутствует				0
	<i>Максимальный балл</i>				2

3	Содержание верного ответа и указания по оцениванию (допускаются иные формулировки ответа, не искажающие его смысла)	Баллы
		Записан ряд химических элементов: $C \rightarrow N \rightarrow O$ (или C, N, O)
	Записана правильная последовательность символов	1
	Последовательность символов записана неверно	0
	<i>Максимальный балл</i>	1

4	Содержание верного ответа и указания по оцениванию (допускаются иные формулировки ответа, не искажающие его смысла)	Баллы
		Элементы ответа: 1) Озон имеет молекулярное строение. 2) Сода имеет ионное строение
	Ответ правильный и полный, содержит все названные выше элементы	2
	Допущена ошибка в одном из элементов ответа	1
	Все элементы ответа записаны неверно	0
	<i>Максимальный балл</i>	2



5

Содержание верного ответа и указания по оцениванию (допускаются иные формулировки ответа, не искажающие его смысла)	Баллы
Элементы ответа: оксид: NO; основание: NaOH; кислота: HNO <sub>3</sub> ; соль: NH <sub>4</sub> NO <sub>3</sub> , или KNO <sub>3</sub> , или NaNO <sub>3</sub>	
Ответ правильный и полный, содержит все названные выше элементы ответа	2
Допущена ошибка в одном из элементов ответа	1
Все элементы ответа записаны неверно	0
<i>Максимальный балл</i>	2

6

Содержание верного ответа и указания по оцениванию (допускаются иные формулировки ответа, не искажающие его смысла)	Баллы
Элементы ответа: 1) N <sub>2</sub> + O <sub>2</sub> = 2NO 2) реакция протекает с поглощением теплоты (эндотермическая)	
Ответ правильный и полный, содержит все названные выше элементы ответа	2
Допущена ошибка в одном из элементов ответа	1
Все элементы ответа записаны неверно	0
<i>Максимальный балл</i>	2

7

Содержание верного ответа и указания по оцениванию (допускаются иные формулировки ответа, не искажающие его смысла)	Баллы
Элементы ответа: 1) HNO <sub>3</sub> + NaOH = NaNO <sub>3</sub> + H <sub>2</sub> O 2) реакция обмена	
Ответ правильный и полный, содержит все названные выше элементы ответа	2
Ответ включает один из названных выше элементов	1
Все элементы ответа записаны неверно	0
<i>Максимальный балл</i>	2

8

Содержание верного ответа и указания по оцениванию (допускаются иные формулировки ответа, не искажающие его смысла)	Баллы
Элементы ответа: 1) Выпадение (белого) осадка 2) Ag <sup>+</sup> + Cl <sup>-</sup> = AgCl↓	
Ответ правильный и полный, содержит все названные выше элементы	2
Допущена ошибка в одном из элементов ответа	1
Все элементы ответа записаны неверно	0
<i>Максимальный балл</i>	2

9

Содержание верного ответа и указания по оцениванию (допускаются иные формулировки ответа, не искажающие его смысла)	Баллы
Элементы ответа: 1) Составлен электронный баланс: $\begin{array}{l} 1 \quad   \quad S^{-2} - 2\bar{e} \rightarrow S^0 \\ 2 \quad   \quad Fe^{+3} + 1\bar{e} \rightarrow Fe^{+2} \end{array}$ 2) Указано, что H <sub>2</sub> S (или сера в степени окисления -2) является восстановителем, а FeCl <sub>3</sub> (или железо в степени окисления +3) – окислителем. 3) Составлено уравнение реакции: $2FeCl_3 + 3H_2S = 2FeS + S + 6HCl$	
Ответ правильный и полный, включает в себя все названные выше элементы	3
Правильно записаны два из названных выше элементов ответа	2
Правильно записан один из названных выше элементов ответа	1
Все элементы ответа записаны неверно, или ответ отсутствует	0
<i>Максимальный балл</i>	3

10

Содержание верного ответа и указания по оцениванию (допускаются иные формулировки ответа, не искажающие его смысла)	Баллы
Написаны уравнения реакций, соответствующие схеме превращений 1) $3NaOH + FeBr_3 = Fe(OH)_3 + 3NaBr$ 2) $2Fe(OH)_3 \xrightarrow{t^\circ} Fe_2O_3 + 3H_2O$ 3) $Fe_2O_3 + 6HNO_3 = 2Fe(NO_3)_3 + 3H_2O$	
Правильно записаны 3 уравнения реакций	3
Правильно записаны 2 уравнения реакций	2
Правильно записано 1 уравнение реакции	1
Все уравнения записаны неверно или ответ отсутствует	0
<i>Максимальный балл</i>	3

11

Содержание верного ответа и указания по оцениванию (допускаются иные формулировки ответа, не искажающие его смысла)	Баллы
Элементы ответа: 45	
Правильно записаны все элементы ответа	2
Правильно записан один элемент ответа	1
Все элементы ответа записаны неверно или ответ отсутствует	0
<i>Максимальный балл</i>	2

12	<b>Содержание верного ответа и указания по оцениванию</b> (допускаются иные формулировки ответа, не искажающие его смысла)	Баллы
	Элементы ответа:  1) $\text{CH}\equiv\text{C}-\text{CH}_3 + \text{H}_2\text{O} \longrightarrow \text{CH}_3-\underset{\text{O}}{\underset{\parallel}{\text{C}}}-\text{CH}_3$  2) $\text{CH}_3-\overset{\text{O}}{\parallel}{\text{C}}-\text{OH} + \text{CH}_3\text{OH} \longrightarrow \text{CH}_3-\overset{\text{O}}{\parallel}{\text{C}}-\text{O}-\text{CH}_3 + \text{H}_2\text{O}$	
	Правильно записаны два элемента ответа	2
	Правильно записан один элемент ответа	1
	Все элементы ответа записаны неверно или ответ отсутствует	0
	<i>Максимальный балл</i>	2

13	<b>Содержание верного ответа и указания по оцениванию</b> (допускаются иные формулировки ответа, не искажающие его смысла)	Баллы
	Элементы ответа: Написаны уравнения реакций, соответствующие схеме: 1) $\text{CH}_3-\text{CH}_2\text{CH}_3 + \text{Cl}_2 \longrightarrow \text{CH}_3-\text{CH}_2-\underset{\text{Cl}}{\text{CH}_2} + \text{HCl}$  2) $\text{CH}_3-\text{CH}_2-\underset{\text{Cl}}{\text{CH}_2} + \text{KOH} \longrightarrow \text{CH}_3-\text{CH}_2-\underset{\text{OH}}{\text{CH}_2} + \text{KCl}$  3) Записано название вещества X: 1-хлорпропан	
	Правильно записаны все элементы ответа	3
	Правильно записаны два элемента ответа	2
	Правильно записан один элемент ответа	1
	Все элементы ответа записаны неверно или ответ отсутствует	0
	<i>Максимальный балл</i>	3

14	<b>Содержание верного ответа и указания по оцениванию</b> (допускаются иные формулировки ответа, не искажающие его смысла)	Баллы
	Элементы ответа: 1) Определён объём помещения, и определена концентрация паров ртути в нём: $V(\text{помещения}) = 15 \cdot 2,4 = 36 \text{ м}^3$ $\text{Концентрация паров ртути} = 0,018 / 36 = 0,0005 \text{ мг/м}^3$ 2) Сформулирован вывод о превышении ПДК паров ртути в помещении: более $0,0003 \text{ мг/м}^3$ . 3) Сформулировано одно предложение по снижению концентрации паров ртути в воздухе помещения: проветривание (вентиляция) помещения	
	Ответ правильный и полный, содержит все названные выше элементы ответа	3
	Правильно записаны два из названных выше элементов ответа	2
	Правильно записан один из названных выше элементов ответа	1
	Все элементы ответа записаны неверно	0
	<i>Максимальный балл</i>	3

15

<b>Содержание верного ответа и указания по оцениванию</b> (допускаются иные формулировки ответа, не искажающие его смысла)	<b>Баллы</b>
Элементы ответа: 1) Рассчитана масса растворённого вещества: $m(\text{серной кислоты}) = 800 \cdot 0,35 = 280 \text{ г}$ 2) Рассчитана масса воды в растворе: $m(\text{воды}) = 800 - 280 = 520 \text{ г}$	
Ответ правильный и полный, содержит все названные выше элементы	2
Допущена ошибка в одном из элементов ответа	1
Все элементы ответа записаны неверно	0
<i>Максимальный балл</i>	2

### Система оценивания выполнения всей работы

Максимальный балл за выполнение работы – 33.

*Рекомендуемая шкала перевода суммарного балла за выполнение ВПр в отметку по пятибалльной шкале*

<b>Отметка по пятибалльной шкале</b>	<b>«2»</b>	<b>«3»</b>	<b>«4»</b>	<b>«5»</b>
<b>Суммарный балл</b>	0–10	11–19	20–27	28–33