

Единый государственный экзамен  
по МАТЕМАТИКЕ

Базовый уровень

Инструкция по выполнению работы

Экзаменационная работа включает в себя 21 задание.

На выполнение работы отводится 3 часа (180 минут).

Ответы к заданиям записываются по приведённым ниже образцам в виде числа или последовательности цифр. Сначала запишите ответы к заданиям в поле ответа в тексте работы, а затем перенесите их в бланк ответов № 1 справа от номера соответствующего задания.

КИМ Ответ: -0,8

0	1	2	3	4	5	6	7	8	9
0	1	2	3	4	5	6	7	8	9

 Бланк

Если ответом является последовательность цифр, как в приведённом ниже примере, то запишите эту последовательность в бланк ответов № 1 без пробелов, запятых и других дополнительных символов.

КИМ Ответ: 

А	Б	В	Г
4	3	1	2

0	1	2	3	4	5	6	7	8	9
9	4	3	1	2					

 Бланк

Все бланки ЕГЭ заполняются яркими чёрными чернилами. Допускается использование гелевой или капиллярной ручки.

При выполнении заданий можно пользоваться черновиком. **Записи в черновике, а также в тексте контрольных измерительных материалов не учитываются при оценивании работы.**

Баллы, полученные Вами за выполненные задания, суммируются. Постарайтесь выполнить как можно больше заданий и набрать наибольшее количество баллов.

После завершения работы проверьте, что ответ на каждое задание в бланках ответов №1 был записан под правильным номером.

*Желаем успеха!*

Справочные материалы

Алгебра

Таблица квадратов целых чисел от 0 до 99

Десятки	Единицы									
	0	1	2	3	4	5	6	7	8	9
0	0	1	4	9	16	25	36	49	64	81
1	100	121	144	169	196	225	256	289	324	361
2	400	441	484	529	576	625	676	729	784	841
3	900	961	1024	1089	1156	1225	1296	1369	1444	1521
4	1600	1681	1764	1849	1936	2025	2116	2209	2304	2401
5	2500	2601	2704	2809	2916	3025	3136	3249	3364	3481
6	3600	3721	3844	3969	4096	4225	4356	4489	4624	4761
7	4900	5041	5184	5329	5476	5625	5776	5929	6084	6241
8	6400	6561	6724	6889	7056	7225	7396	7569	7744	7921
9	8100	8281	8464	8649	8836	9025	9216	9409	9604	9801

Свойства арифметического квадратного корня

$$\sqrt{ab} = \sqrt{a} \cdot \sqrt{b} \text{ при } a \geq 0, b \geq 0 \quad \sqrt{\frac{a}{b}} = \frac{\sqrt{a}}{\sqrt{b}} \text{ при } a \geq 0, b > 0$$

Корни квадратного уравнения  $ax^2 + bx + c = 0, a \neq 0$

$$x_1 = \frac{-b - \sqrt{b^2 - 4ac}}{2a}, \quad x_2 = \frac{-b + \sqrt{b^2 - 4ac}}{2a} \text{ при } b^2 - 4ac > 0$$

$$x = -\frac{b}{2a} \text{ при } b^2 - 4ac = 0$$

Формулы сокращенного умножения

$$(a + b)^2 = a^2 + 2ab + b^2$$

$$(a - b)^2 = a^2 - 2ab + b^2$$

$$a^2 - b^2 = (a + b)(a - b)$$





**Степень и логарифм**

Свойства степени при  $a > 0, b > 0$

$$a^{-n} = \frac{1}{a^n}$$

$$a^n \cdot a^m = a^{n+m}$$

$$\frac{a^n}{a^m} = a^{n-m}$$

$$(a^n)^m = a^{nm}$$

$$(ab)^n = a^n \cdot b^n$$

$$\left(\frac{a}{b}\right)^n = \frac{a^n}{b^n}$$

Свойства логарифма при  $a > 0, a \neq 1, b > 0, x > 0, y > 0$

$$a^{\log_a b} = b$$

$$\log_a a = 1$$

$$\log_a 1 = 0$$

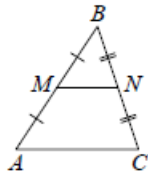
$$\log_a (xy) = \log_a x + \log_a y$$

$$\log_a \left(\frac{x}{y}\right) = \log_a x - \log_a y$$

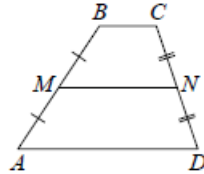
$$\log_a b^k = k \log_a b$$

**Геометрия**

Средняя линия треугольника и трапеции

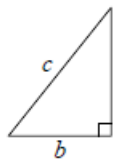


$MN$  — ср. лин.  
 $MN \parallel AC$   
 $MN = \frac{AC}{2}$



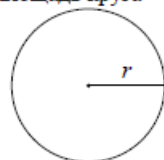
$BC \parallel AD$   
 $MN$  — ср. лин.  
 $MN \parallel AD$   
 $MN = \frac{BC + AD}{2}$

Теорема Пифагора



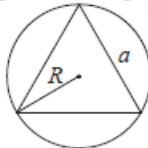
$$a^2 + b^2 = c^2$$

Длина окружности  
Площадь круга

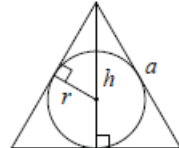


$C = 2\pi r$   
 $S = \pi r^2$

Правильный треугольник



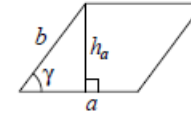
$R = \frac{a\sqrt{3}}{3}$   
 $S = \frac{a^2\sqrt{3}}{4}$



$r = \frac{a\sqrt{3}}{6}$   
 $h = \frac{a\sqrt{3}}{2}$

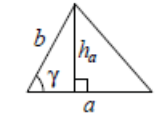
**Площади фигур**

Параллелограмм



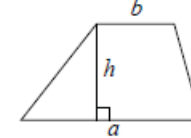
$S = ah_a$   
 $S = ab \sin \gamma$

Треугольник



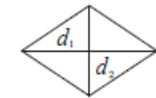
$S = \frac{1}{2} ah_a$   
 $S = \frac{1}{2} ab \sin \gamma$

Трапеция



$S = \frac{a+b}{2} \cdot h$

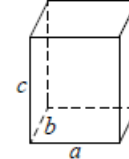
Ромб



$d_1, d_2$  — диагонали  
 $S = \frac{1}{2} d_1 d_2$

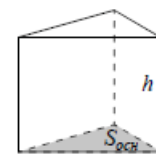
**Площади поверхностей и объёмы тел**

Прямоугольный параллелепипед



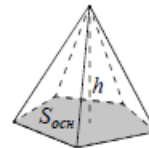
$V = abc$

Прямая призма



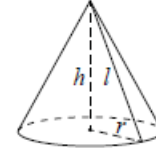
$V = S_{осн} h$

Пирамида



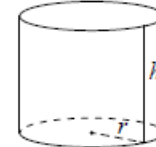
$V = \frac{1}{3} S_{осн} h$

Конус



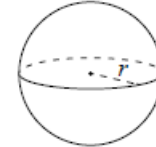
$V = \frac{1}{3} \pi r^2 h$   
 $S_{бок} = \pi r l$

Цилиндр



$V = \pi r^2 h$   
 $S_{бок} = 2\pi r h$

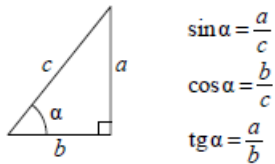
Шар



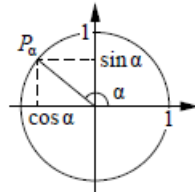
$V = \frac{4}{3} \pi r^3$   
 $S = 4\pi r^2$

**Тригонометрические функции**

Прямоугольный треугольник



Тригонометрическая окружность



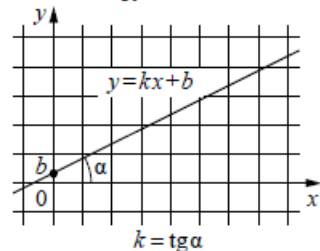
Основное тригонометрическое тождество:  $\sin^2 \alpha + \cos^2 \alpha = 1$

Некоторые значения тригонометрических функций

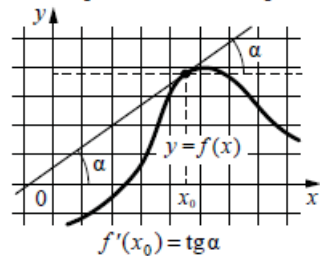
$\alpha$	радианы	0	$\frac{\pi}{6}$	$\frac{\pi}{4}$	$\frac{\pi}{3}$	$\frac{\pi}{2}$	$\pi$	$\frac{3\pi}{2}$	$2\pi$
	градусы	$0^\circ$	$30^\circ$	$45^\circ$	$60^\circ$	$90^\circ$	$180^\circ$	$270^\circ$	$360^\circ$
$\sin \alpha$		0	$\frac{1}{2}$	$\frac{\sqrt{2}}{2}$	$\frac{\sqrt{3}}{2}$	1	0	-1	0
$\cos \alpha$		1	$\frac{\sqrt{3}}{2}$	$\frac{\sqrt{2}}{2}$	$\frac{1}{2}$	0	-1	0	1
$\operatorname{tg} \alpha$		0	$\frac{\sqrt{3}}{3}$	1	$\sqrt{3}$	—	0	—	0

**Функции**

Линейная функция



Геометрический смысл производной



Ответом к каждому заданию является конечная десятичная дробь, или целое число, или последовательность цифр. Ответ сначала запишите в поле ответа в тексте работы, а затем перенесите в БЛАНК ОТВЕТОВ № 1 справа от номера соответствующего задания. Каждую цифру, знак «минус» и запятую пишите в отдельной клеточке в соответствии с приведёнными в бланке образцами. Единицы измерений писать не нужно.

**1** На счёте Машиного мобильного телефона было 53 рубля, а после разговора с Леной осталось 8 рублей. Известно, что разговор длился целое число минут, а одна минута разговора стоит 2 рубля 50 копеек. Сколько минут длился разговор с Леной?

Ответ: \_\_\_\_\_.

**2** Установите соответствие между величинами и их возможными значениями: к каждому элементу первого столбца подберите соответствующий элемент из второго столбца.

**ВЕЛИЧИНЫ**

- А) масса двухлитрового пакета сока
- Б) масса взрослого кита
- В) масса яблока
- Г) масса таблетки лекарства

**ЗНАЧЕНИЯ**

- 1) 130 т
- 2) 2 кг
- 3) 400 мг
- 4) 120 г

В таблице под каждой буквой, соответствующей величине, укажите номер её возможного значения.

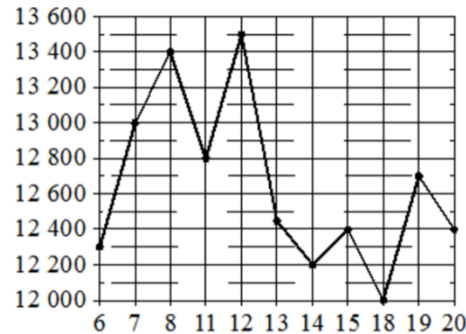
Ответ:

А	Б	В	Г

ТРЕНИРОВОЧНЫЙ КИМ № 230911



- 3 На рисунке жирными точками показана цена никеля на момент закрытия биржевых торгов во все рабочие дни с 6 по 20 мая 2009 года. По горизонтали указаны числа месяца, по вертикали – цена никеля в долларах США за тонну. Для наглядности жирные точки на рисунке соединены линией.



Определите по рисунку, какого числа цена никеля на момент закрытия торгов была наибольшей за данный период.

Ответ: \_\_\_\_\_.

- 4 Среднее квадратичное трёх чисел  $a$ ,  $b$  и  $c$  вычисляется по формуле

$$q = \sqrt{\frac{a^2 + b^2 + c^2}{3}}.$$

Найдите среднее квадратичное чисел  $\sqrt{2}$ , 3 и 17.

Ответ: \_\_\_\_\_.

- 5 Конкурс исполнителей проводится в 5 дней. Всего заявлено 50 выступлений – по одному от каждой страны, участвующей в конкурсе. Исполнитель из России участвует в конкурсе. В первый день запланировано 14 выступлений, остальные распределены поровну между оставшимися днями. Порядок выступлений определяется жеребьёвкой. Какова вероятность, что выступление исполнителя из России состоится в третий день конкурса?

Ответ: \_\_\_\_\_.

- 6 На соревнованиях по прыжкам в воду судьи выставили оценки от 0 до 10 трём спортсменам. Результаты приведены в таблице.

Номер спортсмена	K*	I	II	III	IV	V	VI	VII
		судья	судья	судья	судья	судья	судья	судья
1	8	6,6	5,5	7,8	6,6	5,9	7,9	8,5
2	6	8,4	7,1	8,1	5,0	6,4	8,4	7,6
3	7	6,6	8,1	5,4	6,4	6,5	7,9	7,2

\* K — коэффициент сложности.

Итоговый балл вычисляется следующим образом: две наибольшие и две наименьшие оценки отбрасываются, а три оставшиеся складываются, и их сумма умножается на коэффициент сложности.

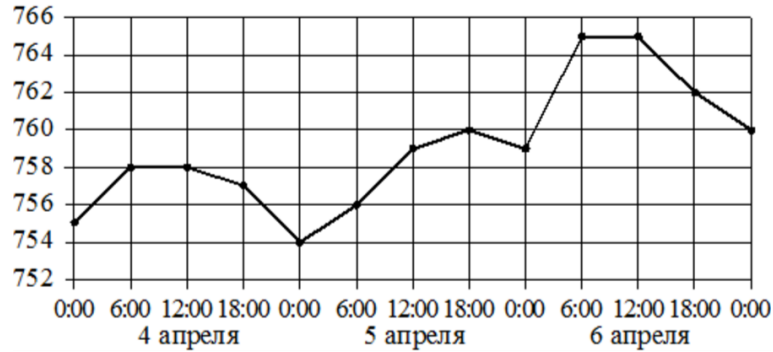
В ответе укажите номера спортсменов, итоговый балл которых больше 140, без пробелов, запятых и других дополнительных символов.

Ответ: \_\_\_\_\_.



7 На рисунке точками показано атмосферное давление в городе N на протяжении трёх суток с 4 по 6 апреля 2013 года. В течение суток давление измеряется 4 раза: в 00:00, в 06:00, в 12:00 и в 18:00.

По горизонтали указывается время суток и дата, по вертикали – давление в миллиметрах ртутного столба. Для наглядности точки соединены линией.



Пользуясь рисунком, поставьте в соответствие каждому из указанных периодов времени характеристику атмосферного давления в городе N в течение этого периода

**ПЕРИОДЫ ВРЕМЕНИ**

- А) утро 4 апреля (с 6 до 12 часов)
- Б) утро 5 апреля (с 6 до 12 часов)
- В) утро 6 апреля (с 6 до 12 часов)
- Г) день 6 апреля (с 12 до 18 часов)

**ХАРАКТЕРИСТИКИ**

- 1) давление не менялось и было выше 764 мм рт. ст.
- 2) давление росло
- 3) давление не менялось и было ниже 760 мм рт. ст.
- 4) давление падало

В таблице под каждой буквой укажите соответствующий номер.

Ответ:

А	Б	В	Г


8 Виктор старше Дениса, но младше Егора. Андрей не старше Виктора. Выберите утверждения, которые верны при указанных условиях.

- 1) Егор самый старший из указанных четырёх человек.
- 2) Андрей и Егор одного возраста.
- 3) Виктор и Денис одного возраста.
- 4) Денис младше Егора.

В ответе запишите номера выбранных утверждений без пробелов, запятых и других дополнительных символов.

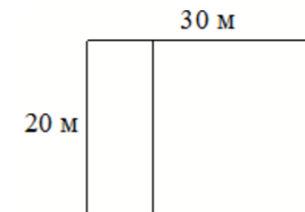
Ответ: \_\_\_\_\_.

9 На клетчатой бумаге с размером клетки 1 × 1 изображена фигура. Найдите её площадь.



Ответ: \_\_\_\_\_.

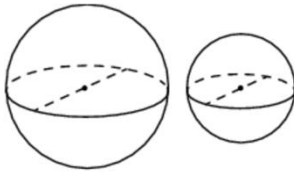
10 Дачный участок имеет форму прямоугольника со сторонами 20 метров и 30 метров. Хозяин планирует обнести его забором и разделить таким же забором на две части, одна из которых имеет форму квадрата. Найдите суммарную длину забора в метрах.



Ответ: \_\_\_\_\_.

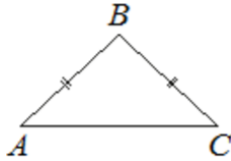


- 11** Однородный шар диаметром 3 см весит 162 грамма. Сколько граммов весит шар диаметром 2 см, изготовленный из того же материала?



Ответ: \_\_\_\_\_.

- 12** В равнобедренном треугольнике  $ABC$  основание  $AC$  равно 32, площадь треугольника равна 192. Найдите длину боковой стороны  $AB$ .



Ответ: \_\_\_\_\_.

- 13** Объём конуса равен  $60\pi$ , а его высота равна 5. Найдите радиус основания конуса.



Ответ: \_\_\_\_\_.

- 14** Найдите значение выражения

$$\frac{9,2}{0,5 - 2,8}$$

Ответ: \_\_\_\_\_.

- 15** В выборах участвовали два кандидата. Голоса избирателей распределились между ними в отношении 3:2. Сколько процентов голосов получил проигравший?

Ответ: \_\_\_\_\_.

- 16** Найдите значение выражения

$$\frac{\sqrt{288}}{3\sqrt{8}}$$

Ответ: \_\_\_\_\_.

- 17** Решите уравнение

$$x^2 + 11x = -28.$$

Если уравнение имеет более одного корня, в ответе укажите меньший из них.

Ответ: \_\_\_\_\_.



**18** Каждому из четырёх неравенств в левом столбце соответствует одно из решений в правом столбце. Установите соответствие между неравенствами и их решениями.

**НЕРАВЕНСТВА**

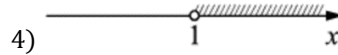

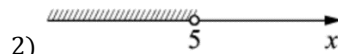
А)  $\log_4 x > 0$

Б)  $4^{-x+7} > 16$

В)  $\frac{x-1}{x-5} < 0$

Г)  $\frac{1}{(x-5)(x-1)} > 0$

**РЕШЕНИЯ**



Впишите в приведённую в ответе таблицу под каждой буквой соответствующий решению номер.

Ответ:

А	Б	В	Г

**19** Вычеркните в числе 85417627 три цифры так, чтобы получившееся число делилось на 18. В ответе укажите какое-нибудь одно получившееся число.

Ответ: \_\_\_\_\_.

**20** Первый и второй насосы наполняют бассейн за 10 минут, второй и третий — за 14 минут, а первый и третий — за 15 минут. За сколько минут эти три насоса заполнят бассейн, работая вместе?

Ответ: \_\_\_\_\_.

**21** Прямоугольник разбит на четыре меньших прямоугольника двумя прямолинейными разрезами. Периметры трёх из них, начиная с левого верхнего и далее по часовой стрелке, равны 24, 28 и 16. Найдите периметр четвёртого прямоугольника.

24	28
?	16

Ответ: \_\_\_\_\_.

*Не забудьте перенести все ответы в бланк ответов № 1 в соответствии с инструкцией по выполнению работы. Проверьте, чтобы каждый ответ был записан в строке с номером соответствующего задания.*

**О проекте «Пробный ЕГЭ каждую неделю»**

Данный ким составлен командой всероссийского волонтерского проекта «ЕГЭ 100баллов» <https://vk.com/ege100ballov> | <https://t.me/egeoge100ballov> и безвозмездно распространяется для любых некоммерческих образовательных целей.

**Нашли ошибку в варианте?**

Напишите нам, пожалуйста, и мы обязательно её исправим!  
 Для замечаний и пожеланий: [https://vk.com/topic-10175642\\_50324613](https://vk.com/topic-10175642_50324613)  
 (также доступны другие варианты для скачивания)



СОСТАВИТЕЛЬ ВАРИАНТА:	
<b>ФИО:</b>	Евгений Пифагор
<b>Предмет:</b>	Математика
<b>Стаж:</b>	12 лет готовлю к ЕГЭ и ОГЭ
<b>Регалии:</b>	Набрал <a href="#">100 баллов</a> на ЕГЭ по математике (профиль) Подготовил более 300 человек на 90 – 100 баллов Высшее образование (ТГУ, 2009-2014) Победитель трёх олимпиад по высшей математике
<b>Аккаунт и группа ВК:</b>	<a href="https://vk.com/eugene10">https://vk.com/eugene10</a> <a href="https://vk.com/shkolapifagora">https://vk.com/shkolapifagora</a>
<b>Ютуб и инстаграм:</b>	<a href="https://www.youtube.com/c/pifagor1">https://www.youtube.com/c/pifagor1</a> <a href="https://www.instagram.com/shkola_pifagora/">https://www.instagram.com/shkola_pifagora/</a>

**Система оценивания экзаменационной работы по математике (базовый уровень)**

Правильное решение каждого из заданий 1–21 оценивается 1 баллом. Задание считается выполненным верно, если ответ записан в той форме, которая указана в инструкции по выполнению задания, и полностью совпадает с эталоном ответа.

Номер задания	Правильный ответ	Текстовое решение	Видео решение
1	18		
2	2143		
3	12		
4	10		
5	0,18		
6	13		
7	3214		
8	14		
9	14		
10	120		
11	48		
12	20		
13	6		
14	-4		
15	40		
16	2		
17	-7		
18	4231		
19	84762 или 85176 или 54162		
20	8,4		
21	12		

ТРЕНИРОВОЧНЫЙ КИМ № 230911

