



Степень и логарифм

Свойства степени при $a > 0, b > 0$

$$a^{-n} = \frac{1}{a^n}$$

$$a^n \cdot a^m = a^{n+m}$$

$$\frac{a^n}{a^m} = a^{n-m}$$

$$(a^n)^m = a^{nm}$$

$$(ab)^n = a^n \cdot b^n$$

$$\left(\frac{a}{b}\right)^n = \frac{a^n}{b^n}$$

Свойства логарифма при $a > 0, a \neq 1, b > 0, x > 0, y > 0$

$$a^{\log_a b} = b$$

$$\log_a a = 1$$

$$\log_a 1 = 0$$

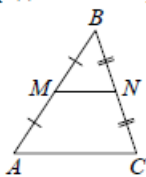
$$\log_a (xy) = \log_a x + \log_a y$$

$$\log_a \left(\frac{x}{y}\right) = \log_a x - \log_a y$$

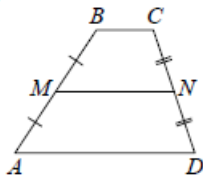
$$\log_a b^k = k \log_a b$$

Геометрия

Средняя линия треугольника и трапеции

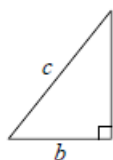


MN — ср. лин.
 $MN \parallel AC$
 $MN = \frac{AC}{2}$



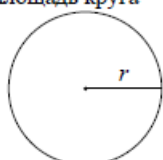
$BC \parallel AD$
 MN — ср. лин.
 $MN \parallel AD$
 $MN = \frac{BC + AD}{2}$

Теорема Пифагора



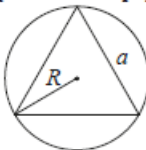
$$a^2 + b^2 = c^2$$

Длина окружности
Площадь круга

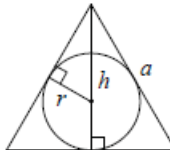


$C = 2\pi r$
 $S = \pi r^2$

Правильный треугольник



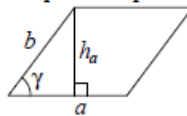
$R = \frac{a\sqrt{3}}{3}$
 $S = \frac{a^2\sqrt{3}}{4}$



$r = \frac{a\sqrt{3}}{6}$
 $h = \frac{a\sqrt{3}}{2}$

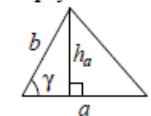
Площади фигур

Параллелограмм



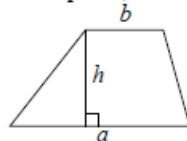
$S = ah_a$
 $S = ab \sin \gamma$

Треугольник



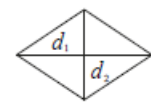
$S = \frac{1}{2} ah_a$
 $S = \frac{1}{2} ab \sin \gamma$

Трапеция



$S = \frac{a+b}{2} \cdot h$

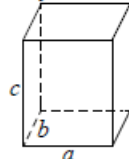
Ромб



d_1, d_2 — диагонали
 $S = \frac{1}{2} d_1 d_2$

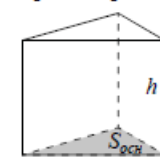
Площади поверхностей и объёмы тел

Прямоугольный параллелепипед



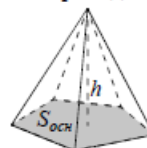
$V = abc$

Прямая призма



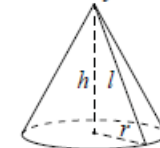
$V = S_{осн} h$

Пирамида



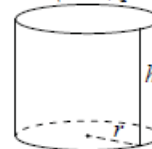
$V = \frac{1}{3} S_{осн} h$

Конус



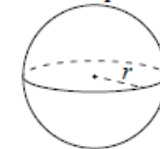
$V = \frac{1}{3} \pi r^2 h$
 $S_{бок} = \pi r l$

Цилиндр



$V = \pi r^2 h$
 $S_{бок} = 2\pi r h$

Шар

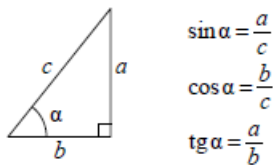


$V = \frac{4}{3} \pi r^3$
 $S = 4\pi r^2$

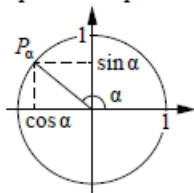
ege100ballov

Тригонометрические функции

Прямоугольный треугольник



Тригонометрическая окружность



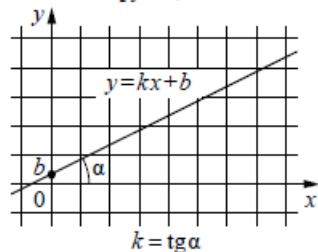
Основное тригонометрическое тождество: $\sin^2 \alpha + \cos^2 \alpha = 1$

Некоторые значения тригонометрических функций

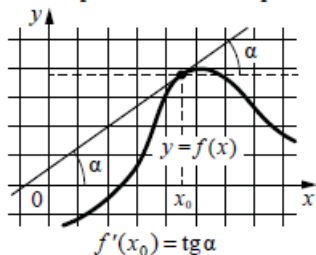
| α | радианы | 0 | $\frac{\pi}{6}$ | $\frac{\pi}{4}$ | $\frac{\pi}{3}$ | $\frac{\pi}{2}$ | π | $\frac{3\pi}{2}$ | 2π |
|----------------------------|---------|-----------|----------------------|----------------------|----------------------|-----------------|-------------|------------------|-------------|
| | градусы | 0° | 30° | 45° | 60° | 90° | 180° | 270° | 360° |
| $\sin \alpha$ | | 0 | $\frac{1}{2}$ | $\frac{\sqrt{2}}{2}$ | $\frac{\sqrt{3}}{2}$ | 1 | 0 | -1 | 0 |
| $\cos \alpha$ | | 1 | $\frac{\sqrt{3}}{2}$ | $\frac{\sqrt{2}}{2}$ | $\frac{1}{2}$ | 0 | -1 | 0 | 1 |
| $\operatorname{tg} \alpha$ | | 0 | $\frac{\sqrt{3}}{3}$ | 1 | $\sqrt{3}$ | — | 0 | — | 0 |

Функции

Линейная функция



Геометрический смысл производной



Ответом к каждому заданию является конечная десятичная дробь, или целое число, или последовательность цифр. Ответ сначала запишите в поле ответа в тексте работы, а затем перенесите в БЛАНК ОТВЕТОВ № 1 справа от номера соответствующего задания. Каждую цифру, знак «минус» и запятую пишите в отдельной клеточке в соответствии с приведёнными в бланке образцами. Единицы измерений писать не нужно.

1 За 12 минут велосипедист проехал 4 километра. Сколько километров он проедет за 33 минуты, если будет ехать с той же скоростью?
 Ответ: _____.

2 Установите соответствие между величинами и их возможными значениями: к каждому элементу первого столбца подберите соответствующий элемент из второго столбца.

ВЕЛИЧИНЫ

- А) объём воды в Азовском море
- Б) объём ящика с инструментами
- В) объём грузового отсека транспортного самолёта
- Г) объём бутылки растительного масла

ЗНАЧЕНИЯ

- 1) 150 м^3
- 2) 1 л
- 3) 36 л
- 4) 256 км^3

В таблице под каждой буквой, соответствующей величине, укажите номер её возможного значения.

Ответ:

| | | | |
|---|---|---|---|
| А | Б | В | Г |
| | | | |

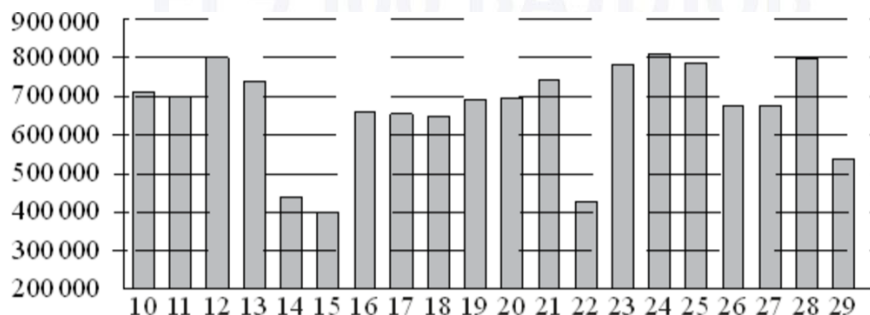
vk.com/ege100ballov



ТРЕНИРОВОЧНЫЙ КИМ № 230911



- 3 На диаграмме показано количество посетителей сайта РИА «Новости» во все дни с 10 по 29 ноября 2009 года. По горизонтали указываются дни месяца, по вертикали – количество посетителей сайта за данный день. Определите по диаграмме, какого числа количество посетителей сайта РИА «Новости» было наименьшим за указанный период.



Ответ: _____.

- 4 В фирме «Эх, прокачу!» стоимость поездки на такси длительностью меньше 5 минут составляет 150 рублей. Если поездка длится 5 минут или более, то её стоимость (в рублях) рассчитывается по формуле $C = 150 + 11(t - 5)$, где t – длительность поездки, выраженная в минутах ($t \geq 5$). Пользуясь этой формулой, рассчитайте стоимость 10-минутной поездки. Ответ укажите в рублях.

Ответ: _____.

- 5 В фирме такси в наличии 20 легковых автомобилей: 7 из них чёрного цвета с жёлтыми надписями на боках, остальные – жёлтого цвета с чёрными надписями. Найдите вероятность того, что на случайный вызов придет машина жёлтого цвета с чёрными надписями.

Ответ: _____.

- 6 Путешественник из Москвы хочет посетить четыре города Золотого кольца России: Владимир, Ярославль, Суздаль и Ростов Великий. Турагентство предлагает маршруты с посещением некоторых городов Золотого кольца. Сведения о стоимости билетов и маршрутах представлены в таблице.

| Номер маршрута | Посещаемые города | Стоимость (руб.) |
|----------------|-----------------------------|------------------|
| 1 | Ярославль | 1700 |
| 2 | Суздаль, Ярославль | 2650 |
| 3 | Владимир, Суздаль | 2250 |
| 4 | Владимир, Ростов | 2150 |
| 5 | Ярославль, Владимир, Ростов | 3950 |
| 6 | Суздаль, Ростов | 2300 |

Какие маршруты должен выбрать путешественник, чтобы побывать во всех четырёх городах и затратить менее 5000 рублей?

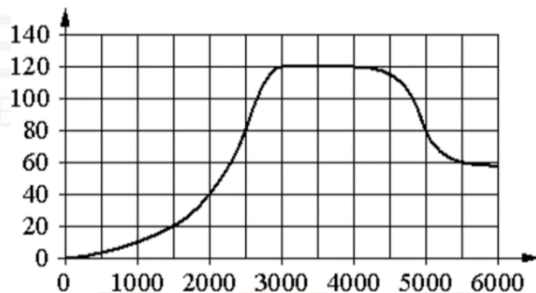
В ответе укажите какой-нибудь один набор номеров маршрутов без пробелов, запятых и других дополнительных символов.

Ответ: _____.

vk.com/ege100ballov



7 На графике изображена зависимость крутящего момента двигателя от числа оборотов в минуту. На горизонтальной оси отмечено число оборотов в минуту, на вертикальной оси – крутящий момент в Н · м.



Пользуясь графиком, поставьте в соответствие каждому интервалу числа оборотов в минуту характеристику крутящего момента.

ИНТЕРВАЛЫ

- А) 0-2000 об./мин.
- Б) 2000-3000 об./мин.
- В) 3000-4000 об./мин.
- Г) 4000-6000 об./мин.

ХАРАКТЕРИСТИКИ

- 1) крутящий момент не меняется на всём интервале
- 2) при увеличении числа оборотов самый быстрый рост крутящего момента
- 3) крутящий момент не превышает 40 Н · м на всём интервале
- 4) при увеличении числа оборотов крутящий момент падает

В таблице под каждой буквой укажите соответствующий номер.

Ответ:

| | | | |
|---|---|---|---|
| А | Б | В | Г |
| | | | |

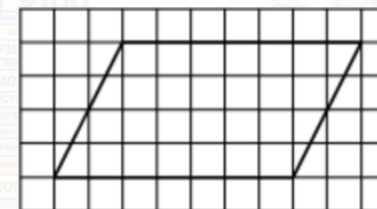
8 Когда какая-нибудь кошка идёт по забору, пёс Шарик, живущий в будке возле дома, обязательно лает. Выберите утверждения, которые верны при приведённом условии.

- 1) Если Шарик не лает, значит, по забору идёт кошка.
- 2) Если Шарик молчит, значит, кошка по забору не идёт.
- 3) Если по забору идёт чёрная кошка, Шарик не лает.
- 4) Если по забору пойдёт белая кошка, Шарик будет лаять.

В ответе запишите номера выбранных утверждений без пробелов, запятых и других дополнительных символов.

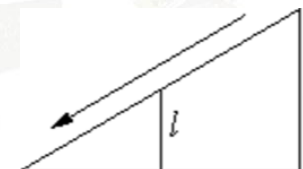
Ответ: _____.

9 На клетчатой бумаге с размером клетки 1 × 1 изображён параллелограмм. Найдите его площадь.



Ответ: _____.

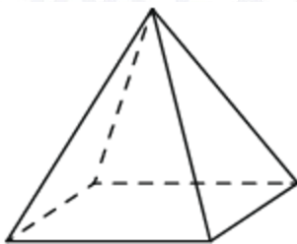
10 Столб подпирает детскую горку посередине. Найдите высоту l этого столба, если высота h горки равна 4,2 м. Ответ дайте в метрах.



Ответ: _____.

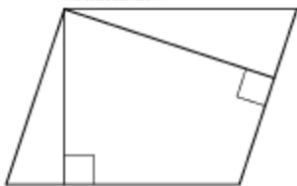


- 11** Пирамида Хеопса имеет форму правильной четырёхугольной пирамиды, сторона основания которой равна 230 м, а высота – 147 м. Сторона основания точной музейной копии этой пирамиды равна 23 см. Найдите высоту музейной копии. Ответ дайте в сантиметрах.



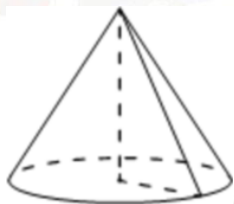
Ответ: _____.

- 12** Стороны параллелограмма равны 9 и 12. Высота, опущенная на меньшую сторону, равна 8. Найдите высоту, опущенную на большую сторону параллелограмма.



Ответ: _____.

- 13** Объём конуса равен 9π , а радиус его основания равен 3. Найдите высоту конуса.



Ответ: _____.

- 14** Найдите значение выражения

$$(1,7 + 2,8) \cdot 24.$$

Ответ: _____.

- 15** В начале года число абонентов телефонной компании «Восток» составляло 800 тыс. человек, а в конце года их стало 880 тыс. человек. На сколько процентов увеличилось за год число абонентов этой компании?

Ответ: _____.

- 16** Найдите значение выражения

$$38 \cdot 10 - 1,3 \cdot 10^2.$$

Ответ: _____.

- 17** Найдите корень уравнения

$$\log_3(x - 3) + \log_3 2 = \log_3 10.$$

Ответ: _____.



18 Каждому из четырёх неравенств в левом столбце соответствует одно из решений в правом столбце. Установите соответствие между неравенствами и их решениями.

НЕРАВЕНСТВА


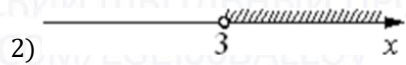
А) $\frac{x-5}{(x-3)^2} < 0$

Б) $5^{-x+1} < \frac{1}{25}$

В) $(x-3)(x-5) > 0$

Г) $\log_2(x-3) < 1$

РЕШЕНИЯ



Впишите в приведённую в ответе таблицу под каждой буквой соответствующую цифру.

Ответ:

| | | | |
|---|---|---|---|
| А | Б | В | Г |
| | | | |

19 Найдите четырёхзначное число, кратное 33, все цифры которого различны и нечётны. В ответе укажите какое-нибудь одно такое число.

Ответ: _____.

20 Валя и Галя пропалывают грядку за 35 минут, а одна Галя — за 60 минут. За сколько минут пропалывает грядку одна Валя?

Ответ: _____.

21 На поверхности глобуса фломастером проведены 17 параллелей и 24 меридиана. На сколько частей проведённые линии разделили поверхность глобуса? Меридиан — это дуга окружности, соединяющая Северный и Южный полюсы. Параллель — это окружность, лежащая в плоскости, параллельной плоскости экватора.

Ответ: _____.

Не забудьте перенести все ответы в бланк ответов № 1 в соответствии с инструкцией по выполнению работы.

Проверьте, чтобы каждый ответ был записан в строке с номером соответствующего задания.

О проекте «Пробный ЕГЭ каждую неделю»

Данный ким составлен командой всероссийского волонтерского проекта «ЕГЭ 100баллов» <https://vk.com/ege100ballov> | <https://t.me/egeoge100ballov> и безвозмездно распространяется для любых некоммерческих образовательных целей.

Нашли ошибку в варианте?

Напишите нам, пожалуйста, и мы обязательно её исправим!

Для замечаний и пожеланий: https://vk.com/topic-10175642_50324613
(также доступны другие варианты для скачивания)










































СОСТАВИТЕЛЬ ВАРИАНТА:

| | |
|-----------------------------|---|
| ФИО: | Евгений Пифагор |
| Предмет: | Математика |
| Стаж: | 12 лет готовлю к ЕГЭ и ОГЭ |
| Регалии: | Набрал 100 баллов на ЕГЭ по математике (профиль) Подготовил более 300 человек на 90 – 100 баллов Высшее образование (ТГУ, 2009-2014) Победитель трёх олимпиад по высшей математике |
| Аккаунт и группа ВК: | https://vk.com/eugene10 https://vk.com/shkolapifagora |
| Ютуб и инстаграм: | https://www.youtube.com/c/pifagor1 https://www.instagram.com/shkola_pifagora/ |




**Система оценивания экзаменационной работы по математике
(базовый уровень)**

Правильное решение каждого из заданий 1–21 оценивается 1 баллом. Задание считается выполненным верно, если ответ записан в той форме, которая указана в инструкции по выполнению задания, и полностью совпадает с эталоном ответа.

| Номер задания | Правильный ответ | Текстовое решение | Видео решение |
|---------------|---------------------------------|---|---|
| 1 | 11 |  |  |
| 2 | 4312 |  |  |
| 3 | 15 |  |  |
| 4 | 205 |  |  |
| 5 | 0,65 |  |  |
| 6 | 24 |  |  |
| 7 | 3214 |  |  |
| 8 | 24 |  |  |
| 9 | 28 |  |  |
| 10 | 2,1 |  |  |
| 11 | 14,7 |  |  |
| 12 | 6 |  |  |
| 13 | 3 |  |  |
| 14 | 108 |  |  |
| 15 | 10 |  |  |
| 16 | 250 |  |  |
| 17 | 8 |  |  |
| 18 | 4213 |  |  |
| 19 | 3795 или 9735 или 3597 или 9537 |  |  |
| 20 | 84 | |  |
| 21 | 432 |  |  |

ЕГЭ 100 БАЛЛОВ
ВСЕРОССИЙСКИЙ ШКОЛЬНЫЙ ПРОЕКТ
VK.COM/EGE100BALLOV



vk.com/ege100ballov

