

**РЕГИОНАЛЬНАЯ
ДИАГНОСТИЧЕСКАЯ РАБОТА**

4 класс

ОКРУЖАЮЩИЙ МИР

Демонстрационный вариант

ИНСТРУКЦИЯ ПО ВЫПОЛНЕНИЮ РАБОТЫ

На выполнение работы по учебному предмету «Окружающий мир» отводится 30 минут. Работа включает в себя 6 заданий.



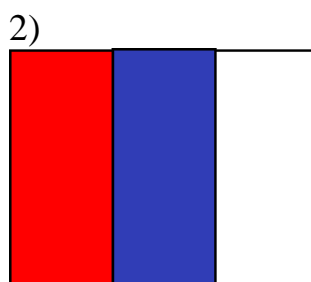

Ответы на задания запиши в поле ответа в тексте работы. При выполнении работы не разрешается пользоваться учебником, рабочими тетрадями и другим справочным материалом.

Советуем выполнять задания в том порядке, в котором они даны. Для экономии времени пропускай задание, которое не удаётся выполнить сразу, и переходи к следующему. Постарайся выполнить как можно больше заданий.

Желаем успеха!

Задание 1

Укажи, под каким номером изображен флаг Российской Федерации



Ответ: _____.

Задание 2

Жемчужиной Золотого Кольца называют древний Ярославль. Он основан на месте языческого капища великим князем Ярославом Мудрым в 1010 году. По легенде князь в честном бою сразил секирой медведицу, которой поклонялись местные жители. Увидев силу князя, они добровольно покорились ему.

В каком веке произошло это событие?

Укажи этот век на «Ленте времени».

Века н. э.

IX	X	XI	XII	XIII	XIV	XV	XVI	XVII	XVIII	XIX	XX	XXI
----	---	----	-----	------	-----	----	-----	------	-------	-----	----	-----

Задание 3

Определи даты исторических событий.

Соедини название события и соответствующую ему дату.

Дата	Событие
1) 1147 год	а) Окончание Великой Отечественной войны
2) 1945 год	б) Начало Отечественной войны
3) 1812 год	в) Первое упоминание о Москве

Запиши пары букв и соответствующих цифр: _____

Задание 4

Укажи век, в котором человек впервые вышел в космос.

- 1) XX век
- 2) XIX век
- 3) XVII век
- 4) XVI век

Задание 5

Международный женский день – международный праздник в честь женщин.

В России его официально отмечают в начале марта.

2023

Январь							Февраль							Март							Апрель							
ПН	ВТ	СР	ЧТ	ПТ	СБ	ВС	ПН	ВТ	СР	ЧТ	ПТ	СБ	ВС	ПН	ВТ	СР	ЧТ	ПТ	СБ	ВС	ПН	ВТ	СР	ЧТ	ПТ	СБ	ВС	
						1			1	2	3	4	5			1	2	3	4	5						1	2	
2	3	4	5	6	7	8	6	7	8	9	10	11	12	6	7	8	9	10	11	12	3	4	5	6	7	8	9	
9	10	11	12	13	14	15	13	14	15	16	17	18	19	13	14	15	16	17	18	19	10	11	12	13	14	15	16	
16	17	18	19	20	21	22	20	21	22	23	24	25	26	20	21	22	23	24	25	26	17	18	19	20	21	22	23	
23	24	25	26	27	28	29	27	28						27	28	29	30	31			24	25	26	27	28	29	30	
30	31																											
Май							Июнь							Июль							Август							
ПН	ВТ	СР	ЧТ	ПТ	СБ	ВС	ПН	ВТ	СР	ЧТ	ПТ	СБ	ВС	ПН	ВТ	СР	ЧТ	ПТ	СБ	ВС	ПН	ВТ	СР	ЧТ	ПТ	СБ	ВС	
1	2	3	4	5	6	7				1	2	3	4						1	2			1	2	3	4	5	6
8	9	10	11	12	13	14	5	6	7	8	9	10	11	3	4	5	6	7	8	9	7	8	9	10	11	12	13	
15	16	17	18	19	20	21	12	13	14	15	16	17	18	10	11	12	13	14	15	16	14	15	16	17	18	19	20	
22	23	24	25	26	27	28	19	20	21	22	23	24	25	17	18	19	20	21	22	23	21	22	23	24	25	26	27	
29	30	31					26	27	28	29	30			24	25	26	27	28	29	30	28	29	30	31				
														31														
Сентябрь							Октябрь							Ноябрь							Декабрь							
ПН	ВТ	СР	ЧТ	ПТ	СБ	ВС	ПН	ВТ	СР	ЧТ	ПТ	СБ	ВС	ПН	ВТ	СР	ЧТ	ПТ	СБ	ВС	ПН	ВТ	СР	ЧТ	ПТ	СБ	ВС	
					1	2							1			1	2	3	4	5					1	2	3	
4	5	6	7	8	9	10	2	3	4	5	6	7	8	6	7	8	9	10	11	12	4	5	6	7	8	9	10	
11	12	13	14	15	16	17	9	10	11	12	13	14	15	13	14	15	16	17	18	19	11	12	13	14	15	16	17	
18	19	20	21	22	23	24	16	17	18	19	20	21	22	20	21	22	23	24	25	26	18	19	20	21	22	23	24	
25	26	27	28	29	30	31	23	24	25	26	27	28	29	27	28	29	30				25	26	27	28	29	30	31	
							30	31																				

5.1. Обведи эту дату в календаре.

5.2. Запиши, на какой день недели приходился этот день в 2023 году.

Ответ: _____

5.3. Как ты думаешь, почему этот день важен для каждого человека?

(Напиши ответ объёмом до пяти предложений.)

Задание 6

6.1. Московская область входит в состав Центрального Федерального округа Российской Федерации. В настоящее время Московская область состоит из 57 муниципальных образований.

Запиши название муниципального образования, в котором ты живёшь.

Ответ:

Как называется самый крупный город муниципального образования, в котором ты живёшь?

Ответ:

6.2. Какими народными промыслами славится муниципальное образование, в котором ты живёшь?

Ответ:

6.3. Какие достопримечательности находятся в муниципальном образовании, в котором ты живёшь? Расскажи об одной из этих достопримечательностей.

Ответ:

**Система оценивания диагностической работы
Демонстрационный вариант**

Оценивание кратких ответов на задания 1 - 4

Номер задания	Ответ	Балл
1	3	1
2	XI	1
3	1в, 2а, 3б	1
4	1) XX	1

Указания к оцениванию ответов на задания 5 и 6

Задание 5	Критерий	Балл
5.1	Отметка дня в календаре	1
	Дата в календаре отмечена верно (обведено 8 марта)	1
	Дата в календаре отмечена неверно	0
	Ответ отсутствует	х
5.2	Запись даты и дня недели	1
	День недели записан верно (среда)	1
	День недели записан неверно	0
	Ответ отсутствует	х
5.3	Ответ на вопрос	1
	Дан ответ на вопрос, содержащий не менее одного обоснования	1
	Ответ не содержит обоснований / ответ не относится к заданию	0
	Ответ отсутствует	х
	<i>Максимальный балл</i>	3

Задание 6	Критерий	Балл
6.1	Название муниципального образования и его крупный город	2
	Правильно указано название муниципального образования и самый крупный город муниципального образования	2
	Правильно указано только название муниципального образования ИЛИ Правильно указан только самый крупный город муниципального образования	1
	Ответ неправильный	0
6.2	Указание народных промыслов, которыми славится муниципальное образование	1
	Правильно указан(-ы) народный(-ые) промысел(-ы), которым(-ыми) известно муниципальное образование	1
	Народный(-ые) промысел(-ы), которым(-ыми) известно муниципальное образование, не указан(-ы) или указан(-ы) неправильно	0
	Ответ отсутствует	x
6.3	Название достопримечательности муниципального образования	1
	Достопримечательность(-и) названа(-ы) правильно	1
	Достопримечательность(-и) названа(-ы) неправильно	0
	Ответ отсутствует	x
	Рассказ о достопримечательности	2
	Рассказ наряду с впечатлениями от посещения достопримечательности, просмотра фильмов о ней и т.п. содержит основные сведения о ней. Фактических ошибок нет	2
	Рассказ наряду с впечатлениями от посещения достопримечательности, просмотра фильмов о ней и т.п. содержит основные сведения о ней; в рассказе допущены фактические ошибки. ИЛИ Рассказ содержит только впечатления от достопримечательности	1
	Приведены рассуждения общего характера, не соответствующие требованию задания. ИЛИ Ответ неправильный	0
	Ответ отсутствует	x
	<i>Максимальный балл</i>	6

X – проставляется в случае отсутствия ответов (регистр буквы и раскладка клавиатуры может быть любой)