





**Степень и логарифм**

Свойства степени при  $a > 0, b > 0$

$$a^{-n} = \frac{1}{a^n}$$

$$a^n \cdot a^m = a^{n+m}$$

$$\frac{a^n}{a^m} = a^{n-m}$$

$$(a^n)^m = a^{nm}$$

$$(ab)^n = a^n \cdot b^n$$

$$\left(\frac{a}{b}\right)^n = \frac{a^n}{b^n}$$

Свойства логарифма при  $a > 0, a \neq 1, b > 0, x > 0, y > 0$

$$a^{\log_a b} = b$$

$$\log_a a = 1$$

$$\log_a 1 = 0$$

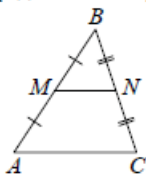
$$\log_a (xy) = \log_a x + \log_a y$$

$$\log_a \left(\frac{x}{y}\right) = \log_a x - \log_a y$$

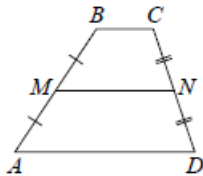
$$\log_a b^k = k \log_a b$$

**Геометрия**

Средняя линия треугольника и трапеции

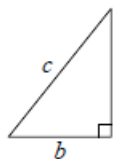


$MN$  — ср. лин.  
 $MN \parallel AC$   
 $MN = \frac{AC}{2}$



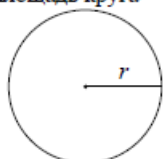
$BC \parallel AD$   
 $MN$  — ср. лин.  
 $MN \parallel AD$   
 $MN = \frac{BC + AD}{2}$

Теорема Пифагора



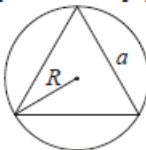
$$a^2 + b^2 = c^2$$

Длина окружности  
Площадь круга

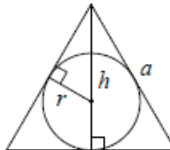


$C = 2\pi r$   
 $S = \pi r^2$

Правильный треугольник



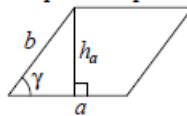
$R = \frac{a\sqrt{3}}{3}$   
 $S = \frac{a^2\sqrt{3}}{4}$



$r = \frac{a\sqrt{3}}{6}$   
 $h = \frac{a\sqrt{3}}{2}$

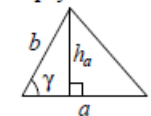
**Площади фигур**

Параллелограмм



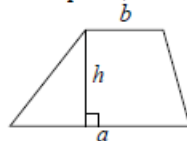
$S = ah_a$   
 $S = ab \sin \gamma$

Треугольник



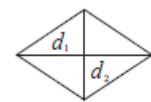
$S = \frac{1}{2} ah_a$   
 $S = \frac{1}{2} ab \sin \gamma$

Трапеция



$S = \frac{a+b}{2} \cdot h$

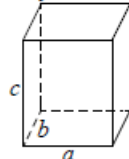
Ромб



$d_1, d_2$  — диагонали  
 $S = \frac{1}{2} d_1 d_2$

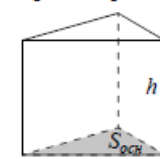
**Площади поверхностей и объёмы тел**

Прямоугольный параллелепипед



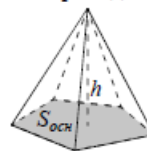
$V = abc$

Прямая призма



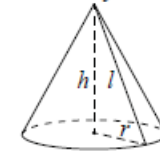
$V = S_{осн} h$

Пирамида



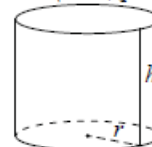
$V = \frac{1}{3} S_{осн} h$

Конус



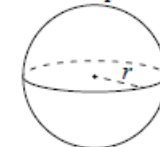
$V = \frac{1}{3} \pi r^2 h$   
 $S_{бок} = \pi r l$

Цилиндр



$V = \pi r^2 h$   
 $S_{бок} = 2\pi r h$

Шар

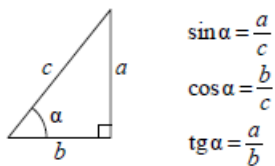


$V = \frac{4}{3} \pi r^3$   
 $S = 4\pi r^2$

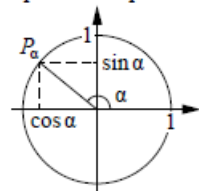
ege100ballov

**Тригонометрические функции**

Прямоугольный треугольник



Тригонометрическая окружность



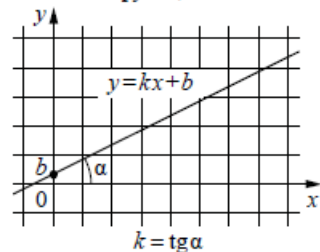
Основное тригонометрическое тождество:  $\sin^2 \alpha + \cos^2 \alpha = 1$

Некоторые значения тригонометрических функций

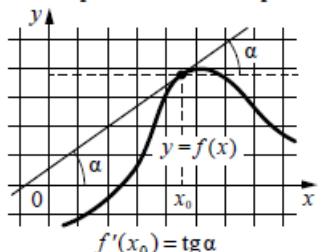
$\alpha$	радианы	0	$\frac{\pi}{6}$	$\frac{\pi}{4}$	$\frac{\pi}{3}$	$\frac{\pi}{2}$	$\pi$	$\frac{3\pi}{2}$	$2\pi$
	градусы	$0^\circ$	$30^\circ$	$45^\circ$	$60^\circ$	$90^\circ$	$180^\circ$	$270^\circ$	$360^\circ$
$\sin \alpha$		0	$\frac{1}{2}$	$\frac{\sqrt{2}}{2}$	$\frac{\sqrt{3}}{2}$	1	0	-1	0
$\cos \alpha$		1	$\frac{\sqrt{3}}{2}$	$\frac{\sqrt{2}}{2}$	$\frac{1}{2}$	0	-1	0	1
$\operatorname{tg} \alpha$		0	$\frac{\sqrt{3}}{3}$	1	$\sqrt{3}$	—	0	—	0

**Функции**

Линейная функция



Геометрический смысл производной



Ответом к каждому заданию является конечная десятичная дробь, или целое число, или последовательность цифр. Ответ сначала запишите в поле ответа в тексте работы, а затем перенесите в БЛАНК ОТВЕТОВ № 1 справа от номера соответствующего задания. Каждую цифру, знак «минус» и запятую пишите в отдельной клеточке в соответствии с приведёнными в бланке образцами. Единицы измерений писать не нужно.

**1** Мотоциклист проехал 14 километров за 21 минуту. Сколько километров он проедет за 30 минут, если будет ехать с той же скоростью?  
 Ответ: \_\_\_\_\_.

**2** Установите соответствие между величинами и их возможными значениями: к каждому элементу первого столбца подберите соответствующий элемент из второго столбца.

**ВЕЛИЧИНЫ**

- А) масса двухлитрового пакета сока
- Б) масса взрослого кита
- В) масса косточки персика
- Г) масса таблетки лекарства

**ЗНАЧЕНИЯ**

- 1) 130 г
- 2) 2 кг
- 3) 400 мг
- 4) 8 г

В таблице под каждой буквой, соответствующей величине, укажите номер её возможного значения.

Ответ:

А	Б	В	Г

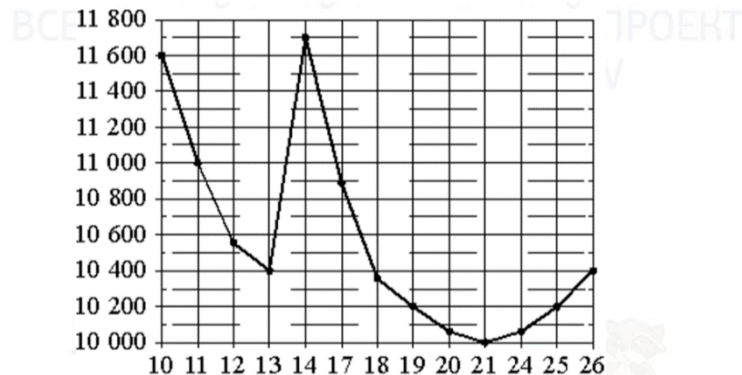
vk.com/ege100ballov



ТРЕНИРОВОЧНЫЙ КИМ № 230911



- 3 На рисунке жирными точками показана цена никеля на момент закрытия биржевых торгов во все рабочие дни с 10 по 26 ноября 2008 года. По горизонтали указаны числа месяца, по вертикали – цена никеля в долларах США за тонну. Для наглядности жирные точки на рисунке соединены линией. Определите по рисунку наименьшую цену никеля на момент закрытия торгов за данный период. Ответ дайте в долларах США за тонну.



Ответ: \_\_\_\_\_.

- 4 Площадь треугольника можно вычислить по формуле  $S = \frac{abc}{4R}$ , где  $a$ ,  $b$  и  $c$  – стороны треугольника, а  $R$  – радиус окружности, описанной около этого треугольника. Пользуясь этой формулой, найдите  $S$ , если  $a = 10$ ,  $b = 9$ ,  $c = 17$  и  $R = \frac{85}{8}$ .

Ответ: \_\_\_\_\_.

- 5 В соревнованиях по толканию ядра участвуют 9 спортсменов из Дании, 3 спортсмена из Швеции, 8 спортсменов из Норвегии и 5 – из Финляндии. Порядок, в котором выступают спортсмены, определяется жребием. Найдите вероятность того, что спортсмен, выступающий последним, окажется из Финляндии.

Ответ: \_\_\_\_\_.

- 6 В городском парке имеется пять аттракционов: карусель, колесо обозрения, автодром, «Ромашка» и «Весёлый тир». В кассах продаётся шесть видов билетов, каждый из которых позволяет посетить один или два аттракциона. Сведения о стоимости билетов представлены в таблице.

Номер билета	Набор аттракционов	Стоимость (руб.)
1	«Весёлый тир», автодром	300
2	Колесо обозрения, «Весёлый тир»	400
3	Автодром, «Ромашка»	400
4	Колесо обозрения	150
5	Карусель, «Ромашка»	300
6	Карусель, колесо обозрения	350

Какие билеты должен купить Андрей, чтобы посетить все пять аттракционов и затратить не более 750 рублей?

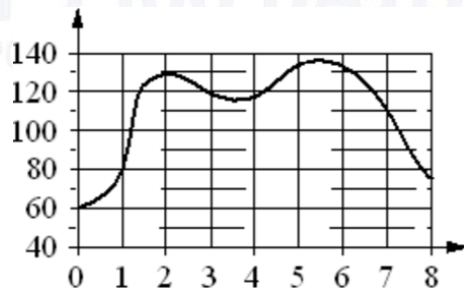
В ответе укажите какой-нибудь один набор номеров билетов без пробелов, запятых и других дополнительных символов.

Ответ: \_\_\_\_\_.

vk.com/ege100ballov



- 7 На графике изображена зависимость частоты пульса гимнаста от времени в течение и после его выступления в вольных упражнениях. На горизонтальной оси отмечено время (в минутах), прошедшее с начала выступления гимнаста, на вертикальной оси – частота пульса (в ударах в минуту).



Пользуясь графиком, поставьте в соответствие каждому интервалу времени характеристику пульса гимнаста на этом интервале.

**ИНТЕРВАЛЫ ВРЕМЕНИ**

**ХАРАКТЕРИСТИКИ**

- |            |  |
|------------|--|
| А) 4-5 мин | 1) частота пульса упала до 110 уд./мин.                                    |
| Б) 5-6 мин | 2) частота пульса упала ниже 80 уд./мин.                                   |
| В) 6-7 мин | 3) частота пульса достигла максимума за всё время выступления и после него |
| Г) 7-8 мин | 4) частота пульса росла на всём интервале                                  |

В таблице под каждой буквой укажите соответствующий номер.

Ответ:

А	Б	В	Г


- 8 В группе учатся 30 студентов, из них 20 человек сдали зачёт по экономике и 20 сдали зачёт по английскому языку. Выберите утверждения, которые верны при указанных условиях.

- 1) В этой группе найдётся 11 студентов, не сдавших ни одного из этих двух зачётов.
- 2) Хотя бы 10 студентов из этой группы сдали зачёты и по экономике, и по английскому языку.
- 3) Не более 20 студентов из этой группы сдали зачёты и по экономике, и по английскому языку.
- 4) В этой группе найдётся 20 студентов, которые не сдали зачёта по английскому языку, но сдали зачёт по экономике.

В ответе запишите номера выбранных утверждений без пробелов, запятых и других дополнительных символов.

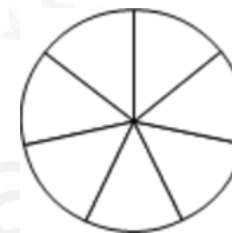
Ответ: \_\_\_\_\_.

- 9 План местности разбит на клетки. Каждая клетка обозначает квадрат 1 м × 1 м. Найдите площадь участка, выделенного на плане. Ответ дайте в квадратных метрах.



Ответ: \_\_\_\_\_.

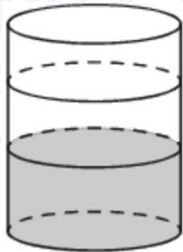
- 10 На рисунке показано, как выглядит колесо с 7 спицами. Сколько будет спиц в колесе, если угол между соседними спицами в нём будет равен 30°?



Ответ: \_\_\_\_\_.

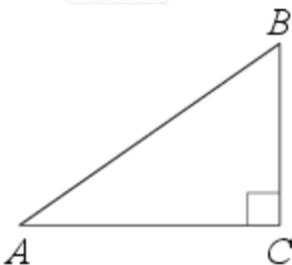


- 11** В бак, имеющий форму цилиндра, налито 5 л воды. После полного погружения в воду детали уровень воды в баке поднялся в 1,2 раза. Найдите объём детали. Ответ дайте в кубических сантиметрах, зная, что в одном литре 1000 кубических сантиметров.



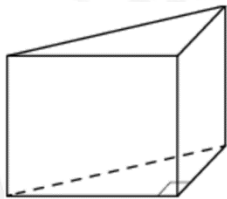
Ответ: \_\_\_\_\_.

- 12** В треугольнике  $ABC$  угол  $C$  равен  $90^\circ$ ,  $AB = 25$ ,  $AC = 24$ . Найдите  $\cos B$ .



Ответ: \_\_\_\_\_.

- 13** В основании прямой призмы лежит прямоугольный треугольник, один из катетов которого равен 3, а гипотенуза равна  $\sqrt{34}$ . Найдите объём призмы, если её высота равна 6.



Ответ: \_\_\_\_\_.

- 14** Найдите значение выражения

$$\frac{2,6 - 2,6}{7,8}$$

Ответ: \_\_\_\_\_.

- 15** Поступивший в продажу в апреле мобильный телефон стоил 2800 рублей. В мае он стал стоить 1820 рублей. На сколько процентов снизилась цена мобильного телефона в период с апреля по май?

Ответ: \_\_\_\_\_.

- 16** Найдите

$$\sin \alpha, \text{ если } \cos \alpha = \frac{\sqrt{91}}{10} \text{ и } 0^\circ < \alpha < 90^\circ.$$

Ответ: \_\_\_\_\_.

- 17** Найдите корень уравнения

$$2 + 9x = 4x + 3.$$

Ответ: \_\_\_\_\_.



- 18 Каждому из четырёх неравенств в левом столбце соответствует одно из решений в правом столбце. Установите соответствие между неравенствами и их решениями.

**НЕРАВЕНСТВА**

А)  $\log_4 x > 0$

Б)  $4^{-x+7} > 16$

В)  $\frac{x-1}{x-5} < 0$

Г)  $\frac{1}{(x-5)(x-1)} > 0$

**РЕШЕНИЯ**

1)  $x < 1$  или  $x > 5$

2)  $x > 1$

3)  $x < 5$

4)  $1 < x < 5$

Впишите в приведённую в ответе таблицу под каждой буквой соответствующую цифру.

Ответ:

А	Б	В	Г

- 19 Найдите трёхзначное натуральное число, большее 600, которое при делении на 3, на 4 и на 5 даёт в остатке 1 и цифры которого расположены в порядке убывания слева направо. В ответе укажите какое-нибудь одно такое число.

Ответ: \_\_\_\_\_.

- 20 Изюм получается в процессе сушки винограда. Сколько килограммов винограда потребуется для получения 42 килограммов изюма, если виноград содержит 82% воды, а изюм содержит 19% воды?

Ответ: \_\_\_\_\_.

- 21 В корзине лежит 40 грибов: рыжики и грузди. Известно, что среди любых 17 грибов имеется хотя бы один рыжик, а среди любых 25 грибов хотя бы один груздь. Сколько рыжиков в корзине?

Ответ: \_\_\_\_\_.

**Не забудьте перенести все ответы в бланк ответов № 1 в соответствии с инструкцией по выполнению работы.**

**Проверьте, чтобы каждый ответ был записан в строке с номером соответствующего задания.**

**О проекте «Пробный ЕГЭ каждую неделю»**

Данный ким составлен командой всероссийского волонтерского проекта «ЕГЭ 100баллов» <https://vk.com/ege100ballov> | <https://t.me/egeoge100ballov> и безвозмездно распространяется для любых некоммерческих образовательных целей.

**Нашли ошибку в варианте?**

Напишите нам, пожалуйста, и мы обязательно её исправим!  
Для замечаний и пожеланий: [https://vk.com/topic-10175642\\_50324613](https://vk.com/topic-10175642_50324613)  
(также доступны другие варианты для скачивания)










































**СОСТАВИТЕЛЬ ВАРИАНТА:**

<b>ФИО:</b>	Евгений Пифагор
<b>Предмет:</b>	Математика
<b>Стаж:</b>	12 лет готовлю к ЕГЭ и ОГЭ
<b>Регалии:</b>	Набрал <b>100 баллов</b> на ЕГЭ по математике (профиль) Подготовил более 300 человек на 90 – 100 баллов Высшее образование (ТГУ, 2009-2014) Победитель трёх олимпиад по высшей математике
<b>Аккаунт и группа ВК:</b>	<a href="https://vk.com/eugene10">https://vk.com/eugene10</a> <a href="https://vk.com/shkolapifagora">https://vk.com/shkolapifagora</a>
<b>Ютуб и инстаграм:</b>	<a href="https://www.youtube.com/c/pifagor1">https://www.youtube.com/c/pifagor1</a> <a href="https://www.instagram.com/shkola_pifagora/">https://www.instagram.com/shkola_pifagora/</a>



**Система оценивания экзаменационной работы по математике  
(базовый уровень)**

Правильное решение каждого из заданий 1–21 оценивается 1 баллом. Задание считается выполненным верно, если ответ записан в той форме, которая указана в инструкции по выполнению задания, и полностью совпадает с эталоном ответа.

Номер задания	Правильный ответ	Текстовое решение	Видео решение
1	20		
2	2143		
3	10000		
4	36		
5	0,2		
6	145		
7	4312		
8	23		
9	10		
10	12		
11	1000		
12	0,28		
13	45		
14	0		
15	35		
16	0,3		
17	0,2		
18	2341		
19	721 или 841 или 961		
20	189		
21	24		

ЕГЭ 100 БАЛЛОВ  
ВСЕРОССИЙСКИЙ ШКОЛЬНЫЙ ПРОЕКТ  
VK.COM/EGE100BALLOV



vk.com/ege100ballov

