



Степень и логарифм

Свойства степени при $a > 0, b > 0$

$$a^{-n} = \frac{1}{a^n}$$

$$a^n \cdot a^m = a^{n+m}$$

$$\frac{a^n}{a^m} = a^{n-m}$$

$$(a^n)^m = a^{nm}$$

$$(ab)^n = a^n \cdot b^n$$

$$\left(\frac{a}{b}\right)^n = \frac{a^n}{b^n}$$

Свойства логарифма при $a > 0, a \neq 1, b > 0, x > 0, y > 0$

$$a^{\log_a b} = b$$

$$\log_a a = 1$$

$$\log_a 1 = 0$$

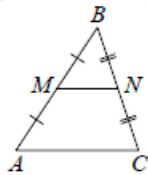
$$\log_a (xy) = \log_a x + \log_a y$$

$$\log_a \left(\frac{x}{y}\right) = \log_a x - \log_a y$$

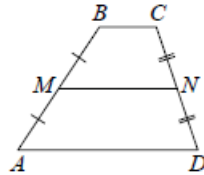
$$\log_a b^k = k \log_a b$$

Геометрия

Средняя линия треугольника и трапеции

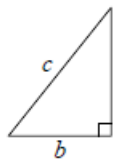


MN — ср. лин.
 $MN \parallel AC$
 $MN = \frac{AC}{2}$



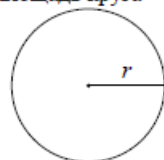
$BC \parallel AD$
 MN — ср. лин.
 $MN \parallel AD$
 $MN = \frac{BC + AD}{2}$

Теорема Пифагора



$$a^2 + b^2 = c^2$$

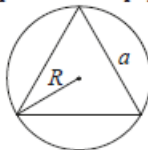
Длина окружности
Площадь круга



$$C = 2\pi r$$

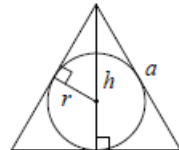
$$S = \pi r^2$$

Правильный треугольник



$$R = \frac{a\sqrt{3}}{3}$$

$$S = \frac{a^2\sqrt{3}}{4}$$

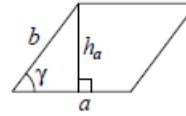


$$r = \frac{a\sqrt{3}}{6}$$

$$h = \frac{a\sqrt{3}}{2}$$

Площади фигур

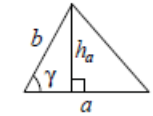
Параллелограмм



$$S = ah_a$$

$$S = ab \sin \gamma$$

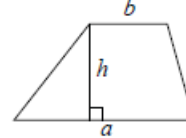
Треугольник



$$S = \frac{1}{2} ah_a$$

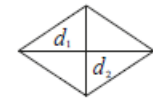
$$S = \frac{1}{2} ab \sin \gamma$$

Трапеция



$$S = \frac{a+b}{2} \cdot h$$

Ромб

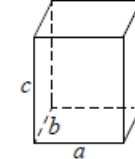


d_1, d_2 — диагонали

$$S = \frac{1}{2} d_1 d_2$$

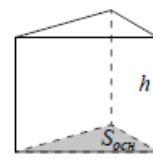
Площади поверхностей и объёмы тел

Прямоугольный параллелепипед



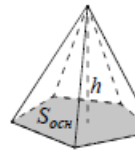
$$V = abc$$

Прямая призма



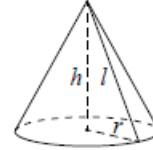
$$V = S_{осн} h$$

Пирамида



$$V = \frac{1}{3} S_{осн} h$$

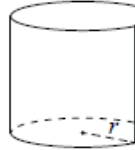
Конус



$$V = \frac{1}{3} \pi r^2 h$$

$$S_{бок} = \pi r l$$

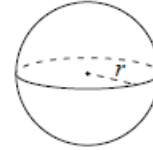
Цилиндр



$$V = \pi r^2 h$$

$$S_{бок} = 2\pi r h$$

Шар



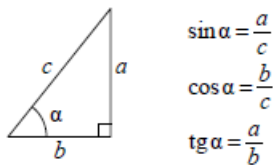
$$V = \frac{4}{3} \pi r^3$$

$$S = 4\pi r^2$$

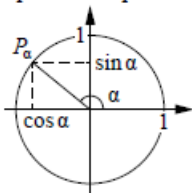
ege100ballov

Тригонометрические функции

Прямоугольный треугольник



Тригонометрическая окружность



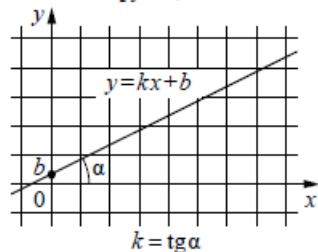
Основное тригонометрическое тождество: $\sin^2 \alpha + \cos^2 \alpha = 1$

Некоторые значения тригонометрических функций

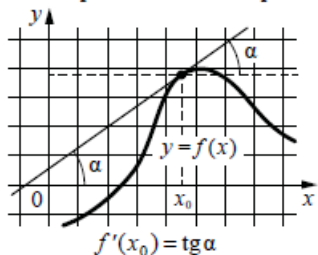
α	радианы	0	$\frac{\pi}{6}$	$\frac{\pi}{4}$	$\frac{\pi}{3}$	$\frac{\pi}{2}$	π	$\frac{3\pi}{2}$	2π
	градусы	0°	30°	45°	60°	90°	180°	270°	360°
$\sin \alpha$		0	$\frac{1}{2}$	$\frac{\sqrt{2}}{2}$	$\frac{\sqrt{3}}{2}$	1	0	-1	0
$\cos \alpha$		1	$\frac{\sqrt{3}}{2}$	$\frac{\sqrt{2}}{2}$	$\frac{1}{2}$	0	-1	0	1
$\operatorname{tg} \alpha$		0	$\frac{\sqrt{3}}{3}$	1	$\sqrt{3}$	—	0	—	0

Функции

Линейная функция



Геометрический смысл производной



Ответом к каждому заданию является конечная десятичная дробь, или целое число, или последовательность цифр. Ответ сначала запишите в поле ответа в тексте работы, а затем перенесите в БЛАНК ОТВЕТОВ № 1 справа от номера соответствующего задания. Каждую цифру, знак «минус» и запятую пишите в отдельной клеточке в соответствии с приведёнными в бланке образцами. Единицы измерений писать не нужно.

1 В мужском общежитии института в каждой комнате можно поселить не более четырёх человек. Какое наименьшее количество комнат нужно для поселения 81 иногороднего студента?

Ответ: _____.

2 Установите соответствие между величинами и их возможными значениями: к каждому элементу первого столбца подберите соответствующий элемент из второго столбца.

ВЕЛИЧИНЫ

- А) масса двухлитрового пакета сока
- Б) масса взрослого кита
- В) масса яблока
- Г) масса таблетки лекарства

ЗНАЧЕНИЯ

- 1) 130 т
- 2) 2 кг
- 3) 400 мг
- 4) 120 г

В таблице под каждой буквой, соответствующей величине, укажите номер её возможного значения.

Ответ:

А	Б	В	Г

vk.com/ege100ballov



ТРЕНИРОВОЧНЫЙ КИМ № 230911



- 3 На рисунке изображён график значений атмосферного давления в некотором городе за три дня. По горизонтали указаны дни недели, по вертикали – значения атмосферного давления в миллиметрах ртутного столба.



Определите по рисунку наибольшее значение атмосферного давления за данные три дня (в миллиметрах ртутного столба).

Ответ: _____.

- 4 Ускорение тела (в м/с^2) при равномерном движении по окружности можно вычислить по формуле $a = \omega^2 R$, где ω – угловая скорость вращения (в с^{-1}), а R – радиус окружности (в метрах). Пользуясь этой формулой, найдите a (в м/с^2), если $R = 4$ м и $\omega = 7 \text{ с}^{-1}$.

Ответ: _____.

- 5 Вероятность того, что стекло мобильного телефона разобьётся при падении на твёрдую поверхность, равна 0,84. Найдите вероятность того, что при падении на твёрдую поверхность стекло мобильного телефона не разобьётся.

Ответ: _____.

- 6 Интернет-провайдер предлагает три тарифных плана.

Тарифный план	Абонентская плата	Плата за трафик
План «0»	Нет	2 руб. за 1 Мбайт
План «100»	90 руб. за 100 Мбайт трафика в месяц	1,5 руб. за 1 Мбайт сверх 100 Мбайт
План «500»	400 руб. за 500 Мбайт трафика в месяц	2,5 руб. за 1 Мбайт сверх 500 Мбайт

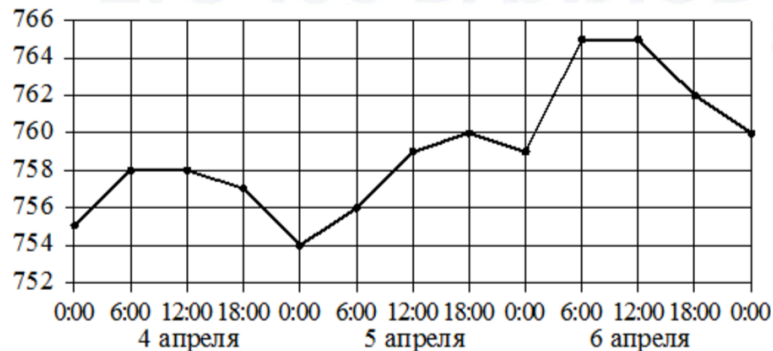
Пользователь предполагает, что его трафик составит 350 Мбайт в месяц, и исходя из этого выбирает наиболее дешёвый тарифный план. Сколько рублей должен будет заплатить пользователь за месяц, если его трафик действительно будет равен 350 Мбайт?

Ответ: _____.

vk.com/ege100ballov



- 7 На рисунке точками показано атмосферное давление в городе N на протяжении трёх суток с 4 по 6 апреля 2013 года. В течение суток давление измеряется 4 раза: в 00:00, в 06:00, в 12:00 и в 18:00. По горизонтали указывается время суток и дата, по вертикали – давление в миллиметрах ртутного столба. Для наглядности точки соединены линией.



Пользуясь рисунком, поставьте в соответствие каждому из указанных периодов времени характеристику атмосферного давления в городе N в течение этого периода

ПЕРИОДЫ ВРЕМЕНИ

- А) утро 4 апреля (с 6 до 12 часов)
- Б) утро 5 апреля (с 6 до 12 часов)
- В) утро 6 апреля (с 6 до 12 часов)
- Г) день 6 апреля (с 12 до 18 часов)

ХАРАКТЕРИСТИКИ

- 1) давление не менялось и было выше 764 мм рт. ст.
- 2) давление росло
- 3) давление не менялось и было ниже 760 мм рт. ст.
- 4) давление падало

В таблице под каждой буквой укажите соответствующий номер.

Ответ:

А	Б	В	Г

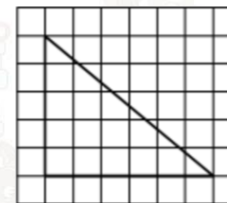
- 8 В жилых домах, в которых больше 5 этажей, установлен лифт. Выберите утверждения, которые верны при приведённом условии.

- 1) Если в доме нет лифта, то в этом доме больше 6 этажей.
- 2) Если в доме лифта нет, то в этом доме меньше 6 этажей.
- 3) Если в доме больше 8 этажей, то в нём нет лифта.
- 4) Если в доме больше 7 этажей, то в нём есть лифт.

В ответе запишите номера выбранных утверждений без пробелов, запятых и других дополнительных символов.

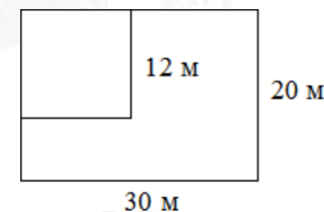
Ответ: _____.

- 9 На клетчатой бумаге с размером клетки 1 × 1 изображён прямоугольный треугольник. Найдите длину его большего катета.



Ответ: _____.

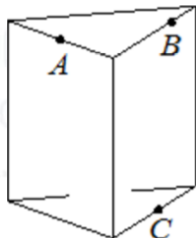
- 10 Дачный участок имеет форму прямоугольника со сторонами 30 метров и 20 метров. Хозяин планирует обнести его изгородью и отгородить такой же изгородью квадратный участок со стороной 12 м (см. рис.). Найдите суммарную длину изгороди в метрах.



Ответ: _____.



- 11** Плоскость, проходящая через точки A , B и C (см. рис.), разбивает правильную треугольную призму на два многогранника. Сколько вершин у получившегося многогранника с меньшим числом граней?



Ответ: _____.

- 12** Основания равнобедренной трапеции равны 10 и 24, боковая сторона равна 25. Найдите высоту трапеции.



Ответ: _____.

- 13** Даны два цилиндра. Радиус основания и высота первого равны соответственно 6 и 9, а второго – 9 и 2. Во сколько раз объём первого цилиндра больше объёма второго?



Ответ: _____.

- 14** Найдите значение выражения

$$\frac{2,6}{3,1 - 0,6}$$

Ответ: _____.

- 15** На пост председателя школьного совета претендовали два кандидата. В голосовании приняли участие 72 человека. Голоса между кандидатами распределились в отношении 4:5. Сколько голосов получил победитель?

Ответ: _____.

- 16** Найдите значение выражения

$$38 \cdot 10 - 1,3 \cdot 10^2.$$

Ответ: _____.

- 17** Найдите корень уравнения

$$\sqrt{13 - x} = 3.$$

Ответ: _____.

- 18** Каждому из четырёх чисел в левом столбце соответствует отрезок, которому оно принадлежит. Установите соответствие между числами и отрезками из правого столбца.

ЧИСЛА

- А) $\sqrt{6} + \sqrt{5}$
- Б) $\sqrt{6} \cdot \sqrt{5}$
- В) $2\sqrt{6} - \sqrt{5}$
- Г) $(\sqrt{6})^3 - 9$

ОТРЕЗКИ

- 1) [1; 2]
- 2) [2; 3]
- 3) [4; 5]
- 4) [5; 6]

Впишите в приведённую в ответе таблицу под каждой буквой соответствующий отрезку номер.

Ответ:

А	Б	В	Г



- 19 Найдите четырёхзначное число, кратное 25, все цифры которого различны и нечётны. В ответе укажите какое-нибудь одно такое число.

Ответ: _____.

- 20 В понедельник акции компании подорожали на некоторое число процентов, а во вторник подешевели на то же самое число процентов. В результате они стали стоить на 4% дешевле, чем при открытии торгов в понедельник. На сколько процентов подорожали акции компании в понедельник?

Ответ: _____.

- 21 Из десяти стран четыре подписали договор о сотрудничестве ровно с четырьмя другими странами, а каждая из оставшихся шести – ровно с пятью. Сколько всего было подписано договоров?

Ответ: _____.

*Не забудьте перенести все ответы в бланк ответов № 1 в соответствии с инструкцией по выполнению работы.
Проверьте, чтобы каждый ответ был записан в строке с номером соответствующего задания.*

О проекте «Пробный ЕГЭ каждую неделю»

Данный ким составлен командой всероссийского волонтерского проекта «ЕГЭ 100баллов» <https://vk.com/ege100ballov> | <https://t.me/egeoge100ballov> и безвозмездно распространяется для любых некоммерческих образовательных целей.

Нашли ошибку в варианте?

Напишите нам, пожалуйста, и мы обязательно её исправим!

Для замечаний и пожеланий: https://vk.com/topic-10175642_50324613
(также доступны другие варианты для скачивания)










































СОСТАВИТЕЛЬ ВАРИАНТА:

ФИО:	Евгений Пифагор
Предмет:	Математика
Стаж:	12 лет готовлю к ЕГЭ и ОГЭ
Регалии:	Набрал <u>100 баллов</u> на ЕГЭ по математике (профиль) Подготовил более 300 человек на 90 – 100 баллов Высшее образование (ТГУ, 2009-2014) Победитель трёх олимпиад по высшей математике
Аккаунт и группа ВК:	https://vk.com/eugene10 https://vk.com/shkolapifagora
Ютуб и инстаграм:	https://www.youtube.com/c/pifagor1 https://www.instagram.com/shkola_pifagora/



**Система оценивания экзаменационной работы по математике
(базовый уровень)**

Правильное решение каждого из заданий 1–21 оценивается 1 баллом. Задание считается выполненным верно, если ответ записан в той форме, которая указана в инструкции по выполнению задания, и полностью совпадает с эталоном ответа.

Номер задания	Правильный ответ	Текстовое решение	Видео решение
1	21		
2	2143		
3	761		
4	196		
5	0,16		
6	400		
7	3214		
8	24		
9	6		
10	124		
11	6		
12	24		
13	2		
14	1,04		
15	40		
16	250		
17	4		
18	3124		
19	1375 или 1975 или 3175 или 3975 или 9175 или 9375		
20	20		
21	23		

ЕГЭ 100 БАЛЛОВ
ВСЕРОССИЙСКИЙ ШКОЛЬНЫЙ ПРОЕКТ
VK.COM/EGE100BALLOV



vk.com/ege100ballov

