





**Степень и логарифм**

Свойства степени при  $a > 0, b > 0$

$$a^{-n} = \frac{1}{a^n}$$

$$a^n \cdot a^m = a^{n+m}$$

$$\frac{a^n}{a^m} = a^{n-m}$$

$$(a^n)^m = a^{nm}$$

$$(ab)^n = a^n \cdot b^n$$

$$\left(\frac{a}{b}\right)^n = \frac{a^n}{b^n}$$

Свойства логарифма при  $a > 0, a \neq 1, b > 0, x > 0, y > 0$

$$a^{\log_a b} = b$$

$$\log_a a = 1$$

$$\log_a 1 = 0$$

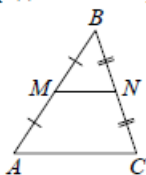
$$\log_a (xy) = \log_a x + \log_a y$$

$$\log_a \left(\frac{x}{y}\right) = \log_a x - \log_a y$$

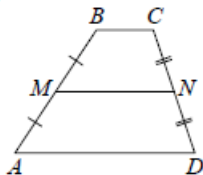
$$\log_a b^k = k \log_a b$$

**Геометрия**

Средняя линия треугольника и трапеции

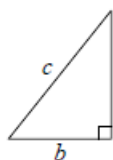


$MN$  — ср. лин.  
 $MN \parallel AC$   
 $MN = \frac{AC}{2}$



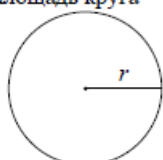
$BC \parallel AD$   
 $MN$  — ср. лин.  
 $MN \parallel AD$   
 $MN = \frac{BC + AD}{2}$

Теорема Пифагора



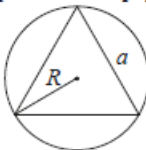
$$a^2 + b^2 = c^2$$

Длина окружности  
Площадь круга

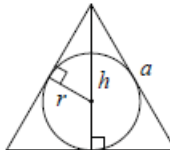


$C = 2\pi r$   
 $S = \pi r^2$

Правильный треугольник



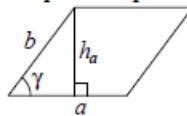
$R = \frac{a\sqrt{3}}{3}$   
 $S = \frac{a^2\sqrt{3}}{4}$



$r = \frac{a\sqrt{3}}{6}$   
 $h = \frac{a\sqrt{3}}{2}$

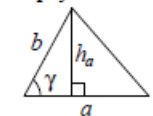
**Площади фигур**

Параллелограмм



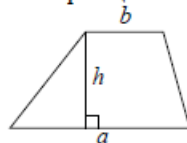
$S = ah_a$   
 $S = ab \sin \gamma$

Треугольник



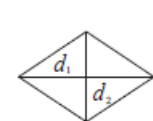
$S = \frac{1}{2} ah_a$   
 $S = \frac{1}{2} ab \sin \gamma$

Трапеция



$S = \frac{a+b}{2} \cdot h$

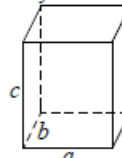
Ромб



$d_1, d_2$  — диагонали  
 $S = \frac{1}{2} d_1 d_2$

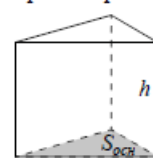
**Площади поверхностей и объёмы тел**

Прямоугольный параллелепипед



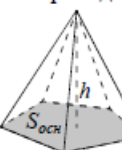
$V = abc$

Прямая призма



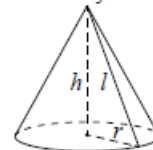
$V = S_{осн} h$

Пирамида



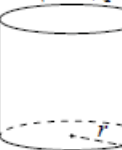
$V = \frac{1}{3} S_{осн} h$

Конус



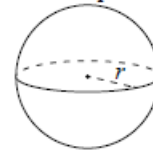
$V = \frac{1}{3} \pi r^2 h$   
 $S_{бок} = \pi r l$

Цилиндр



$V = \pi r^2 h$   
 $S_{бок} = 2\pi r h$

Шар

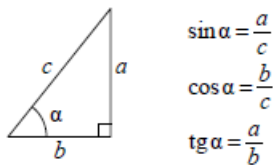


$V = \frac{4}{3} \pi r^3$   
 $S = 4\pi r^2$

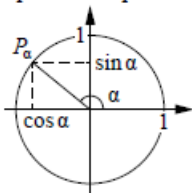


**Тригонометрические функции**

Прямоугольный треугольник



Тригонометрическая окружность



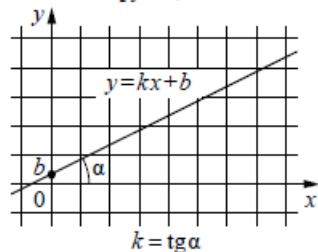
Основное тригонометрическое тождество:  $\sin^2 \alpha + \cos^2 \alpha = 1$

Некоторые значения тригонометрических функций

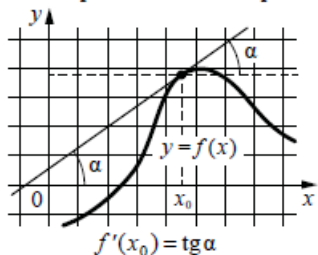
$\alpha$	радианы	0	$\frac{\pi}{6}$	$\frac{\pi}{4}$	$\frac{\pi}{3}$	$\frac{\pi}{2}$	$\pi$	$\frac{3\pi}{2}$	$2\pi$
	градусы	$0^\circ$	$30^\circ$	$45^\circ$	$60^\circ$	$90^\circ$	$180^\circ$	$270^\circ$	$360^\circ$
$\sin \alpha$		0	$\frac{1}{2}$	$\frac{\sqrt{2}}{2}$	$\frac{\sqrt{3}}{2}$	1	0	-1	0
$\cos \alpha$		1	$\frac{\sqrt{3}}{2}$	$\frac{\sqrt{2}}{2}$	$\frac{1}{2}$	0	-1	0	1
$\operatorname{tg} \alpha$		0	$\frac{\sqrt{3}}{3}$	1	$\sqrt{3}$	—	0	—	0

**Функции**

Линейная функция



Геометрический смысл производной



Ответом к каждому заданию является конечная десятичная дробь, или целое число, или последовательность цифр. Ответ сначала запишите в поле ответа в тексте работы, а затем перенесите в БЛАНК ОТВЕТОВ № 1 справа от номера соответствующего задания. Каждую цифру, знак «минус» и запятую пишите в отдельной клеточке в соответствии с приведёнными в бланке образцами. Единицы измерений писать не нужно.

**1** Бегун пробежал 350 метров за 36 секунд. Найдите среднюю скорость бегуна на дистанции. Ответ дайте в километрах в час.  
 Ответ: \_\_\_\_\_.

**2** Установите соответствие между величинами и их возможными значениями: к каждому элементу первого столбца подберите соответствующий элемент из второго столбца.

**ВЕЛИЧИНЫ**

- А) площадь города Санкт-Петербурга
- Б) площадь одной стороны монеты
- В) площадь поверхности тумбочки
- Г) площадь баскетбольной площадки

**ЗНАЧЕНИЯ**

- 1) 420 кв. м
- 2) 300 кв. мм
- 3) 1439 кв. км
- 4) 0,2 кв. м

В таблице под каждой буквой, соответствующей величине, укажите номер её возможного значения.

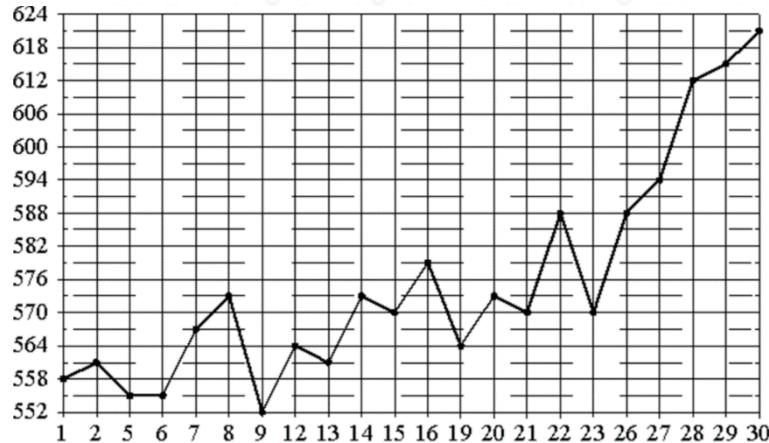
Ответ:

А	Б	В	Г

vk.com/ege100ballov



- 3 На рисунке жирными точками показана цена палладия, установленная Центробанком РФ во все рабочие дни в октябре 2010 года. По горизонтали указываются числа месяца, по вертикали – цена палладия в рублях за грамм. Для наглядности жирные точки на рисунке соединены линией. Определите по рисунку наименьшую цену палладия в период с 14 по 26 октября. Ответ дайте в рублях за грамм.



Ответ: \_\_\_\_\_.

- 4 Площадь треугольника можно вычислить по формуле  $S = \frac{abc}{4R}$ , где  $a$ ,  $b$  и  $c$  – стороны треугольника, а  $R$  – радиус окружности, описанной около этого треугольника. Пользуясь этой формулой, найдите  $S$ , если  $a = 10$ ,  $b = 9$ ,  $c = 17$  и  $R = \frac{85}{8}$ .

Ответ: \_\_\_\_\_.

- 5 Из 1600 пакетов молока в среднем 80 протекают. Какова вероятность того, что случайно выбранный пакет молока не течёт?

Ответ: \_\_\_\_\_.

- 6 Турист подбирает экскурсии. Сведения об экскурсиях представлены в таблице.

Номер экскурсии	Посещаемые объекты	Стоимость (руб.)
1	Музей живописи, парк	450
2	Загородный дворец, крепость	250
3	Загородный дворец, музей живописи	200
4	Парк	200
5	Загородный дворец	250
6	Крепость	150

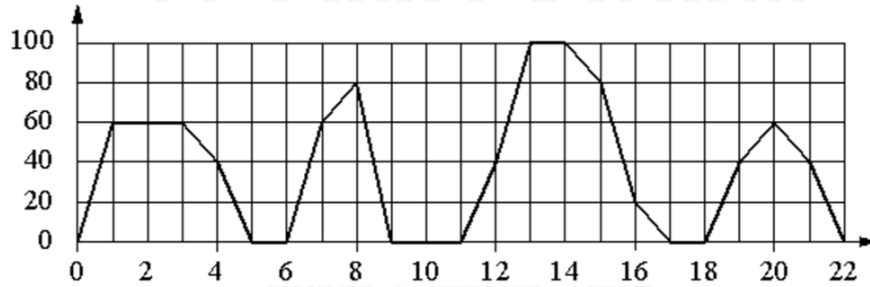
Пользуясь таблицей, выберите набор экскурсий так, чтобы турист посетил четыре объекта: крепость, загородный дворец, парк и музей живописи, а суммарная стоимость экскурсий не превышала 650 рублей. В ответе укажите какой-нибудь один набор номеров экскурсий без пробелов, запятых и других дополнительных символов.

Ответ: \_\_\_\_\_.

vk.com/ege100ballov



7 На графике изображена зависимость скорости движения рейсового автобуса от времени. На вертикальной оси отмечена скорость автобуса в км/ч, на горизонтальной – время в минутах, прошедшее с начала движения автобуса.



Пользуясь графиком, поставьте в соответствие каждому интервалу времени характеристику движения автобуса на этом интервале.

**ИНТЕРВАЛЫ ВРЕМЕНИ**

**ХАРАКТЕРИСТИКИ**

- |               |   |
|---------------|---|
| А) 4-8 мин.   | 1) была остановка длительностью 2 минуты        |
| Б) 8-12 мин.  | 2) скорость не меньше 20 км/ч на всём интервале |
| В) 12-16 мин. | 3) скорость не больше 60 км/ч                   |
| Г) 18-22 мин. | 4) была остановка длительностью ровно 1 минута  |

В таблице под каждой буквой укажите соответствующий номер.

Ответ:

А	Б	В	Г

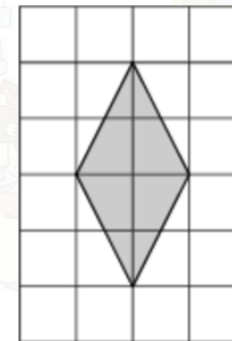
8 При взвешивании животных в зоопарке выяснилось, что буйвол тяжелее льва, медведь легче буйвола, а рысь легче льва. Выберите утверждения, которые верны при указанных условиях.

- 1) Рысь тяжелее буйвола.
- 2) Буйвол самый тяжёлый из всех этих животных.
- 3) Медведь тяжелее буйвола.
- 4) Рысь легче буйвола.

В ответе запишите номера выбранных утверждений без пробелов, запятых и других дополнительных символов.

Ответ: \_\_\_\_\_.

9 План местности разбит на клетки. Каждая клетка обозначает квадрат 1 м × 1 м. Найдите площадь участка, выделенного на плане. Ответ дайте в квадратных метрах.

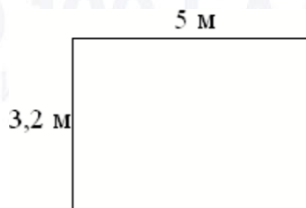


Ответ: \_\_\_\_\_.

vk.com/ege100ballov

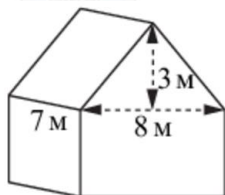


- 10** На плане указано, что прямоугольная комната имеет площадь 15,7 кв. м. Точные измерения показали, что ширина комнаты равна 3,2 м, а длина 5 м. На сколько квадратных метров площадь комнаты отличается от значения, указанного на плане?



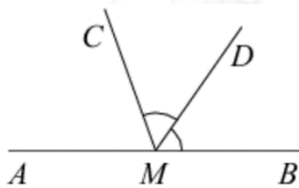
Ответ: \_\_\_\_\_.

- 11** Двускатную крышу дома, имеющего в основании прямоугольник (см. рис.), необходимо полностью покрыть рубероидом. Высота крыши равна 3 м, длины стен дома равны 7 м и 8 м. Найдите, сколько рубероида (в квадратных метрах) нужно для покрытия этой крыши, если скаты крыши равны.



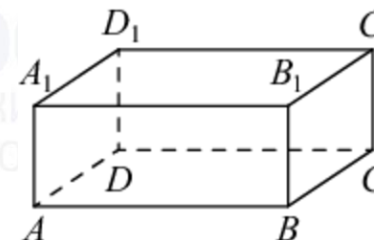
Ответ: \_\_\_\_\_.

- 12** На прямой  $AB$  взята точка  $M$ . Луч  $MD$  – биссектриса угла  $CMB$ . Известно, что  $\angle DMC = 51^\circ$ . Найдите угол  $CMA$ . Ответ дайте в градусах.



Ответ: \_\_\_\_\_.

- 13** В прямоугольном параллелепипеде  $ABCD A_1 B_1 C_1 D_1$  рёбра  $DA$ ,  $DC$  и диагональ  $DA_1$  боковой грани равны соответственно 3, 5 и  $\sqrt{34}$ . Найдите объём параллелепипеда  $ABCD A_1 B_1 C_1 D_1$ .



Ответ: \_\_\_\_\_.

- 14** Найдите значение выражения

$$\frac{19}{6} : \left( \frac{5}{6} + \frac{3}{4} \right).$$

Ответ: \_\_\_\_\_.

- 15** Товар на распродаже уценили на 40%, при этом он стал стоить 810 рублей. Сколько рублей стоил товар до распродажи?

Ответ: \_\_\_\_\_.

- 16** Найдите значение выражения

$$4^{-2} \cdot \frac{4^3}{4^{-1}}.$$

Ответ: \_\_\_\_\_.

- 17** Найдите корень уравнения

$$2(3 - 2x) - 7 = -3x + 8.$$

Ответ: \_\_\_\_\_.



**18** Каждому из четырёх неравенств в левом столбце соответствует одно из решений в правом столбце. Установите соответствие между неравенствами и их решениями.

**НЕРАВЕНСТВА**

А)  $2^{-x+1} < 0,5$

Б)  $\frac{(x-5)^2}{x-4} < 0$

В)  $\log_4 x > 1$

Г)  $(x-4)(x-2) < 0$

**РЕШЕНИЯ**

1)  $(4; +\infty)$

2)  $(2; 4)$

3)  $(2; +\infty)$

4)  $(-\infty; 4)$

Впишите в приведённую в ответе таблицу под каждой буквой соответствующий решению номер.

Ответ:

А	Б	В	Г

**19** Найдите чётное трёхзначное натуральное число, сумма цифр которого на 1 меньше их произведения. В ответе укажите какое-нибудь одно такое число.

Ответ: \_\_\_\_\_.

**20** Два пешехода отправляются одновременно в одном направлении из одного и того же места на прогулку по аллее парка. Скорость первого на 1,5 км/ч больше скорости второго. Через сколько минут расстояние между пешеходами станет равным 150 метрам?

Ответ: \_\_\_\_\_.

**21** На поверхности глобуса фломастером проведены 17 параллелей и 24 меридиана. На сколько частей проведённые линии разделили поверхность глобуса? Меридиан – это дуга окружности, соединяющая Северный и Южный полюсы. Параллель – это окружность, лежащая в плоскости, параллельной плоскости экватора.

Ответ: \_\_\_\_\_.

**Не забудьте перенести все ответы в бланк ответов № 1 в соответствии с инструкцией по выполнению работы.**

**Проверьте, чтобы каждый ответ был записан в строке с номером соответствующего задания.**

**О проекте «Пробный ЕГЭ каждую неделю»**

Данный ким составлен командой всероссийского волонтерского проекта «ЕГЭ 100баллов» <https://vk.com/ege100ballov> | <https://t.me/egeoge100ballov> и безвозмездно распространяется для любых некоммерческих образовательных целей.

**Нашли ошибку в варианте?**

**Напишите нам, пожалуйста, и мы обязательно её исправим!**

Для замечаний и пожеланий: [https://vk.com/topic-10175642\\_50324613](https://vk.com/topic-10175642_50324613)  
(также доступны другие варианты для скачивания)










































**СОСТАВИТЕЛЬ ВАРИАНТА:**

<b>ФИО:</b>	Евгений Пифагор
<b>Предмет:</b>	Математика
<b>Стаж:</b>	12 лет готовлю к ЕГЭ и ОГЭ
<b>Регалии:</b>	Набрал <a href="#">100 баллов</a> на ЕГЭ по математике (профиль) Подготовил более 300 человек на 90 – 100 баллов Высшее образование (ТГУ, 2009-2014) Победитель трёх олимпиад по высшей математике
<b>Аккаунт и группа ВК:</b>	<a href="https://vk.com/eugene10">https://vk.com/eugene10</a> <a href="https://vk.com/shkolapifagora">https://vk.com/shkolapifagora</a>
<b>Ютуб и инстаграм:</b>	<a href="https://www.youtube.com/c/pifagor1">https://www.youtube.com/c/pifagor1</a> <a href="https://www.instagram.com/shkola_pifagora/">https://www.instagram.com/shkola_pifagora/</a>



**Система оценивания экзаменационной работы по математике  
(базовый уровень)**

Правильное решение каждого из заданий 1–21 оценивается 1 баллом. Задание считается выполненным верно, если ответ записан в той форме, которая указана в инструкции по выполнению задания, и полностью совпадает с эталоном ответа.

Номер задания	Правильный ответ	Текстовое решение	Видео решение
1	35		
2	3241		
3	564		
4	36		
5	0,95		
6	346		
7	4123		
8	24		
9	4		
10	0,3		
11	70		
12	78		
13	75		
14	2		
15	1350		
16	16		
17	-9		
18	3412		
19	412 или 124 или 142 или 214		
20	6		
21	432		

ЕГЭ 100 БАЛЛОВ  
ВСЕРОССИЙСКИЙ ШКОЛЬНЫЙ ПРОЕКТ  
VK.COM/EGE100BALLOV



vk.com/ege100ballov

