

Входная контрольная работа по окружающему миру 2 класс

вариант 1

Фамилия, имя _____ Класс 2 _____

1. Выбери слово, обозначающее предмет живой природы:

- а) снежинка;
- б) звезда;
- г) дерево;
- д) песок.

2. К какому времени года относятся следующие месяцы: март, апрель, май:

- а) осень;
- б) зима;
- в) весна;
- г) зима.

3. Закончи фразу. Обведи нужную букву.

- Лето приходит после ...

- а) зимы;
- б) весны;
- в) осени.

4. Какой месяц в году последний?

- а) январь;
- б) декабрь;
- в) май;
- г) сентябрь.

5. Кто лишний?

- а) окунь;
- б) лебедь;
- в) щука;
- г) карась.

6. Выберите наиболее подходящий вариант ответа. Что такое столица?

- а) главный город страны;
- б) большой город;
- в) город, в котором живёт много людей;
- г) любой город является столицей.

7. Что является символом государства?





- а) закон;
- б) герб;
- в) граница;
- г) территория.

8. Откуда эти строки?

*Славься, Отечество наше свободное,
Братских народов союз вековой,
Предками данная мудрость народная!
Славься, страна! Мы гордимся тобой!*

- а) стихотворение о Родине;
- б) песня о Родине;
- в) гимн;
- г) народная мудрость.

9. Найди Герб Российской Федерации. Обведи букву.

а	б	в	г
			

10. Раскрась флаг Российской Федерации.

Фамилия, имя _____ Класс 2 _____

1. Выбери слово, обозначающее предмет неживой природы:

- а) иней;
- б) леопард;
- г) репей;
- д) щука.

2. К какому времени года относятся следующие месяцы: сентябрь, октябрь, ноябрь:

- а) осень;
- б) зима;
- в) весна;
- г) зима.

3. Закончи фразу. Обведи нужную букву.

- Зима приходит после ...

- а) лета;
- б) весны;
- в) осени.

4. Какой месяц в году первый?

- а) январь;
- б) декабрь;
- в) май;
- г) сентябрь.

5. Кто лишний?

- а) енот;
- б) комар;
- в) бурундук;
- г) лось.

6. Выберите наиболее подходящий вариант ответа. Что такое столица?

- а) главный город страны;
- б) большой город;
- в) город, в котором живёт много людей;
- г) любой город является столицей.

7. Что не является символом государства?

- а) флаг;


- б) герб;
- в) граница;
- г) гимн.

8. Откуда эти строки?

*Славься, Отечество наше свободное,
Братских народов союз вековой,
Предками данная мудрость народная!
Славься, страна! Мы гордимся тобой!*

- а) стихотворение о Родине;
- б) песня о Родине;
- в) гимн;
- г) народная мудрость.

9. Найди Герб Российской Федерации. Обведи букву.

а	б	в	г
 			

10. Раскрась флаг Российской Федерации.

Контрольная работа по окружающему миру за 1 полугодие

Ф.И _____ Класс _____

1 вариант

I. Подчеркните объекты живой природы.

Облако, дождь, паук, ручей, рыба, дерево, воробей, солнце, стрекоза, арбуз, воздух

II. Подчеркните осенние явления природы.

Солнце восходит поздно, а заходит рано. Жарко. Ледостав. Идут дожди. Оттепель. Журчат ручьи. Опадают листья. Сильный мороз. Похолодание. Набухают почки. Метут метели. Ледоход. Река покрывается льдом. Тает снег.

III. Укажи причину, по которой птицы улетают на юг.

- А. стало холодно В. дни стали короче
Б. стало мало корма Г. часто идут дожди

IV. Дополните предложение

1. От количества облаков на небе зависит _____
2. Снег, дождь, град – это _____
3. Сочетание температуры воздуха, облачности, осадков, ветра называют _____

V. Запишите

- Семнадцать градусов тепла _____ Двадцать шесть градусов мороза _____
Пять градусов ниже нуля _____ Четырнадцать градусов выше нуля _____

VI. Что называют созвездиями современные учёные?

- А. Фигуры из звёзд В. Звёзды одной системы
Б. Участки звёздного неба Г. Скопления звёзд

VII. Укажите стрелками, какие из этих растений имеют:

- | | |
|---|------------|
| мягкие сочные стебли | деревья |
| несколько одревесневших стеблей (стволиков) | травы |
| один одревесневший стебель (ствол) | кустарники |

VIII. Найдите и подчеркните группу, в которой перечислены кустарники.

- А. сирень, смородина, клён В. одуванчик, берёза, ежевика
Б. шиповник, орешник, малина Г. тополь, рябина, липа

IX. Какое животное относится к насекомым?

- А. ящерица Б. стрекоза В. паук Г. тритон

X. Допиши предложение.

Главное отличие пауков от насекомых – это то, что у насекомых _____, а у _____.

Ф.И _____ Класс _____

2 вариант

I. Подчеркните объекты неживой природы.

Облако, дождь, паук, ручей, рыба, дерево, воробей, солнце, стрекоза, арбуз, воздух

II. Подчеркните весенние явления природы.

Солнце восходит поздно, а заходит рано. Жарко. Ледостав. Идут дожди. Оттепель. Журчат ручьи. Опадают листья. Сильный мороз. Похолодание. Набухают почки. Метут метели. Ледоход. Река покрывается льдом. Тает снег.

III. Отметьте группу, в которой перечислены перелётные птицы.

- А. грач, журавль, скворец, ласточка В. воробей, голубь, снегирь, ворона
Б. гусь, дятел, поползень, сова Г. стриж, галка, утка, орел

IV. Дополните предложение

1. Наука о погоде _____
2. Сочетание температуры воздуха, облачности, осадков, ветра называют _____
3. Небо чистое, солнечно. Мы говорим: _____

V. Запишите

Пятнадцать градусов тепла _____ Двадцать восемь градусов мороза _____
Десять градусов ниже нуля _____ Семнадцать градусов выше нуля _____

VI. Что записывают со знаком «+»?

- А. Хороший прогноз погоды В. Число градусов тепла
Б. Число градусов холода Г. Плохой прогноз

VII. Напиши названия приборов.

Для измерения времени используют _____.
Для измерения температуры используют _____.
Для определения сторон горизонта используют _____.
Для наблюдения за звездами используют _____.

VIII. Заполни пропуски.

Осень - _____, октябрь, _____.
_____ - декабрь, _____, февраль.
В декабре _____ дней, в январе _____ дней, а в феврале _____ дней.

IX. Что происходит с насекомыми осенью? Отметь верное утверждение.

- А. Они все умирают. Б. Улетают в южные страны.
В. Некоторые прячутся в трещины коры и впадают в спячку

X. Перечислите четыре вида специального транспорта.

Ответы:

1 вариант

I. Подчеркните объекты живой природы.

Облако, дождь, **паук**, ручей, **рыба**, дерево, **воробей**, солнце, **стрекоза**, арбуз, воздух

II. Подчеркните осенние явления природы.

Солнце восходит поздно, а заходит рано. Жарко. Ледостав. **Идут дожди**. Оттепель.

Журчат ручьи. **Опадают листья**. Сильный мороз. **Похолодание**. Набухают почки. Метут метели. Ледоход. Река покрывается льдом. Тает снег.

III. Укажи причину, по которой птицы улетают на юг.

A. Стало холодно

B. Дни стали короче

B. **Стало мало корма**

Г. Часто идут дожди

IV. Дополните предложение

1. От количества облаков на небе зависит (**облачность**)

2. Снег, дождь, град – это (**осадки**)

3. Сочетание температуры воздуха, облачности, осадков, ветра называют (**погодой**)

V. Запишите

Семнадцать градусов тепла $t + 17$

Двадцать шесть градусов мороза $t + 26$

Пять градусов ниже нуля ($t - 5$)

Четырнадцать градусов выше нуля $t - 14$

VI. Что называют созвездиями современные учёные?

A. Фигуры из звёзд

B. Звёзды одной системы

B. **Участки звёздного неба**

Г. Скопления звёзд

VII. Укажите стрелками, какие из этих растений имеют:

мягкие сочные стебли

Фамилия _____ Имя _____

I вариант

Часть 1

1. Назови объект неживой природы.

- 1) сосна
- 2) воздух
- 3) ромашка
- 4) воробей

2. Что относится к природным явлениям?

- 1) чтение газеты
- 2) строительство дома
- 3) снегопад
- 4) встреча с другом

3. Какое явление относится к осадкам?

- 1) гром
- 2) дождь
- 3) радуга
- 4) ветер

4. К какой группе животных относятся лягушки?

- 1) к земноводным
- 2) к зверям
- 3) к насекомым
- 4) к рыбам

5. Что производит лёгкая промышленность?

- 1) станки
- 2) одежду
- 3) шерсть
- 4) кино

6. Укажи специальный вид транспорта

- 1) метро
- 2) самолёт
- 3) аварийная газовая служба
- 4) автобус

7. Какие функции выполняют лёгкие?

- 1) орган дыхания
- 2) орган пищеварения
- 3) управляют работой организма
- 4) гоняют кровь по телу

8. По какому телефону звонить, если незнакомый человек пытается открыть дверь?

- 1) 01
- 2) 02
- 3) 03
- 4) 04

9. Как называется земная поверхность, которую мы видим вокруг себя?

5. Что не относится к сельскохозяйственному труду?

- 1) уборка урожая
- 2) пошив одежды
- 3) выпас скота
- 4) посевные работы

6. К какому виду транспорта относится вертолёт?

- 1) к водному
- 2) к наземному
- 3) к воздушному
- 4) к подземному

7. Какова функция желудка?

- 1) орган дыхания
- 2) разносит кровь по телу
- 3) там находится мозг
- 4) орган пищеварения

8. По какому телефону нужно вызывать скорую помощь?

- 1) 01
- 2) 02
- 3) 03
- 4) 04


9. Куда должен указывать синий конец стрелки компаса?

- 1) на юг
- 2) на север
- 3) на запад
- 4) всё равно


10. Что ты возьмёшь с собой в театр на спектакль?

- 1) бинокль
- 2) собаку
- 3) бутерброд
- 4) сотовый телефон


11. К каким видам транспорта относятся транспортные средства, которые изображены на рисунках? Запиши названия видов в таблицу.



1)



2)



3)

Ответ:

1	2	3

12. Определи, какой из продуктов лишний в данной группе. Подчеркни. Запиши в строке ответа, почему этот продукт лишний.

Яйцо, молоко, сыр, сметана, масло, кефир.

Ответ:

13. Незнакомый человек звонит в дверь и говорит, что он принёс посылку. Ты дома один. Что нужно делать в такой ситуации, а что нельзя делать? Соотнеси цифры с буквами, запиши буквы в таблицу.

1) нужно делать

А) сказать, что дома нет взрослых, и попросить прийти вечером

2) нельзя делать

Б) посмотреть в дверной глазок и, если в руках у незнакомца коробка открыть дверь

В) не открывать дверь

Г) сказать, что папа спит, и попросить прийти вечером

Ответ:

1	
2	

14. Подумай, какую пользу приносят человеку растения. Запиши ответ.

Ответ:

Ключи к тестам

1 часть

Вариант	1	2	3	4	5	6	7	8	9	10
1	2	3	2	1	2	3	1	3	1	3
2	3	1	2	1	2	3	4	2	2	1

2 часть

1 вариант

11. 1) Деревья. 2) Травы/травянистые растения. 3) Кустарники.

12. Лишнее – слюда. Это минерал, остальное – горные породы.

13.1 – А, Б, 2 – Б.В.

14. Домашние животные дают человеку пищу, материалы для одежды. Некоторые животные используются для передвижения и охраны человека. Домашние животные – наши любимцы.

2 вариант

11.1) Специальный, 2) Грузовой, 3) Пассажирский.

12. Лишний – яйцо. Это не молочный продукт, остальные – молочные продукты.

13. 1 – В, Г. 2- А, Б.

14. Растения дают человеку пищу, материалы для одежды, строительства. Растения улучшают воздух. Красотой растений мы любимся.