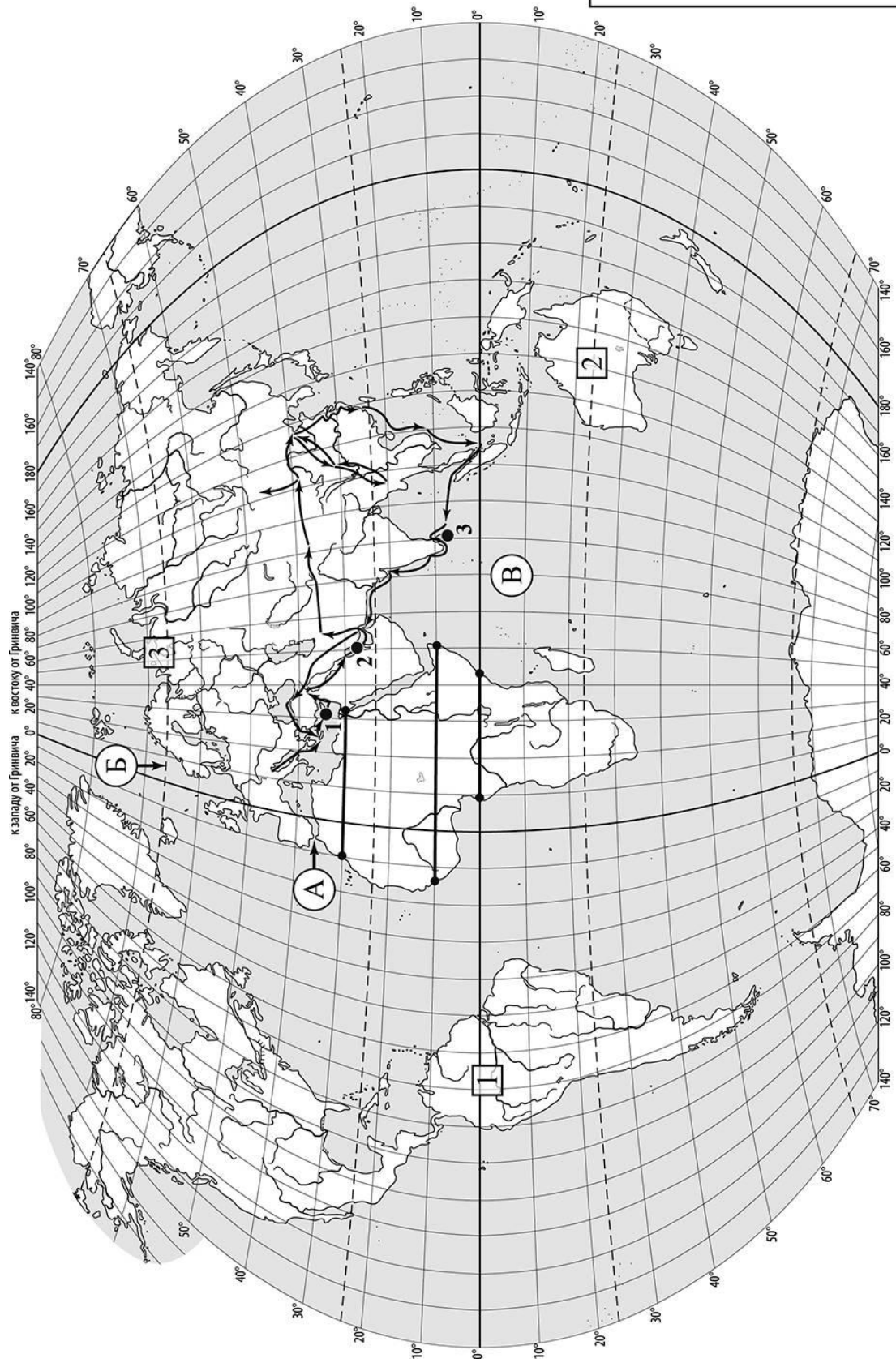
 Карта для выполнения заданий 1 – 3




Задания 1–3 выполняются с использованием карты мира, приведённой на странице 2.

1

На карте мира, приведённой на странице 2, изображён маршрут экспедиции одного из путешественников, портреты которых представлены ниже. Рассмотрите карту и портреты путешественников и выполните задания.


1.1. Маршрут экспедиции кого из путешественников изображён на карте?



Марко Поло



П.П. Семёнов-Тян-Шанский



Васко да Гама

Ответ. _____



Подпишите на карте название материка, по которому проходил маршрут экспедиции.



1.2. На карте буквами обозначены объекты, определяющие географическое положение материка, по которому проходил маршрут экспедиции. Запишите в таблицу названия этих объектов.

*Индийский океан, Чёрное море, Северный полярный круг,
Северный тропик, Гибралтарский пролив, Мексиканский залив.*

А	Б	В



1.3. По линии маршрута экспедиции отмечены точки, расположенные на территории крупных географических объектов. Определите и запишите в ответе географические координаты **точки 3**.

Ответ. _____

На территории какого географического объекта расположена точка 3? Запишите в ответе его название.



Ответ. _____

2

На уроке географии Яна построила профиль рельефа Африки, представленный на рисунке 1. Используя рисунок и карту мира, приведённую на странице 2, выполните задания.

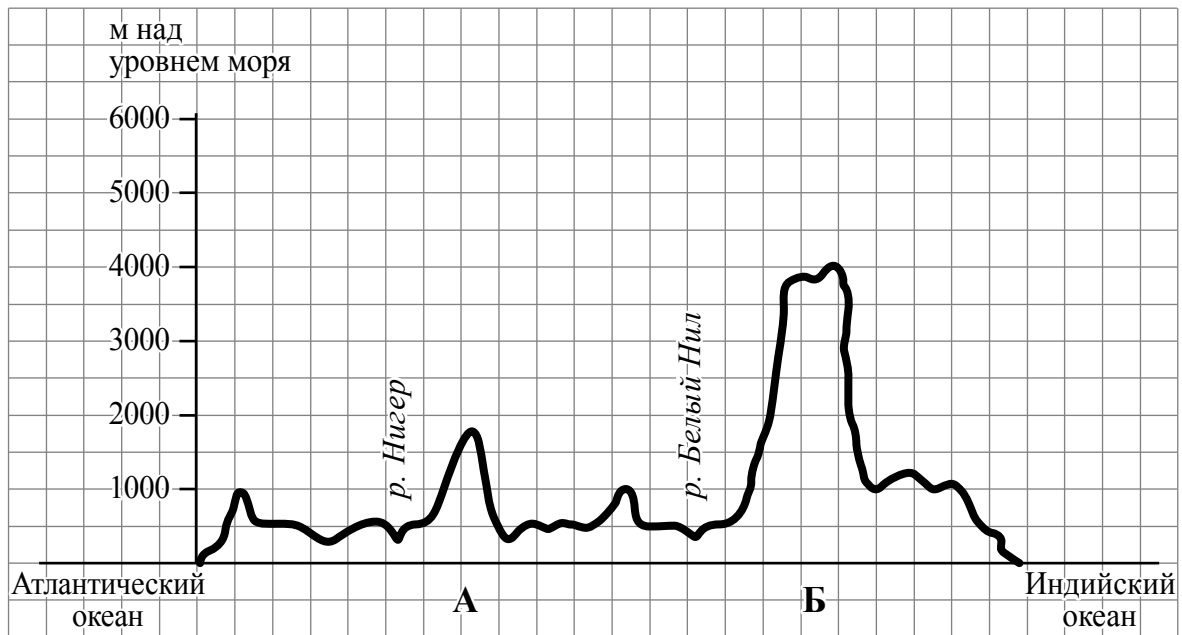


Рисунок 1

2.1. По какому из отрезков, проведённых на карте вдоль трёх параллелей, пересекающих материк Африка, построен профиль рельефа, представленный на рисунке 1? Укажите в ответе значение параллели.

Ответ. _____

Определите по карте протяжённость материка Африка **в градусах** по указанной Вами параллели.

Ответ. _____ °.

Рассчитайте протяжённость материка Африка по указанной Вами параллели **в километрах** с помощью приведённой ниже таблицы. (Для расчёта воспользуйтесь калькулятором.)

Широта	0°	10°	20°	30°	40°	50°	60°	70°	80°	90°
Длина дуги параллели в 1°, км	111,3	109,6	104,6	96,5	85,4	71,7	55,8	38,2	19,4	0

Ответ. _____ км.

2.2. Какой крупной форме рельефа соответствует участок профиля, обозначенный на рисунке 1 буквой Б?

- 1) Эфиопское нагорье
- 2) Капские горы
- 3) впадина Конго
- 4) горы Атлас

Ответ.

Определите наибольшую абсолютную высоту территории, через которую проходит профиль на этом участке.



Ответ. _____ м.

2.3. На рисунке 2 представлены значки, которыми обозначаются месторождения полезных ископаемых на географических картах.




Рисунок 2

Внесите в таблицу значки, обозначающие месторождения полезных ископаемых, которые добывают на территории, обозначенной на профиле буквой Б.

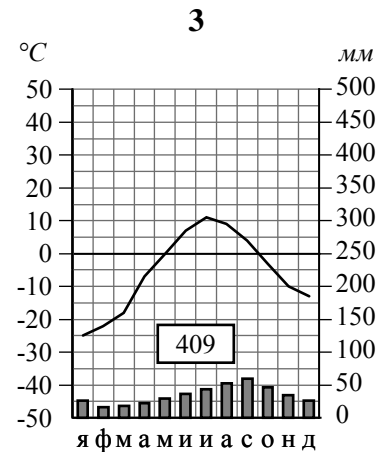
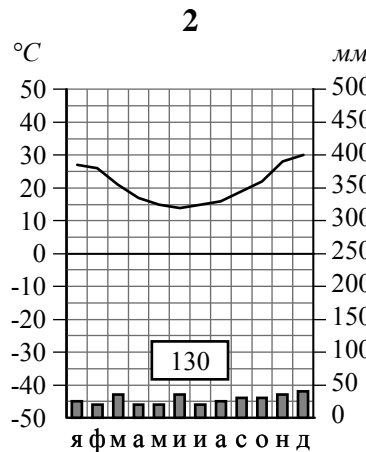
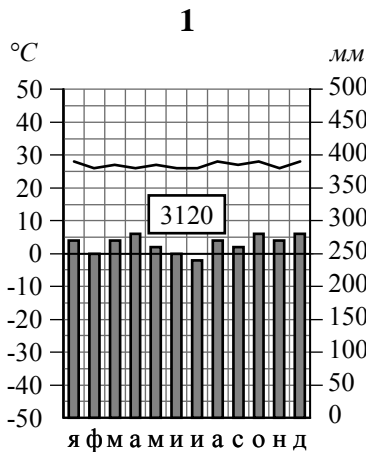


Железные руды	Золото	Полиметаллические руды	Калийные соли

3

Рассмотрите рисунки с изображением климатограмм, построенных по данным метеонаблюдений в разных частях Земли, и выполните задания.

3.1. На карте мира территории, для которых построены изображённые на рисунках климатограммы, показаны квадратами с соответствующими номерами климатограмм. Определите, какому климатическому поясу соответствует каждая климатограмма. Подпишите названия климатических поясов под соответствующими климатограммами.



3.2. Какой природной зоне мира соответствуют приведённые ниже характеристики? Укажите в ответе название этой природной зоны.

- 1) Почвы малопродуктивны и сильно заболочены.
- 2) Короткое лето с продолжительным полярным днём; длинная и очень суровая зима, сопровождающаяся сильными ветрами и метелями.
- 3) Осадков выпадает очень мало.
- 4) Распространена многолетняя мерзлота.
- 5) Растут в основном карликовые растения, мхи и кустарники.

Ответ. _____

Выберите климатограмму, соответствующую климатическим особенностям указанной Вами природной зоны. Запишите в ответе её номер.

Ответ.

3.3. По выбранной климатограмме заполните таблицу климатических показателей для указанной Вами природной зоны.

Средняя температура воздуха, °С		Годовая амплитуда температур, °С	Годовое количество осадков, мм	Месяц, на который приходится наибольшее количество осадков
в январе	в июле			

4

Рассмотрите схему природного процесса и выполните задания.



4.1. Какой природный процесс отображён на схеме?

Ответ. _____

4.2. Установите последовательность этапов указанного Вами природного процесса. Запишите в ответе **порядковые номера** этапов.

ЭТАПЫ:

- 1) На дне океана происходит землетрясение или извержение вулкана.
- 2) При приближении к побережью скорость и длина волны уменьшаются, но её высота сильно увеличивается.
- 3) Над эпицентром землетрясения или подводным вулканом образуется мощная волна.
- 4) Волна охватывает всю толщу воды и движется под водой с огромной скоростью.
- 5) Волна огромной высоты с силой обрушивается на берег.

Ответ.

--	--	--	--	--	--

5 5.1. Установите соответствие между материками и их географическими особенностями.

Материки

- А – Евразия
- Б – Австралия

Географические особенности

- 1) Материк почти посередине пересекается Южным тропиком.
- 2) Материк омывается водами четырёх океанов.
- 3) Восточная часть материка и прилегающие к ней острова входят в зону Тихоокеанского «огненного кольца».
- 4) Вдоль северо-восточного побережья материка протягивается подводная гряда, созданная живыми организмами.
- 5) Материк расположен в двух частях света.
- 6) Большую часть материка занимают тропические пустыни.

Запишите в таблицу выбранные цифры под буквами, которыми обозначены материки.



Материк	А	Б
Географические особенности		

5.2. Заполните блок-схему: для этого по указанным на схеме названиям географических объектов определите и запишите название одного из двух материков, указанных в задании 5.1, а затем выберите из списка названия других географических объектов, расположенных на территории этого материка, запишите их в соответствующие ячейки на схеме и заполните оставшиеся пустые ячейки.

Атлас, Муррей, Янцзы, Арафурское, Кавказ, Драконовы, Саргассово, Кордильеры, Алтай, Парана, Охотское, Байкал.



Задание 6 выполняется с использованием политической карты мира, приведённой на странице 11.

6


Олеся и Оливия познакомились на курорте. Олеся живёт в столице Белоруссии, а Оливия – в столице США. Подростки общаются через Интернет, и при общении им приходится учитывать разницу во времени между их городами.



6.1. На политической карте мира, приведённой на странице 11, выделите штриховкой страны, в которых живут подростки.



6.2. Вследствие вращения Земли время различается в разных её частях, и в Белоруссии день наступает раньше, чем в США. Часы на рисунках отображают время в городах, где живут подростки. Подпишите названия городов под соответствующими часами.



Время по Гринвичу
24:00 / 00:00 (полночь)

5 июля
03:00

4 июля
20:00



6.3. Оливия отправила Олеся электронное сообщение в 10:00 по местному времени.

Оливия

Олеся



Какое время будет отображаться в соответствующем окне на экране смартфона Олеся, когда она получит сообщение от Оливии?



Ответ. _____

7

Используя представленную ниже таблицу, выполните задания.

Численность и возрастной состав населения, 2017 г.

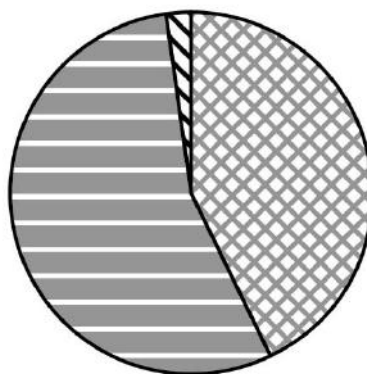
№	Страна	Численность населения, млн человек	Доля населения, %		
			в возрасте до 15 лет	в возрасте от 15 до 65 лет	в возрасте 65 лет и старше
1	Афганистан	34	43	55	2
2	Индия	1336	27	67	6
3	Великобритания	66	17	65	18
4	Япония	126	13	59	28

7.1. Расположите страны в порядке **уменьшения** численности населения, начиная со страны с самой большой численностью. Запишите в ответе последовательность **порядковых номеров** этих стран.

Ответ.

--	--	--	--

7.2. Возрастной состав населения какой страны, из приведённых в таблице, отражает представленная на рисунке диаграмма? Запишите в ответе **название** страны.



доля населения
в возрасте
до 15 лет




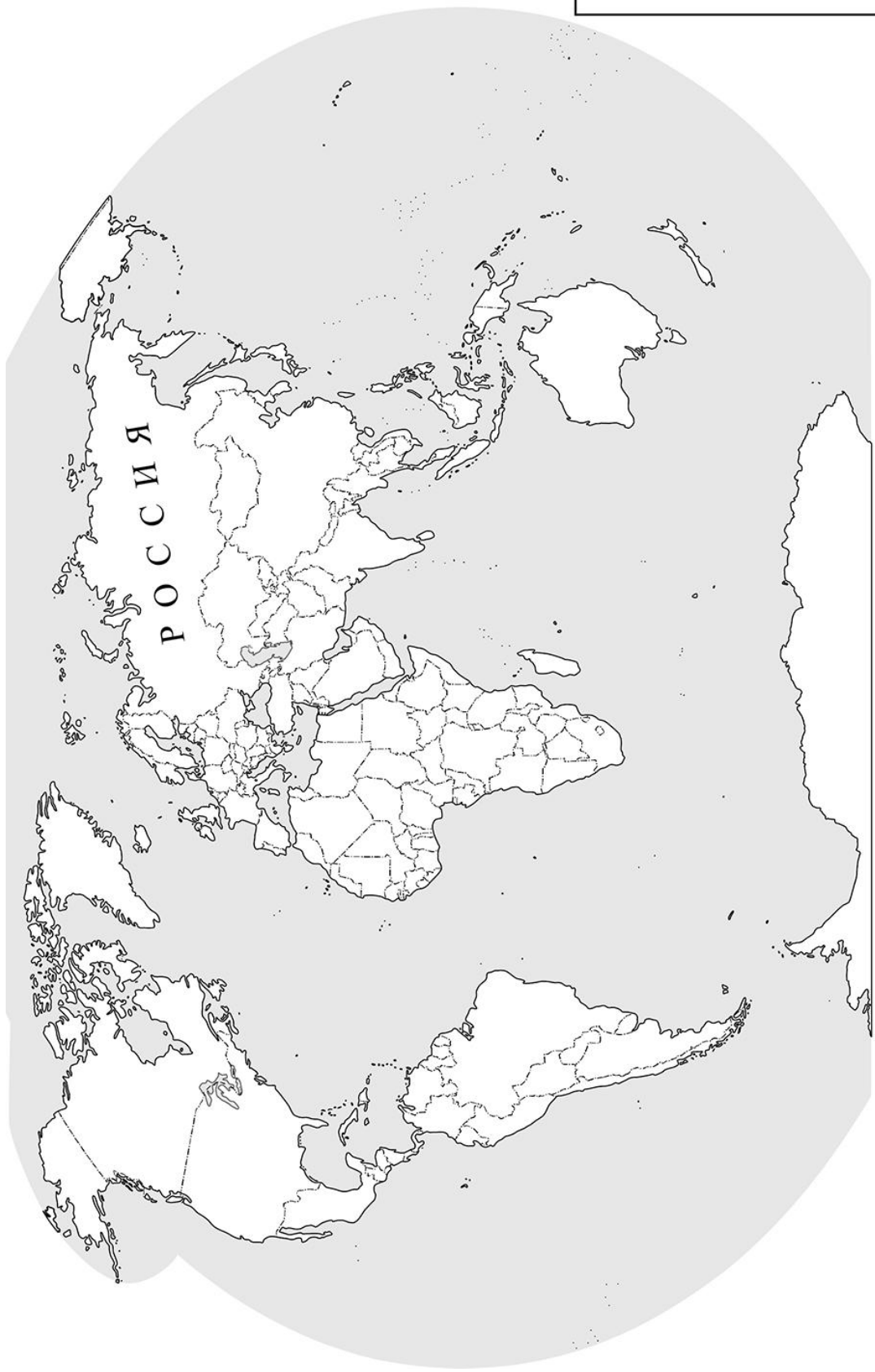
доля населения
в возрасте
от 15 до 65 лет



доля населения
в возрасте
65 лет и старше

Ответ. _____

 Карта для выполнения задания 6



Приведена карта, используемая в учебниках и атласах по географии на начало 2022/2023 учебного года.

8

Представьте, что Вы познакомились со своим сверстником, который живёт за границей, и он прислал Вам фотографии, сделанные в его стране.

8.1. Рассмотрите фотографии и ответьте на вопрос.



В какой стране живёт Ваш сверстник?

Ответ. _____

8.2. Рассмотрите представленные ниже рисунки. Выберите рисунок с контуром страны, в которой живёт Ваш сверстник. Запишите в ответе букву, которой обозначен этот рисунок.



А



Б



В

Ответ.

Какие два моря омывают берега этой страны?

Ответ. _____

Система оценивания проверочной работы

Полный правильный ответ на каждое из заданий 4.1, 6.3, 7.2, 8.1 оценивается 1 баллом. Если в ответе допущена хотя бы одна ошибка (один из элементов ответа записан неправильно или не записан), выставляется 0 баллов.

Полный правильный ответ на каждое из заданий 1.2, 3.1, 4.2, 5.1 и 7.1 оценивается 2 баллами. Если в ответах на задания 1.2, 3.1 допущена одна ошибка (один из элементов ответа записан неправильно или не записан) или в ответах на задания 4.2, 5.1, 7.1 не указана одна необходимая цифра, указана лишняя цифра, или перепутаны местами две цифры, выставляется 1 балл; если допущено две или более ошибки – 0 баллов.

1

1.1.

Содержание верного ответа и указания по оцениванию	Баллы
Правильный ответ должен содержать следующие <u>элементы</u> : 1) указание <u>путешественника</u> : Марко Поло; 2) подпись <u>названия материка на карте</u> : Евразия	
Правильно указан путешественник, подписано название материка	2
Правильно указан путешественник; название материка на карте не подписано / подписано неправильно	1
Путешественник не указан / указан неправильно независимо от подписи названия материка на карте. ИЛИ Ответ неправильный	0
<i>Максимальный балл</i>	2

1.2	А – Гибралтарский пролив Б – Северный полярный круг В – Индийский океан
------------	---

1.3.

Содержание верного ответа и указания по оцениванию	Баллы
Правильный ответ должен содержать <u>два элемента</u> : 1) <u>координаты точки</u> : 8° с. ш. 81° в. д. (<i>допускается погрешность ±1°</i>); 2) <u>название географического объекта</u> : остров Шри-Ланка/Цейлон	
Правильно указаны координаты точки и название географического объекта	2
Правильно указаны координаты точки, название географического объекта не указано / указано неправильно	1
Координаты точки не указаны / указаны неправильно независимо от указания названия географического объекта. ИЛИ Ответ неправильный	0
<i>Максимальный балл</i>	2

2













2.1.

Содержание верного ответа и указания по оцениванию	Баллы
Правильный ответ должен содержать <u>три элемента</u> : 1) <u>значение параллели: 10° с. ш.</u> ; 2) <u>протяжённость материка в градусах: 65° (допускается погрешность ±2°)</u> ; 3) <u>протяжённость материка в километрах: 7124 км (допускается соответствующая погрешность в километрах)</u>	
Правильно указаны значение параллели, протяжённость материка в градусах и протяжённость материка в километрах	2
Правильно указаны значение параллели и протяжённость материка в градусах; протяжённость материка в километрах не указана / указана неправильно	1
Правильно указано только значение параллели; протяжённость материка в градусах и протяжённость материка в километрах не указаны / указаны неправильно. ИЛИ Ответ неправильный	0
<i>Максимальный балл</i>	2

2.2.

Содержание верного ответа и указания по оцениванию	Баллы
Правильный ответ должен содержать <u>следующие элементы</u> : 1) <u>указание формы рельефа: 1</u> ; 2) <u>абсолютная высота территории: 4000 м</u>	
Правильно указана форма рельефа и определена абсолютная высота территории	2
Правильно указана форма рельефа; абсолютная высота территории не определена / определена неправильно	1
Форма рельефа не указана / указана неправильно независимо от определения абсолютной высоты территории. ИЛИ Ответ неправильный	0
<i>Максимальный балл</i>	2

2.3.

Содержание верного ответа и указания по оцениванию	Баллы								
Правильный ответ должен содержать таблицу с внесёнными в неё значками полезных ископаемых: <table border="1" style="width: 100%; text-align: center;"> <thead> <tr> <th>Железные руды</th> <th>Золото</th> <th>Полиметаллические руды</th> <th>Калийные соли</th> </tr> </thead> <tbody> <tr> <td></td> <td></td> <td></td> <td></td> </tr> </tbody> </table>	Железные руды	Золото	Полиметаллические руды	Калийные соли					
Железные руды	Золото	Полиметаллические руды	Калийные соли						
									
Правильно заполнены четыре ячейки таблицы	2								
Правильно заполнены три ячейки таблицы	1								
Правильно заполнены одна-две ячейки таблицы. ИЛИ Все ячейки таблицы заполнены неправильно / не заполнены	0								
<i>Максимальный балл</i>	2								

3

3.1	1 – экваториальный 2 – тропический 3 – субарктический
------------	---

3.2.

Содержание верного ответа и указания по оцениванию	Баллы
Правильный ответ должен содержать <u>следующие элементы</u> : 1) <u>название природной зоны</u> : тундра; 2) <u>номер климатограммы</u> : 3	
Правильно указаны название природной зоны и номер климатограммы	2
Правильно указано название природной зоны; номер климатограммы не указан / указан неправильно	1
Название природной зоны не указано независимо от указания номера климатограммы. ИЛИ Ответ неправильный	0
<i>Максимальный балл</i>	2

3.3.

Содержание верного ответа и указания по оцениванию	Баллы												
Правильный ответ должен содержать <u>заполненную таблицу</u> :													
<table border="1" style="width: 100%; border-collapse: collapse;"> <thead> <tr> <th colspan="2" style="text-align: center;">Средняя температура воздуха, °С</th> <th rowspan="2" style="text-align: center;">Годовая амплитуда температур, °С</th> <th rowspan="2" style="text-align: center;">Годовое количество осадков, мм</th> <th rowspan="2" style="text-align: center;">Месяц, на который приходится наибольшее количество осадков</th> </tr> <tr> <th style="text-align: center;">в январе</th> <th style="text-align: center;">в июле</th> </tr> </thead> <tbody> <tr> <td style="text-align: center;">-25</td> <td style="text-align: center;">+10</td> <td style="text-align: center;">35</td> <td style="text-align: center;">409</td> <td style="text-align: center;">сентябрь</td> </tr> </tbody> </table>	Средняя температура воздуха, °С		Годовая амплитуда температур, °С	Годовое количество осадков, мм	Месяц, на который приходится наибольшее количество осадков	в январе	в июле	-25	+10	35	409	сентябрь	
Средняя температура воздуха, °С		Годовая амплитуда температур, °С				Годовое количество осадков, мм	Месяц, на который приходится наибольшее количество осадков						
в январе	в июле												
-25	+10	35	409	сентябрь									
<i>При определении температуры воздуха допускается погрешность ± 1 °С. Если в ответе на задание 3.2 номер климатограммы не указан / указан неправильно, то результат выполнения данного задания не засчитывается</i>													
Правильно заполнены все ячейки таблицы	2												
В таблице допущена одна ошибка	1												
В таблице допущено две или более ошибки. ИЛИ Ответ неправильный	0												
<i>Максимальный балл</i>	2												

4

4.1	образование цунами / цунами
4.2	13425 <i>Если за выполнение задания 4.1 выставлено 0 баллов, результат выполнения данного задания не засчитывается</i>

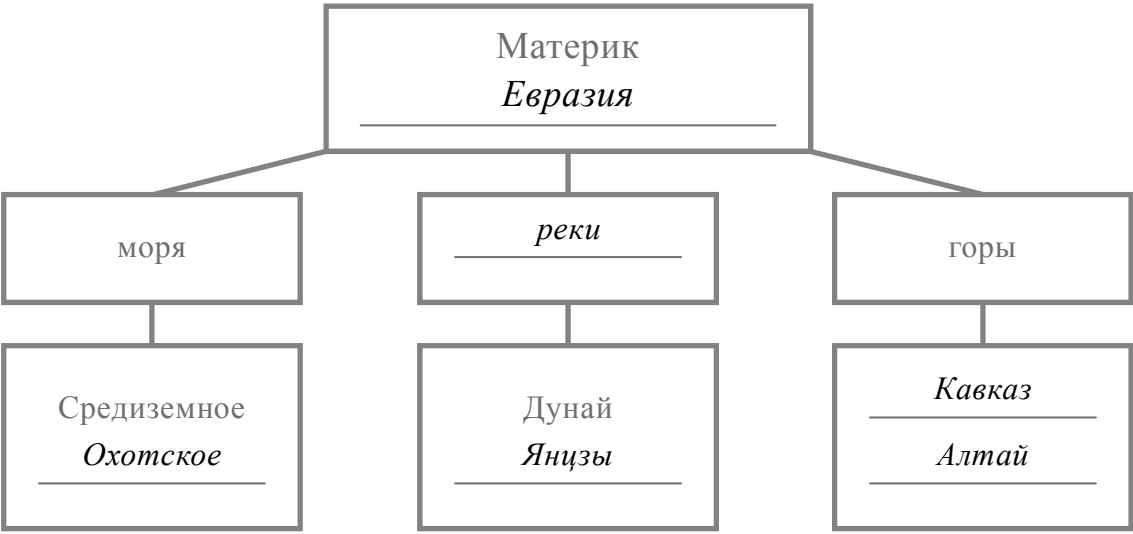
5

5.1

А – 235 (в любой последовательности)

Б – 146 (в любой последовательности)

5.2.


Содержание верного ответа и указания по оцениванию	Баллы
<p>Правильный ответ должен содержать заполненную схему с вписанными в неё названием материка, типами и названиями географических объектов.</p>  <pre> graph TD A["Материк Евразия"] --- B["моря"] A --- C["реки"] A --- D["горы"] B --- E["Средиземное Охотское"] C --- F["Дунай Янцзы"] D --- G["Кавказ Алтай"] </pre>	
Схема заполнена правильно	3
В заполнении схемы допущена одна ошибка	2
В заполнении схемы допущены две ошибки	1
В заполнении схемы допущены три или более ошибки. ИЛИ Ответ неправильный	0
<i>Максимальный балл</i>	3

6

6.1.

Содержание верного ответа и указания по оцениванию	Баллы
Правильный ответ должен содержать <u>выделение на карте двух стран</u> : Белоруссии и США	
Правильно выделены две страны	1
Правильно выделена только одна любая страна; вторая страна не выделена / выделена неправильно. ИЛИ Страны не выделены / выделены неправильно	0
<i>Максимальный балл</i>	<i>1</i>

6.2.



Время по Гринвичу
24:00 / 00:00 (полночь)



Минск
5 июля
03:00



Вашингтон
4 июля
20:00

Содержание верного ответа и указания по оцениванию	Баллы
Правильный ответ должен содержать <u>подписи названий двух городов</u> : Минска (столицы Белоруссии) и Вашингтона (столицы США)	
Правильно подписаны названия двух городов	1
Правильно подписано название только одного любого города; название другого города не подписано / подписано неправильно. ИЛИ Названия городов не подписаны / подписаны неправильно	0
<i>Максимальный балл</i>	<i>1</i>

6.3	17:00
-----	-------

7

7.1	2431
7.2	Афганистан

8

8.1	в Египте
------------	----------

8.2.

Содержание верного ответа и указания по оцениванию	Баллы
Правильный ответ должен содержать <u>два элемента</u> : 1) <u>указание рисунка</u> с контуром страны: В; 2) <u>ответ на вопрос</u> : Средиземное и Красное. <i>Если за выполнение задания 8.1 выставлено 0 баллов, результат выполнения данного задания не засчитывается</i>	
Правильно указан рисунок и дан ответ на вопрос	2
Правильно указан только рисунок, ответ на вопрос не дан / дан неправильно	1
Рисунок не указан / указан неправильно независимо от ответа на вопрос. ИЛИ Ответ неправильный	0
<i>Максимальный балл</i>	2

Система оценивания выполнения всей работы

Максимальный первичный балл за выполнение работы – **35**.

Рекомендации по переводу первичных баллов в отметки по пятибалльной шкале

Отметка по пятибалльной шкале	«2»	«3»	«4»	«5»
Первичные баллы	0–10	11–22	23–30	31–35