

**Проверочная работа
по ФИЗИКЕ**

7 класс

Вариант 1

Инструкция по выполнению работы

На выполнение работы по физике даётся 45 минут. Работа содержит 11 заданий.

Ответом на каждое из заданий 1, 3–6, 8, 9 является число или несколько чисел. В заданиях 2 и 7 нужно написать текстовый ответ. В заданиях 10 и 11 нужно написать решения задач полностью. В случае записи неверного ответа зачеркните его и запишите рядом новый.

При выполнении работы можно пользоваться непрограммируемым калькулятором.

При необходимости можно пользоваться черновиком. Записи в черновике проверяться и оцениваться не будут.

Советуем выполнять задания в том порядке, в котором они даны. Для экономии времени пропускайте задание, которое не удаётся выполнить сразу, и переходите к следующему. Постарайтесь выполнить как можно больше заданий.

Желаем успеха!

Заполняется учителем, экспертом или техническим специалистом

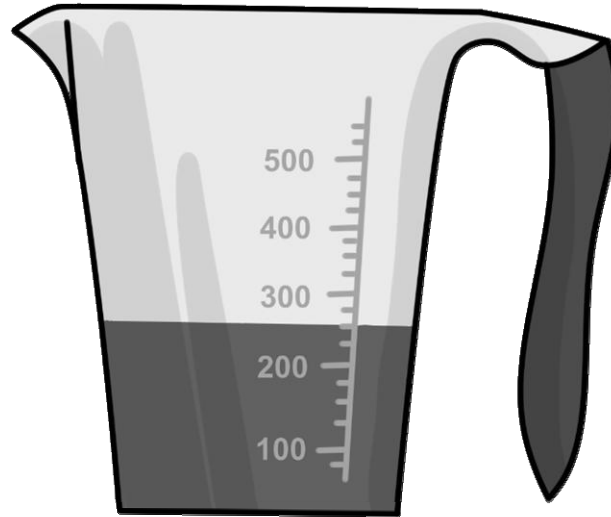
Обратите внимание: в случае, если какие-либо задания не могли быть выполнены целым классом по причинам, связанным с отсутствием соответствующей темы в реализуемой школой образовательной программе, в форме сбора результатов ВПР всем обучающимся класса за данное задание вместо балла выставляется значение «Тема не пройдена». В соответствующие ячейки таблицы заполняется н/п.

Таблица для внесения баллов участника

Номер задания	1	2	3	4	5	6	7	8	9	10	11	Сумма баллов	Отметка за работу
Баллы													

1

Аня купила пакет сока и решила проверить, соответствует ли реальный объём сока значению, указанному на упаковке. На пакете было написано, что объём сока равен 300 мл. Аня перелила весь сок в мерный стакан. Определите разницу между указанным на упаковке и измеренным значениями объёма.



Ответ: _____ мл.

2

Если очень быстро проезжать на машине по выпуклому мосту, то в его наивысшей точке можно испытать непривычное ощущение лёгкости. Благодаря какому физическому явлению так происходит? В чём оно состоит?

Ответ: _____

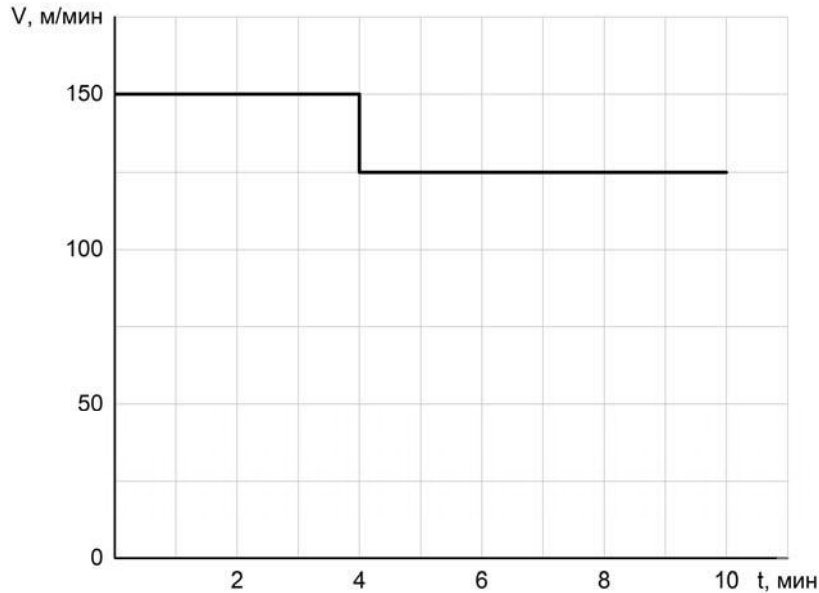
3

Для приготовления домашнего майонеза Даше нужно 185 г оливкового масла. К сожалению, у неё под рукой нет весов, но зато в кухонном шкафу есть мерный стаканчик для жидкостей. Даша нашла в учебнике физики таблицу, в которой было указано, что плотность оливкового масла равна $0,925 \text{ г/см}^3$. Какой объём масла нужно отмерить Даше?

Ответ: _____ мл.

4

Мама позвонила Диме, который гулял с друзьями, и сказала, что ему нужно срочно бежать домой, так как родителям требуется его помощь. Дима бросил все дела и сразу же побежал домой, но через некоторое время устал и стал бежать медленнее. По графику зависимости скорости Димы от времени определите, на сколько уменьшилась скорость бега мальчика после того, как он устал.



Ответ: _____ м/мин.

5

Играя в кондитерский магазин, подружки взвешивали на рычажных весах две шоколадные плитки одинакового размера (без обёрток). Для того чтобы уравновесить первую плитку шоколада, им понадобились одна гирька массой 60 грамм и две гирьки массами по 20 грамм каждая. Для взвешивания второй плитки им понадобились одна гирька массой 60 грамм, одна массой 15 грамм и одна массой 10 грамм. Подружки сообразили, что один шоколад был пористым, а второй – более плотным. Чему была равна масса плитки пористого шоколада?

Ответ: _____ г.

6

Направляясь на день рождения к Люде, Гриша купил в магазине связку из 18 воздушных шаров. Но, выйдя на улицу, он обнаружил, что из-за низкой температуры на улице объём шариков уменьшился. Гриша предположил, что плотность газа в шариках при охлаждении увеличилась в 1,2 раза. Определите, на сколько литров уменьшился при этом суммарный объём шаров, если предположение Гриши верно, а исходный объём одного шарика был равен 2,5 л?

Ответ: _____ л.

7

На занятиях кружка по физике Вася решил изучить, как зависит жёсткость лёгкой пружины от количества её витков. Для этого он повесил к вертикальной пружине груз массой 60 г, а затем, уменьшая число витков пружины, снова подвешивал груз. В таблице представлена зависимость растяжения пружины от количества её витков.

Количество витков пружины	Растяжение пружины, см
4	1
8	2
12	3
16	4
20	5

Какой можно сделать вывод о зависимости жёсткости пружины от количества витков по итогам данного исследования?

Ответ: _____

8

В сельской водонапорной башне высота уровня воды над землёй составляет 20 м. Какое дополнительное давление воды в трубе измерит манометр, установленный в системе водоснабжения на третьем этаже дома? Высота точки установки манометра над уровнем земли 8 м, плотность воды 1000 кг/м^3 . Ускорение свободного падения 10 Н/кг . Манометр проградуирован в атмосферах (атм); $1 \text{ атм} = 100\,000 \text{ Па}$.

Ответ: _____ атм.

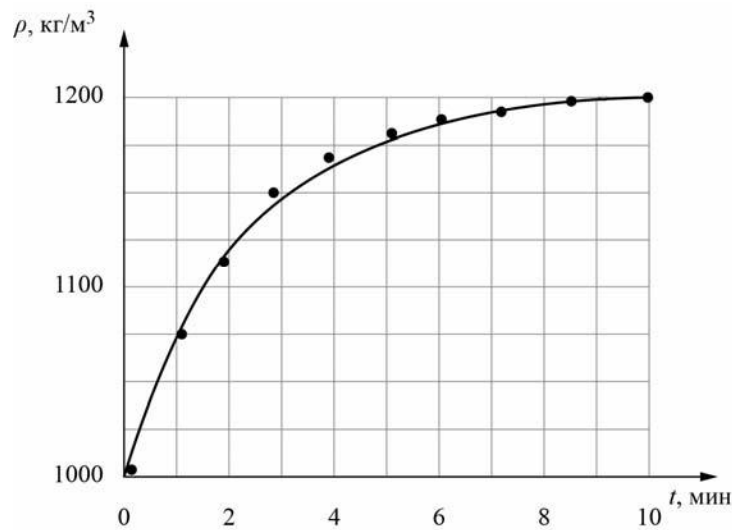
9

Юный экспериментатор Сергей решил сварить варенье из абрикосов и первым делом начал готовить сироп. Для этого он насыпал сахар в кастрюлю с водой и начал перемешивать её содержимое. В процессе перемешивания он определял плотность полученного сиропа с помощью ареометра (это прибор для измерения плотности). Затем по результатам проведённых измерений Сергей построил график зависимости плотности сиропа от времени перемешивания.

Косточка абрикоса имеет плотность 1350 кг/м^3 , а плотность мякоти абрикоса 1050 кг/м^3 . Объём косточки в 2 раза меньше объёма мякоти.

1) Определите по графику, какую плотность имел сироп через 1 минуту после начала перемешивания.

2) Через какое время после начала перемешивания абрикосы перестанут тонуть в сиропе, если их туда добавить? Ответ округлите до целого.



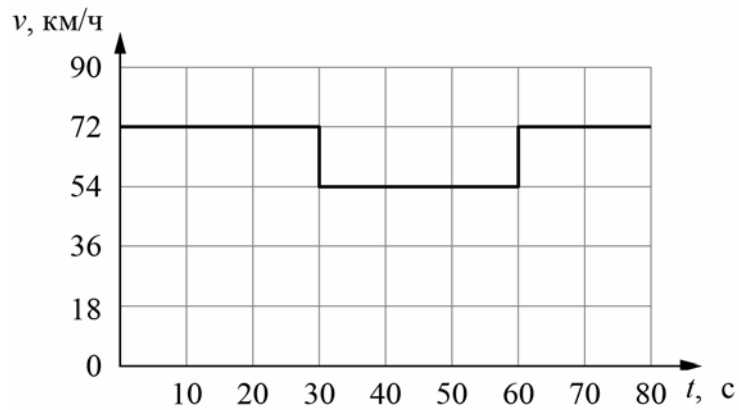
Ответ: 1) _____ кг/м^3 ;

2) _____ мин.

10

Согласно инструкции для машинистов, если локомотив или хотя бы один вагон поезда движется по мосту, скорость поезда не должна превышать 60 км/ч. Машинист вёл поезд, строго выполняя инструкцию. На рисунке показан график зависимости скорости v движения поезда от времени t .

- 1) Сколько времени поезд ехал по мосту?
 - 2) Определите длину поезда, если длина состава в два раза больше длины моста.
 - 3) Сколько вагонов было в составе, если длина локомотива и каждого вагона поезда $l = 20$ м?
- Ответы на вопросы обоснуйте соответствующими рассуждениями или решением задачи.



Решение:	
<div style="border: 1px solid black; width: 40px; height: 25px; display: inline-block; margin-bottom: 5px;"></div> Ответ:	

Система оценивания проверочной работы

Правильный ответ на каждое из заданий 1, 3-6, 8 оценивается 1 баллом.

Полный правильный ответ на задание 9 оценивается 2 баллами. Если в ответе допущена одна ошибка (одно из чисел не записано или записано неправильно), выставляется 1 балл; если оба числа записаны неправильно или не записаны – 0 баллов.

№ задания	Ответ
1	50
3	200
4	25
5	85
6	7,5
8	1,2
9	1075; 3

Решения и указания к оцениванию заданий 2, 7, 10 и 11

2

Решение		
Уменьшение веса или невесомость. Явление состоит в отсутствии или уменьшении действия тела на опору (подвес).		
Указания к оцениванию		Баллы
Приведён полностью правильный ответ на оба вопроса, содержащий название явления и его правильное описание.		2
В решении имеется один или несколько из следующих недостатков: Приведено только правильное название явления без его описания. ИЛИ Приведено только правильное описание явления без указания его названия. И (ИЛИ) В решении дан ответ на оба вопроса, но имеется неточность в названии явления или в его описании.		1
Все случаи решения, которые не соответствуют вышеуказанным критериям выставления оценок в 1 или 2 балла.		0
<i>Максимальный балл</i>		2

7

Решение	
Жёсткость пружины при увеличении числа витков в ней уменьшается (вариант: обратно пропорциональна количеству витков). При увеличении числа витков растёт растяжение пружины, следовательно, жёсткость уменьшается (увеличение числа витков в 2 раза приводит к увеличению растяжения в 2 раза, т.е. жёсткость обратно пропорциональна количеству витков).	
Указания к оцениванию	Баллы
Приведён полностью правильный ответ на вопрос и дано правильное объяснение.	2
В решении имеется один или несколько из следующих недостатков: Приведён только правильный ответ на вопрос без объяснения. ИЛИ Приведено правильное объяснение, но правильный ответ на вопрос дан лишь частично, либо ответ в явном виде отсутствует. И (ИЛИ) В решении дан правильный ответ на вопрос, но в объяснении имеется неточность.	1
Все случаи решения, которые не соответствуют вышеуказанным критериям выставления оценок в 1 или 2 балла.	0
<i>Максимальный балл</i>	2

10

Решение	
<p>1) Из графика следует, что поезд двигался по мосту от 30 до 60 с, то есть 30 секунд.</p> <p>2) Скорость поезда в этот промежуток времени равнялась $v = 54 \text{ км/ч} = 15 \text{ м/с}$. За это время локомотив поезда прошёл путь $S = v \cdot t = 450 \text{ м}$. Это расстояние складывается из длины моста и длины состава. Так как длина поезда в два раза больше длины моста, длина поезда равна $L = 300 \text{ м}$.</p> <p>3) Определим количество вагонов в поезде, учитывая, что длина каждого вагона и локомотива $l = 20 \text{ м}$. Тогда $N = (L/l) - 1 = 14$ вагонов</p> <p>Допускается другая формулировка рассуждений.</p> <p>1) 30 с; 2) 300 м; 3) 14</p>	
Указания к оцениванию	Баллы
<p>Приведено полное решение, включающее следующие элементы:</p> <p>I) записаны положения теории, физические законы, закономерности, формулы и т.п., <u>применение которых необходимо</u> для решения задачи выбранным способом (в данном случае: <i>связь между пройденным путём, временем движения и скоростью</i>);</p> <p>II) проведены нужные рассуждения, верно осуществлена работа с графиками, схемами, таблицами (при необходимости), сделаны необходимые математические преобразования и расчёты, приводящие к правильному числовому ответу (допускается решение «по частям» с промежуточными вычислениями; часть промежуточных вычислений может быть проведена «в уме»; задача может решаться как в общем виде, так и путём проведения вычислений непосредственно с заданными в условии численными значениями);</p> <p>III) представлен правильный численный ответ на все три вопроса задачи с указанием единиц измерения искомой величины.</p>	3
Приведено полное верное решение (I, II) и дан правильный ответ (III) только для двух пунктов задачи	2
Приведено полное верное решение (I, II) и дан правильный ответ (III) только для одного пункта задачи	1
Все случаи решения, которые не соответствуют вышеуказанным критериям выставления оценок в 1, 2 или 3 балла	0
<i>Максимальный балл</i>	3

11

Решение	
<p>1) Непосредственным считыванием получим, что толщина книги $d = 3,4 \text{ см}$.</p> <p>2) Начала шкал на линейке совпадают. Выберем какую-нибудь опорную точку на одной из шкал – например, 3,5 дюйма. Этой точке соответствует 8,9 см. Значит, одному дюйму соответствует $\frac{8,9}{3,5} = 2,54 \text{ см}$, следовательно, $8'' = 2,54 \times 8 \approx 20,3 \text{ см}$.</p> <p>3) Одному квадратному дюйму соответствует $2,54 \times 2,54 \approx 6,45 \text{ см}^2$. Значит в одном сантиметре квадратном $850/6,45 \approx 132$ точки.</p> <p>Допускается другая формулировка рассуждений и отклонение числовых ответов из-за выбора иных опорных точек при соотношении шкал.</p> <p>Ответ: 1) 3,4 см; 2) 20,3 см; 3) 132 точки</p>	
Указания к оцениванию	Баллы
<p>Приведено полное решение, включающее следующие элементы:</p> <p>I) записаны положения теории, физические законы, закономерности, формулы и т.п., <u>применение которых необходимо</u> для решения задачи выбранным способом (в данном случае: <i>продемонстрировано умение определять показания и цену деления прибора; перевод квадратных единиц</i>);</p> <p>II) проведены нужные рассуждения, верно осуществлена работа с графиками, схемами, таблицами (при необходимости), сделаны необходимые математические преобразования и расчёты, приводящие к правильному числовому ответу (допускается решение «по частям» с промежуточными вычислениями; часть промежуточных вычислений может быть проведена «в уме»; задача может решаться как в общем виде, так и путём проведения вычислений непосредственно с заданными в условии численными значениями);</p> <p>III) представлен правильный численный ответ на все три вопроса задачи с указанием единиц измерения искомой величины.</p>	3
Приведено полное верное решение (I, II) и дан правильный ответ (III) только для двух пунктов задачи	2
Приведено полное верное решение (I, II) и дан правильный ответ (III) только для одного пункта задачи	1
Все случаи решения, которые не соответствуют вышеуказанным критериям выставления оценок в 1, 2 или 3 балла	0
<i>Максимальный балл</i>	3

Система оценивания выполнения всей работы

Максимальный первичный балл за выполнение работы – **18**.

Рекомендуемая таблица перевода баллов в отметки по пятибалльной шкале

Отметка по пятибалльной шкале	«2»	«3»	«4»	«5»
Первичные баллы	0–4	5–7	8–10	11–18