

**Проверочная работа
по ФИЗИКЕ**

7 класс

Вариант 1

Инструкция по выполнению работы

На выполнение работы по физике даётся 45 минут. Работа содержит 11 заданий.

Ответом на каждое из заданий 1, 3–6, 8, 9 является число или несколько чисел. В заданиях 2 и 7 нужно написать текстовый ответ. В заданиях 10 и 11 нужно написать решения задач полностью. В случае записи неверного ответа зачеркните его и запишите рядом новый.

При выполнении работы можно пользоваться непрограммируемым калькулятором.

При необходимости можно пользоваться черновиком. Записи в черновике проверяться и оцениваться не будут.

Советуем выполнять задания в том порядке, в котором они даны. Для экономии времени пропускайте задание, которое не удаётся выполнить сразу, и переходите к следующему. Постарайтесь выполнить как можно больше заданий.

Желаем успеха!

Заполняется учителем, экспертом или техническим специалистом



Обратите внимание: в случае, если какие-либо задания не могли быть выполнены целым классом по причинам, связанным с отсутствием соответствующей темы в реализуемой школой образовательной программе, в форме сбора результатов ВПР всем обучающимся класса за данное задание вместо балла выставляется значение «Тема не пройдена». В соответствующие ячейки таблицы заполняется н/п.

Таблица для внесения баллов участника

Номер задания	1	2	3	4	5	6	7	8	9	10	11	Сумма баллов	Отметка за работу
Баллы													

1

Петя решил измерить время, за которое его друг Андрей пробегает один километр. У Пети дома было три прибора для измерения времени – песочные часы, настенные электронные часы и секундомер (с дополнительным малым циферблатом для измерения числа прошедших минут). Чему равна цена деления того прибора, которым надо воспользоваться Пете для того, чтобы измерить время забега максимально точно?



Ответ: _____ с.

2

В переносных сумках-холодильниках используются так называемые «холодильные элементы». Такой элемент представляет собой пластиковый контейнер, в который налит специальный раствор. Этот контейнер сначала кладут в морозильную камеру, чтобы раствор в нём замёрз, а затем помещают контейнер в сумку-холодильник. Холодильный элемент постепенно поглощает теплоту, не давая содержимому сумки нагреться, и в конце концов раствор в нём снова становится жидким. Назовите, в каком агрегатном состоянии находится вещество, используемое в «холодильном элементе», долго находящемся в морозильной камере. Как изменяется средняя скорость теплового движения молекул этого вещества при переходе в жидкое состояние?

Ответ: _____

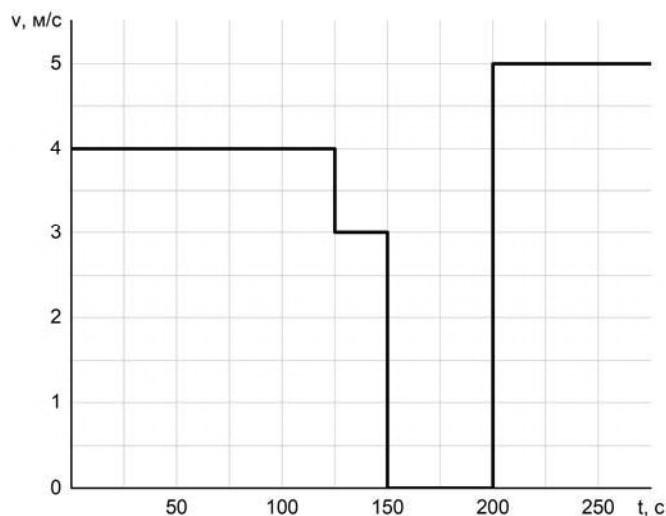
3

Средняя сила удара молотка по гвоздю составляет 17 Н. Какое давление оказывает забиваемый гвоздь на доску в процессе удара, если площадь поперечного сечения его острия $0,0000002 \text{ м}^2$?

Ответ: _____ Па.

4

Миша ехал из дома в школу на велосипеде и преодолел пешеходный переход с светофором. На графике приведена зависимость величины скорости Миши от времени. Определите, сколько всего времени Миша простоял на светофоре в ожидании зелёного света?



Ответ: _____ с.

5

Толе приснился сон, в котором он был космонавтом и оказался на другой планете. Толе снилось, что на привезённый с Земли динамометр он подвесил груз массой 1,3 кг. При этом динамометр показал значение силы тяжести 3,9 Н. Чему равно ускорение свободного падения на этой планете?

Ответ: _____ Н/кг.

6

Для постройки гаража дачнику не хватило песчано-цементной смеси. Для её изготовления было дополнительно заказано 400 кг песка. Но тележка, в которой можно его перевозить, вмещает только 0,02 м³. Какое минимальное число раз дачнику придётся загружать эту тележку для того, чтобы перевезти весь песок? Плотность песка при его насыпании в тележку (так называемая насыпная плотность) 1600 кг/м³.

Ответ: _____.

7

Группе туристов нужно было пройти за день по просёлочной дороге 30 км. Они шли без остановок, поскольку опасались, что опоздают на поезд. Один из туристов, глядя на километровые столбы у дороги и на свои часы, записывал в блокнот, какое расстояние прошла группа, и сколько времени прошло с момента начала пути.

Пройденное расстояние, км	Время движения, мин.
5	60
10	120
15	180
20	240
25	300
30	360

Изучите записи и определите, можно ли по имеющимся данным рассматривать движение группы как равномерное или нет? Ответ кратко поясните.

Ответ: _____

8

Спортсмен, занимающийся дайвингом, погрузился в воду на глубину 65 метров. Определите, во сколько раз отличается давление, которое испытывает на себе спортсмен на этой глубине, от давления, испытываемого им на поверхности воды, если давление, создаваемое десятью метрами водяного столба, эквивалентно атмосферному давлению.

Ответ: в _____ раз(а).

9

Половину дистанции велосипедист проехал со скоростью 15 км/ч, следующую треть дистанции – со скоростью 25 км/ч, а последние 25 км он преодолел за 3 часа.

1) Какова длина дистанции, которую преодолел велосипедист?

2) Чему равна средняя скорость велосипедиста на всей дистанции? Округлите до десятых

Ответ: 1) _____ км;

2) _____ км/ч.

Система оценивания проверочной работы

Правильный ответ на каждое из заданий 1, 3-6, 8 оценивается 1 баллом.

Полный правильный ответ на задание 9 оценивается 2 баллами. Если в ответе допущена одна ошибка (одно из чисел не записано или записано неправильно), выставляется 1 балл; если оба числа записаны неправильно или не записаны – 0 баллов.

№ задания	Ответ
1	0,2
3	85000000
4	50
5	3
6	13
8	7,5
9	150; 15

Решения и указания к оцениванию заданий 2, 7, 10 и 11

2

Решение	
Вещество в «холодильном элементе» в морозильной камере находится в твёрдом состоянии. При переходе вещества в жидкое состояние средняя скорость теплового движения молекул увеличивается.	
Указания к оцениванию	Баллы
Приведены полностью правильные ответы на оба вопроса задачи и все необходимые объяснения.	2
В решении имеется один или несколько из следующих недостатков: Приведён только правильный ответ без его объяснения. И (ИЛИ) В решении даны верные ответы на оба вопроса, но имеется неточность в их объяснении.	1
Все случаи решения, которые не соответствуют вышеуказанным критериям выставления оценок в 1 или 2 балла.	0
<i>Максимальный балл</i>	
	2

7

Решение	
Да. При равномерном движении за любые равные промежутки времени тело проходит равные пути.	
Указания к оцениванию	Баллы
Приведён полностью правильный ответ на вопрос и дано правильное объяснение.	2
В решении имеется один или несколько из следующих недостатков. Приведён только правильный ответ на вопрос без объяснения. ИЛИ Приведено правильное объяснение, но правильный ответ в явном виде отсутствует. И (ИЛИ) Дан правильный ответ на вопрос, но в объяснении имеется неточность.	1
Все случаи решения, которые не соответствуют вышеуказанным критериям выставления оценок в 1 или 2 балла.	0
<i>Максимальный балл</i>	
	2

10

Решение	
1) Последний участок пути составил $1-1/3-1/4=5/12$ от всего пути S . 2) На него было затрачено $1-5/12-3/8=5/24$ всего времени t . 3) Средняя скорость на последнем участке пути $V = (5/12S) / (5/24t) = 2V_{\text{ср}}$ где $V_{\text{ср}}$ – искомая средняя скорость на всём пути. Отсюда $V_{\text{ср}} = 1,2/2 = 0,6$ м/с Допускается другая формулировка рассуждений. Ответ: 1) $5/12$ от всего пути; 2) $5/24$ всего времени; 3) $0,6$ м/с	
Указания к оцениванию	Баллы
Приведено полное решение, включающее следующие элементы: I) записаны положения теории, физические законы, закономерности, формулы и т.п., <u>применение которых необходимо</u> для решения задачи выбранным способом (в данном случае: <i>связь между пройденным путём, временем движения и средней скоростью</i>); II) проведены нужные рассуждения, верно осуществлена работа с графиками, схемами, таблицами (при необходимости), сделаны необходимые математические преобразования и расчёты, приводящие к правильному числовому ответу (допускается решение «по частям» с промежуточными вычислениями; часть промежуточных вычислений может быть проведена «в уме»; задача может решаться как в общем виде, так и путём проведения вычислений непосредственно с заданными в условии численными значениями); III) представлен правильный численный ответ на все три вопроса задачи с указанием единиц измерения искомой величины.	3
Приведено полное верное решение (I, II) и дан правильный ответ (III) только для двух пунктов задачи	2
Приведено полное верное решение (I, II) и дан правильный ответ (III) только для одного пункта задачи	1
Все случаи решения, которые не соответствуют вышеуказанным критериям выставления оценок в 1, 2 или 3 балла	0
<i>Максимальный балл</i>	
	3

11

Решение	
<p>1) Непосредственным считыванием получим $t \approx 8^\circ\text{C}$ <i>Примечание: цена деления по обеим шкалам термометра составляет 2°, поэтому погрешность считывания температуры не превышает 1°.</i></p> <p>2) Выберем какие-нибудь опорные точки на одной из шкал, например, -20°C и $+20^\circ\text{C}$. Этим точкам соответствуют температуры около -4°F и 68°F. Значит, одному градусу Цельсия соответствуют $\frac{68 - (-4)}{20 - (-20)} = 1,8$ градуса Фаренгейта, следовательно, $15^\circ\text{C} = 1,8 \times 15^\circ\text{F} = 27^\circ\text{F}$</p> <p>3) 0°C соответствуют примерно 32°F, поэтому $36,6^\circ\text{C} = 32^\circ\text{F} + 36,6^\circ\text{C} \cdot \frac{9^\circ\text{F}}{5^\circ\text{C}} = 97,88^\circ\text{F} \approx 98^\circ\text{F}$</p> <p>Допускается другая формулировка рассуждений и отклонение числовых ответов из-за выбора иных опорных точек при соотнесении шкал.</p> <p>Ответ: 1) $t \approx 8^\circ\text{C}$; 2) 27°F; 3) 98°F</p>	
Указания к оцениванию	Баллы
<p>Приведено полное решение, включающее следующие элементы: I) записаны положения теории, физические законы, закономерности, формулы и т.п., <u>применение которых необходимо</u> для решения задачи выбранным способом (в данном случае: <i>определение показаний и цены деления прибора; продемонстрировано умение определять величину при её прямом измерении</i>); II) проведены нужные рассуждения, верно осуществлена работа с графиками, схемами, таблицами (при необходимости), сделаны необходимые математические преобразования и расчёты, приводящие к правильному числовому ответу (допускается решение «по частям» с промежуточными вычислениями; часть промежуточных вычислений может быть проведена «в уме»; задача может решаться как в общем виде, так и путём проведения вычислений непосредственно с заданными в условии численными значениями); III) представлен правильный численный ответ на все три вопроса задачи с указанием единиц измерения искомой величины.</p>	3
Приведено полное верное решение (I, II) и дан правильный ответ (III) только для двух пунктов задачи	2
Приведено полное верное решение (I, II) и дан правильный ответ (III) только для одного пункта задачи	1
Все случаи решения, которые не соответствуют вышеуказанным критериям выставления оценок в 1, 2 или 3 балла	0
<i>Максимальный балл</i>	
	3

Система оценивания выполнения всей работы

Максимальный первичный балл за выполнение работы – **18**.

Рекомендуемая таблица перевода баллов в отметки по пятибалльной шкале

Отметка по пятибалльной шкале	«2»	«3»	«4»	«5»
Первичные баллы	0–4	5–7	8–10	11–18