

**Проверочная работа
по ФИЗИКЕ**

7 класс

Вариант 2

Инструкция по выполнению работы

На выполнение работы по физике даётся 45 минут. Работа содержит 11 заданий.

Ответом на каждое из заданий 1, 3–6, 8, 9 является число или несколько чисел. В заданиях 2 и 7 нужно написать текстовый ответ. В заданиях 10 и 11 нужно написать решения задач полностью. В случае записи неверного ответа зачеркните его и запишите рядом новый.

При выполнении работы можно пользоваться непрограммируемым калькулятором.

При необходимости можно пользоваться черновиком. Записи в черновике проверяться и оцениваться не будут.

Советуем выполнять задания в том порядке, в котором они даны. Для экономии времени пропускайте задание, которое не удаётся выполнить сразу, и переходите к следующему. Постарайтесь выполнить как можно больше заданий.

Желаем успеха!

Заполняется учителем, экспертом или техническим специалистом

Обратите внимание: в случае, если какие-либо задания не могли быть выполнены целым классом по причинам, связанным с отсутствием соответствующей темы в реализуемой школой образовательной программе, в форме сбора результатов ВПР всем обучающимся класса за данное задание вместо балла выставляется значение «Тема не пройдена». В соответствующие ячейки таблицы заполняется н/п.

Таблица для внесения баллов участника

Номер задания	1	2	3	4	5	6	7	8	9	10	11	Сумма баллов	Отметка за работу
Баллы													

1

Занятия по физике у Тони начинаются ровно в 15:00. Перед тем как войти в класс, она посмотрела на настенные часы в школьном коридоре. На сколько секунд Тоня опоздала на занятия?



Ответ: _____ с.

2

Катаясь на велосипеде, мы разгоняемся, прикладывая усилие к педалям и раскручивая тем самым колёса. Но, выехав на ровный участок дороги, мы можем некоторое время не крутить педали, а велосипед при этом будет катиться сам собой. На каком механическом свойстве тел основано это явление? В чём состоит это свойство?

Ответ: _____

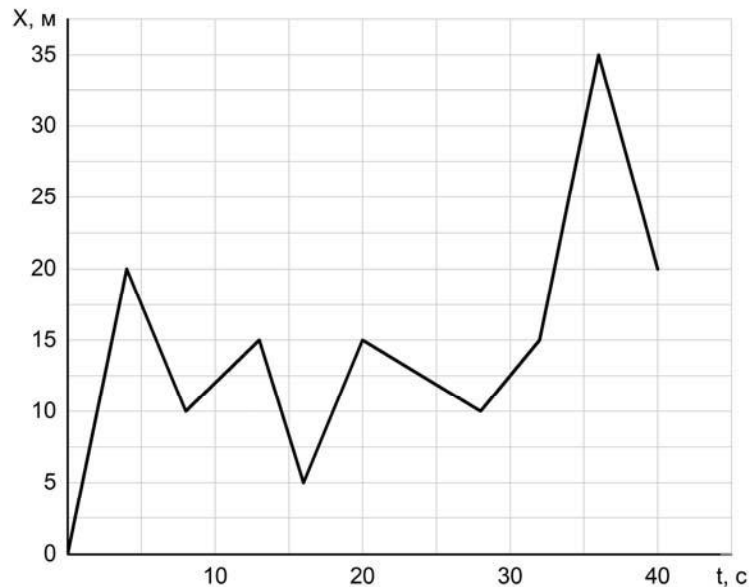
3

Ивану необходимо добраться на машине из Москвы в Санкт-Петербург за 11 часов. С какой минимальной средней скоростью он должен ехать, если длина выбранной им дороги 704 км?

Ответ: _____ км/ч.

4

Игорь гуляет с собакой, которая бежит по прямой дорожке в парке. Пользуясь графиком зависимости координаты собаки от времени, определите её координату через 40 секунд.



Ответ: _____ м.

5

Играя в кондитерский магазин, подружки взвешивали на рычажных весах две шоколадные плитки одинакового размера (без обёрток). Для того чтобы уравновесить первую плитку шоколада, им понадобились одна гирька массой 40 грамм и две гирьки массами по 10 грамм каждая. Для взвешивания второй плитки им понадобились одна гирька массой 40 грамм, одна массой 20 грамм и одна массой 10 грамм. Подружки сообразили, что один шоколад был пористым, а второй — более плотным. Чему была равна масса плитки пористого шоколада?

Ответ: _____ г.

6

Направляясь на день рождения к Насте, Дима купил в магазине связку из 11 воздушных шаров. Но, выйдя на улицу, он обнаружил, что из-за низкой температуры на улице объём шариков уменьшился. Дима предположил, что плотность газа в шариках при охлаждении увеличилась в 1,1 раза. Определите, на сколько литров уменьшился при этом суммарный объём шаров, если предположение Димы верно, а исходный объём одного шарика был равен 5 л?

Ответ: _____ л.

7

Группе туристов нужно было пройти за день по просёлочной дороге 20 км. Они шли без остановок, поскольку опасались, что опоздают на поезд. Один из туристов, глядя на километровые столбы у дороги и на свои часы, записывал в блокнот, какое расстояние прошла группа, и сколько времени прошло с момента начала пути.

Пройденное расстояние, км	Время движения, мин.
4	50
8	100
12	150
16	200
20	250

Изучите записи и определите, можно ли по имеющимся данным рассматривать движение группы как равномерное или нет?

Ответ: _____

8

Вася решил попробовать определить внутренний объём надутого воздушного шарика – наполнить его водой и измерить объём этой воды. Выяснилось, что надуть шарик водой не так-то просто, поскольку он не растягивается под её весом. Поэтому Вася начал заливать в шарик воду через вертикальную трубку, как показано на рисунке. Известно, что минимальное дополнительное давление, которое нужно создать для надувания шарика, составляет 13 кПа. Какой минимальной длины трубку надо взять Васе для того, чтобы исполнить свой план? Плотность воды 1000 кг/м^3 .



Ответ: _____ м.

9

Некоторые люди любят пить ароматизированный травяной чай и используют для его приготовления разведённую в воде густую вытяжку из душицы и мать-и-мачехи. Плотность травяной вытяжки $1,3 \text{ г/см}^3$, плотность воды 1 г/см^3 . Для приготовления раствора смешали одинаковые объёмы воды и травяной вытяжки.

- 1) Определите массу использованной травяной вытяжки, если её объём равен 50 мл.
- 2) Найдите плотность полученного раствора, если его объём равен сумме объёмов исходных компонентов.

Ответ: 1) _____ г;

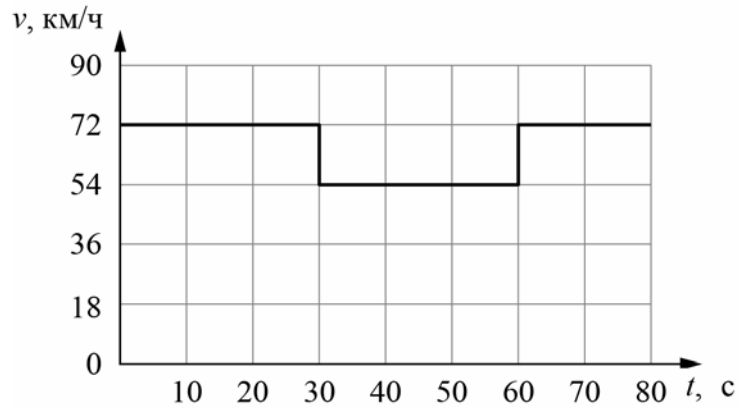
2) _____ г/см^3 .

10

Согласно инструкции для машинистов, если локомотив или хотя бы один вагон поезда движется по мосту, скорость поезда не должна превышать 60 км/ч. Машинист вёл поезд, строго выполняя инструкцию. На рисунке показан график зависимости скорости v движения поезда от времени t .

- 1) Сколько времени машинист ехал по мосту?
- 2) Определите длину поезда, если длина состава в два раза больше длины моста.
- 3) Сколько вагонов было в составе, если длина локомотива и каждого вагона поезда $l = 12,5$ м?

Ответы на вопросы обоснуйте соответствующими рассуждениями или решением задачи.



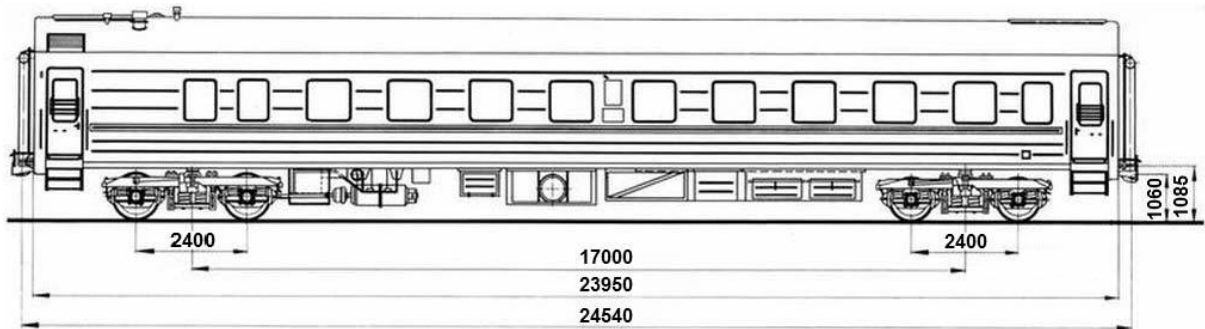
Решение:	
<div style="border: 1px solid black; width: 30px; height: 30px; display: inline-block; margin-right: 5px;"></div> Ответ:	

11

Вдоль стоящего на станции пассажирского поезда идёт обходчик. Он резко ударяет молотком по оси каждого колеса и затем на мгновение прикладывает к ней руку. Пассажир Михаил Юрьевич заметил, что вдоль всего состава обходчик проходит за 4 минут, делая при этом 56 ударов. Пользуясь чертежом вагона, оцените:

- 1) сколько вагонов в поезде?
- 2) с какой средней скоростью идёт обходчик?
- 3) чему равен минимальный интервал времени между слышимыми ударами?

Размеры на чертеже вагона приведены в миллиметрах. Напишите полное решение этой задачи.



Решение:	
<div style="border: 1px solid black; width: 30px; height: 30px; display: inline-block; margin-bottom: 5px;"></div> Ответ:	

Система оценивания проверочной работы

Правильный ответ на каждое из заданий 1, 3-6, 8 оценивается 1 баллом.

Полный правильный ответ на задание 9 оценивается 2 баллами. Если в ответе допущена одна ошибка (одно из чисел не записано или записано неправильно), выставляется 1 балл; если оба числа записаны неправильно или не записаны – 0 баллов.

№ задания	Ответ
1	95
3	64
4	20
5	60
6	5
8	1,3
9	65; 1,15

Решения и указания к оцениванию заданий 2, 7, 10 и 11

2

Решение		
Данное явление основано на использовании свойства инертности. Это свойство состоит в стремлении тел сохранять состояние своего покоя или движения.		
Указания к оцениванию		Баллы
Приведён полностью правильный ответ на оба вопроса, содержащий название свойства и его правильное описание .		2
В решении имеется один или несколько из следующих недостатков: Приведено только правильное название свойства без его описания. ИЛИ Приведено только правильное описание свойства без указания его названия. И (ИЛИ) В решении дан ответ на оба вопроса, но имеется неточность в названии свойства или в его описании.		1
Все случаи решения, которые не соответствуют вышеуказанным критериям выставления оценок в 1 или 2 балла.		0
<i>Максимальный балл</i>		2

7

Решение	
Да. При равномерном движении за любые равные промежутки времени тело проходит равные пути.	
Указания к оцениванию	Баллы
Приведён полностью правильный ответ на вопрос и дано правильное объяснение.	2
В решении имеется один или несколько из следующих недостатков. Приведён только правильный ответ на вопрос без объяснения. ИЛИ Приведено правильное объяснение, но правильный ответ в явном виде отсутствует. И (ИЛИ) Дан правильный ответ на вопрос, но в объяснении имеется неточность.	1
Все случаи решения, которые не соответствуют вышеуказанным критериям выставления оценок в 1 или 2 балла.	0
<i>Максимальный балл</i>	
	2

10

Решение	
<p>1) Из графика следует, что поезд двигался по мосту от 30 до 60 с, то есть 30 секунд.</p> <p>2) Скорость поезда в этот промежуток времени равнялась $v = 54 \text{ км/ч} = 15 \text{ м/с}$. За это время локомотив поезда прошёл путь $S = v \cdot t = 450 \text{ м}$. Это расстояние складывается из длины моста и длины состава. Так как длина поезда в два раза больше длины моста, длина поезда равна $L = 300 \text{ м}$.</p> <p>3) Определим количество вагонов в поезде, учитывая, что длина каждого вагона и локомотива $l = 12,5 \text{ м}$. Тогда $N = (L/l) - 1 = 23$ вагонов.</p> <p>Допускается другая формулировка рассуждений. Ответ: 1) 30 с; 2) 300 м; 3) 23</p>	
Указания к оцениванию	Баллы
Приведено полное решение, включающее следующие элементы: I) записаны положения теории, физические законы, закономерности, формулы и т.п., <u>применение которых необходимо</u> для решения задачи выбранным способом (в данном случае: <i>связь между пройденным путём, временем движения и скоростью</i>); II) проведены нужные рассуждения, верно осуществлена работа с графиками, схемами, таблицами (при необходимости), сделаны необходимые математические преобразования и расчёты, приводящие к правильному числовому ответу (допускается решение «по частям» с промежуточными вычислениями; часть промежуточных вычислений может быть проведена «в уме»; задача может решаться как в общем виде, так и путём проведения вычислений непосредственно с заданными в условии численными значениями); III) представлен правильный численный ответ на все три вопроса задачи с указанием единиц измерения искомой величины.	3
Приведено полное верное решение (I, II) и дан правильный ответ (III) только для двух пунктов задачи	2
Приведено полное верное решение (I, II) и дан правильный ответ (III) только для одного пункта задачи	1
Все случаи решения, которые не соответствуют вышеуказанным критериям выставления оценок в 1, 2 или 3 балла	0
<i>Максимальный балл</i>	
	3

11

Решение	
<p>Рассмотрим чертёж.</p> <p>1) У вагона четыре колеса. Поэтому в поезде $56/4 = 14$ вагонов.</p> <p>2) Длина вагона примерно равна 24,5 м. Вдоль всего состава обходчик проходит за 4 мин = 240 с. Значит, длина поезда примерно равна 343 м, а средняя скорость обходчика примерно равна $343 \text{ м} / 240 \text{ с} = 1,43 \text{ м/с}$.</p> <p>3) Минимальное расстояние между осями двух соседних колёс равно 2,4 м. Поэтому минимальный интервал времени между слышимыми ударами равен $2,4 \text{ м} / 1,43 \text{ м/с} = 1,68 \text{ с}$.</p> <p>Ответ: 14 вагонов; 1,43 м/с; 1,68 с.</p> <p>Допускается другая формулировка рассуждений.</p>	
Указания к оцениванию	Баллы
<p>Приведено полное решение, включающее следующие элементы:</p> <p>I) записаны положения теории, физические законы, закономерности, формулы и т.п., <u>применение которых необходимо</u> для решения задачи выбранным способом (в данном случае: <i>связь между скоростью, временем движения и пройденным за это время путём</i>);</p> <p>II) проведены нужные рассуждения, верно осуществлена работа с графиками, схемами, таблицами (при необходимости), сделаны необходимые математические преобразования и расчёты, приводящие к правильному числовому ответу (допускается решение «по частям» с промежуточными вычислениями; часть промежуточных вычислений может быть проведена «в уме»; задача может решаться как в общем виде, так и путём проведения вычислений непосредственно с заданными в условии численными значениями);</p> <p>III) представлен правильный численный ответ на все три вопроса задачи с указанием единиц измерения искомой величины.</p>	3
Приведено полное верное решение (I, II) и дан правильный ответ (III) только для двух пунктов задачи	2
Приведено полное верное решение (I, II) и дан правильный ответ (III) только для одного пункта задачи	1
Все случаи решения, которые не соответствуют вышеуказанным критериям выставления оценок в 1, 2 или 3 балла	0
<i>Максимальный балл</i>	<i>3</i>

Система оценивания выполнения всей работы

Максимальный первичный балл за выполнение работы – **18**.

Рекомендуемая таблица перевода баллов в отметки по пятибалльной шкале

Отметка по пятибалльной шкале	«2»	«3»	«4»	«5»
Первичные баллы	0–4	5–7	8–10	11–18